

إمضاء الولي:

إمضاء الإدارة:

النقطة:

20

*مادة الجغرافية: (7ن)

1. اتمم ملء الجدول الآتي: (2ن)

جدول يمثل الزيادة الطبيعية

المميزات	النسبة %
	اقل من 1 %
	بين 1 % و 2 %
	أكثر من 2 %

2. أحسب التزايد الطبيعي في موريتانيا : (1ن) (نسبة الولادات 10% ونسبة الوفيات 4%)

3. أذكر على الأقل مشكلتين اجتماعيتين يساهم الوضع الديمغرافي في تفاقمهما: (2ن)

4. التعريف بالمصطلحات:

عرف ما يلي (2ن):

❖ الديمغرافيا :


❖ أمد الحياة:


*مادة التاريخ (7ن):


- عرفت الإمبراطورية العثمانية أقصى امتدادها خلال القرن 16م


في موضوع مقالتي، وضح ذلك مع ذكر العوامل التي ساهمت في نجاح هذا الامتداد.

*مادة التربية على المواطنة (6ن):

حدد مفهوم الحريات العامة : (1ن) 

اذكر بعض المؤسسات التي تساهم في حماية الحريات العامة بالمغرب : (2ن) 

ضع حرية الرأي والتعبير بين الحق والمسؤولية : (2ن) 

عرف ما يلي (1ن) 
العهد الدولي الخاص بالحقوق المدنية والسي

بالتوفيق