

الامتحان الوطني الموحد للبكالوريا

الدورة الاستدراكية 2014

الموضوع

RS 48

ⵜⴰⵎⴰⵔⴷⴰⵢⵜ ⵏ ⵍⵎⴰⵔⴷⴰⵢⵜ
ⵜⴰⵎⴰⵔⴷⴰⵢⵜ ⵏ ⵍⵎⴰⵔⴷⴰⵢⵜ
ⵏ ⵍⵎⴰⵔⴷⴰⵢⵜ



المملكة المغربية
وزارة التربية الوطنية
والتكوين المهني

المركز الوطني للتقويم والامتحانات والتوجيه

4	مدة الإنجاز	فن تصميم المحيط	المادة
5	المعامل	شعبة الفنون التطبيقية	الشعبة أو المسلك

DESIGN D'ENVIRONNEMENT

RECOMMANDATIONS :

L'usage de toute documentation non fournie (revues, photos, journaux) est strictement interdit.

Matériel de dessin autorisé :

Feuilles de dessin format A3 et A4 ;

Feuilles de papier ordinaire ;

Feuilles de papier calque ; Gouaches, aquarelle, crayons de couleurs, feutres, stylos ;

Matériel pour tracés géométriques.

Ce sujet comporte 6 pages numérotées de 1/6 à 6/6.

Dès que ce sujet vous est remis, assurez-vous qu'il est complet.

Bon courage



**ESPACE PUBLIC DONT LA FONCTION EST :
TRAVAILLER****Sujet : Aménagement de l'espace d'accueil d'une gare ferroviaire****Énoncé :**

Dans le cadre du développement de son système de transport, le Maroc lance le projet de la ligne de train à grande vitesse (L.G.V). A cet effet, l'Office National des Chemins de Fer (l'O.N.C.F), décide de réaménager et de moderniser l'espace intérieur des principales gares du Royaume.

Travail demandé :**1. Analyse :**

Analysez par écrit le document de la page (4/6) en mettant l'accent sur :

- La description (formes, couleurs et matériaux)
- L'interprétation (espace/fonction).

2. Réalisation graphique :

a) Partant de votre analyse et des documents à exploiter (p : 6/6), proposez graphiquement des solutions pour l'aménagement de l'espace d'accueil de la gare ferroviaire dont le plan figure sur la page (5/6). Cet espace comprendra les éléments suivants:

- un comptoir de réception (point d'information),
- un espace d'attente,
- une cafeteria.

Le plan doit être reproduit à l'échelle donnée.

b) Développez une de vos solutions et finalisez-la en plan avec une technique de votre choix.

c) Représentez en perspective un coin de l'espace aménagé, en intégrant : mobilier, personnages, plantes, serveurs automatiques,...etc.

3) Argumentation :

Justifiez par écrit votre choix et la logique de la répartition des trois espaces demandés.


4). Données à respecter

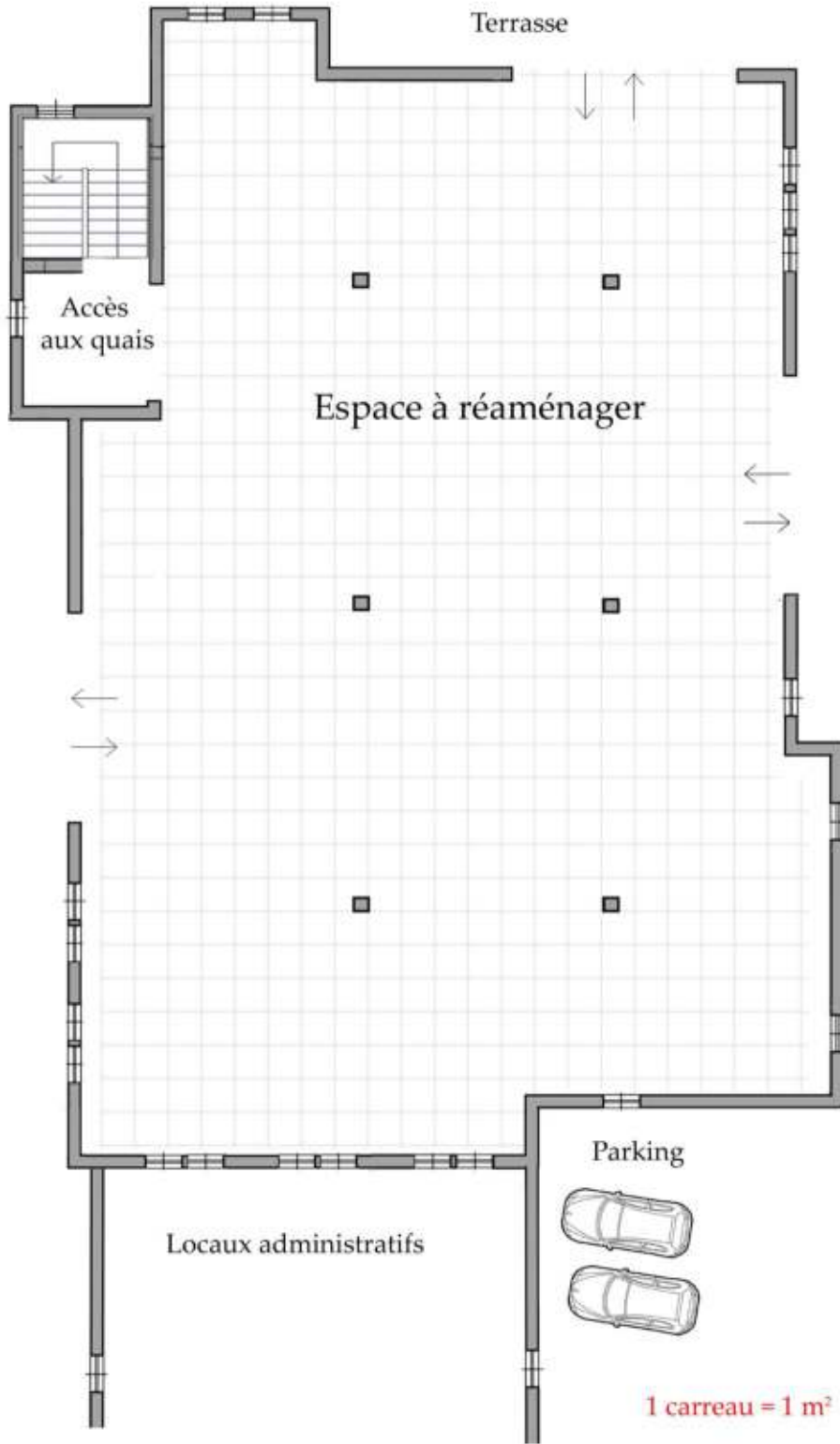
Analyse écrite sur une feuille de format A4 ;
Recherches sur des feuilles de format A3 ;
Plan finalisé sur une feuille de dessin de format A4 ;
Perspective sur une feuille de dessin de format A3 ;
Argumentation sur une feuille de format A4,
L'ensemble du travail, visuel et écrit, doit être présenté sur des feuilles de format A3.

5). Évaluation :


- Analyse écrite..... 2 points
- Solutions d'aménagement.....4 points
- Plan finalisé..... 4 points
- Représentation en perspective.....4 points
- Argumentation.....4 points
- Présentation et respect des données.....2 points

Image à analyser : La Gare de Marrakech





Documents à exploiter



الامتحان الوطني الموحد للبكالوريا

الدورة الاستدراكية 2014
عناصر الإجابة

RR 48

المركز الوطني للتقويم والامتحانات والتوجيه

4	مدة الإنجاز	فن تصميم المحيط	المادة
5	المعامل	شعبة الفنون التطبيقية	الشعبة أو المسلك

ELEMENTS DE REPONSES

Sujet : La gare ferroviaire

Indicateurs	Note détaillée	Note globale
Analyse écrite : -Description..... -Interprétation.....	1,00 1,00	02 points
- Solutions d'aménagement : - Qualité technique..... - Démarche et conception.....	2,00 2,00	04 points
- Plan finalisé: - Soin d'exécution..... - Répartition des 3 espaces.....	2,00 2,00	04 points
- Vue en perspective: - Représentation en perspective..... - Rendu et intégration des éléments d'ambiance.....	2,00 2,00	04 points
- Argumentation : - Justification du choix..... - Logique de la répartition des espaces.....	2,00 2,00	04 points
- Présentation et respect des données : - Présentation..... - Respect des données.....	1,00 1,00	02 points

