

الامتحان الوطني الموحد للبكالوريا
الدورة الاستدراكية 2016
- الموضوع -

RS 52

المملكة المغربية
وزارة التربية الوطنية
والتكوين المهني



المركز الوطني للتقويم
والامتحانات والتوجيه



3	مدة الإنجاز	الإقتصاد العام والإحصاء	المادة
6	المعامل	شعبة علوم الإقتصاد والتدبير مسلك العلوم الاقتصادية	الشعبة أو المسلك

Les pages 6 et 7 sont à rendre obligatoirement avec la copie
L'utilisation de la machine à calculer non programmable est autorisée
Pour les calculs, retenir deux chiffres après la virgule
Évitez les ratures et les surcharges, mentionnez le numéro du dossier puis celui de la question
0,5 point de la note sur 20 est réservé à la présentation de la copie

DOSSIER 1 : POLITIQUES CONJONCTURELLES ET EQUILIBRES MACROECONOMIQUES

DOCUMENT 1 : Principaux indicateurs économiques au Maroc

Selon le haut commissariat au plan (HCP), le Maroc devrait connaître un quasi-doublement de son taux de croissance économique en 2015, à près de 5%. Cette performance s'attribue notamment à un fort rendement agricole, qui permettrait une légère baisse du taux de chômage pour s'établir à 9,7%, et à une importante baisse des prix des matières premières y compris le pétrole. Cependant, tous les prévisionnistes sont d'accord qu'en 2016, le Maroc connaîtra bien un fort ralentissement du taux de sa croissance économique à environ 2%. En cause, un recul attendu de la valeur ajoutée agricole qui va contrebalancer des facteurs favorables comme la baisse du prix du pétrole. Par ailleurs, le déficit budgétaire après avoir dépassé 7% en 2012, a été ramené à 5% fin 2014 et devrait être de 4,5% en fin d'année 2015. Cette amélioration du déficit est en partie due à l'efficacité des politiques économiques liée en particulier à la « réussite » de la réforme de la caisse de compensation, qui subventionne des produits de grande consommation. Le coût de cette caisse ne devrait pas dépasser 23 milliards de dirhams en 2015 contre 53 milliards de dirhams en 2012. En outre, en 2015, l'inflation reste modérée et devrait s'établir à 1,5%, quant au solde des transactions courantes, toutes les prévisions tablent sur un déficit de 3 % du PIB.

Source : www.telquel au 21/01/15 et Le Budget Economique Exploratoire, HCP, 2016 (texte adapté)

DOCUMENT 2 : Données de la comptabilité nationale marocaine en millions de DH (Prix courants)

Rubriques	2015 (*)
Produit intérieur brut (PIB)	953 854
Dépenses de consommation finale (DCF)	758 416
Exportations des biens et services (X)	323 605
Variation des stocks (ΔS)	32 530
Importations des biens et services (M)	447 602
Formation brute du capital fixe (FBCF)	.. ?..

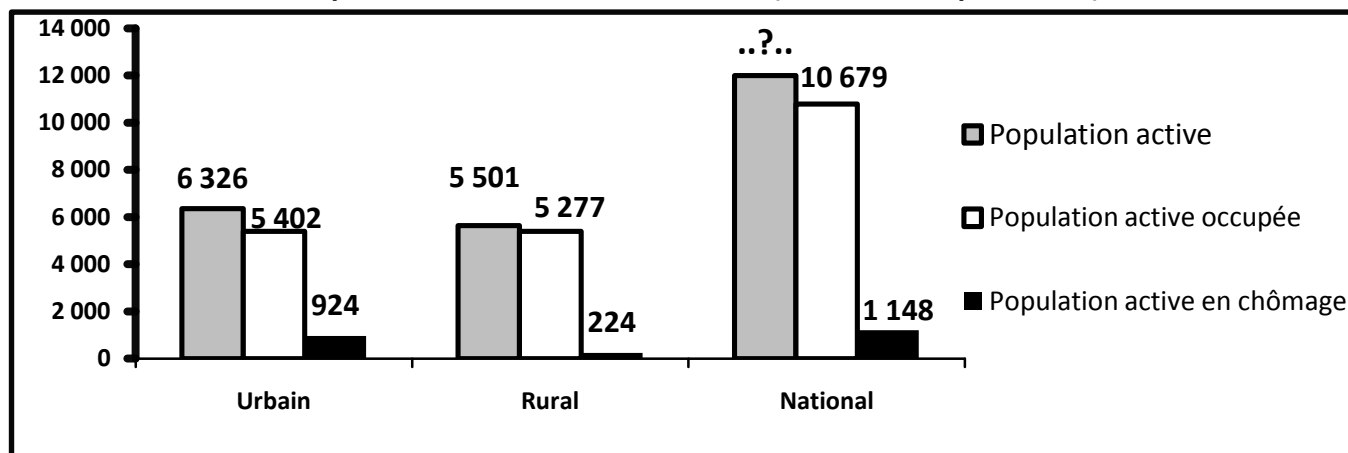
(*) Prévisions

Source : Le Budget Economique Exploratoire, HCP, 2015

DOCUMENT 3 : Situation du marché du travail en 2015

Selon le HCP, entre 2014 et 2015, le taux de chômage est passé de 9,9% à 9,7% au niveau national, de 14,8% à 14,6% en milieu urbain et de 4,2% à ...?...% en milieu rural.

Population active marocaine en 2015 (en milliers de personnes)



Source : Enquête nationale sur l'emploi, HCP

DOCUMENT 4 : Taux directeur, un potentiel de baisse inexploité ?

Après deux baisses successives de 3% à 2,75% puis à 2,5%, Bank Al-Maghrib a maintenu inchangé son taux directeur depuis décembre 2014. **Décision qui risque de ne pas donner un nouveau coup de pouce à la demande intérieure.**

Pourtant, plusieurs facteurs sont favorables pour une baisse du taux directeur. D'une part, la conjoncture internationale ne laisse pas penser que des pressions inflationnistes d'origine externe viendraient s'exercer sur l'économie marocaine : la reprise de l'activité dans l'union européenne, principal partenaire commercial du Maroc, reste faible, le prix du pétrole en baisse, les taux directeurs des principales banques centrales sont à des niveaux proches de zéro et l'inflation est également à des niveaux extrêmement bas en zone euro et aux Etats-Unis. D'autre part, sur le plan interne, on note l'absence de tensions inflationnistes émanant de la demande ou d'origine monétaire liée au ralentissement de la distribution des crédits.

Taux d'inflation et évolution des crédits bancaires en %

Année (xi)	2011	2012	2013	2014	2015
Variation en % des crédits bancaires (yi)	10,6	4,6	3,9	2,2	0,2
Taux d'inflation	0,9	1,3	1,9	0,4	1,6

Par ailleurs, l'agrégat M3 a enregistré, en glissement mensuel, en novembre 2015, une hausse de 0,6% pour s'établir à 1 122 milliards de DH. Cette évolution résulte de la progression de 0,4% des créances sur l'économie, de 1,6% des créances nettes sur l'Administration centrale et de 0,9% des réserves internationales nettes.

Source : www.lavieeco.com au 05/10/2015 et au 01/02/2016 (texte adapté)

DOCUMENT 5 : Quelques orientations de la politique budgétaire au Maroc en 2016

(...) Pour le projet de la loi de finances 2016, le ministre de l'économie et des finances a souligné que les avancées réalisées en matière des équilibres macro-économiques, en l'occurrence la baisse du déficit budgétaire, ne sont pas liées aux facteurs conjoncturels mais sont le résultat de réformes « structurelles et audacieuses », portant sur la réduction des dépenses de la compensation en les orientant vers un appui à l'investissement dans des secteurs à haute valeur ajoutée. En outre, il a été décidé l'augmentation du taux de la TVA sur certains produits, la réforme de l'impôt sur les sociétés et le plafonnement de certaines dépenses.

Cependant, pour certains analystes, la maîtrise du déficit budgétaire risque d'être temporaire et due aux facteurs surtout conjoncturels, à savoir la bonne campagne agricole, la baisse des prix du pétrole, le poids croissant de la dette publique...

Par ailleurs, le recours à l'endettement est un résultat évident du déficit budgétaire en vue d'investir et de réaliser le développement, « Nous sommes pour **un endettement destiné à l'investissement générateur de richesses** » a souligné le ministre.

Source : www.lavieeco.com au 02/01/2016 (texte adapté)

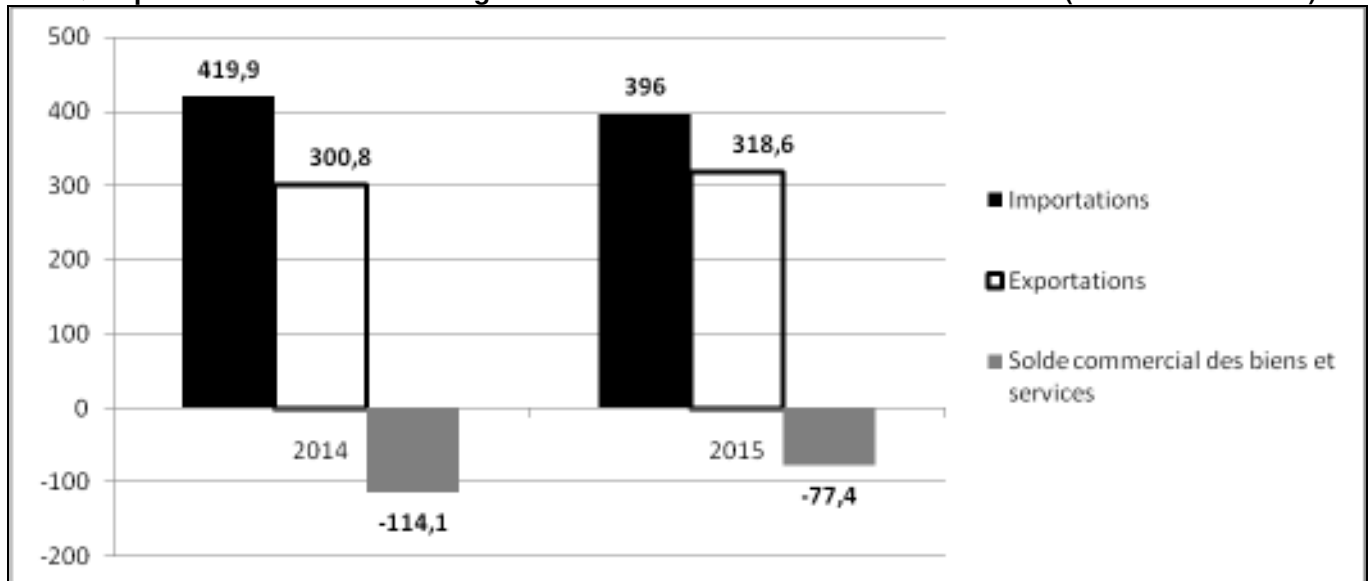
DOCUMENT 6 : Le déficit commercial s'allège de 35 milliards de DH en 2015

Au terme de l'année 2015, les résultats préliminaires des échanges extérieurs marocains laissent apparaître un allègement du déficit commercial de 35 milliards de dirhams (Mds DH), suite à la progression des exportations et à la baisse des importations. En effet, les exportations ont atteint 185,4 Mds DH, tirées par la dynamique des expéditions du secteur automobile (+8,4 Mds DH) et des ventes de phosphates et dérivés (+6,2 Mds DH), conjuguée au bon comportement des exportations du secteur de l'agriculture et agroalimentaire (+3,9 Mds DH)...

S'agissant des importations, celles-ci ont accusé une régression de 5,6% pour atteindre 319,6 Mds DH. Cette évolution provient pour l'essentiel du recul de la facture énergétique et du repli des achats de produits alimentaires (- 6 Mds DH).

Toutefois, cette bonne performance est due en partie aux facteurs conjoncturels, notamment la baisse des cours des produits énergétiques et la bonne campagne agricole.

Quelques indicateurs des échanges extérieurs marocains en biens et services (En milliards de DH)



Sources : www.telquel.ma au 19/01/2016 et www.oc.gov.ma (texte adapté)

TRAVAIL A FAIRE :

13,50 points

Documents de référence	N° de question	Questions	Barème
Document 1	1	a- Relevez en quantifiant trois indicateurs macroéconomiques au Maroc en 2015 ; b- Dégagez deux facteurs de fragilité de l'économie marocaine ; c- Précisez un effet éventuel de la réforme de la caisse de compensation sur : c ₁ - Les ménages ; c ₂ - Le budget de l'Etat ; d- Représentez la situation économique prévue pour le Maroc en 2015, annexe n° 1, page n°6 ; e- Appréciez sur la base du graphique « Annexe 1 », la situation économique du Maroc en 2015 par rapport à celle des États-Unis.	0,25 pt 0,25 pt 0,25 pt 0,25 pt 0,50 pt 0,50 pt
Document 2	2	Calculez et lisez : a- la donnée manquante ; b- la demande extérieure nette.	0,50 pt 0,50 pt
Document 3	3	a- Calculez et lisez pour 2015 le taux de chômage de la population rurale ; b- Caractérisez en illustrant le chômage au Maroc.	0,50 pt 0,50 pt
Document 4	4	a- Complétez les annexes n° 2 et 3, page n°6 ; b- Dégagez deux facteurs défavorables à la croissance économique au Maroc ; c- Expliquez le passage en gras souligné ; d- Déterminez l'équation de la droite d'ajustement linéaire selon la méthode des moindres carrés (méthode développée), sachant que : $x_i = \text{Les années}$; $y_i = \text{Variation en \% des crédits bancaires}$; $\sum x_i \cdot y_i = 41,3$; $\sum x_i^2 = 55$; $\bar{y} = 4,3$ e- Calculez le taux d'évolution prévisionnel du crédit bancaire pour l'année 2017.	1,50 pt 0,25 pt 0,50 pt 1,00 pt 0,25 pt

Document 5	5	a- Relevez un moyen de financement du déficit budgétaire ; b- Précisez et expliquez une limite éventuelle de ce moyen de financement ; c- Expliquez le passage en gras souligné;	0,25 pt 0,25 pt 0,5 pt
Document 6	6	a- Expliquez en illustrant l'évolution du solde commercial au Maroc en 2015 ; b- Calculez et lisez pour l'année 2015 : b ₁ – le taux de couverture ; b ₂ – le taux d'ouverture sachant que le PIB de l'année 2015 est de 953 854 millions de dirhams.	0,50 pt 0,50 pt 0,50 pt
Documents du dossier n°1	7	Synthèse : (Exploitez les documents du dossier 1, vos réponses et connaissances acquises). En 2015, l'économie marocaine s'est caractérisée par une amélioration des équilibres macro-économiques, principalement les soldes budgétaire et commercial, cependant, cette amélioration reste fragile. Après avoir présenté les facteurs d'amélioration de ces deux soldes et leurs fragilités, proposez des solutions pour y remédier. NB : La synthèse doit être structurée en : Introduction, développement et conclusion.	3,50pts

DOSSIER 2 : MONDIALISATION ET DEVELOPPEMENT

DOCUMENT 7 : Le Maroc face à la mondialisation

Lorsqu'on parle de la mondialisation, certains soulignent les aspects positifs, comme l'accroissement des contacts entre les continents et les pays, les progrès de l'internet et des communications, les échanges de toute sorte. Cependant, la mondialisation telle qu'elle existe aujourd'hui a des effets négatifs écologiques et sociaux. Les changements climatiques en sont une manifestation, mais aussi l'accroissement de la pauvreté et des distances économiques et sociales entre groupes humains.

Le Maroc conscient de ces effets, se veut un immense chantier de réformes, d'initiatives et de projets économiques et sociaux, dont la portée est d'améliorer les conditions de vie des citoyens et d'accélérer l'intégration du pays dans la mondialisation à travers des groupements régionaux. Cette intégration dans l'économie mondiale doit être accompagnée de l'édification d'une économie moderne, reposant sur le déploiement de mesures appropriées, facilitant l'investissement et garantissant le meilleur environnement pour les affaires tout en veillant à une répartition équitable des richesses entre régions et classes sociales.

Source : www.lematin.ma au 30/01/2014 (texte adapté)

DOCUMENT 8 : Attirer les investisseurs au Maroc, ce n'est pas aussi bénéfique qu'on le pense

Le Maroc, avec l'Egypte, se maintiennent en tête des destinations phares des investisseurs dans la région nord-africaine. Le royaume a attiré en 2014 plus de 3,6 milliards de dollars d'investissements directs étrangers (IDE).

Les arguments forts de la réalisation marocaine est sans doute sa stabilité politique, les efforts entrepris en matière d'infrastructures et la proximité avec l'Europe qui représente également l'un des principaux atouts du Maroc.

(...) Les investissements en provenance de l'étranger ont bien contribué à la croissance de l'économie marocaine, mais, ils ne bénéficient pas au bien-être de la population. Le volume des IDE a fortement augmenté au Maroc depuis l'an 2000, ce qui doit coïncider en principe avec l'amélioration du PIB par habitant et la réduction de la pauvreté. Les IDE qui viennent au Maroc sont trop concentrés dans le secteur tertiaire, en particulier les services et le tourisme (finance, affaires, hôtellerie et restauration), mais aucun IDE ou presque ne visait le secteur primaire, source de revenu d'une grande partie de la population marocaine.

Sources : www.leconomiste.com du 28/08/2015 et www.tel quel du 30/04/2015 (texte adapté)

DOCUMENT 9 : L'IDH du Maroc en 2015

L'indice du développement humain (IDH) du Maroc n'a presque pas évolué en 2015. Sa valeur est estimée à 0,617, contre 0,614 un an plus tôt. En revanche, la Libye, la Tunisie et l'Algérie affichent respectivement des indices de 0,784 ; 0,721 et 0,717.

Les classements en fonction de l'IDH sont basés sur des seuils fixés comme suit :

- IDH inférieur à 0,550 pour un développement humain faible ;
- IDH entre 0,550 et 0,699 pour un développement humain moyen ;
- IDH entre 0,700 et 0,799 pour un développement humain élevé ;
- IDH de 0,800 ou plus pour un développement humain très élevé.

Le rapport sur le développement humain 2015 soulève un des points les négatifs pour le Maroc, il s'agit de la durée moyenne de scolarisation qui atteint péniblement 4,4 ans, alors qu'elle tourne autour de 12 ans dans les pays à développement humain très élevé, relevons cependant l'amélioration de l'espérance de vie des marocains.....

Source : www.telquel.com au 22/07/2014 et 15/12/2015 (texte adapté)

DOCUMENT 10 : Le sous-développement, objet de controverse

Le sous-développement est la situation dans laquelle les besoins fondamentaux ne sont pas satisfaits.

Pour certains économistes, les économies des pays sous-développés se caractérisent par la juxtaposition d'un secteur moderne à plus forte intensité capitaliste et dont la production est souvent orientée vers l'exportation et d'un autre traditionnel à faible productivité qui souffre de sous emploi.

Ces deux secteurs sont faiblement liés, ce qui conduit à l'absence d'effet d'entraînement du secteur moderne vers le secteur traditionnel, de ce fait, la croissance d'une branche ne se propage pas aux autres branches de l'économie.

Pour d'autres économistes, **les économies des pays sous-développés seraient victimes d'une insuffisance structurelle des revenus, de la demande et de l'épargne, facteurs qui empêchent leur développement.**

Source : Dictionnaire de science économique, édition Armand Colin, 2013 (texte adapté)

TRAVAIL A FAIRE :

6,00 points

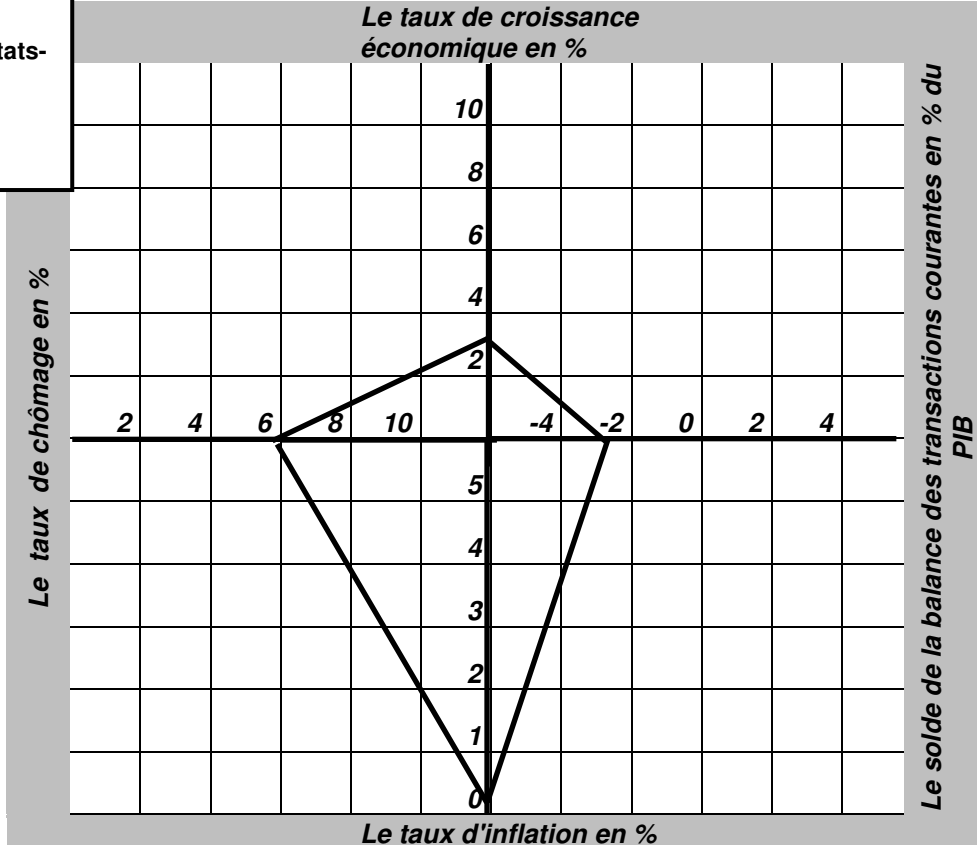
Documents de référence	N° de question	Questions	Barème
Document 7	8	a- Relevez deux avantages et deux inconvénients de la mondialisation ; b- Dégagez une stratégie à adopter face à la mondialisation ; c- Montrez comment cette stratégie pourrait limiter l'impact négatif de la mondialisation sur l'économie marocaine.	0,50pt 0,25pt 0,50pt
Document 8	9	a- Relevez : a ₁ - trois facteurs d'attraction des IDE par le Maroc ; a ₂ - un indicateur non économique de sous-développement ; b- Précisez en justifiant un effet éventuel des IDE attirés par le Maroc sur le compte des transactions courantes ; c- Montrez que les IDE n'ont pas bien contribué à la réduction de la pauvreté au Maroc.	0,25pt 0,25pt 0,50pt 0,5pt
Document 9	10	a- Relevez deux composantes de l'IDH ; b- Appréciez en expliquant le niveau de développement humain au Maroc.	0,25pt 0,50pt
Document 10	11	a- Complétez l'annexe n° 4 page n°7 ; b- Expliquez le passage en gras soulignée.	1,00pt 0,50pt
Annexe 5	12	Complétez l'annexe n°5, page n°7.	1,00pt

Annexes à remplir et à rendre obligatoirement avec la copie

Annexe n° 1 :

Le carré magique de Kaldor : représentation graphique

Légende :
— Cas des États-Unis en 2015



Annexe n° 2 :

Compétez le texte ci-après à l'aide des expressions suivantes : (l'inflation, capitaux, l'offre, liquidités, court terme):

Le marché interbancaire est un marché des à Le taux d'intérêt sur ce marché résulte de la confrontation de l'offre et de la demande des entre les banques. Si par exemple, la banque centrale veut accroître le taux d'intérêt débiteur pour lutter contre, elle diminue de la monnaie.

Annexe n° 3 :

Une action de la politique monétaire	•
Deux causes de la faible inflation au Maroc	• •
Trois contreparties de l'agrégat M3	• • •

Annexe n° 4 :

Théorie explicative du sous-développement et son auteur	Illustration à partir du document (un seul élément)
•	
•	

Annexe n° 5 : Répondez par vrai ou faux

Propositions	Vrai	Faux
Capacité ou besoin de financement = ENB + transferts nets en capital – (FBCF + Variation de stocks)		
La forte croissance démographique est une conséquence du chômage		
Le « Swaps de change » est un contrat de vente des bons de trésor		
On parle de la réévaluation en situation de change flottant		
F. List préconise la protection des industries en déclin		
La révolution verte est une stratégie d'industrialisation		



3	مدة الإنجاز	الإقتصاد العام والإحصاء	المادة
6	المعامل	شعبة علوم الإقتصاد والتدبير مسلك العلوم الاقتصادية	الشعبة أو المسلك

CORRIGE INDICATIF « Barème sur 120 »

N.B :

- 3 points de la note sur 120 sont consacrés à la présentation soignée de la copie ;
- Evitez la double sanction dans la notation des réponses liées ;
- Acceptez toute réponse logique.

DOSSIER N°1		Barème
1	a- Les trois indicateurs macroéconomiques en 2015: (trois indicateurs suffisent) <ul style="list-style-type: none"> • Taux de croissance économique (5%); • Taux de chômage (9,7%); • Taux d'inflation (1,5%) ; • Solde des transactions courantes en % du PIB (- 3%) ; • Déficit budgétaire (4,5%) <p style="text-align: right;">(0,25 pt par indicateur et 0,25 par quantification)</p>	1,50pt
	b- Deux facteurs de fragilité de l'économie marocaine : (deux éléments suffisent) <ul style="list-style-type: none"> • La volatilité de la croissance économique ; • Dépendance de la croissance des activités agricoles aux aléas climatiques ; • Dépendance de l'économie vis-à-vis des prix du pétrole ; <p style="text-align: right;">(0,75 pt pour chaque facteur)</p>	1,50pt
	c- Un effet éventuel de la réforme de la caisse de compensation sur : c ₁ - Les ménages : Dégradation du pouvoir d'achat ; c ₂ - Le budget de l'Etat : amélioration du déficit budgétaire (Acceptez aussi : baisse des dépenses de l'Etat).	1,50pt 1,50pt
	d- Voir annexe n°1	3,00pts
	e- Appréciation : La surface du carré magique des États-Unis est plus grande que celle qui représente le Maroc. Donc la situation économique américaine est meilleure que celle du Maroc. Ou : comparaison selon le degré d'éloignement des indicateurs macroéconomiques par rapport au centre du graphique.	3,00pts



2	<p>a- Calcul :</p> $\text{PIB} + \text{M} = \text{DCF} + \text{FBCF} + \text{Variation des stocks} + \text{X} \quad (1\text{pt})$ $\text{FBCF} = \text{PIB} + \text{M} - (\text{DCF} + \text{Variation des stocks} + \text{X})$ $\text{FBCF}_{2015} = 953\,854 + 447\,602 - (758\,416 + 32\,530 + 323\,605) \quad (0,5\text{pt})$ $= 286\,905 \text{ millions de dirhams.} \quad (0,5\text{pt})$ <p>Lecture : Au Maroc, l'investissement brut (ou les dépenses des agents économiques) en biens de production durables prévu pour 2015 s'élèvera à 286 905 millions de dirhams. (1pt) (Acceptez toute réponse logique)</p>	3,00pts
2	<p>b- Calcul :</p> <p>La demande extérieure nette = $X_{\text{BS}} - M_{\text{BS}}$ (1pt)</p> <p>La demande extérieure nette₂₀₁₅ = $323\,605 - 447\,602$ (0,5pt)</p> $= -123\,997 \text{ millions de dirhams.} \quad (0,5\text{pt})$ <p>Lecture : Au Maroc, le déficit commercial en biens et services prévu pour 2015 s'élèvera à 123 997 millions de dirhams. (1pt)</p> <p>Ou : Au Maroc, les importations en biens et services prévues en 2015 excéderont les exportations en biens et services d'un montant de 123 997 millions de dirhams.</p>	3,00pts
3	<p>a- Calcul :</p> <p>Le taux de chômage de la population rurale = $\frac{\text{population rurale en chômage}}{\text{population active rurale}} \times 100$ (1pt)</p> <p>le taux de chômage de la population rurale₂₀₁₅ = $\frac{224\,000}{5\,501\,000} \times 100$ (0,5pt)</p> $= 4,07\% \quad (0,5\text{pt})$ <p>Lecture : Au Maroc, en 2015, 4,07% de la population rurale active est en chômage. (1pt)</p>	3,00pts
	b- Au Maroc le chômage touche plus le milieu urbain (14,6%) que le milieu rural (4,07%).	3,00pts
	a- Voir annexes 2 et 3.	9,00pts
	<p>b- Deux facteurs défavorables à la croissance économique marocaine : (deux facteurs suffisent) 1,50pt</p> <ul style="list-style-type: none"> ● Faible demande ; ● Faible progression des crédits ; ● Faible reprise dans les pays avancés ; ● Taux directeur non encourageant. (0,75 pt par élément de réponse) 	
	<p>c- Explication : la Banque centrale a maintenu inchangé son taux directeur depuis décembre 2014. Ce taux est jugé relativement élevé. Cette décision risque de maintenir les taux d'intérêt débiteurs à des niveaux élevés freinant ainsi l'octroi des crédits et partant la demande intérieure (consommation et investissement).</p>	3,00pts
4	<p>d- L'équation de la droite d'ajustement linéaire selon la méthode des moindres carrés (méthode développée):</p> $\bar{x} = \frac{\sum x_i}{n} = \frac{15}{5} = 3 \quad (0,5 \text{ pt})$ <p>Coefficient $a = \frac{(\sum x_i y_i - n \bar{x} \bar{y})}{(\sum x_i^2 - N \bar{x}^2)}$ (1 pt)</p> $= \frac{(41,3 - (5 \times 3 \times 4,3))}{(55 - (5 \times (3)^2))} = -23,2/10 = -2,32 \quad (1 \text{ pt})$ <p>a = -2,32 (1 pt)</p> $* b = \bar{y} - a \bar{x} \quad (1 \text{ pt})$ $= 4,3 - (-2,32 \times 3) = 11,26 \quad (0,5 \text{ pt})$ <p>b = 11,26 (0,5 pt)</p> $* y = -2,32 X + 11,26 \quad (0,5 \text{ pt})$	6,00pts
	<p>e- le taux prévisionnel d'évolution du crédit bancaire pour l'année 2017 :</p> <p>Pour 2017, $x_i = 7$, donc : le taux prévisionnel d'évolution du crédit bancaire pour l'année 2017 :</p> $y = -2,32 \times 7 + 11,26 = -4,98\%$	1,50pt

5	<p>a- Un moyen de financement du déficit budgétaire : L'endettement ;</p> <p>b- Une limite éventuelle de moyen de financement : (un seul élément suffit) (Acceptez toute formulation logique)</p> <ul style="list-style-type: none"> ● Effet boule de neige : l'endettement public aggrave le déficit budgétaire et par conséquent l'Etat peut s'endetter davantage pour régler sa dette au lieu de s'endetter pour investir ; ● Effet d'éviction : L'endettement interne par l'Etat se fait au détriment des autres agents économiques du secteur privé, car ce secteur se trouve privé des ressources de financement bon marché. <p>c- Explication : l'endettement est un moyen de financement du déficit budgétaire. Cependant l'endettement ne doit pas être destiné au financement des dépenses de fonctionnement de l'Etat mais orienté vers les investissements productifs et créateurs d'emploi et de la valeur ajoutée et ainsi stimuler la croissance économique. (Acceptez toute formulation logique)</p>	1,50pt 1,50pt 3,00pts
6	<p>a- Explication (2 pts) et illustration (1 pt) : Le déficit commercial s'est allégé de 35 milliards de DH en 2015 par rapport à 2014. Cette situation s'explique par la progression des exportations tirées principalement par le secteur automobile (+8,4 Mds), phosphate et dérivés (+6,2%) et à la régression des importations de 5,6% sous l'effet de la baisse de la facture énergétique et produits alimentaires.</p> <p>b- Calcul et lecture :</p> <p>b₁. Le taux de couverture ; Calcul : Taux de couverture₂₀₁₅ = (Exportations₂₀₁₅ / importations₂₀₁₅) x 100 (1pt) Taux de couverture₂₀₁₅ = (185,4/319,6) x 100 (0,5pt) Taux de couverture₂₀₁₅ = 58,01 % (0,5pt) Lecture: (1pt) Au Maroc, en 2015, les exportations ne couvrent que 58,01 % des importations.</p> <p>b₂ – le taux d'ouverture. Calcul : le taux d'ouverture₂₀₁₅ = $\frac{(X_{BS} + M_{BS})}{PIB} / 2 \times 100$ (1pt) le taux d'ouverture₂₀₁₅ = $\frac{(318\ 600 + 396\ 000)}{953\ 854} / 2 \times 100$ (0,5pt) le taux d'ouverture₂₀₁₅ = 37,46 % ; (0,5pt) Lecture : (1pt) Au Maroc, en 2015, la moyenne des échanges commerciaux extérieurs (ou des échanges des biens et services) représente 37,46 % de la richesse créée.</p>	3,00pts 3,00pts 3,00pts

7	<p>Synthèse : L'année 2015 a été marquée par l'amélioration des indicateurs macroéconomiques notamment les soldes budgétaire et commercial. Cependant, cette performance reste fragile. (1,5pt)</p> <p>Quelles sont donc les solutions convenables pour remédier à ces fragilités ? (1,5pt)</p> <p>Pour répondre à cette question, on va traiter dans un premier point les facteurs d'amélioration des soldes commercial et budgétaire et leurs fragilités pour aborder dans un deuxième point les solutions pour y faire face. (1,5pt)</p> <p>I- Les facteurs d'amélioration des soldes commercial et budgétaire et leurs fragilités :</p> <p style="padding-left: 40px;">- Les facteurs d'amélioration : * du solde commercial : (Deux éléments suffisent : 2 x 0,75pt = 1,5pt)</p> <ul style="list-style-type: none">- La bonne performance des exportations tirées principalement par les nouveaux secteurs (l'automobile, l'électronique,...) ;- Le recul des importations sous l'effet de la baisse de la facture énergétique et des produits alimentaires- Un fort rendement agricole ;... <p style="padding-left: 40px;">* du solde budgétaire : (Deux éléments suffisent : 2 x 0,75pt = 1,5pt)</p> <ul style="list-style-type: none">- La réforme de la caisse de compensation ;- La révision à la hausse des taux de la TVA sur certains produits ;- La suppression des exonérations dont bénéficiaient certains secteurs (exemple l'agriculture). <p style="padding-left: 40px;">- Les fragilités : * du solde commercial : (Deux éléments suffisent : 2 x 0,75pt = 1,5pt)</p> <ul style="list-style-type: none">- L'excès des importations sur les exportations pénalise le solde commercial et révèle un aspect structurel ;- La baisse des prix du pétrole reste conjoncturelle et par conséquent le renchérissement de la facture pétrolière reste présente ;- Les facteurs de l'amélioration du solde commercial restent conjoncturels ; ... <p style="padding-left: 40px;">* du solde budgétaire : (Deux éléments suffisent : 2 x 0,75pt = 1,5pt)</p> <ul style="list-style-type: none">- Effet d'éviction, endettement au détriment de financement des investissements du secteur privé- Le poids de certaines dépenses non productives dans les dépenses publiques (la masse salariale par exemple) ... <p>II- Les solutions à mettre en œuvre pour dépasser les fragilités:</p> <p style="padding-left: 40px;">* du solde commercial : (Trois éléments suffisent : 3 x 1,25pt = 3,75pts)</p> <ul style="list-style-type: none">- La diversification de nos partenaires commerciaux ;- La baisse des importations par le recours aux énergies renouvelables ;- L'amélioration de l'offre exportable par le recours aux nouveaux métiers mondiaux- La dynamisation des stratégies sectorielles déjà en cours d'exécution, afin d'améliorer la qualité des investissements et l'attrait de flux plus importants d'IDE source des revenus ;... <p style="padding-left: 40px;">* du solde budgétaire : (Trois éléments suffisent : 3 x 1,25pt = 3,75pts)</p> <ul style="list-style-type: none">- La baisse des dépenses publiques;- L'orientation de l'endettement vers l'investissement créateur de richesse et d'emploi (nouvelles recettes fiscales) ;- L'élargissement de l'assiette fiscale par l'intégration du secteur informel ;- L'annulation de certaines exonérations fiscales ;- La réduction progressive du déficit budgétaire ;... <p>Afin d'améliorer les deux soldes budgétaire et commercial, le Maroc doit mettre en œuvre des politiques économiques cohérentes basées sur une croissance durable et indépendante de la conjoncture aléatoire. (3pts)</p>	21,00pts
---	--	----------

	DOSSIER N°2	Barème
8	a- deux avantages et deux inconvénients de la mondialisation : - Deux avantages : (0,75pt par avantage) <ul style="list-style-type: none"> ● l'accroissement des contacts entre les continents et entre les pays ; ● les progrès de l'internet et des moyens de communication. - Deux Inconvénients : (deux éléments suffisent) (0,75pt par inconvénient) <ul style="list-style-type: none"> ● Les changements climatiques ; ● L'accroissement de la pauvreté ; ● l'accroissement des distances économiques et sociales entre groupes humains. 	3,00pts
	b- L'intégration régionale	1,50pt
	c- L'intégration régionale permet la suppression des barrières douanières à l'intérieur de la zone d'intégration en favorisant ainsi la libéralisation des échanges et donc élargissement des débouchés des entreprises marocaines et de ce fait, le renforcement du pouvoir de négociation du Maroc avec les grands acteurs de la mondialisation. (acceptez toute réponse logique)	3,00pts
9	a- a ₁ - Les trois facteurs d'attraction des IDE par le Maroc : (0,5pt par facteur) <ul style="list-style-type: none"> ● La stabilité politique du Maroc ; ● les efforts entrepris en matière d'infrastructures ; ● la proximité avec l'Europe ; a ₂ - un indicateur non économique de sous-développement : la pauvreté	1,50pt
	b- les IDE entraînent la baisse du solde du revenu primaire et donc celui du compte des transactions courantes en raison de rapatriement des dividendes.	1,50pt
	c- Malgré l'augmentation des flux des IDE ces dernières années au Maroc, la pauvreté persiste. Les IDE destinés au Maroc sont généralement concentrés dans le secteur tertiaire, mais leur impact sur la création d'emploi et le niveau de vie reste limité. D'autant plus, ces IDE n'ont pas visé le secteur primaire premier pourvoyeur d'emploi et source de revenus pour une grande partie de la population marocaine.	3,00pts
10	a- Les deux composantes des IDE : (0,75pt par composante) <ul style="list-style-type: none"> ● la durée moyenne de scolarisation ; ● l'espérance de vie ; 	1,50pt
	b- Appréciation de l'IDH au Maroc et celui des autres pays nord-africain : Au Maroc, l'IDH est estimé à 0,617, il entre dans l'intervalle de 0,550 et 0,699, donc le Maroc connaît un développement humain moyen. (1,50 pt) Ce résultat est dû principalement à la faible durée moyenne de scolarisation qui atteint péniblement 4,4 ans, alors qu'elle tourne autour de 12 ans dans les pays au développement humain très élevé. (1,50 pt)	3,00pts
11	a- Voir annexe 4	3,00pts
	b-Explication de l'expression en gras soulignée : Ce passage fait allusion à l'explication du sous- développement par le cercle vicieux de la pauvreté (Nurkse). Les pays sous-développés souffrent d'une faiblesse structurelle des revenus qui se traduit d'une part, par la faiblesse de la demande engendrant une faiblesse de la production et des revenus en conséquence, d'autre part, cette faiblesse des revenus conduit à une insuffisance de l'épargne pénalisant l'investissement et partant la production. De ce fait les revenus restent faibles ce qui bloque le développement de ces pays. (acceptez toute réponse logique)	3,00pts
12	Voir annexe 5	6,00pts

ANNEXES

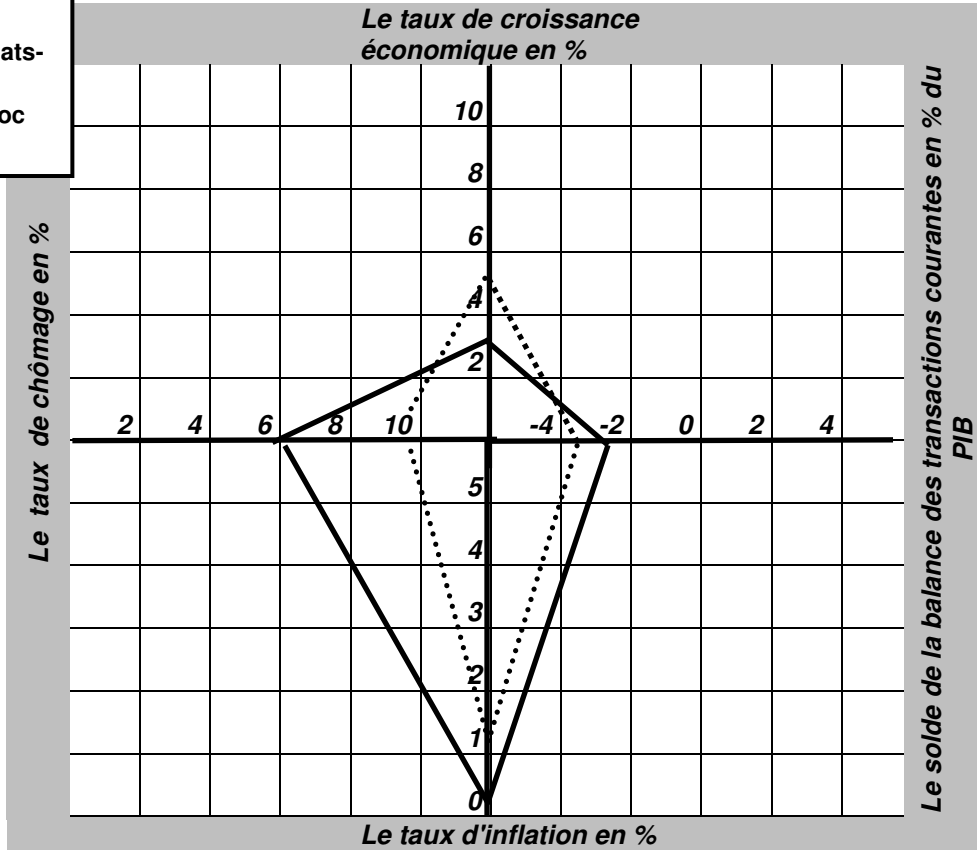
Annexe n°1 :

(0,75 pt pour chaque axe tracé)

Le carré magique de Kaldor : représentation graphique

Légende :

- Cas des États-Unis en 2015
- Cas du Maroc en 2015



Source : Graphique élaboré à partir des données statistiques de la Coface

Annexe n°2 :

(0,75pt x 5)

Le marché interbancaire est un marché des capitaux à court terme. Le taux d'intérêt sur ce marché résulte de la confrontation de l'offre et de la demande des liquidités entre les banques. Si par exemple, la banque centrale veut accroître le taux d'intérêt débiteur pour lutter contre l'inflation, elle diminue l'offre de la monnaie.

Annexe n° 3 :

Une action de la politique monétaire	<ul style="list-style-type: none"> ● Le maintien du taux directeur à 2,5% depuis décembre 2014. (1,5pts)
Deux causes de la faible inflation au Maroc	<ul style="list-style-type: none"> ● Faible pression de la demande intérieure ; ● Faible pression de la demande extérieure ; ● Faible création monétaire ; ● Baisse du prix du pétrole ; ● Faible inflation chez les principaux partenaires ; <p>(deux éléments suffisent) (0,75pt x 2)</p>
Trois contreparties de l'agrégat M3	<ul style="list-style-type: none"> ● Créances sur l'économie, ● Créances nettes sur l'Administration centrale ; ● Réserves internationales nettes <p>(0,75 x 3)</p>

Annexe n° 4 : (Accepter toute illustration logique)

Théorie explicative du sous-développement et son auteur	(Un seul élément d'illustration suffit)
Facteurs de blocage de croissance (1pt) (Acceptez aussi : l'approche de F. Perroux) F. Perroux (1pt)	<ul style="list-style-type: none"> ● les besoins fondamentaux ne sont pas satisfaits, ● la juxtaposition d'un secteur moderne à plus forte intensité capitaliste et dont la production est souvent orientée vers l'exportation et d'un autre traditionnel à faible productivité qui souffre de sous emploi ; ● Ces deux secteurs sont faiblement liés. (1pt)
Cercle vicieux de la pauvreté (1pt) R. Nurkse (1pt)	<ul style="list-style-type: none"> ● les économies des pays sous-développés seraient victimes d'une insuffisance structurelle des revenus, de la demande et de l'épargne, facteurs qui empêchent leur développement. (1pt)

Annexe n° 5 :

(1pt X 6)

Propositions	Vrai	Faux
Capacité ou besoin de financement = ENB + transferts nets en capital – (FBCF + Variation de stocks)	X	
La forte croissance démographique est une conséquence du chômage		X
Le « Swaps de change » est un contrat d'achat et de vente des bons de trésor		X
On parle de la réévaluation en situation de change flottant		X
F. List préconise la protection des industries en déclin		X
La révolution verte est une stratégie d'industrialisation		X

3 points sont réservés à la présentation soignée de la copie