



الامتحان الوطني الموحد للبكالوريا
الدورة الاستدراكية 2011
الموضوع

الصفحة

1

2



3	المعامل	RS36	علوم الحياة والأرض	المادة
2	مادة الإنجاز		شعبة العلوم الرياضية (أ)	الشعب (ة) أو المستوى

التمرين الأول (4 نقط)

لمعرفة كيفية انتقال الصفات الوراثية بما فيها الأمراض الوراثية والشذوذات الصبغية عند الإنسان، يتم اللجوء إلى عدة تقنيات.

بواسطة نص منظم:

- حدد أربع صعوبات تواجه دراسة الوراثة البشرية. (1 ن)
- حدد تقنيتين من تقنيات التشخيص قبل الولادي مبرزاً مميزات كل تقنية. (1 ن)
- بين أهمية كل من الخريطة الصبغية وشجرة النسب في دراسة الوراثة البشرية. (2 ن)

التمرين الثاني (10 نقط)

نظراً لخصوصياتها المتجلية في نموها في أوساط بسيطة وقدرتها الكبيرة على التكاث، تستعمل ذبابة الخل كأداة تجريبية لمتابعة انتقال الصفات الوراثية. لإبراز ذلك نقدم الدراسات التجريبية الآتية:

I- نتائج دراسة انتقال صفتين وراثيتين عند ذبابة الخل

من أجل تتبع انتقال صفتي شكل العيون وشكل الأجنحة نقترح دراسة التزاوجات الآتية:

- التزاوج الأول: بين أنثى بأجنحة عادية وعيون عادية، وذكر بأجنحة أثرية وعيون مفصصة. أعطى هذا التزاوج جيلاً F_1 كل أفراد بأجنحة عادية وعيون عادية.

- التزاوج الثاني: بين أنثى من F_1 وذكر بأجنحة أثرية وعيون مفصصة. أعطى هذا التزاوج جيلاً F_2 مكوناً من:

- 48,5 % من الأفراد بأجنحة عادية وعيون عادية؛
- 48,5 % من الأفراد بأجنحة أثرية وعيون مفصصة؛
- 1,5 % من الأفراد بأجنحة عادية وعيون مفصصة؛
- 1,5 % من الأفراد بأجنحة أثرية وعيون عادية.

1. فسر نتائج التزاوجين الأول والثاني مستعينا بشبكة التزاوج. (3 ن)

(أرمز للتحليل المسؤول عن شكل الأجنحة بـ $vg+$ في حالة السيادة و vg في حالة التثني، وللحليل المسؤول عن شكل العيون بـ L في حالة السيادة و l في حالة التثني.)

- التزاوج الثالث: بين ذكر من F_1 وأنثى بأجنحة أثرية وعيون مفصصة. أعطى هذا التزاوج جيلاً F_2' مكوناً من:

- 50 % من أفراد ذات أجنحة عادية وعيون عادية؛
- 50 % من أفراد ذات أجنحة أثرية وعيون مفصصة.

2. فسر نتائج التزاوج الثالث مستعينا بشبكة التزاوج. (1.5 ن)

- التزاوج الرابع: بين أنثى بأجنحة عادية و عيون عادية وذكر بأجنحة أثرية و عيون مفصصة. أعطى هذا التزاوج جيلا مكونا من:

- 48,5 % من الأفراد بأجنحة عادية و عيون مفصصة؛
- 48,5 % من الأفراد بأجنحة أثرية و عيون عادية؛
- 1,5 % من الأفراد بأجنحة عادية و عيون عادية؛
- 1,5 % من الأفراد بأجنحة أثرية و عيون مفصصة.

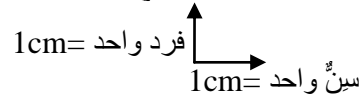
3. قارن بين نتائج التزاوج الثاني ونتائج التزاوج الرابع ثم فسر نتيجة التزاوج الرابع. (1.5 ن)

II- نتائج الدراسة الإحصائية لصفة وراثية عند ذبابة الخل

تظهر الملاحظة بالمكبر الزوجي عند ذبابة الخل، وجود أسنان في أرجل الذكور على شكل مشط. يختلف عدد أسنان المشط عند أفراد النوع، ويشكل توزيع هذا العدد مثالا للتغير الكمي غير المتواصل. يقدم الجدول أسفله نتيجة توزيع أسنان المشط عند جماعة من ذكور ذبابة الخل.

عدد أسنان مشط الأرجل x_i	11	12	13	14	15	16
التردد f_i	1	3	4	7	3	2

4. باستعمال معطيات الجدول، أنجز مضع الترددات لتوزيع عدد أسنان المشط عند أفراد هذه الجماعة (1.5 ن) استعمل السلم الآتي:



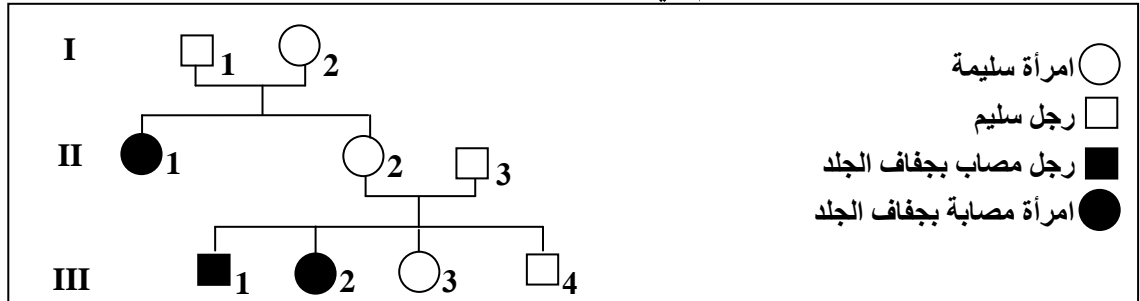
5. احسب المعدل الحسابي \bar{X} والانحراف المعياري (النمطي) δ لهذه الجماعة مستعينا بجدول إجمالي لحساب الثابتات. (2 ن)

$$n = \sum f_i \quad \text{و} \quad \left(\delta = \sqrt{\frac{\sum f_i (x_i - \bar{X})^2}{n}} \right) \quad \text{نعطي}$$

يعطي التزاوج بين أنثى من الجماعة السابقة وذكر أيضا من نفس الجماعة له 11 سنا بمشط الأرجل، خلفا له نفس التوزيع السابق (الجدول). نحصل على نفس النتيجة عند تزاوج أنثى وذكر بعدد أسنان مشط الأرجل يساوي 16.
6. ماذا تستنتج من نتائج هذين التزاوجين؟ (0.5 ن)

التمرين الثالث (6 نقط)

يعتبر مرض جفاف الجلد (xeroderma pigmentosum) مرضا وراثيا. تمثل شجرة النسب الآتية انتقال هذا المرض عند عائلة عبر ثلاثة أجيال. تتحكم في هذا المرض مورثة N لها حليلان N و n.



1. بيّن، من خلال تحليل شجرة النسب، أن جفاف الجلد مرض متنحي وغير مرتبط بالجنس. (1.5 ن)

في إحدى ساكنات الشرق الأوسط يقدر احتمال الإصابة بمرض جفاف الجلد بـ $1/100\,000$.

2. باعتبار الساكنة متوازنة، حدد q (تردد الحليل n) المسؤول عن الإصابة بجفاف الجلد في هذه الساكنة ثم احسب تردد الأفراد المختلفي الاقتران. (2.5 ن)

3. احسب، مستعينا بشبكة التزاوج، احتمال إنجاب مولود مصاب بمرض جفاف الجلد في حالة زواج السيدة III3 برجل سليم من الساكنة. (2 ن)


 الامتحان الوطني الموحد للبكالوريا
 الدورة الاستدراكية 2011
 عناصر الإجابة

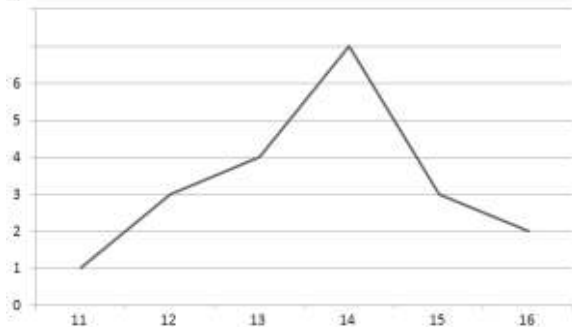
الصفحة
1
3



3	المعامل	RR36	علوم الحياة والأرض	المادة
2	مادة الإنجيز		شعبة العلوم الرياضية (أ)	الشعب (ة) أو المحلل

" قبول كل إجابة صحيحة ذات صياغة لغوية سليمة بالنسبة لكل سؤال "

النقطة	عناصر الإجابة	السؤال
1	ذكر أربع صعوبات من بين الصعوبات التالية: - كون الإنسان ليس مادة تجريبية (توجيه التزاوجات أو إخضاعه لعوامل مسببة للطفرات). - طول عمر الجيل. - ضعف الخصوبة عند الإنسان (قلة عدد أفراد الخلف). - طول مدة الحمل. - عدد الصبغيات كبير (2n = 46)..... تقنيات التشخيص القبل ولادي: ذكر تقنيتين من بين مايلي - تقنية التصوير بالصدى: تتمثل في إرسال موجات فوق صوتية يتم التقاطها بواسطة الحاسوب في شكل صورة تظهر بنية الأنسجة والأعضاء. - تقنية Amniocentèse: عزل خلايا الجنين وإنجاز الخريطة الصبغية - تقنية التحليل الكيميائي لADN الجنين المعتمدة على عزل المورثات بواسطة الهجرة الكهربائية - طريقة تحليل الدم للألم قصد الكشف عن تركيز بعض الهرمونات والبروتينات المرتبطة ببعض الأمراض الوراثية.....	1 ن 1 ن 1 ن 1 ن
التمرين الثاني (10 نقط)		
النقطة	عناصر الإجابة	السؤال
0.5 ن	التزاوج الأول: F1 متجانس بالنسبة للصفاتين وبالتالي فالأبوين من سلالتين نقيتين. حصلنا على جيل بأجنحة عادية وعيون مفصصة - الحليل المسؤول عن عيون عادية سائد (L) على الحليل المسؤول عن العيون المفصصة (l)؛ - الحليل المسؤول عن أجنحة عادية سائد (vg+) على الحليل المسؤول عن أجنحة أثرية (vg).....	1
0.5 ن	التزاوج الثاني: تزاوج اختبائي لأنه بين أنثى ثنائية الهجونة وذكر ثنائي التنحي. نسبة المظاهر الأبوية % 97 أكبر من نسبة المظاهر الجديدة وبالتالي فالمورثتين المسؤولتين عن كل من شكل الأجنحة وشكل العيون مرتبطتان..... التفسير الصبغي للتزاوج الأول:	0.5 ن
0.5 ن	$ \begin{array}{c} \text{♂} \\ \frac{l \quad vg}{+ \quad +} \\ \frac{l \quad vg}{+ \quad +} \\ \downarrow \\ 100\% \quad \frac{l \quad vg}{+ \quad +} \end{array} \times \begin{array}{c} \text{♀} \\ \frac{L \quad vg+}{+ \quad +} \\ \frac{L \quad vg+}{+ \quad +} \\ \downarrow \\ 100\% \quad \frac{L \quad vg+}{+ \quad +} \end{array} $ <p style="text-align: center;">الأباء</p> $ \begin{array}{c} \frac{L \quad vg+}{+ \quad +} \\ \frac{l \quad vg}{+ \quad +} \\ \downarrow \\ [L, vg+] \quad 100\% \quad F1 \end{array} $	0.5 ن

النقطة	عناصر الإجابة	السؤال																																								
1.5 ن	<p>الترددات</p>  <p>إنجاز صحيح لمضلع الترددات</p>	4																																								
2 ن	<p>- حساب المعدل الحسابي والانحراف المعياري (النمطي): الجدول الإجمالي لحساب الثابتات:</p> <table border="1" data-bbox="263 649 1332 840"> <thead> <tr> <th>x_i</th> <th>11</th> <th>12</th> <th>13</th> <th>14</th> <th>15</th> <th>16</th> <th>المجموع</th> </tr> </thead> <tbody> <tr> <td>f_i</td> <td>1</td> <td>3</td> <td>4</td> <td>7</td> <td>3</td> <td>2</td> <td>20</td> </tr> <tr> <td>$f_i \times x_i$</td> <td>11</td> <td>36</td> <td>52</td> <td>98</td> <td>45</td> <td>32</td> <td>274</td> </tr> <tr> <td>$(x_i - \bar{X})^2$</td> <td>7.29</td> <td>2.89</td> <td>0.49</td> <td>0.09</td> <td>1.69</td> <td>5.29</td> <td></td> </tr> <tr> <td>$f_i(x_i - \bar{X})^2$</td> <td>7.29</td> <td>8.67</td> <td>1.96</td> <td>0.63</td> <td>5.07</td> <td>10.58</td> <td>34.2</td> </tr> </tbody> </table> <p>الانحراف المعياري δ: المعدل الحسابي \bar{X}: $\bar{X} = \frac{\sum f_i \times x_i}{n} = \frac{274}{20} = 13.7$</p>	x_i	11	12	13	14	15	16	المجموع	f_i	1	3	4	7	3	2	20	$f_i \times x_i$	11	36	52	98	45	32	274	$(x_i - \bar{X})^2$	7.29	2.89	0.49	0.09	1.69	5.29		$f_i(x_i - \bar{X})^2$	7.29	8.67	1.96	0.63	5.07	10.58	34.2	5
x_i	11	12	13	14	15	16	المجموع																																			
f_i	1	3	4	7	3	2	20																																			
$f_i \times x_i$	11	36	52	98	45	32	274																																			
$(x_i - \bar{X})^2$	7.29	2.89	0.49	0.09	1.69	5.29																																				
$f_i(x_i - \bar{X})^2$	7.29	8.67	1.96	0.63	5.07	10.58	34.2																																			
0.5 ن	<p>الاستنتاج: الانتقاء غير فعال في هذين التزاوجين، إذن تنتمي الجماعة (الساكنة) إلى سلالة نقية</p> <p>التمرين الثالث (6 نقط)</p>	6																																								
0.5 ن	<p>عناصر الإجابة</p> <p>الأبوان I1 و I2 سليمان وأنجبا بنتا مصابة: إذن المرض متنحي. (يمكن قبول تعليل آخر صحيح)..... المرض غير مرتبط بالصبغي الجنسي X: المرض متنح والأب I1 سليم وأعطى بنتا مريضة؛ لو كان مرتبطا بالجنس لكان الأب مريضا لأنه ينقل الصبغي X إلى البنت. المرض غير مرتبط بالصبغي Y: إنجاب ذكور وإناث مصابون.</p>	1																																								
1 ن	<p>تردد الأفراد المصابين: $f(n/n) = q^2 = 1/100000$ تردد الحليل n: $q = f(n) = \sqrt{10^{-5}} = 0.0032$ $f(N/n) = 2pq = 2 \cdot \sqrt{10^{-5}} \cdot (1 - \sqrt{10^{-5}}) = 2(0.0032)(0.9968) = 0.0064$</p>	2																																								
1 ن	<p>- حساب احتمال أن تكون السيدة III3 ناقلة للمرض. بما أن المرض متنحي ولها إخوة مصابين فإن أبويها سيكونان بالضرورة مختلفا الاقتران. احتمال أن تكون حاملة للمرض هو 2/3. التعليل بشبكة التزاوج:</p> <table border="1" data-bbox="478 1579 1276 1691"> <thead> <tr> <th></th> <th>N 1/2</th> <th>n 1/2</th> </tr> </thead> <tbody> <tr> <th>N 1/2</th> <td>N/N 1/4 [N]</td> <td>N/n 1/4 [N]</td> </tr> <tr> <th>n 1/2</th> <td>N/n 1/4 [N]</td> <td>n/n 1/4 [n]</td> </tr> </tbody> </table> <p>لدينا 2/3 حالة تكون N/n من بين الأفراد ذوو المظهر الخارجي السليم [N]..... - احتمال أن يكون الأب مختلفي الاقتران هو: $2pq = 0.0064$ - احتمال إنجابها لمولود مصاب في حالة زواجها بفرد مختلف الاقتران من الساكنة هو 1/4. التعليل بشبكة التزاوج:</p> <table border="1" data-bbox="478 1848 1276 1960"> <thead> <tr> <th></th> <th>N 1/2</th> <th>n 1/2</th> </tr> </thead> <tbody> <tr> <th>N 1/2</th> <td>N/N 1/4 [N]</td> <td>N/n 1/4 [N]</td> </tr> <tr> <th>n 1/2</th> <td>N/n 1/4 [N]</td> <td>n/n 1/4 [n]</td> </tr> </tbody> </table> <p>إذن احتمال إنجاب مولود مصاب هو احتمال مختلفي الاقتران في الساكنة مضروب في احتمال أن تكون الأم ناقلة مضروب في احتمال مختلفي الاقتران: $0,0064 \times 2/3 \times 1/4 = 0,001$</p>		N 1/2	n 1/2	N 1/2	N/N 1/4 [N]	N/n 1/4 [N]	n 1/2	N/n 1/4 [N]	n/n 1/4 [n]		N 1/2	n 1/2	N 1/2	N/N 1/4 [N]	N/n 1/4 [N]	n 1/2	N/n 1/4 [N]	n/n 1/4 [n]	3																						
	N 1/2	n 1/2																																								
N 1/2	N/N 1/4 [N]	N/n 1/4 [N]																																								
n 1/2	N/n 1/4 [N]	n/n 1/4 [n]																																								
	N 1/2	n 1/2																																								
N 1/2	N/N 1/4 [N]	N/n 1/4 [N]																																								
n 1/2	N/n 1/4 [N]	n/n 1/4 [n]																																								
1 ن	<p>إذن احتمال إنجاب مولود مصاب هو احتمال مختلفي الاقتران في الساكنة مضروب في احتمال أن تكون الأم ناقلة مضروب في احتمال مختلفي الاقتران: $0,0064 \times 2/3 \times 1/4 = 0,001$</p>	1																																								