

خاص بكتابة الامتحان	الامتحان الوطني الموحد للبكالوريا الدورة العادية 2022		المملكة المغربية وزارة التربية الوطنية والتعليم الأولي والرياضة المركز الوطني للتقويم والامتحانات	
*****-HH	***I	- الموضوع -	NS 47	
رقم الامتحان:	الإسم الشخصي والعائلي:		α	
8	المعامل	4h	مدة الإنجاز	المادة الشعبة والمسلك
فن تصميم التواصل والوسائط المتعددة شعبة الفنون التطبيقية				

لا يكتب أي شيء  
في هذا الإطار

خاص بكتابة الامتحان	النقطة النهائية على 20: بالأرقام ..... والحروف ..... (على المصحح التأكد من أن النقطة النهائية على 20)	المدة: فن تصميم التواصل والوسائط المتعددة الشعبة والمسلك: شعبة الفنون التطبيقية	
الصفحة: 1 على 12	اسم المصحح وتوقيعه:	ورقة الإجابة	NS 47

DESIGN DE COMMUNICATION ET MULTIMEDIA

LE DEPLIANT

CONCEPTION GRAPHIQUE D'UN DEPLIANT

## RECOMMANDATIONS

- L'usage de toute documentation non fournie (*revues, photos, journaux...*) est **strictement interdit**
- Toutes les réalisations graphiques (*recherches, planche technique, conception finalisée*) **doivent être exécutées ou présentées sur les feuilles de cette épreuve**
- Possibilité de travailler sur des **feuilles de dessin** blanches ou colorées, à condition de **les coller dans leurs pages correspondantes**
- Dès que ce sujet vous est remis, assurez-vous qu'il comporte **11** feuilles numérotées de : **1/11** à **11/11**.

**NE PAS PLIER LES FEUILLES DE CE SUJET**

## Enoncé

Dans le cadre de l'inauguration d'un Salon international **regroupant les métiers de l'Artisanat et des Arts décoratifs**, on vous demande de concevoir **un dépliant d'information** qui sera distribué aux visiteurs du **Pavillon marocain**.

## Contenus et évaluation

Page 2/11	:	Analyse écrite	.....	2.5 pts.
Page 3/11	:	Analyse graphique	.....	2.5 pts.
Pages 5 ; 6 ; 7/11	:	Recherches	.....	5 pts.
Page 8/11	:	Finalisation	.....	7 pts.
Page 9/11	:	Argumentation	.....	3 pts.



لا يكتب أي شيء  
في هذا الإطار

لا يكتب أي شيء  
في هذا الإطار



الصفحة : 3 على 12


NS 47

الامتحان الوطني الموحد للبكالوريا - الدورة العادية 2022 - الموضوع  
مادة: فن تصميم التواصل والوسائط المتعددة - شعبة الفنون التطبيقية

α

### ANALYSE GRAPHIQUE

- Dans le cadre ci-contre, **interprétez la composition** de cette image par des **lignes et des formes abstraites**.
- Ci-dessous, relevez graphiquement **les symboles forts** qui traduisent **le thème** de l'image.



لا يكتب أي شيء  
في هذا الإطار

لا يكتب أي شيء  
في هذا الإطار

الصفحة : 4 على 12

NS 47

الامتحان الوطني الموحد للبكالوريا - الدورة العادية 2022 - الموضوع  
مادة: فن تصميم التواصل والوسائط المتعددة - شعبة الفنون التطبيقية

α

## RECHERCHES DE CONCEPTION ET DEMARCHE

Réalisez des recherches graphiques pour **la conception d'un dépliant en accordéon à 3 volets** (voir le schéma ci-contre), destiné à informer les visiteurs du **Pavillon Marocain** exposant **5 métiers d'artisanat** :

- **La poterie** (Objets en terre cuite ou en céramique)
- **La tapisserie** (Tapis berbères et tapis citadins)
- **La dinanderie** (Objets en cuivre)
- **La boiserie** (Objets et décors en bois)
- **La bijouterie** (Bijoux traditionnels, berbères et citadins)

### 1. LA COUVERTURE doit comporter :

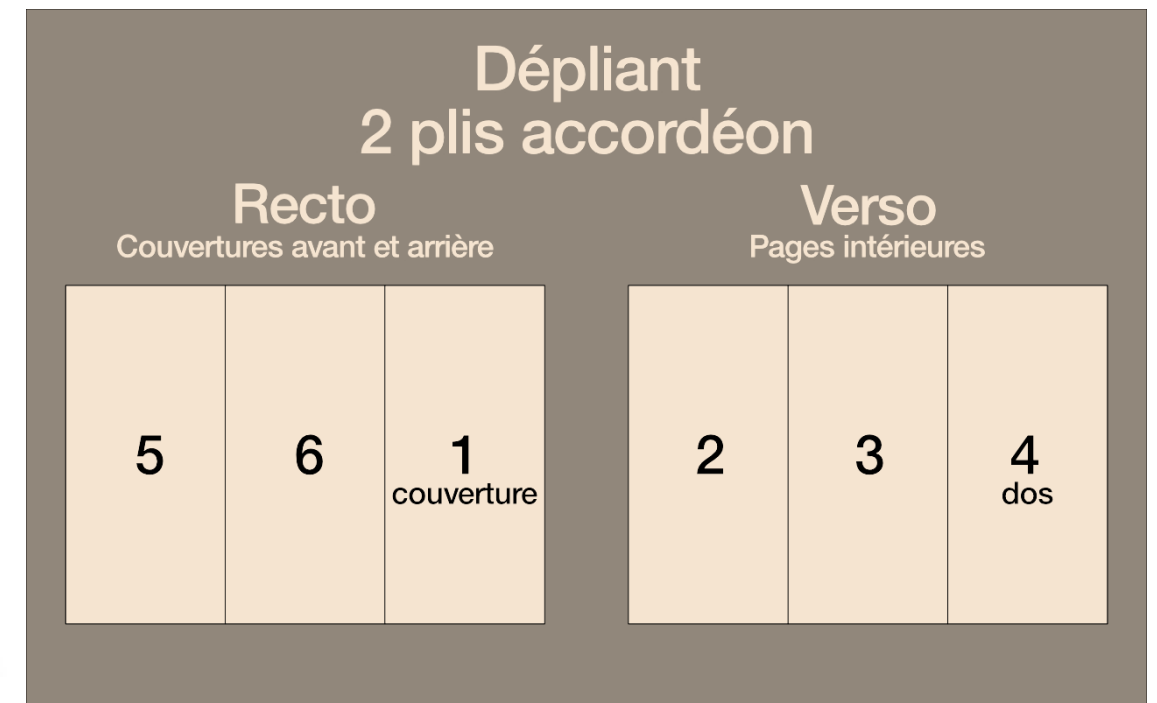
- **un visuel** illustrant le Pavillon marocain (*images, formes, couleurs*)
- **l'intitulé** : « **L'ARTISANAT MAROCAIN, UN ART MILLENAIRE** »
- **un slogan** invitant les visiteurs à **découvrir les 5 métiers d'artisanat exposés**.

### 2. Chaque VOLET (ou FACE) représentera un métier. Il doit comporter 3 éléments :

- **un pictogramme** symbolisant le métier représenté
- **zone(s) de texte** (faux-texte)
- **dessins, formes ou couleurs** illustrant le métier représenté.

### 3. Possibilité d'intégrer d'autres éléments fictifs (*logos, mots ou phrases d'accroche, coordonnés, etc.*)

Pour votre inspiration, consultez les pages : **10/11 et 11/11**.



لا يكتب أي شيء  
في هذا الإطار

لا يكتب أي شيء  
في هذا الإطار



الصفحة : 5 على 12

NS 47

الامتحان الوطني الموحد للبكالوريا - الدورة العادية 2022 - الموضوع  
مادة: فن تصميم التواصل والوسائط المتعددة - شعبة الفنون التطبيقية

α

## RECHERCHES

Dans vos recherches respectez le format et le type de dépliant demandé.

لا يكتب أي شيء  
في هذا الإطار

لا يكتب أي شيء  
في هذا الإطار



الصفحة : 6 على 12

NS 47

الامتحان الوطني الموحد للبكالوريا - الدورة العادية 2022 - الموضوع  
مادة: فن تصميم التواصل والوسائط المتعددة - شعبة الفنون التطبيقية

α

#### RECHERCHES (suite)

Dans vos recherches respectez le format et le type de dépliant demandé.

لا يكتب أي شيء  
في هذا الإطار

لا يكتب أي شيء  
في هذا الإطار



الصفحة : 7 على 12

NS 47

الامتحان الوطني الموحد للبكالوريا - الدورة العادية 2022 - الموضوع  
مادة: فن تصميم التواصل والوسائط المتعددة - شعبة الفنون التطبيقية

α

#### RECHERCHES (suite)

Dans vos recherches respectez le format et le type de dépliant demandé.

لا يكتب أي شيء  
في هذا الإطار

لا يكتب أي شيء  
في هذا الإطار



الصفحة : 8 على 12

NS 47

الامتحان الوطني الموحد للبكالوريا - الدورة العادية 2022 - الموضوع  
مادة: فن تصميم التواصل والوسائط المتعددة - شعبة الفنون التطبيقية

α

### FINALISATION (Technique libre)

- Choisissez votre conception finale
- Dessinez les **2 côtés** de votre dépliant : **recto** et **verso**.





# لا يكتب أي شيء في هذا الإطار

# لا يكتب أي شيء في هذا الإطار





الصفحة : 10 على 12

NS 47

الامتحان الوطني الموحد للبكالوريا - الدورة العادية 2022 - الموضوع  
مادة: فن تصميم التواصل والوسائط المتعددة - شعبة الفنون التطبيقية

α

## IMAGES À EXPLOITER



لا يكتب أي شيء  
في هذا الإطار

لا يكتب أي شيء  
في هذا الإطار




الصفحة : 11 على 12

NS 47

الامتحان الوطني الموحد للبكالوريا - الدورة العادية 2022 - الموضوع  
مادة: فن تصميم التواصل والوسائط المتعددة - شعبة الفنون التطبيقية

α

IMAGES À EXPLOITER



لا يكتب أي شيء  
في هذا الإطار

لا يكتب أي شيء  
في هذا الإطار



الصفحة : 12 على 12

NS 47

الامتحان الوطني الموحد للبكالوريا - الدورة العادية 2022 - الموضوع  
مادة: فن تصميم التواصل والوسائط المتعددة - شعبة الفنون التطبيقية

α

