

|                       |          |        |                                                                                                                                |
|-----------------------|----------|--------|--------------------------------------------------------------------------------------------------------------------------------|
| الاستاذ: الخلوفي      | الملاحظة | النقطة | الثانوية الإعدادية 20 غشت<br>المستوى: الثالثة ثانوي إعدادي<br>فرض محروس رقم: 1<br>الاسدس: الأول<br>الموسم الدراسي: 2016 - 2017 |
| الاسم الكامل: .....   |          | 20     |                                                                                                                                |
| الفوج: .....          |          |        |                                                                                                                                |
| الرقم الترتيبي: ..... |          |        |                                                                                                                                |
| الموضوع: 2 / 1        |          |        |                                                                                                                                |

## أولا : تعاريف وأسئلة موضوعية في مكون التربية على المواطنة (6 ن )

1- عرف (ي) المفاهيم والمصطلحات التالية تعريفا تاما . (3 ن )  
\*مشكل اجتماعي:

\* شبكة المعالجة:




\* مجلس التدبير:

2- صنف(ي) الاقتراحات التالية إلى حقوق و واجبات في الجدول أسفله.(3 ن)

— المشاركة في الحياة المدرسية — الاجتهاد في التحصيل — الإسهام النشيط الفردي والجماعي في القسم — الحصول على الدعم الكافي  
— الحماية من سوء المعاملة — العناية بالتجهيزات المدرسية.

| حقوق التلاميذ ( ات ) | واجبات التلاميذ ( ات ) |
|----------------------|------------------------|
| .....                | .....                  |
| .....                | .....                  |
| .....                | .....                  |
| .....                | .....                  |
| .....                | .....                  |

## ثانيا : الاشتغال على الوثائق في مكون الجغرافيا (7 ن )

|                                                                                                             |    |                                                                                                                            |                                                                                     |
|-------------------------------------------------------------------------------------------------------------|----|----------------------------------------------------------------------------------------------------------------------------|-------------------------------------------------------------------------------------|
| العنوان: .....                                                                                              |    | <b>المطلوب:</b>                                                                                                            |                                                                                     |
|  <p>دول جنوب الصحراء</p> |    | 1 - وطن (ي) على الخريطة بلدان المغرب الكبير والكيانات المجاورة له. (2 ن )                                                  |                                                                                     |
|                                                                                                             |    | 2- وطن (ي) على الخريطة - مستعينا بالمفتاح - مصادر الطاقة والمعادن ببلدان المغرب الكبير. (2 ن )                             |                                                                                     |
|                                                                                                             |    | 3 - - من خلال مكتسباتك بين (ي) كيف يُتيح تنوع الموارد الطبيعية إمكانية تحقيق تكامل اقتصادي بين بلدان المغرب الكبير. (2 ن ) |                                                                                     |
| المقياس: 1/200000                                                                                           |    |                                                                                                                            |                                                                                     |
|                                                                                                             |    | المفتاح:                                                                                                                   |                                                                                     |
| فوسفاط                                                                                                      | PH | بترول                                                                                                                      |  |
| حديد                                                                                                        | FE | غاز طبيعي                                                                                                                  |  |
|                                                                                                             |    | 4 - اقترح (ي) عنوانا مناسباً للخريطة. (1 ن )                                                                               |                                                                                     |

## ثالثا : سؤال مقالي في مكون التاريخ ( 7 ن )

### الموضوع الثاني

أدى ازدهار النظام الرأسمالي بأوروبا خلال ق 19م إلى حدوث انعكاسات واضحة على المجتمع الأوربي .  
اكتب (ي) موضوعا مقاليا ( مقدمة ، عرض ، خاتمة )  
تبرز (ين) فيه ما يلي:  
- مفهوم الرأسمالية.  
- آثار ازدهارها على المجتمع الأوربي خلال ق 19 م.

### الموضوع الأول

رافق تطور الرأسمالية الأوربية خلال ق 19م نمو حركة امبريالية واسعة .  
اكتب (ي) موضوعا مقاليا ( مقدمة ، عرض ، خاتمة )  
تبرز (ين) فيه ما يلي:  
- مفهوم الامبريالية.  
- دوافعها.  
- مبرراتها.

ملاحظة: تأخذ منهجية الاجابة وحسن تنظيم الورقة بعين الاعتبار أثناء عملية التصحيح

التوقيت