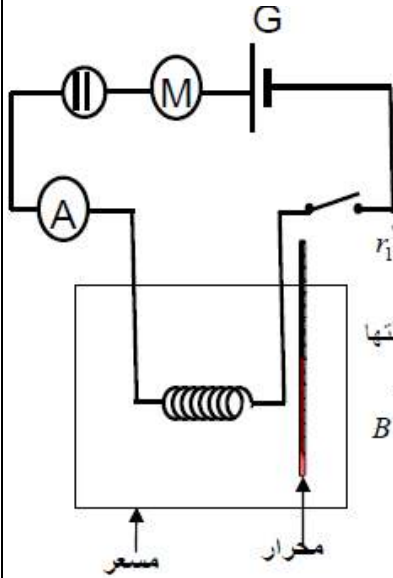


نعطى الصيغ الحرفية (مع الناظير) قبل التطبيقات العددية

❖ الفيزياء (12,50 نقطة) (75 دقيقة)

التنقيط

◀ التمرين الأول : توزيع وإنحفاظ الطاقة الكهربائية في دارة كهربائية (5,25 نقطة)



نعتبر التركيب التجريبي الممثل جانبه و المكون من :

● مولد قوته الكهرومحرقة $E = 50V$ و مقاومته الداخلية $r = 10\Omega$ ● موصل أومي مقاومته R ● محرك كهربائي M قوته الكهرومحرقة المضادة $E_1 = 12V$ و مقاومته الداخلية $r_1 = 16\Omega$ ● محلل كهربائي قوته الكهرومحرقة المضادة $E_2 = ?V$ و مقاومته الداخلية $r_2 = ?\Omega$ ● أمبير متر و مسعر كظيم سعته الحرارية $\mu = 140J.K^{-1}$ يحتوي على كمية من الماء كتلتها $m_1 = 138g$ وقطعة من الجليد كتلتها $m_2 = 10g$. درجة حرارة المجموعة $\theta = 0^\circ C$.1. أوجد E_2 و r_2 . علما الجزء المستقيمي من مميزات المحلل يمر من نقطتين A و B إحداثياتها $A (U_2=8V; I_2=1V)$ و $B (U_1=5V; I_1=0,5A)$

2.

1. نغلق قاطع التيار K عند اللحظة $t = 0$ فيشير الأمبير متر إلى القيمة $I = 500mA$

1.1 أعط أشكال القدرات التي تظهر بين مرطبي كل من تنائي القطب

1.2 بتطبيق قانون بوي أحسب المقاومة R 1.3 أوجد ρ مردود تنائي القطب المكون من المحلل الكهربائي و المحرك بدلالة ρ_1 مردود المحرك و ρ_2 مردود المحلل الكهربائي ثم احسب ρ

3.2 أوجد اللحظة التي ينصهر فيها الجليد بنسبة 40%.

4.2 تترك الدارة مغلقة لمدة زمنية $\Delta t = 10 \text{ min}$ فترتفع درجة حرارة المسعر و محتواه ب $\Delta \theta$ أوجد $\Delta \theta$ نعطي الحرارة الكتلية للماء $c_e = 4180Jkg^{-1}.K^{-1}$ و الحرارة الكامنة لانصهار الجليد $L_f = 335kJ.Kg^{-1}$

1 ن

0,75 ن

0,75 ن

1 ن

0,75 ن

1 ن

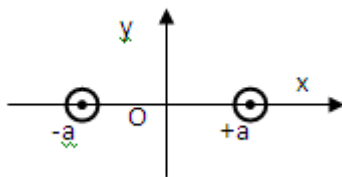
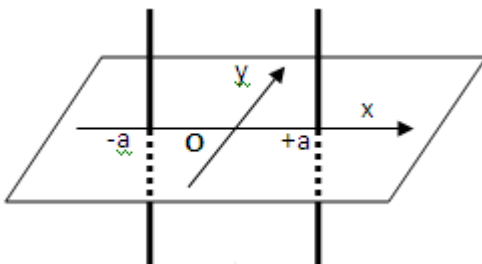
◀ التمرين الثاني : تراكب المجالات المغنطيسية (7,5 نقطة)

نعتبر سلكين موصلين مستقيمين و متوازيين , يمر فيهما تياران شدتهما متساويتان $I=10A$.و تفصلهما مسافة $2a=2cm$. نعطي $\mu_0 = 4\pi \cdot 10^{-7} (SI)$

1. الحالة (1): للتيارين نفس المنحى.

أ. ما مميزات متجهة المجال المغنطيسي الكلي \vec{B} في النقط التالية: $O(x=0; y=0)$ و $A(x=-2(cm); y=0)$ و $B(x=2(cm); y=0)$ ب. عم بالنسبة لنقطة $M(x; y=0)$. أعط الإحداثيتين B_x و B_y للمتجهة \vec{B} في النقطة M بدلالة x و a .

2. الحالة (2): نغير منحى التيار في سلك و نحتفظ بنفس المنحى في السلك الأخر.

أ. ما مميزات متجهة المجال المغنطيسي الكلي \vec{B} في النقط التالية: O و A و B 

2,5 ن

3,25 ن

1,5 ن

الجزء الأول : صيغ المركبات العضوية (1,50 نقط)

1. أتم الجدول التالي :

الكتابة الطبولوجية	الصيغة نصف المنشورة	الصيغة الإجمالية	اسم المركب
	C_2H_5 $CH_2 - CH_3$		
	$CH_3 - CH - CH - CH_3$		
			(E)-هكس-2-إن

1,5ن

الجزء الثاني : دراسة متماكبات الألكان الغازي (1,75 نقط)

نعتبر ألكانا غازيا كثافته بالنسبة للهواء هي : $d = 2,483$

1. أكتب الصيغة الإجمالية لهذا الألكان
2. اكتب الصيغ النصف المنشورة لمتماكبات هذا الألكان مع تحديد أسمائها
3. أجب بصحيح أم خطأ
 - الهيدروكربورات لا تذوب في الماء ولها كثافة أقل من الماء
 - متماكبات الوظيفة هي جزيئات تحتوي على نفس المجموعة المميزة وتختلف من حيث الصيغة الإجمالية

0,5ن

0,75ن

0,25ن

0,25ن

الجزء الثالث : تحديد الصيغة الإجمالية للمركب (4,25 نقط)

يعطي الإحتراق الكامل لمول واحد من هيدروكربور A صيغته الإجمالية C_xH_y خمسة مولات من ثنائي أكسيد الكربون وخمسة مولات من الماء .

1. اكتب معادلة هذا التفاعل
2. أوجد الصيغة الإجمالية لهذا الهيدروكربور ثم حدد المجموعات العضوية المحتملة التي ينتمي إليها هذا المركب
3. اكتب جميع الصيغ النصف المنشورة الممكنة للمركب العضوي A (8 متماكبات)
4. لتمييز هذا المركب أكثر، نضيف إليه ماء البروم ، فينعدم لون هذا الأخير و نحصل على مركب عضوي B ، إستنتج المجموعة التي ينتمي إليها المركب A
5. علما أن الهيدروكربور A يبرز تماكبا E/Z ، وإتضح أن A هو المتماكب Z ، أكتب صيغته نصف المنشورة وحدد إسمه

0,5ن

1 ن

2ن

0,25ن

0,5ن

حظ سميح للجميع

الله ولي التوفيق



من لم يسهره العلم أياما أسهره الجهل أعواما ...