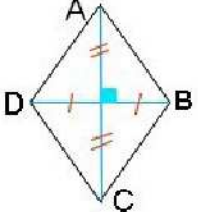
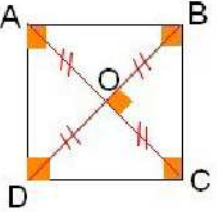
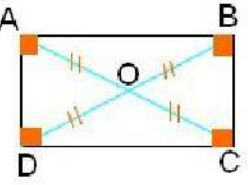


<p>أضلاع المعين متقايسة للمعين قطران متعامدان ينقاطعان في منتصفهما</p>	
<p>للمربع أربع زوايا قائمة وأضلاعه متقايسة للمربع قطران متعامدان و لهما نفس الطول ويتقاطعان في منتصفهما</p>	
<p>للمستطيل أربع زوايا قائمة للمستطيل قطران لهما نفس الطول ويتقاطعان في منتصفهما الضلعان المتقابلان في المستطيل متوازيان و متقايسان</p>	
<p>الضلعان المتقابلان في متوازي الأضلاع متوازيان و متقايسان لمتوازي الأضلاع قطران يتقاطعان في منتصفهما</p>	