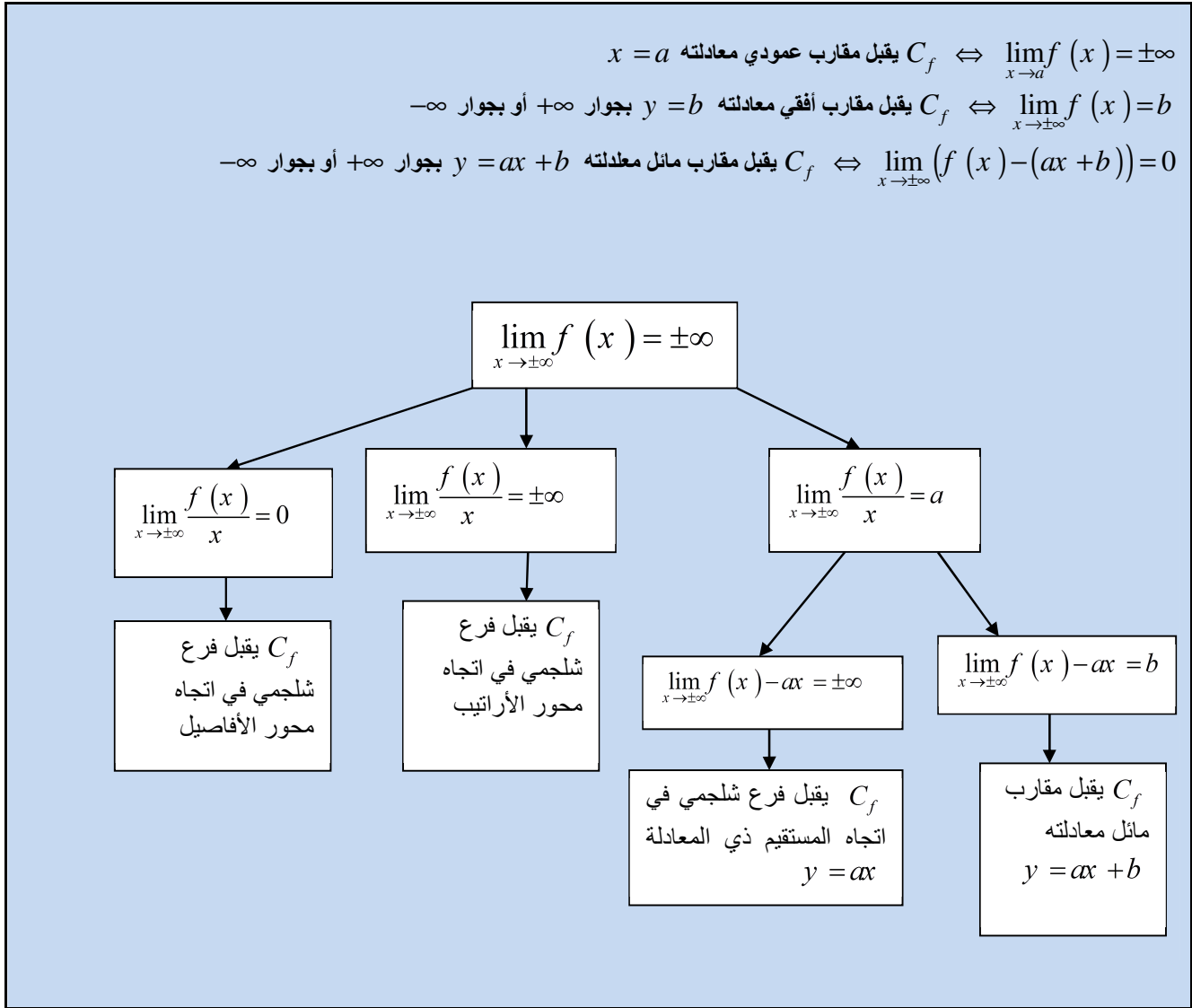


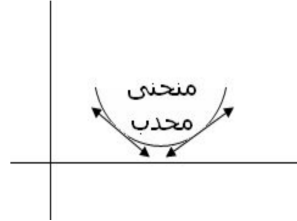
# دراسة الدوال و التمثيل المبياني

## 1. النهايات و الفروع اللانهائية:

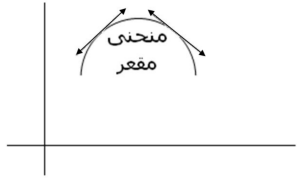


2. تقع منحنى و نقط الانعطاف:

✓ إذا كان  $f''(x) \geq 0 \forall x \in I$  فإن  $(C_f)$  محدب

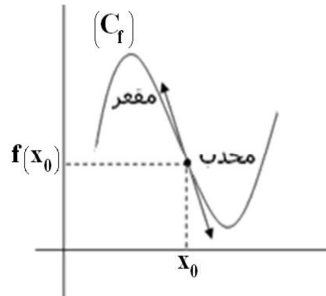


✓ إذا كان  $f''(x) \leq 0 \forall x \in I$  فإن  $(C_f)$  مقعر



✓ إذا كانت  $f''$  تتعدم و تغير إشارتها عند  $a$  فإن النقطة  $I(a, f(a))$  هي نقطة انعطاف

✓ إذا كانت  $f'$  تتعدم و لا تغير إشارتها عند  $a$  فإن النقطة  $I(a, f(a))$  هي نقطة انعطاف



3. مركز و محور تماثل  $(C_f)$  :

$$\begin{cases} \forall x \in D_f : 2a-x \in D_f \\ \forall x \in D_f : f(2a-x) = f(x) \end{cases} \Leftrightarrow (C_f) \text{ محور تماثل ل } x = a \text{ المعادلة المستقيم ذي المعادلة} \quad \diamond$$

$$\begin{cases} \forall x \in D_f : 2a-x \in D_f \\ \forall x \in D_f : f(2a-x) = 2b - f(x) \end{cases} \Leftrightarrow (C_f) \text{ مركز تماثل ل } \Omega(a,b) \text{ النقطة} \quad \diamond$$