

## الفصل الثاني:

# القوانين الإحصائية لانتقال الصفات الوراثية

## عند ثنائيات الصبغة الصبغية

### تمهيد:

تعتبر الكائنات الثنائية الصبغة نتيجة إخصاب لخلايا جنسية أحادية الصبغة الصبغية، الشيء الذي يعطي بيضة ثنائية الصبغة الصبغية تحتوي على أزواج من الصبغيات المتماثلة وبذلك توجد كل مورثة على شكل زوج من حليلين. فما هي القوانين التي تتحكم في انتقال الحليلات عبر أجيال هذه الكائنات؟

## 1 - دراسة انتقال زوج من الحليلات في حالة السيادة التامة: الهجونة الثنائية.

### ① تجارب Mendel وتأويلها الصبغي:.

### a - تجارب Mendel. أنظر نشاط 1، لوحة 1

#### اللوحة 1

### ① نشاط 1: تجربة ماندل ( 1822 – 1884 ) JOHANN GREGOR MENDEL .

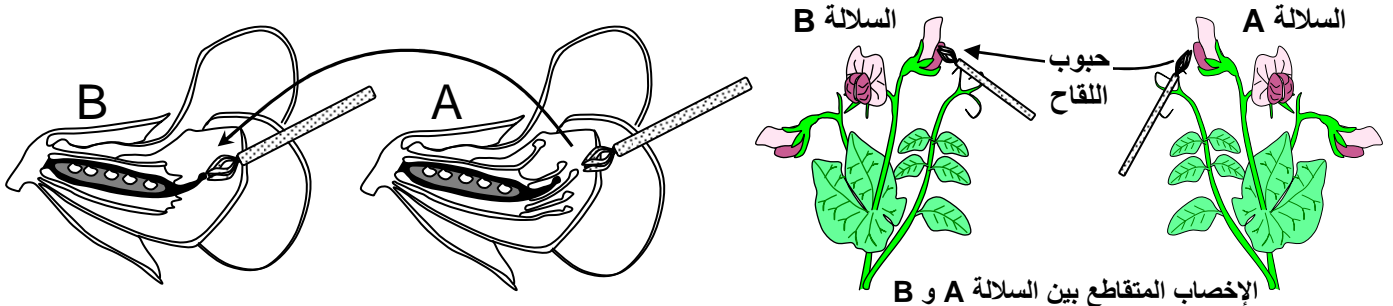
اختار Mendel لهذه الدراسة نبات الجلبانة الذي يظهر صفات متعارضة ( بذور صفراء أو خضراء، أزهار بيضاء أو بنفسجية، بذور ملساء أو متجعدة ) فقام بزراعة سلالتين نقيتين من نبات الجلبانة ، تتميز السلالة الأولى ببذور ملساء Graines lisses والسلالة الثانية ببذور متجعدة (Graines ridées). ولضمان الإخصاب المتبادل بين هاتين السلالتين منع Mendel الإخصاب الذاتي الذي يتم بصورة طبيعية قبل تفتح أزهار الجلبانة وذلك بقطع الأسدية Les étamines قبل نضجها في مستوى الأزهار المستقبلية لحبوب اللقاح من أزهار أخرى (أنظر الرسم أسفله).

نتج عن هذا التزاوج تشكل بذور كلها ملساء تكون الجيل الأول الذي سوف نرسم له بالحرف F1 . قام Mendel بإحداث تزاوج بين أفراد الجيل الأول ( F1 X F1 ) بنفس الطريقة السابقة فحصل على الجيل الثاني F2 مكون من 75 % من بذور ملساء ، و 25 % من بذور متجعدة . أنظر الوثيقة 1، لوحة 2. قام Mendel بعد ذلك بزراعة بذور الجيل F2 تاركا أزهارها تلقح ذاتيا. فحصل على النتائج التالية:

- ✓ البذور المتجعدة F2 تعطي 100 % من البذور المتجعدة.
- ✓ 25 % من البذور الملساء أفراد الجيل F2 تعطي 100 % من البذور الملساء.
- ✓ 50 % من البذور الملساء أفراد الجيل F2 يعطون 75 % من البذور الملساء و 25 % من البذور المتجعدة.

(1) ماذا تستنتج من تحليل نتائج تجربة ماندل ؟

(2) أعط التأويل الصبغي لنتائج تجربة ماندل، أخذا بعين الاعتبار معطيات الجدول أسفله حول الترميز :

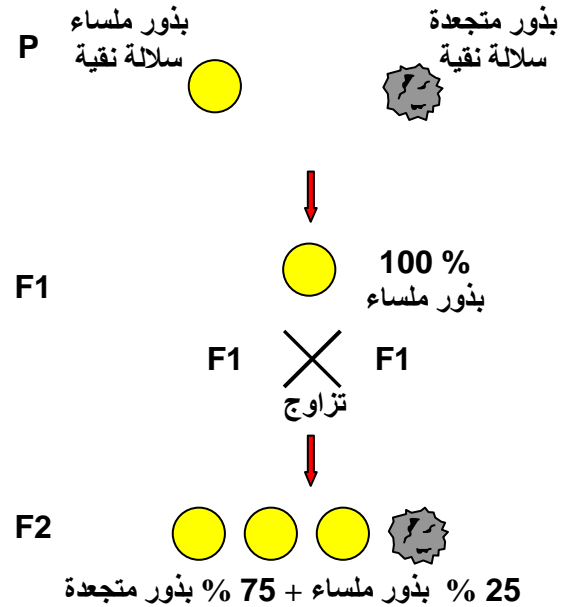
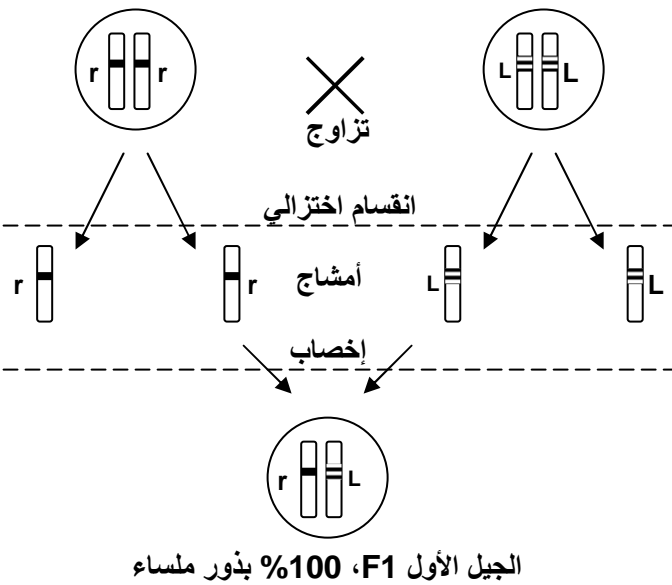


## معطيات حول الترميز

- ❖ نرسم للمظهر الخارجي لفرد ما بالحرف الأول اللاتيني من التسمية الفرنسية للصفة المدروسة. ويكتب هذا الحرف بين معقوفتين وبكتابة كبيرة Majuscule عندما تكون الصفة سائدة Dominante، وبكتابة صغيرة Minuscule عندما تكون الصفة متنحية Récessif.
- مثال: بذور ملساء [L] ، بذور متجعدة [r].
- ❖ نرسم للحليلات المسؤولة عن صفة ما كما هو الشأن بالنسبة للمظهر الخارجي بالحرف الأول اللاتيني من التسمية الفرنسية لهذه الصفة.
- ❖ نرسم للنمط الوراثي بالشكل التالي: L // L حيث يمثل الخطآن الزوج الصبغي الذي يحمل الحليلين كما نرسم لكل حليل بحرفه.
- مثال: النمط الوراثي للبذور المتجعدة هو: r // r و النمط الوراثي للبذور الملساء هو إما L // L أو L // r.
- ❖ تعريف بعض المفاهيم:
  - ★ السلالة النقية: تكون السلالة نقية بالنسبة لصفة معينة، عندما تنتقل هذه الصفة من جيل إلى آخر دون تغيير.
  - ★ السلالة المتوحشة: السلالة ذات الصفة المرجعية الأكثر حضورا في الطبيعة.
  - ★ التهجين: تزاوج طبيعي أو اصطناعي بين حيوانات أو نباتات من أنواع أو سلالات مختلفة، ينتج عنه أفراد هجاء.
  - ★ المظهر الخارجي: هو الشكل الظاهر أو المعبر عنه لصفة معينة.
  - ★ النمط الوراثي: حليلات المورثة المتحكم في الصفة المدروسة، وعند ثنائيات الصيغة الصبغية تكون كل مورثة ممثلة بحليلين، حليل على كل صبغي من الصبغيات المتماثلة. وهكذا يكون الفرد إما متشابه الاقتران عندما يكون الحليلان متشابهان، أو مختلف الاقتران، عندما يكون الحليلان مختلفان.

### اللوحة 2

الوثيقة 1: نتائج دراسة انتقال الصفة شكل البذور عند نبات الجلبانة والتأويل الصبغي لنتائج التزاوج الأول.



### b - تحليل نتائج تجارب Mendel.

- ★ يعطي التزاوج الأول بين الآباء P، الجيل الأول F1 مكون من أفراد متجانسون ويشبهون في المظهر الخارجي الأب ذي الشكل الأملس، مع غياب الشكل متجعد.

★ عند التزاوج الثاني ( F1 X F1 )، يظهر جيل ثاني F2، مكون من أفراد غير متجانسين (25% متجعدة + 75% أملس). هذا يعني أن أفراد الجيل الأول F1 كانت تحمل الشكل متجعد ولكنه لم يظهر إلا في الجيل الثاني F2. هذا يعني أن الفرد الهجين F1 يحمل العاملين الوراثيين المسؤولين عن المظهرين الخارجيين المتعارضين.

نستنتج من هذا أن الشكل أملس سائد Dominant، بينما الشكل متجعد متحي Récessif.

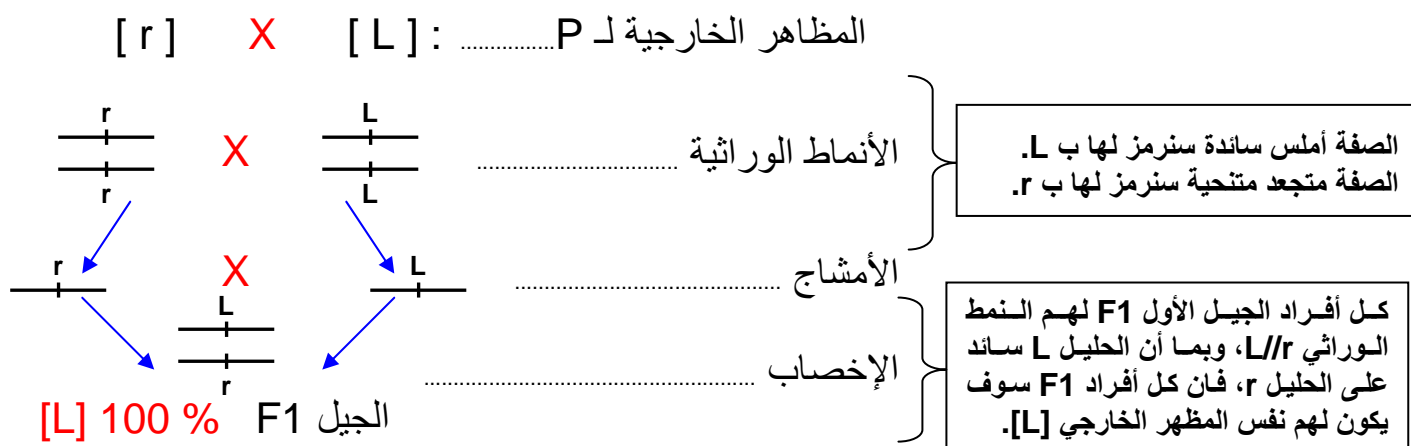
### c - استنتاج: القانون الأول لـ Mendel.

نسمي هذا القانون قانون تجانس الهجاء :

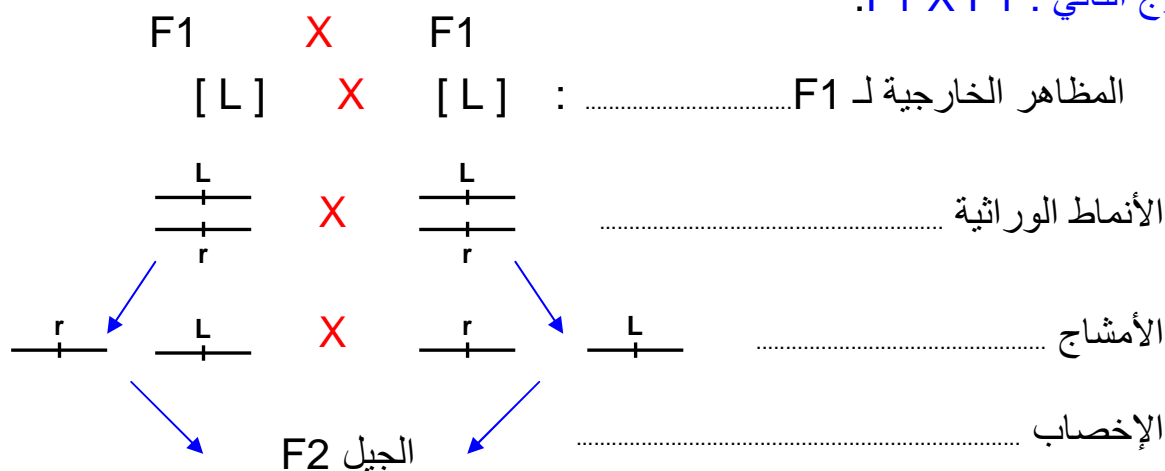
في حالة تزاوج سلالتين نقيتين تختلفان بصفة واحدة، نحصل في الجيل الأول F1 على أفراد متجانسة ذات صفة الأب السائدة.

### d - التأويل الصبغي لنتائج أعمال Mendel.

★ التزاوج الأول : عند الآباء P



★ التزاوج الثاني : F1 X F1



في F2 يمكن تلخيص إمكانية الإخصاب، في جدول ذي مدخلين، يسمى شبكة التزاوج L'échiquier de croisement. حيث يكتب في المدخل العمودي، مختلف أصناف الأمشاج الأنثوية ونسبها، وفي المدخل الأفقي، مختلف أصناف الأمشاج الذكرية ونسبها.

50% $\frac{r}{r}$	50% $\frac{L}{L}$	♂ / ♀
25% $\frac{L}{r}$	25% $\frac{L}{L}$	$\frac{L}{r}$ 50%
25% $\frac{r}{r}$	25% $\frac{L}{r}$	$\frac{r}{r}$ 50%

## e - استنتاج: القانون الثاني لـ Mendel.

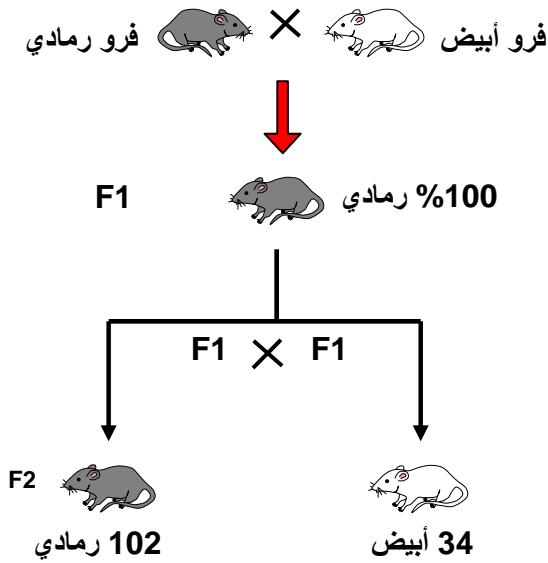
نسمي هذا القانون قانون نقاوة الأمشاج :

أثناء تشكل الأمشاج يفترق العاملان الوراثيان اللذان يحملان الصفتين المتعارضتين، فيحتوي كل مشيج على أحد حليلي المورثة، اذن هو نقى.

## ② انتقال صفة لون الفرو عند الفئران:

a - معطيات تجريبية. أنظر تمرين 1، لوحة 2.

### اللوحة 2



### ★ تمرين 1 :

لدينا سلالتين نقيتين من الفئران تختلفان بلون الفرو، أحدهما ذو فرو أبيض والثاني ذو فرو رمادي. يعطي التزاوج بين فئران إحداهما رمادية والأخرى بيضاء (سلالة الآباء P)، خلفا متجانسا مكون فقط من فئران رمادية اللون (الجيل الأول F1).  
نقوم بتزاوج أفراد F1 مع بعضها فنحصل على الجيل الثاني F2 يتكون من فئران رمادية وفئران بيضاء. (أنظر الوثيقة أمامه)

- 1) حدد نمط التزاوج المنجز.
- 2) عرف السلالة النقية.
- 3) حلل النتائج المحصل عليها في F1 و في F2.
- 4) فسر صبغيا النتائج المحصل عليها في كل من F1 و F2.

من أجل التأكد من نقاوة سلالة الفئران ذات اللون الرمادي نقوم بإجراء تزاوج بين فرد رمادي و فرد آخر أبيض فنحصل على خلف يضم 50% من الفئران رمادية و 50% من الفئران بيضاء.

- 5) ماذا نسمي هذا النوع من التزاوج؟ ماذا تستنتج من تحليل نتيجة هذا التزاوج؟

## b - تحليل نتائج التزاوج.

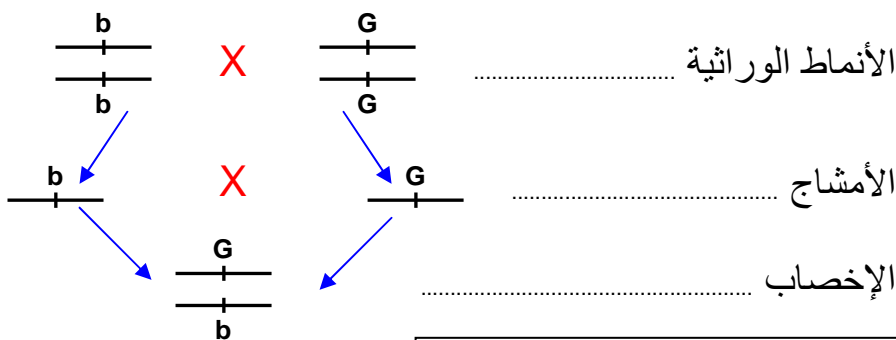
- 1) لقد تم التزاوج بين أفراد من نفس النوع، ينتمون لسلالتين نقيتين، تختلفان في صفة واحدة. اذن نمط التزاوج هو عبارة عن هجونة أحادية.
- 2) تكون السلالة نقية بالنسبة لصفة معينة، عندما تنتقل هذه الصفة إلى الخلف بدون تغير عبر أجيال متعددة. ونفسها بوجود حليلين متشابهين بالنسبة للمورثة المرتبطة بتلك الصفة.

3) إن جميع أفراد الجيل F1 متجانسون فيما بينهم، ويشبهون في المظهر الخارجي الأب ذي اللون الرمادي. اعتمادا على القانون الأول لـ Mendel نستنتج أن صفة اللون رمادي صفة سائدة، بينما الصفة لون أبيض صفة متنحية.

نلاحظ كذلك أن الصفة أبيض ظهرت لدى أفراد الجيل F2، ولم تكن تظهر عند الجيل F1، نستنتج أن أفراد الجيل F1 يحملون الحليل المسؤول عن الصفة أبيض، ولا يظهر عندهم لكونه حليل متنحي.

4) التفسير الصبغي لنتائج التزاوج:  
بما أن رمادي سائد سنرمز له بـ G، وأبيض متنحي سنرمز له بـ b.

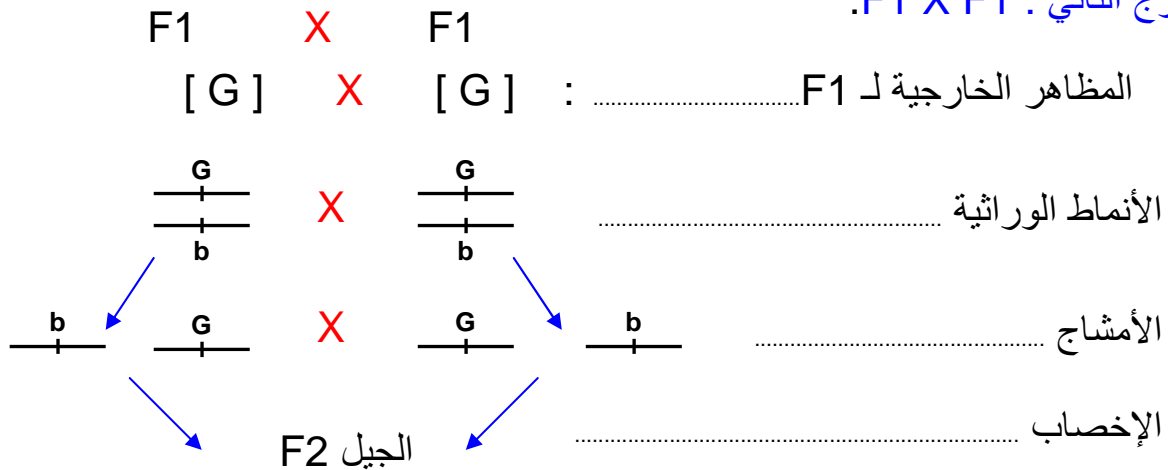
★ التزاوج الأول : عند الآباء P المظاهر الخارجية لـ P : [ G ] × [ b ]



الجيل F1 100% [L]

كل أفراد الجيل الأول F1 لهم النمط الوراثي G//b، وبما أن الحليل G سائد على الحليل b، فإن كل أفراد F1 سوف يكون لهم نفس المظهر الخارجي [G].

★ التزاوج الثاني : F1 X F1



شبكة التزاوج

50% $\frac{b}{-}$	50% $\frac{G}{-}$	♂ / ♀
25% $\frac{G}{-}$ b	25% $\frac{G}{-}$ G	$\frac{G}{-}$ 50%
25% $\frac{b}{-}$ b	25% $\frac{G}{-}$ b	$\frac{b}{-}$ 50%

يتكون الجيل الثاني F2 من :  
المظاهر الخارجية: [G] 75% + [b] 25%  
الأنماط الوراثية: 25% بنمط وراثي b//b  
50% بنمط وراثي G//b  
25% بنمط وراثي G//G

5) نسمي هذا النوع من التزاوج بالتزاوج الاختباري Test Cross، وهو تزاوج يتم بين فرد ذي مظهر خارجي سائد ونمط وراثي غير معروف، وفرد ذي مظهر خارجي متنح أي متشابه الاقتران بالنسبة للصفة المدروسة.

في هذا التزاوج، يرتبط المظهر الخارجي للخلف بنمط الأمشاج التي ينتجها الأب ذو المظهر الخارجي السائد. وبذلك نجد حالتين:

◀ **الحالة الأولى:** إذا كان النمط الوراثي للأب ذو المظهر السائد هو  $G//G$ ، فسوف ينتج نمطا واحدا من الأمشاج  $G/$ ، وبالتالي نحصل عند الخلف على  $100\% G//b$ . أي  $100\%$  فئران رمادية.

◀ **الحالة الثانية:** إذا كان النمط الوراثي للأب ذو المظهر السائد هو  $G//b$ ، فسوف ينتج نمطين من الأمشاج  $G/$  و  $b/$ ، وبالتالي نحصل عند الخلف على  $50\% G//b + 50\% b//b$ . أي  $50\%$  فئران بيضاء +  $50\%$  فئران رمادية.

نلاحظ أن نتيجة هذا التزاوج الاختباري هي  $50\%$  فئران بيضاء +  $50\%$  فئران رمادية. نستنتج ادن أن الفأر الرمادي مختلف الاقتران  $G//b$ .

## II - دراسة انتقال زوج من الحليلات في حالة تساوي السيادة.

① **التهجين عند نبات شب الليل** أنظر تمرين 2، لوحة 2.

اللوحة 2

☆ **تمرين 2:**

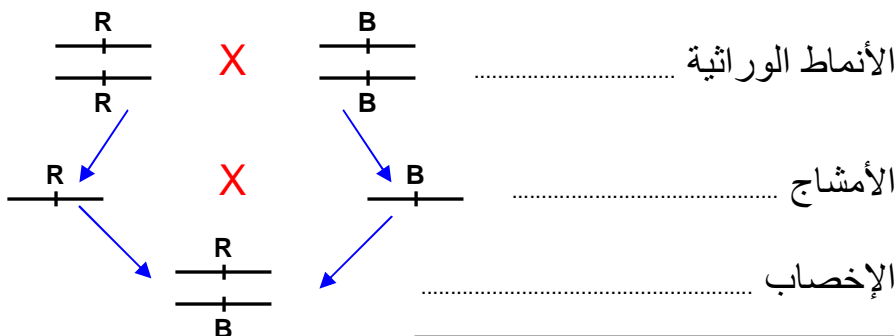
نقوم بتزاوج سلالتين نقيتين من شب الليل La belle de nuit إحداهما ذات أزهار حمراء Rouge والأخرى ذات أزهار بيضاء Blanche. فنحصل على نباتات هجينة ذات أزهار وردية Rose تمثل الجيل الأول F1.  
1) حلل هذه النتائج. ماذا تستنتج؟  
يعطي تزاوج نباتات F1 فيما بينها جيل ثاني F2 غير متجانس ومكون من  $25\%$  نباتات ذات أزهار بيضاء و  $25\%$  نباتات ذات أزهار حمراء و  $50\%$  نباتات ذات أزهار وردية.  
2) فسر صبغيا النتائج المحصل عليها في F1 و في F2.

### ② تحليل نتائج التزاوج:

إن أفراد الجيل F1 متجانسون، إلا أن صفتهم لا تشبه أي صفة من صفات الوالدين، بل هي صفة وسيطة بين صفتي الأبوين. نستنتج من هذا أن هناك غياب للسيادة أو نقول كذلك تساوي السيادة.  
1) التفسير الصبغي لنتائج التزاوج: نرسم للأحمر ب R، والأبيض ب B.

★ **التزاوج الأول: عند الآباء P**

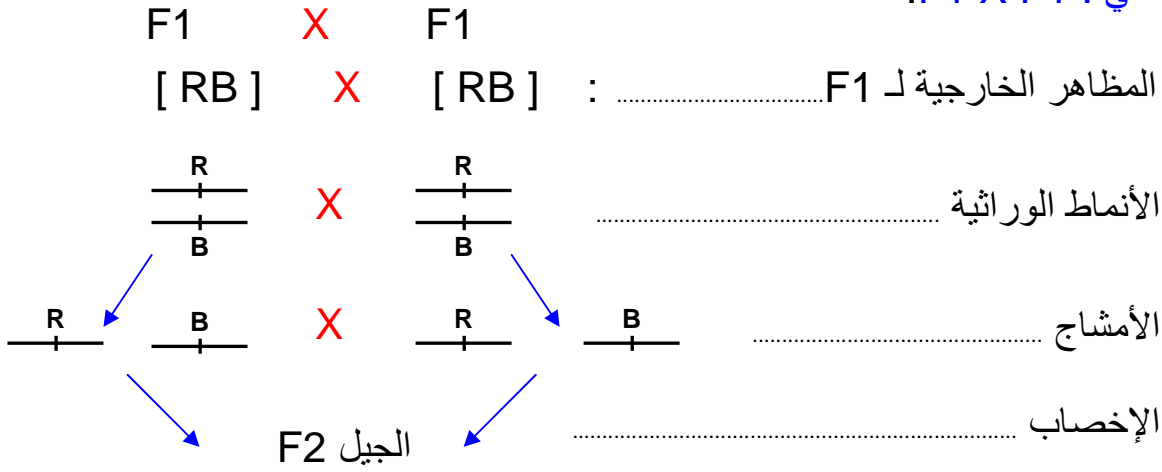
المظاهر الخارجية لـ P: [ R ] X [ B ] : .....



الجيل F1  $100\%$  [L]

كل أفراد الجيل الأول F1 لهم النمط الوراثي  $R//B$ ، وبما أن هناك تساوي السيادة، فإن كل أفراد F1 سوف يكون لهم نفس المظهر الخارجي [RB].

## ★ التزاوج الثاني : F1 X F1.



### شبكة التزاوج

50% $\frac{B}{-}$	50% $\frac{R}{-}$	♂ / ♀
25% $\frac{R}{-}$ 25% $\frac{B}{-}$	25% $\frac{R}{-}$ 25% $\frac{R}{-}$	$\frac{R}{-}$ 50%
25% $\frac{B}{-}$ 25% $\frac{B}{-}$	25% $\frac{R}{-}$ 25% $\frac{B}{-}$	$\frac{B}{-}$ 50%

يتكون الجيل الثاني F2 من :  
المظاهر الخارجية: [B] 25 % + [R] 25 %  
[ RB ] 50 % +  
الأنماط الوراثية: 25 % بنمط وراثي R//R.  
+ 50 % بنمط وراثي R//B.  
+ 25 % بنمط وراثي B//B.

### III - دراسة انتقال زوج من الحليلات في حالة المورثة المميّنة.

① التهجين عند الفئران أنظر تمرين 3، لوحة 2.

#### اللوحة 2

#### تمرين 3:

نقوم بتزاوج سلالتين من فئران صفراء Jaune هجينة. فنحصل على خلف غير متجانس يضم: 202 فأر أصفر و 98 فأر رمادي Gris.

- (1) ماذا يمكنك القول عن الصفة لون رمادي والصفة لون أصفر؟ علل جوابك؟
- (2) أحسب نسبة الأنماط المحصل عليها. ماذا تلاحظ؟
- (3) فسر صبغياً هذه النتائج علماً أنه لوحظ في رحم الأم فئران صفراء مميّنة

#### ② تحليل نتائج التزاوج:

(1) إن ظهور فئران رمادية عند الخلف، يدل على أن الحليل المسؤول عن هذه الصفة كان عند الآباء ولم يظهر عندهم. يمكننا القول إذن أن صفة لون رمادي صفة متنحية وصفة لون أصفر صفة سائدة.

(2) نسب الأنماط المحصل عليها:

بما أننا في حالة سيادة تامة، فالنسب المتوقعة هي 25 % مظهر خارجي متنحي + 75 % مظهر خارجي سائد.

نسبة الفئران الصفراء هي :  $( 98 + 202 ) / 100 * 202 = 67.33 \%$  يعني 2/3

نسبة الفئران الرمادية هي :  $( 98 + 202 ) / 100 * 98 = 32.66 \%$  يعني 1/3

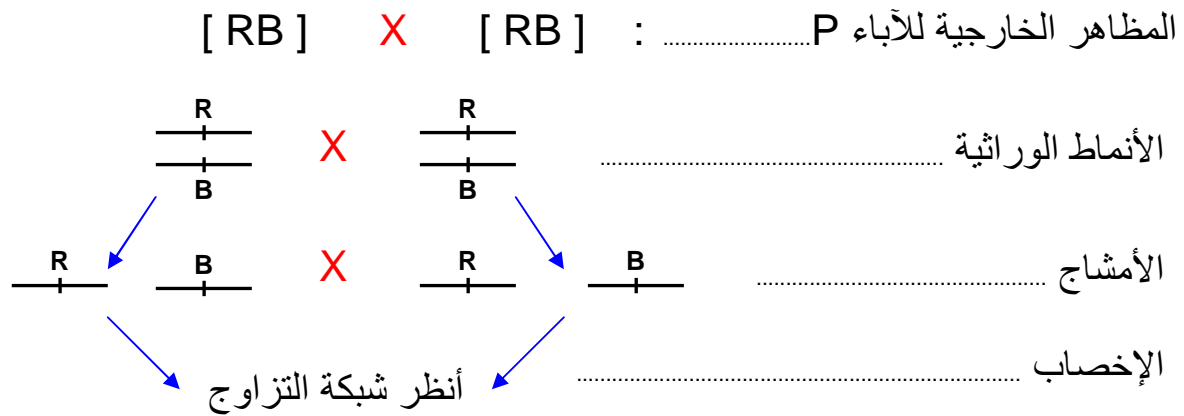
نلاحظ أن هذه النسب تخالف النسب المحصل عليها عند F2 في حالة السيادة التامة.

الأستاذ : يوسف الأندلسي

الصفحة : - 89 -

3) التأويل الصبغي لنتائج التزاوج:  
المظهر الخارجي لصفة اللون أصفر هو [ J ] . و المظهر الخارجي لصفة اللون أصفر هو [ g ] .

التأويل الصبغي للتزاوج [ g ] X [ J ] .



شبكة التزاوج

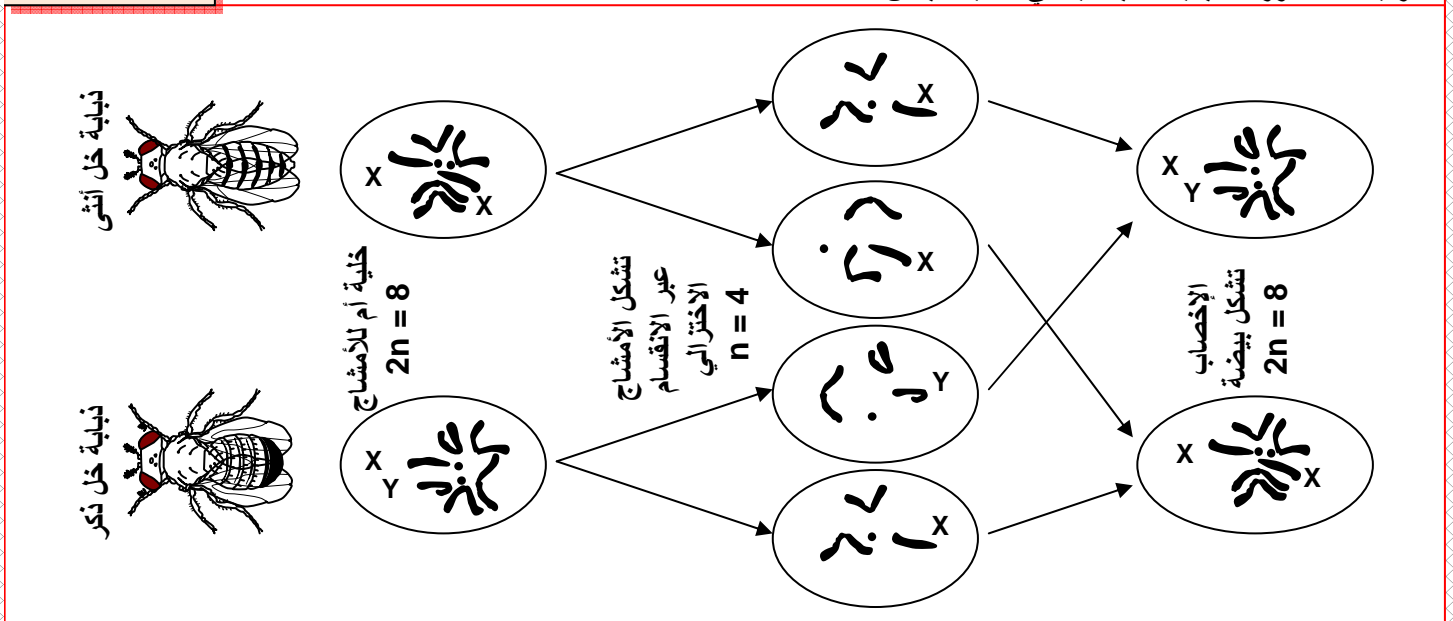
50% $\frac{g}{g}$	50% $\frac{J}{J}$	♂
25% $\frac{J}{g}$	<del>25% <math>\frac{J}{J}</math></del>	♀ 50% $\frac{J}{J}$
25% $\frac{g}{g}$	25% $\frac{J}{g}$	50% $\frac{g}{g}$

إن تشابه الاقتران بالنسبة للحليلين السائدين j//j يؤدي إلى موت هذه الفئران، وهذا ما يفسر وجود فئران مميّة في رحم الأم، و يفسر أن ثلث الفئران ذات لون رمادي، و الثلث الآخر بلون أصفر. نتكلم في هذه الحالة عن مورثة مميتة G.létale.

#### IV - دراسة انتقال زوج من الحليلات في حالة مورثة مرتبطة بالجنس. (أنظر الوثيقة 1، لوحة 3).

الوثيقة 1 : دور الصبغيات الجنسية في تحديد الجنس

اللوحة 3





إن ملاحظة الخريطة الصبغية لكائن ثنائي الصيغة الصبغية يبين أن النواة تحتوي على أزواج من الصبغيات المتماثلة، تشكل الصبغيات اللاجنسية، بالإضافة إلى صبغيات جنسية. عند الذكر يكون الصبغيات الجنسية مختلفين فنقول أنه متغاير الأمشاج ونرمز له ب XY. عند الأنثى يكون الصبغيات الجنسية متشابهين فنقول أنه متشابه الأمشاج ونرمز له ب XX. ( في بعض الحالات الأنثى هي التي تكون متغايرة الأمشاج كحالة الطيور والأسماك )

### ① انتقال صفة مرتبطة بالجنس عند ذبابة الخل أنظر تمرين 4، لوحة 3.

#### اللوحة 3

#### تمرين 4:

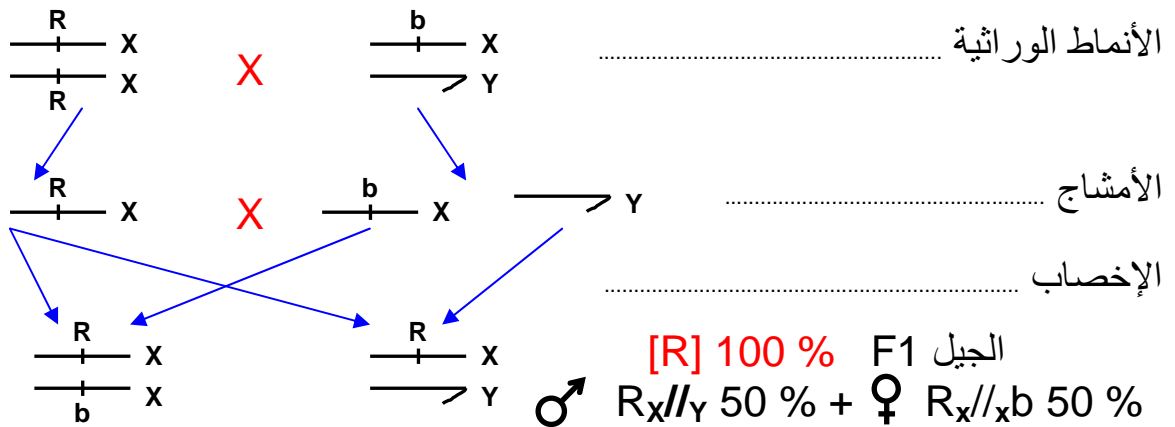
ننجز تزاوجات بين سلالتين نقيتين من ذباب الخل تختلفان بلون العيون، الأولى متوحشة ذات عيون حمراء Rouge وسلالة طافرة ذات عيون بيضاء Blanche.   
 ★ التزاوج الأول: تم بين أنثى ذات عيون حمراء وذكر ذو عيون بيضاء فحصلنا في الجيل الأول F1 على أفراد كلهم بعيون حمراء.   
 (1) ماذا تستخلص من نتائج هذا التزاوج؟   
 ★ التزاوج الثاني: تزاوج عكسي Croisement réciproque تم بين أنثى ذات عيون بيضاء وذكر ذو عيون حمراء. فحصلنا   
 على جيل F1 مكون من 50% إناث بعيون حمراء و 50% ذكور بعيون بيضاء.   
 (2) حلل هذه النتائج؟ ماذا تستنتج؟   
 (3) أعط تفسيراً صبغياً للنتائج المحصل عليها.

### ② تحليل نتائج التزاوج:

(1) في التزاوج الأول نلاحظ أن كل أفراد الجيل الأول F1 متجانسون ولهم الصفة عيون حمراء. طبقاً للقانون الأول لـ Mendel نستنتج أن الحليل المسؤول عن الصفة أحمر سائد (R)، وبالتالي فالحليل أبيض متنحي (b).   
 (2) يعطي التزاوج العكسي جيل F1، يتكون من أفراد غير متجانسين، كما نلاحظ أن المظهر الخارجي لأفراد هذا الجيل يختلف حسب الجنس. نستنتج إذن أن الأمر يتعلق بمورثة مرتبطة بالصبغيات الجنسية. وبما أن الصفة "لون العيون" تظهر عند كل من الذكور والإناث، فإن هذه المورثة يحملها الصبغي الجنسي X.   
 (3) التفسير الصبغي للنتائج المحصل عليها:

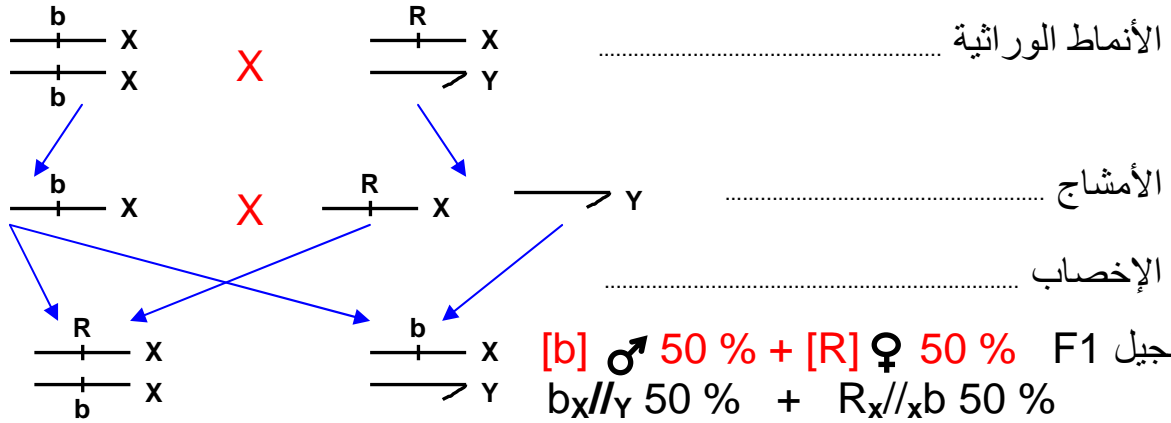
#### ★ التزاوج الأول:

المظاهر الخارجية لـ P : ذكور بعيون بيضاء [b] X إناث بعيون حمراء [R]

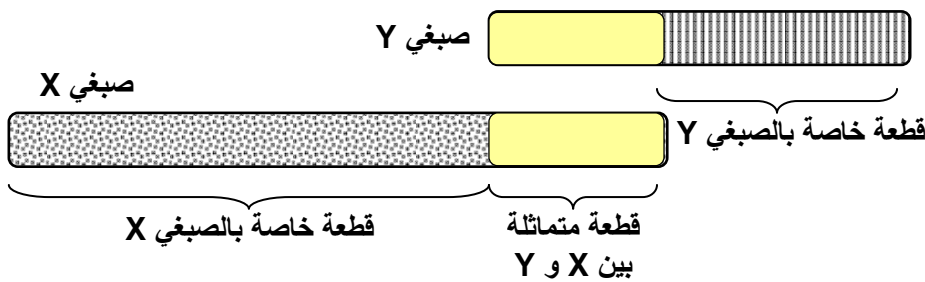


## ★ التزاوج الثاني = التزاوج العكسي :

المظاهر الخارجية لـ P : ذكور بعيون حمراء [R] X إناث بعيون بيضاء [b]



## ملاحظة:



يمكن تفسير انتقال الصفات الوراثية المرتبطة بالجنس بكون المورثات المسؤولة عن هذه الصفات تتموضع على جزء الصبغي الجنسي X الذي ليس له مماثل على الصبغي Y. أو على جزء الصبغي Y الذي ليس له مقابل على X.

ادن التموضعات الممكنة للمورثة عند الصبغي الجنسي:

- على الجزء المميز للصبغي X : المورثة ممثلة بحليلين عند الأنثى وبحليل واحد عند الذكر.
- على الجزء X الذي له مماثل في الصبغي Y : المورثة ممثلة بحليلين عند الأنثى، و بحليلين عند الذكر. تخضع لنفس قوانين الصفة غير المرتبطة بالجنس.
- على الجزء المميز للصبغي Y : المورثة ممثلة بحليل واحد عند الذكر، وغير ممثلة بأي حليل عند الأنثى. ادن صفة خاصة بالذكور.

## V - دراسة انتقال زوجين من الحيليات: الهجونة الثنائية.

نتكلم عن الهجونة الثنائية إذا كان التزاوج بين أفراد ينتمون لسلاطين نقيتين تختلفان في صفتين. وفي هذه الحالة فالمورثتين إما أن تكونان على نفس الصبغي فننتكلم عن مورثات مرتبطة، Les gènes liés. وإما أن تكونان على صبغيين مختلفين فننتكلم عن مورثات مستقلة Les gènes indépendants .

### ① حالة المورثات المستقلة:

#### أ - الهجونة الثنائية عند نبات الجلبانة.

a - تمرين أنظر التمرين 5، لوحة 3.

#### اللوحة 3

قام Mendel بتزاوج سلالتين نقيتين من نبات الجلبانة تختلفان بصفتين، شكل ولون البذرة: الأولى ملساء Lisse وصفراء Jaune. والسلالة الثانية متجعدة Ridée وخضراء Verte. فحصل في الجيل الأول F1 على بذور كلها ملساء و صفراء.

تمرين 5:

- (1) ماذا نسمي هذا النوع من التزاوج ؟
- (2) حل هذه النتائج، ماذا تستنتج من ذلك ؟

قام Mendel بزراعة بذور من F1 وترك الأزهار تتلقح ذاتيا . وبعد الإثمار جني بذور الجيل F2 فصل على 556 بذرة تتوزع كالتالي:

★ 315	بذرة صفراء وملساء	★ 101	بذرة خضراء وملساء
★ 108	بذرة صفراء ومتجعدة	★ 32	بذرة خضراء ومتجعدة

- (3) أحسب النسب المئوية المحصل عليها في الجيل F2.  
 (4) فسر صبغيا نتائج F1 و F2 ، مستعملا الرموز: أخضر (V,v) ، أصفر (J,j) ، أملس (L,l) ، متجدد (R,r) .

### b - حل التمرين:

(1) تم التزاوج بين فردين من سلالتين نقيتين تختلفان بصفتين اثنتين، يتعلق الأمر ادن بالهجونة الثنائية.

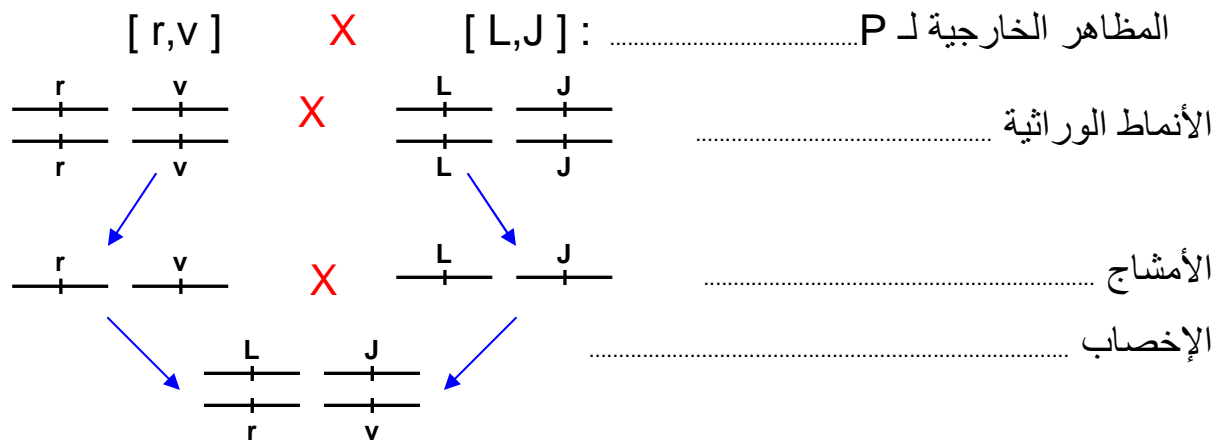
(2) نلاحظ أن أفراد الجيل الأول F1 متجانسون، ويشبهون في مظهرهم الخارجي الأب ذو الشكل الأملس واللون الأصفر. نستنتج ادن أن الصفة أملس سائدة على متجدد، وأصفر سائد على أخضر. وهكذا نكتب الحليلات كما يلي: أملس L، أصفر J، متجدد r، وأخضر v.

(3) حساب النسب المئوية عند F2:  
 نلاحظ أن الجيل F2 غير متجانس ويضم أربعة مظاهر خارجية. مظهران يشبهان المظاهر الخارجية للآباء: [L,J] و [r,v]، ومظهران خارجيان جديان: [L,v] و [r,J].

- |  |   |  |
|--|---|--|
| <p>مظاهر أبوية</p> <p>مظاهر جديدة</p> <p>التركيب</p> | } | ● نسبة المظهر الخارجي [L,J] : $(315 / 556) \cdot 100 = 56.6 \%$  |
|  |   | ● نسبة المظهر الخارجي [r,v] : $(32 / 556) \cdot 100 = 5.75 \%$   |
|  |   | ● نسبة المظهر الخارجي [L,v] : $(101 / 556) \cdot 100 = 18.16 \%$ |
|  |   | ● نسبة المظهر الخارجي [r,J] : $(108 / 556) \cdot 100 = 19.4 \%$  |

لا يمكن تفسير ظهور صفات جديدة إلا بالافتراق المستقل للحليلات أثناء تشكل الأمشاج.

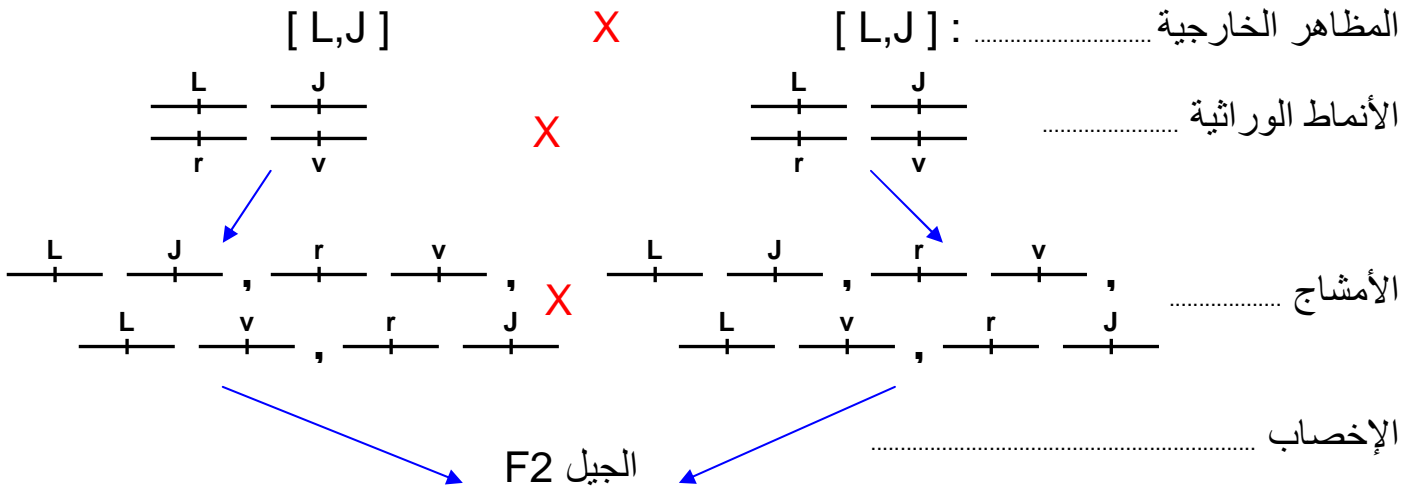
(4) التأويل الصبغي لنتائج التزاوج:  
 ★ التزاوج الأول : عند الآباء P



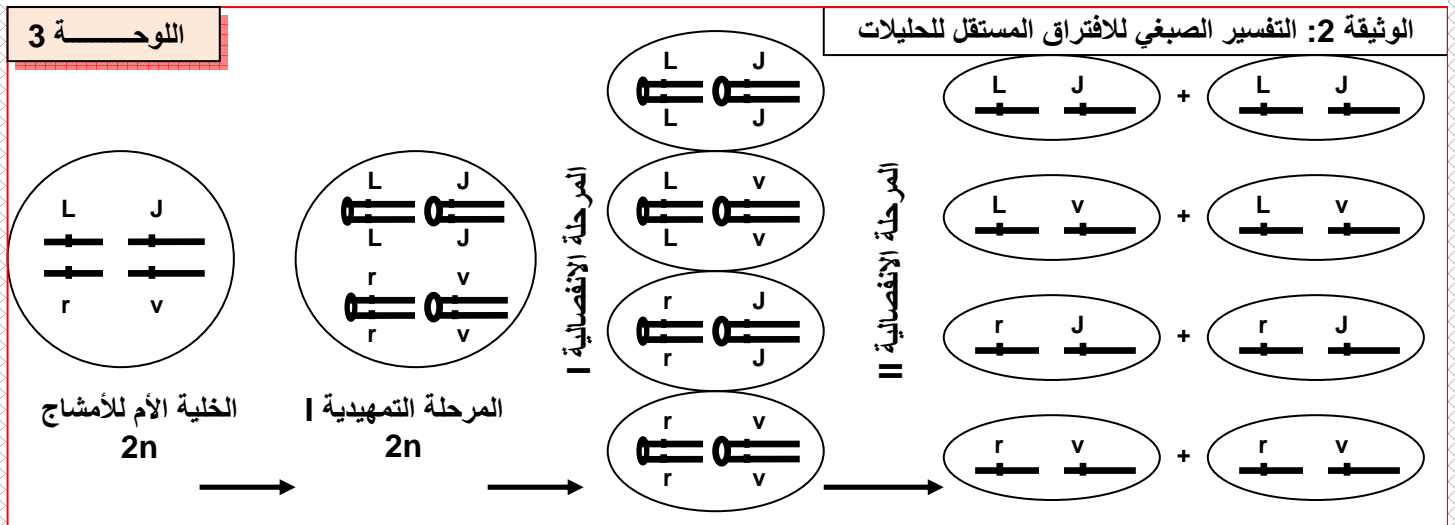
الجيل F1 100% [L,J]

كل أفراد الجيل الأول F1 لهم النمط الوراثي L/r, J/v ، وبما أن L و V سائدين، فإن كل أفراد F1 سوف يكون لهم نفس المظهر الخارجي [L,J].

## ★ التزاوج الثاني : F1 X F1



بفعل التخليط البيصبغي ينتج كل فرد هجين من الجيل F1 أربعة أنواع من الأمشاج بنسب متساوية: 1/4 لكل نوع، مشيجان أبيان بنسبة 50 % و مشيجان جديدا التركيب بنسبة 50 % . (أنظر الوثيقة 2، لوحة 3).



شبكة التزاوج : أنظر الوثيقة 1، لوحة 4:

في الجيل الثاني F2 نحصل على المظاهر الخارجية التالية:

- أفراد لهم المظهر الخارجي [ L,J ] ، يشكلون 9/16 من F2 أي 56.25 % .
- أفراد لهم المظهر الخارجي [ L,v ] ، يشكلون 3/16 من F2 أي 18.75 % .
- أفراد لهم المظهر الخارجي [ r,J ] ، يشكلون 3/16 من F2 أي 18.75 % .
- أفراد لهم المظهر الخارجي [ r,v ] ، يشكلون 1/16 من F2 أي 6.25 % .

شبكة التزاوج				اللوحة 4					
r	v	r	J	L	v	L	J	♂	♀
r	v	r	J	L	v	L	J	L	J
r	v	r	J	L	v	L	J	L	v
r	v	r	J	L	v	L	J	r	J
r	v	r	J	L	v	L	J	r	v

### c - القانون الثالث لـ Mendel:

يسمى هذا القانون: قانون استقلالية أزواج الحليلات. أثناء تشكل الأمشاج وأثناء المرحلة الانفصالية، يمكن لكل فرد من زوج صبغي معين أن يجتمع بأحد فردي الزوج الصبغي الآخر. وينتج عن هذا أن كل عنصر من زوج حليلي معين، يمكنه أن يجتمع بأحد عنصري الزوج الحليلي الآخر، وهذا ما يسمى بالافتراق المستقل للحليلات.

### ب - الهجونة الثنائية عند ذبابة الخل

a - تمرين أنظر التمرين 6، لوحة 4.

### اللوحة 4

### تمرين 6:

نقوم بتزاوج سلالتين نقيتين من ذبابة الخل الأولى ذات جسم رمادي Gris وأجنحة طويلة Longues. والثانية ذات جسم أسود حالك Eben وأجنحة أثرية Véstigiales. نحصل في الجيل الأول F1 على 182 ذبابة خل رمادية ذات أجنحة طويلة.

(1) حلل نتائج هذا التزاوج. ماذا تستنتج؟

نقوم بعد ذلك بتزاوج ثاني بين ذبابة خل من الجيل الأول F1 و ذبابة خل ذات جسم أسود حالك وأجنحة أثرية. فنحصل على النتائج التالية

★ 492 ذبابة خل رمادية اللون و ذات أجنحة طويلة ★ 509 ذبابة خل سوداء حالكة وذات أجنحة طويلة  
★ 515 ذبابة خل رمادية اللون وذات أجنحة أثرية ★ 487 ذبابة خل سوداء حالكة وذات أجنحة أثرية

(2) كيف نسمي هذا النوع من التزاوج؟ وما هي الغاية منه؟

(3) أحسب النسب المئوية للأنواع المحصل عليها في F2. ماذا تستنتج؟

(4) فسر صبغيا نتائج هذا التزاوج الثاني. مستعملا الرموز: رمادي (G,g)، أسود (E,e)، طويلة (L,l)، أثرية (V,v).

## b - حل التمرين:

- (1) نلاحظ أن أفراد الجيل الأول F1 متجانسون ويشبهون في مظهرهم الخارجي الأب ذو الجسم الرمادي والأجنحة الطويلة. اذن طبقا للقانون الأول لـ Mendel نستنتج أن :
- الحليل المسؤول عن صفة اللون رمادي سائد على الحليل أسود.
  - الحليل المسؤول عن صفة الأجنحة طويلة سائد على الحليل أثرية.
- سنرمز لرمادي ب (G)، وأسود ب (e). سنرمز طويلة ب (L)، وأثرية ب (v)
- (2) نسمي هذا النوع من التزاوج بالتزاوج الراجع، لأنه تم بين فرد هجين F1 و أب P متتحي. الغاية منه هو التحقق من الانفصال المستقل لزوجي الحليلين.

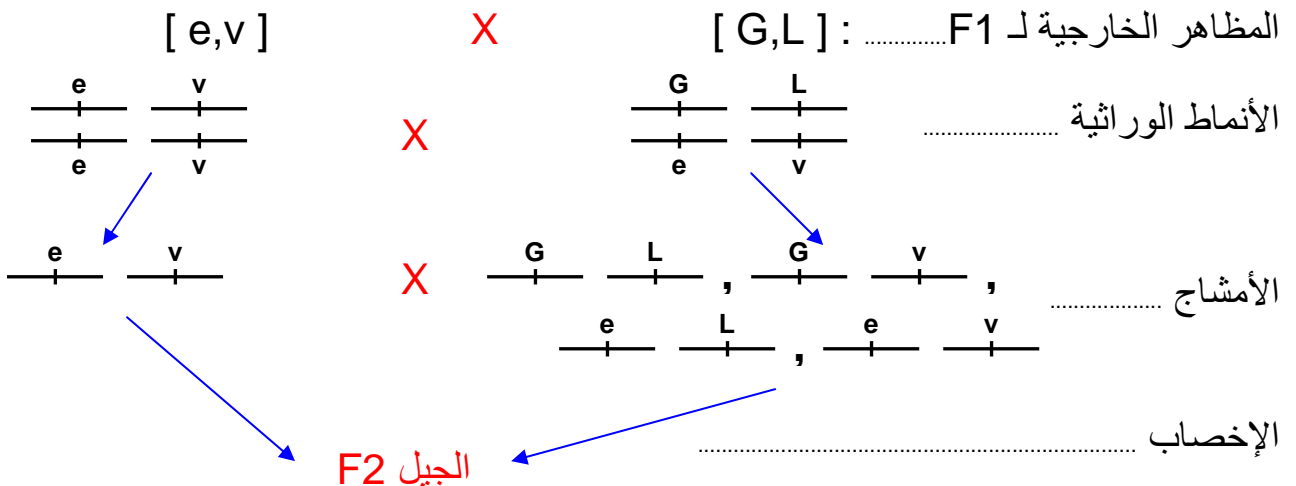
(3) حساب النسب المئوية المحصل عليها في F2:

- المظهر الخارجي (رمادية، أجنحة طويلة):  $24.56\% = 100 \cdot (492 / (487 + 509 + 515 + 492))$
- المظهر الخارجي (سوداء، أجنحة طويلة) :  $25.41\% = 100 \cdot (509 / 2003)$
- المظهر الخارجي (رمادية، أجنحة أثرية) :  $25.71\% = 100 \cdot (515 / 2003)$
- المظهر الخارجي (سوداء، أجنحة أثرية) :  $24.31\% = 100 \cdot (487 / 2003)$

إن الفرد الثنائي التتحي [ e,v ]، لا ينتج سوى نمط واحد من الأمشاج ( e,v/ )، وبالتالي فالمظهر الخارجي لأفراد الخلف F2 سيعكس النمط الوراثي للأمشاج التي أنتجها الفرد الهجين. ومنه نستنتج هل المورثات مستقلة أم مرتبطة.

تدل النسب المحصل عليها في F2: ( 25 % + 25 % + 25 % + 25 % ) على أنه خلال تشكل الأمشاج عند الفرد الهجين، يجتمع كل حليل من زوج حليلي معين بلا تمييز مع أحد حليلي الزوج الحليلي الآخر. نستنتج من ذلك أن الحليلان ( G,e ) و ( L,v ) محمولان على زوجين مختلفين من الصبغيات. أي أن المورثات مستقلة.

(4) التأويل الصبغي لنتائج التزاوج:



				شبكة التزاوج
$\frac{e}{-} \quad \frac{v}{-}$ 1/2	$\frac{e}{-} \quad \frac{L}{-}$ 1/2	$\frac{G}{-} \quad \frac{v}{-}$ 1/2	$\frac{G}{-} \quad \frac{L}{-}$ 1/2	$\frac{\text{♂}}{\text{♀}}$
$\frac{e}{-} \quad \frac{v}{-}$ 1/4	$\frac{e}{-} \quad \frac{L}{-}$ 1/4	$\frac{G}{-} \quad \frac{v}{-}$ 1/4	$\frac{G}{-} \quad \frac{L}{-}$ 1/4	$\frac{e}{-} \quad \frac{v}{-}$ 1/2

نحصل في F2 على  $[ e,v ] 25 \% + [ e,L ] 25 \% + [ G,v ] 25 \% + [ G,L ] 25 \%$ .  
نلاحظ أن النتائج النظرية تطابق النتائج التجريبية، اذن المورثات مستقلة.

## ② حالة المورثات المرتبطة:

### أ - التهجين عند ذبابة الخل.

a - تمرين أنظر التمرين 7، لوحة 4.

#### اللوحة 4

#### تمرين 7

نقوم بتزاوج سلالتين نقيتين من ذبابة الخل تختلفان بزوجين من الصفات . الأولى ذات أجنحة عادية Normal و عيون حمراء Rouge والأخرى ذات أجنحة مقورة Tronqué و عيون بنية Brun .  
نحصل في الجيل الأول F1 على خلف متجانس ذو مظهر خارجي بأجنحة عادية و عيون حمراء.

(1) ماذا تستنتج من تحليل هذه النتائج؟

نقوم بتزاوج ثاني بين أنثى هجينة من F1 وذكر ثنائي التحي، فحصلنا في الجيل الثاني F2 على :

★ 400 ذبابة خل ذات أجنحة مقورة و عيون بنية ★ 109 ذبابة خل ذات أجنحة عادية و عيون بنية  
★ 111 ذبابة خل ذات أجنحة مقورة و عيون حمراء ★ 410 ذبابة خل ذات أجنحة عادية و عيون حمراء

(2) ماذا نسمي هذا النوع من التزاوج و ما هي الغاية منه ؟

(3) حدد نسب الأفراد المحصل عليها في F2 . ماذا تستنتج؟

(4) أعط تفسيراً صبغياً لهذه النتائج.

نقوم بتزاوج ثالث بين أنثى ذات أجنحة مقورة و عيون بنية مع ذكر F1 ذو أجنحة عادية و عيون حمراء. فحصلنا على الجيل F'2 مكون من:

★ 170 ذبابة خل ذات أجنحة عادية و عيون حمراء ★ 175 ذبابة خل ذات أجنحة مقورة و عيون بنية.

(5) حدد نسب الأفراد المحصل عليها في F'2 . ماذا تلاحظ؟

(6) كيف تفسر هذه النتيجة ؟

### b - حل التمرين:

(1) نلاحظ أن الجيل الأول F1 متجانس ويشبه في مظهره الخارجي الأب ذو أجنحة عادية و عيون حمراء. طبقاً للقانون الأول لـ Mendel نستنتج أن أجنحة عادية سائد على أجنحة مقورة، و عيون حمراء سائد على عيون بنية.

نرمز لأجنحة عادية و عيون حمراء بـ [ N,R ] وأجنحة مقورة و عيون بنية بـ [ t,b ].

(2) نسمي هذا النوع من التزاوج بالتزاوج الراجع BackCross، والغاية منه هو التحقق من الانفصال المستقل للحليلات.

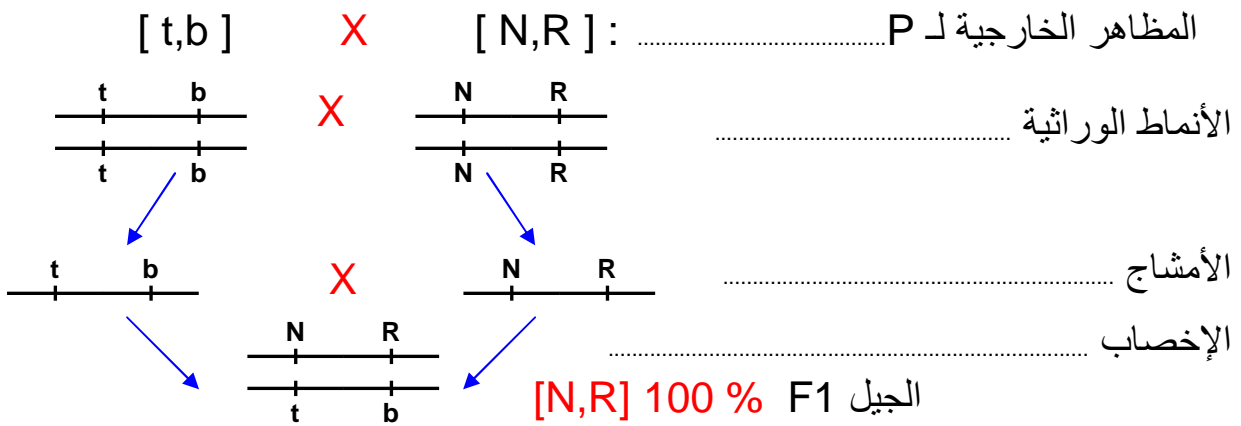
### (3) النسب المئوية للأنواع المحصل عليها في F2:

- نسبة المظهر الخارجي [ N,R ] هي:  $39.81 \% = 100.(410/(410+400+111+109))$
- نسبة المظهر الخارجي [ t,b ] هي:  $38.83 \% = 100.(400/1030)$
- نسبة المظهر الخارجي [ N,b ] هي:  $10.58 \% = 100.(109/1030)$
- نسبة المظهر الخارجي [ t,R ] هي:  $10.78 \% = 100.(111/1030)$

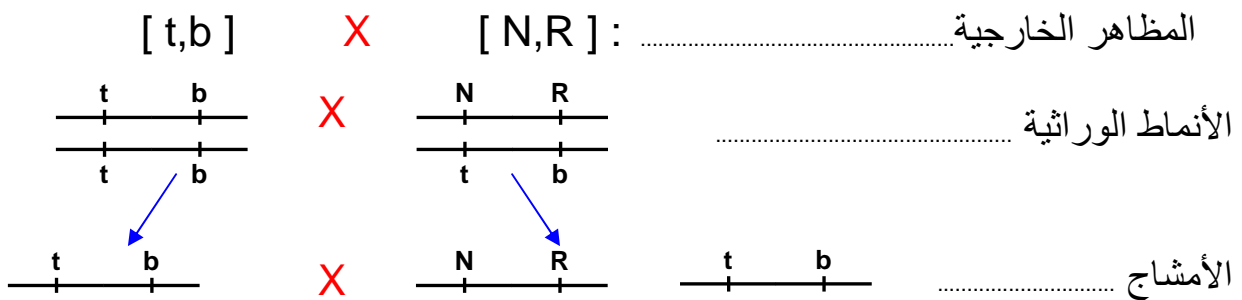
نلاحظ أن هذه النتائج تخالف القانون الثالث لـ Mendel ( قانون الافتراق المستقل للحليلات ) إذ لا نحصل على أربعة مظاهر خارجية بنسب متساوية، بل نحصل على مظهرين خارجيين أوبيين [ N,R ] ، [ t,b ] بنسب كبيرة، ومظاهر خارجية جديدة التركيب [ N,b ] ، [ t,R ] بنسب ضعيفة. هذا يدل على عدم الافتراق المستقل للحليلات، وهو ما يعني أن المورثتين مرتبطتين.

### (4) التأويل الصبغي لنتائج التزاوجات :

#### ★ التزاوج الأول : عند الآباء P .



#### ★ التزاوج الثاني : التزاوج الرابع.



$\frac{t}{t} \frac{b}{b}$ 50 %	$\frac{N}{N} \frac{R}{R}$ 50 %	♀
$\frac{t}{t} \frac{b}{b}$ 50 %	$\frac{N}{t} \frac{R}{b}$ 50 %	♂
$\frac{t}{t} \frac{b}{b}$ 50 %	$\frac{t}{t} \frac{b}{b}$ 50 %	$\frac{t}{t} \frac{b}{b}$ 100 %

الإخصاب يعطي الجيل F2، أنظر شبكة التزاوج

نلاحظ أن النتائج النظرية تخالف النتائج التجريبية حيث نحصل في F2 على مظاهر خارجية أبوية فقط، ( [ N,R ] ، [ t,b ] ) .

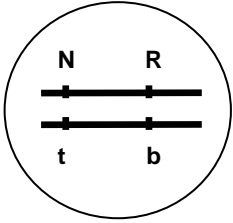


إن ظهور مظاهر خارجية جديدة التركيب في F2، يفسر بافتراض وجود تركيبات جديدة في أمشاج الأنثى الهجينة، وذلك لحدوث تبادل أجزاء صبغية بين الصبغيات المتماثلة خلال الانقسام الاختزالي. (أنظر الوثيقة 1، لوحة 5). وبالتالي تكون شبكة التزاوج على الشكل التالي:

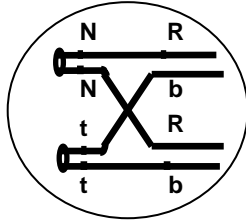
الوثيقة 1 : كيفية إنتاج الأمشاج عند أنثى ذبابة الخل الهجينة

اللوحة 5

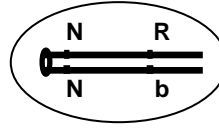
الخلية الأم للأمشاج  
2n



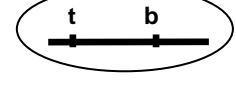
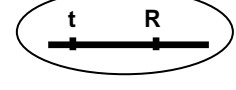
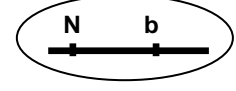
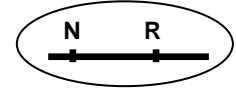
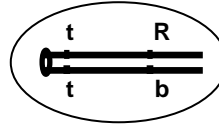
المرحلة التمهيديّة I  
2n



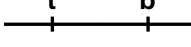
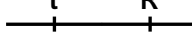
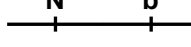
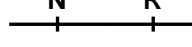





المرحلة الانفصالية I



المرحلة الانفصالية II



أمشاج أحادية الصبغة  
الصبغية

 25 %	 25 %	 25 %	 25 %	♀ / ♂
 25 %	 25 %	 25 %	 25 %	 100 %

- (5) التزاوج الثالث هو تزاوج عكسي، لنحسب نسب المظاهر الخارجية في F2:
- نسبة مظهر الخارجي [ N,R ] هي :  $49.27 \% = 100 \cdot (170 / (170 + 175))$
  - نسبة مظهر الخارجي [ t,b ] هي :  $50.73 \% = 100 \cdot (175 / (170 + 175))$

نلاحظ أن هذا التزاوج يعطي فقط مظهر خارجية أبوية بنسبة  $50 \% + 50 \%$

(6) تفسر هذه النتيجة بكون الذكر الهجين أنتج فقط أمشاجاً أبوية، ولم ينتج الأمشاج الجديدة التركيب، وذلك لعدم حدوث العبور الصبغي خلال تشكل الأمشاج عند ذكر ذبابة الخل.

ب - التهجين عند نبات الطماطم.

a - تمرين أنظر التمرين 8، لوحة 5.

اللوحة 5

تمرين 8: نقوم بتزاوج سلالتين نقيتين من الطماطم، تختلفان بزوجين من الصفات . الأولى سهلة الجني وحساسة لطفيلي stemphyllium والأخرى صعبة الجني ومقاومة لهذا الطفيلي. نحصل في الجيل الأول F1 على خلف متجانس يتكون من طماطم صعبة الجني ومقاومة للطفيلي.  
(2) ماذا تستنتج من تحليل هذه النتائج؟

نقوم بتزاوج ثاني بين طماطم ثنائية التنحي وطماطم هجينة من F1، فحصلنا في الجيل الثاني F2 على :

- ★ 39 % من الطماطم سهلة الجني وحساسة للطفيلي. ★ 11 % من الطماطم سهلة الجني ومقاومة للطفيلي
- ★ 11 % من الطماطم صعبة الجني وحساسة للطفيلي ★ 39 % من الطماطم صعبة الجني ومقاومة للطفيلي

(2) ماذا نسمي هذا النوع من التزاوج وما هي الغاية منه ؟

(3) ماذا تستنتج من النسب المحصل عليها في F2 . ؟

(4) أعط تفسيراً صبغياً لهذه النتائج.

## b - حل التمرين: تمرين منزلي.

### ج - خلاصة:

بالإضافة إلى التخليط البيصبغي الذي تخضع له الحليلات أثناء الانقسام الاختزالي، تساهم ظاهرة العبور الصبغي بانجاز تخليط إضافي لهذه الحليلات ( تخليط ضمصبغي ) مما يؤدي إلى تكون أمشاج متنوعة وراثيا، ويؤدي الالتقاء العشوائي لهذه الأمشاج إلى تنوع وراثي كبير بين أفراد الجيل.

## VI - قياس المسافة بين مورثتين.

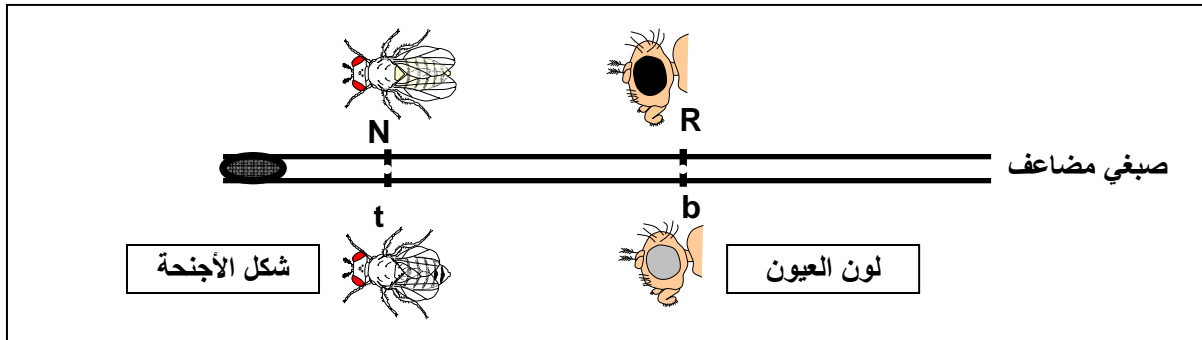
① العلاقة بين نسبة التركيبات الجديدة والمسافة بين مورثتين: أنظر نشاط 4 لوحة 5.

### ④ نشاط 4: قياس المسافة بين مورثتين ووضع الخريطة العاملية ( La carte factorielle ).

تقديم : لقد لاحظ العالم الأمريكي Thomas Hunt Morgan أنه في حالة تزاوج سلالتين تختلفان بصفتين في حالة مورثتين مرتبطين، فإن نسبة التركيبات الجديدة الناتجة عن هذا التزاوج تكون دائما ثابتة. انطلاقا من هذه الملاحظة افترض Morgan أن موقع المورثة فوق الصبغي يكون دائما ثابتا . فوضع علاقة بين نسبة التركيبات الجديدة ونسبة احتمال حدوث عبور صبغي. إذ كلما كبرت المسافة بين مورثتين إلا وارتفعت نسبة احتمال حدوث العبور و بالتالي ارتفعت نسبة التركيبات الجديدة. لقياس هذه المسافة نستعمل وحدة (CMg) : (Centimorgan) ، بحيث أن  $1 \text{ CMg} = 1\%$  من التركيبات الجديدة. وهكذا فالمسافة الفاصلة بين مورثتين a و b هي  $d(a-b)$ .

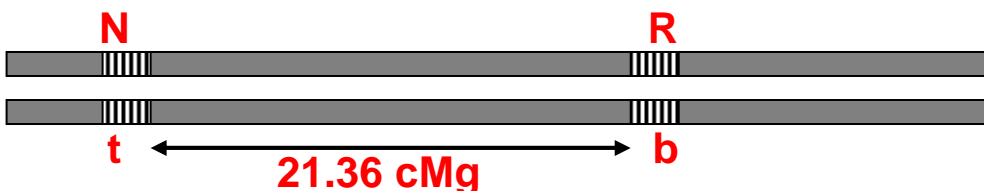
$$100 \times \frac{\text{عدد الأفراد ذوي التركيبات الجديدة}}{\text{العدد الإجمالي للأفراد}} = d(a-b)$$

باستثمار هذه المعطيات و معطيات التمرين 7 لوحة 4 ، أحسب المسافة بين المورثتين لون العيون وشكل الأجنحة  $d(N - R)$



انطلاقا من معطيات التمرين 7، لوحة 4، نحسب المسافة بين المورثتين لون العيون وشكل الأجنحة  $d(R,N)$

$$d(R,N) = \frac{\text{عدد الأفراد ذوي التركيبات الجديدة}}{\text{العدد الإجمالي للأفراد}} \times 100 = \frac{109 + 111}{1030} \times 100 = 21.36 \text{ cMg}$$



## ② دراسة مثال عند الطماطم:

a - تمرين أنظر التمرين 9، لوحة 6.

اللوحة 6

☆ تمرين 9:

تم التزاوج بين سلالتين نقيتين من الطماطم، سلالة ( SM ) ذات أوراق خضراء وقد عادي وثمار ملساء، مع سلالة ( M ) ذات أوراق مبقةة بالأصفر وقد قصير وثمار ناعمة. نحصل على جيل أول F1 متجانس بأوراق خضراء وقد عادي وثمار ملساء. ويعطي التزاوج الراجع بين نبتة هجينة F1 ونبتة من السلالة ( M ) النتائج التالية:

417 *	نبتة ذات أوراق خضراء وقد عادي وثمار ملساء
425 *	نبتة ذات أوراق مبقةة وقد قصير وثمار ناعمة
16 *	نبتة ذات أوراق خضراء وقد عادي وثمار ناعمة
3 *	نبتة ذات أوراق خضراء وقد قصير وثمار ملساء
55 *	نبتة ذات أوراق خضراء وقد قصير وثمار ناعمة
59 *	نبتة ذات أوراق مبقةة وقد عادي وثمار ملساء
5 *	نبتة ذات أوراق مبقةة وقد عادي وثمار ناعمة
20 *	نبتة ذات أوراق مبقةة وقد قصير وثمار ملساء

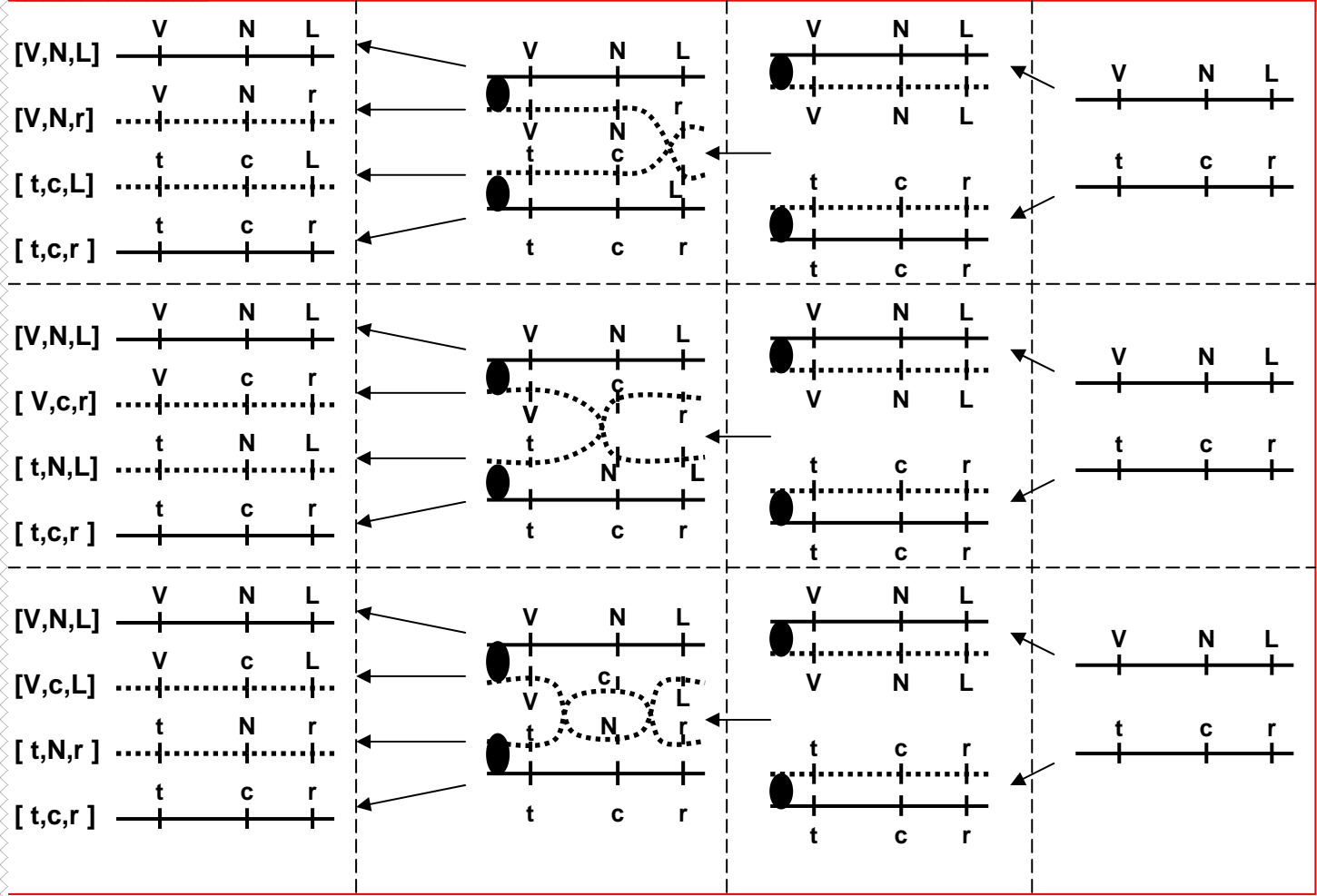
- 1) ماذا تستنتج من تحليل نتائج التزاوج الأول؟
- 2) باستعمال الرموز التالية: قد عادي ( N,n )، أوراق خضراء ( V,v )، ثمار ملساء ( L,l )، قد قصير ( C,c )، أوراق مبقةة ( T,t )، ثمار ناعمة ( R,r ). حدد المظاهر الخارجية المحصل عليها في الجيل الثاني F2، مع حساب نسبة كل مظهر.
- 3) ماذا تستنتج من نتيجة التزاوج الراجع؟ وكيف تفسر ظهور التركيبات الجديدة عند نبات الطماطم؟
- 4) احسب المسافة بين المورثات المدروسة.
- 5) أنجز الخريطة العائلية La carte factorielle بالنسبة للمورثات الثلاث.

## b - حل التمرين:

- 1) لقد تم التزاوج بين سلالتين نقيتين تختلفان بثلاث صفات وراثية، نتكلم ادن عن الهجونة الثلاثية. نلاحظ أن كل أفراد الجيل الأول F1 متجانسون ويشبهون في مظهرهم الخارجي الأب ذو قد عادي، أوراق خضراء، وثمار ملساء. واعتمادا على القانون الأول لماندل فإن الصفات قد عادي، أوراق خضراء، وثمار ملساء سائدة على الصفات قد قصير، أوراق مبقةة، وثمار ناعمة.
- 2) المظاهر الخارجية المحصل عليها في الجيل الثاني F2 هي:

مظاهر أبوية بنسبة % 84.2	{	41.7 % = 100.(417/1000)	[ V,N,L ] بنسبة
		42.5 % = 100.(425/1000)	[ t , c , r ] بنسبة
مظاهر جديدة التركيب بنسبة % 15.8	{	1.6 % = 100.(16/1000)	[ V,N ,r ] بنسبة
		0.3 % = 100.(3/1000)	[ V,c,L ] بنسبة
		5.5 % = 100.(55/1000)	[ V,c,r ] بنسبة
		5.9 % = 100.(59/1000)	[ t,N,L ] بنسبة
		0.5 % = 100.(5/1000)	[ t,N,r ] بنسبة
		2 % = 100.(20/1000)	[ t,c,L ] بنسبة

نلاحظ أن نسبة المظاهر الخارجية الأبوية كبيرة جدا بالمقارنة مع المظاهر الخارجية الجديدة التركيب. نستنتج من هذا أن المورثات مرتبطة. يفسر ظهور تركيبات جديدة لدى النبتة بحدوث ظاهرة العبور الصبغي عند تشكل الأمشاج لدى الأب الهجين F1. أنظر الوثيقة 1، لوحة 6.



(3) حساب المسافة بين المورثات:

$$d(V-N) = \frac{5+59+55+3}{1000} \times 100 = 12.2 \text{ cMg}$$

❖ المسافة بين القد ولون الأوراق هي:

$$d(N-L) = \frac{16+3+5+20}{1000} \times 100 = 4.4 \text{ cMg}$$

❖ المسافة بين القد وشكل الثمار هي:

$$d(V-L) = \frac{16+55+59+20}{1000} \times 100 = 15 \text{ cMg}$$

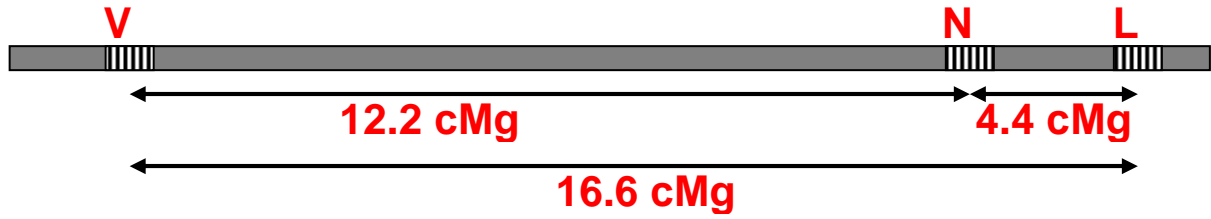
❖ المسافة بين اللون وشكل الثمار هي:

نلاحظ أن:  $d(V-L) = d(V-N) + d(N-L)$  نستنتج من هذا أن المورثة (N,c) تتموضع بين المورثتين (V,t) و (L,r).

نلاحظ كذلك حدوث عبور مزدوج بين L و v، ولم يحتسب خلال تحديد المسافة بين المورثتين، لذلك فان  $d(V-L) < d(V-N) + d(N-L)$ .  
ادن يجب الأخذ بعين الاعتبار وقوع عبورين في نفس الوقت وبذلك فالمسافة  $d(V-L)$  هي:

$$d(V-L) = \frac{16+55+59+20 + (2 \times (5+3))}{1000} \times 100 = 16.6 \text{ cMg}$$

4) الخريطة العاملية هي تمثيل لصبغي على شكل خط طولي، ترتب عليه المورثات حسب تموضعها النسبي فوق الصبغيات.



### الخريطة العاملية

③ دراسة مثال عند ذبابة الخل:

a - تمرين أنظر التمرين 10، لوحة 7.

#### اللوحة 7

☆ تمرين 10:

تم تزاوج بين أنثى من ذباب الخل من سلالة نقية ذات جسم رمادي Gris و عيون ملساء Lisse وأجنحة كاملة Complètes مع ذكر من سلالة نقية ذو جسم أصفر Jaune و عيون حرشاء Rugueuses وأجنحة مبتورة Tronquées. فصلنا في الجيل F1 على خلف متجانس ذو جسم رمادي، عيون ملساء، وأجنحة كاملة.

- 1) ماذا نسمي هذا النوع من التزاوج؟
- 2) حلل نتيجة هذا التزاوج. ماذا تستنتج؟

تم تزاوج أنثى من الجيل الأول F1 مع ذكر من سلالة نقية ذو جسم أصفر، عيون حرشاء، وأجنحة مبتورة. فصلنا في الجيل F2 على 2880 ذبابة خل موزعة على 8 مظاهر خارجية:

1080	ذبابة خل ذات جسم رمادي، عيون ملساء، وأجنحة كاملة.	↖
78	ذبابة خل ذات جسم أصفر، عيون ملساء، وأجنحة كاملة.	↖
1071	ذبابة خل ذات جسم أصفر، عيون حرشاء، وأجنحة مبتورة.	↖
66	ذبابة خل ذات جسم رمادي، عيون حرشاء، وأجنحة مبتورة.	↖
293	ذبابة خل ذات جسم رمادي، عيون ملساء، وأجنحة مبتورة.	↖
6	ذبابة خل ذات جسم رمادي، عيون حرشاء، وأجنحة كاملة.	↖
282	ذبابة خل ذات جسم أصفر، عيون حرشاء، وأجنحة كاملة.	↖
4	ذبابة خل ذات جسم أصفر، عيون ملساء، وأجنحة مبتورة.	↖

3) ماذا نسمي هذا النوع من التزاوج؟ وما الغاية منه؟

4) عن ماذا يعبر تركيب الجيل F2؟

5) أحسب نسب الأفراد المحصل عليها في F2. ماذا يمكنك استنتاجه من هذه النسب؟

6) باستعمال الرموز التالية: جسم رمادي (G,g)، عيون ملساء (L,l)، أجنحة كاملة (C,c)، جسم أصفر (J,j)، عيون حرشاء (R,r)، أجنحة مبتورة (T,t). أعط تفسيرا صبغيا لنتائج التزاوج الأول والتزاوج الثاني.

7) أحسب المسافة بين المورثة z و r. و بين المورثة r و t. و بين المورثة z و t.

8) ماذا يمكننا أن نقول عن التوضع النسبي للمورثات الثلاث.

9) أنجز الخريطة العاملية بالنسبة للصفات الثلاث.

### b - حل التمرين:

1) نسمي هذا النوع من التزاوج بالهجونة الثلاثية Trihybridisme لأنه تم بين سلالتين نقيتين تختلفان بثلاث صفات وراثية.

(2) كل أفراد الجيل F1 متجانسون ويشبهون في مظهرهم الخارجي الأب ذو جسم رمادي، عيون ملساء وأجنحة كاملة. وتطبيقاً للقانون الأول لـ Mendel فإن الصفات جسم رمادي، عيون ملساء وأجنحة كاملة سائدة على الصفات جسم أصفر، عيون حرشاء، وأجنحة مبتورة.

(3) نسمي هذا النوع من التزاوج بالتزاوج الراجع BackCross، لأنه تم بين فرد من F1 غير متشابه الاقتران، نمطه الوراثي معروف، مع فرد من النمط الأبوي ثلاثي التنحي. الغاية من هذا التزاوج هو التحقق من الانفصال المستقل للحيليات.

(4) إن تركيب الجيل F2 يعبر عن تركيب أنماط الأمشاج الأنثوية، لأن الذكر هو من سلالة نقية وثلاثي التنحي، فإنه لن ينتج سوى نمط واحد من الأمشاج. أنظر الوثيقة.

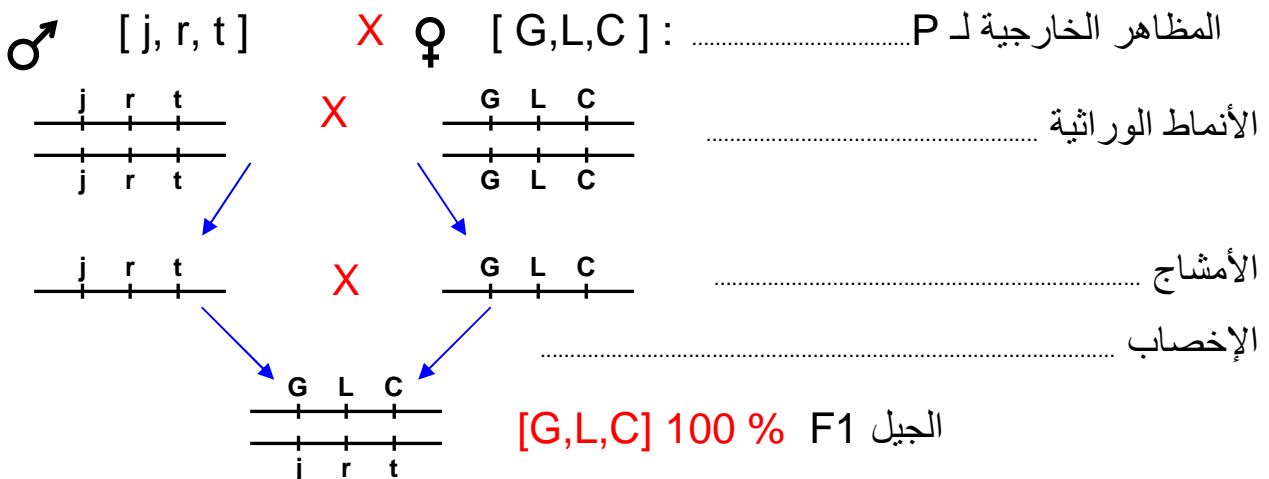
(5) حساب نسب الأفراد المحصل عليها في F2:

أنماط أبوية 74.69 %  أنماط جديدة التركيب 25.31 %	}	الأفراد [ G,L,C ] النسبة المئوية: $37.50 \% = (1080/2880) \times 100$	•
		الأفراد [ j, r, t ] النسبة المئوية: $37.19 \% = (1071/2880) \times 100$	•
		الأفراد [ G,L, t ] النسبة المئوية: $10.17 \% = (293/2880) \times 100$	•
		الأفراد [ j, r, C ] النسبة المئوية: $9.79 \% = (282/2880) \times 100$	•
		الأفراد [ j, L, C ] النسبة المئوية: $2.71 \% = (78/2880) \times 100$	•
		الأفراد [ G, r, t ] النسبة المئوية: $2.29 \% = (66/2880) \times 100$	•
		الأفراد [ G,r,C ] النسبة المئوية: $0.21 \% = (6/2880) \times 100$	•
		الأفراد [ j, L, t ] النسبة المئوية: $0.14 \% = (4/2880) \times 100$	•

نلاحظ أن الأنماط الجديدة التركيب تظهر بنسب ضعيفة مقارنة بالأنماط الأبوية، نستنتج من هذا أن المورثات مرتبطة.

(6) التفسير الصبغي لنتائج التزاوج:

★ التزاوج الأول : عند الآباء P .





## ملاحظة :

لقد مكنت الملاحظة المجهرية لصبغيات عملاقة عند ذبابة الخل من الكشف عن وجود أشرطة متعاقبة تختلف حسب تلوينها. وقد تبين أن كل خلل في تعاقب هذه الأشرطة يؤدي إلى خلل في ظهور الصفات المتوحشة وظهور صفات جديدة.

انطلاقاً من هذه الملاحظات تمكن الباحثون من وضع خرائط صبغية توضح تموضع المورثات على الصبغيات.

## خلاصة : أنظر الوثيقة 1، لوحة 7.

### اللوحة 7

حالة خاصة	النسب الإحصائية		الوثيقة 1 : خلاصة		
	الجيل الثاني F2	الجيل الأول F1			
في حالة مورثة مرتبطة بالجنس، لا يعطي تزاوج ذكر من سلالة A بأنتى من سلالة B نفس نتيجة التزاوج العكسي، أي أنثى من سلالة A بذكر من سلالة B.	1/4 ، 3/4	100 % صفة الأب ذي الحليل السائد	سيادة تامة	الهجونة الأحادية ( أبوان من سلالة نقية )	
	1/4 ، 1/4 ، 1/2	100 % صفة وسيطة	تساوي السيادة		
	1/16 ، 3/16 ، 3/16 ، 9/16	100 % صفة الأب ذي الحليل السائد	سيادة تامة بالنسبة للحليين	مورثتان مستقلتان	الهجونة الثنائية ( أبوان من سلالة نقية )
	1/16 ، 1/16 ، 2/16 ، 3/16 ، 3/16 ، 6/16	جيل متجانس له الصفة السائدة بالنسبة للزوج الحليلي الأول، و صفة وسيطة بالنسبة للزوج الحليلي الثاني	سيادة تامة بالنسبة لزوج حليلي وتساوي السيادة بالنسبة للآخر		
	1/16 ، 1/16 ، 1/16 ، 1/16 ، 2/16 ، 2/16 ، 2/16 ، 2/16 ، 4/16	جيل متجانس له صفتين وسيطتين بالنسبة للزوجين الحليين.	تساوي السيادة بالنسبة للزوجين الحليين		
	1/4 ، 3/4	100 % صفة الأب ذي الحليلين السائدين.	أحد الأبوين سائد والآخر متنحي		