

إمضاء الولي:

إمضاء الإدارة:

النقطة:

10

1- أصل بخط:

- لتذوق الطعام استعمل
- للاستماع للموسيقى استعمل
- لمشاهدة التلفاز استعمل
- حاسة السمع
- حاسة البصر
- حاسة الذوق

0.75

2- اصنف الاجسام التالية داخل الجدول:

سكر - حليب - قلم - زيت

الاجسام الصلبة	الاجسام السائلة

2

3- لاحظ الصورة ثم املا الفراغ بما يناسب: (الغاز - الماء)

يدل تصاعد الفقاعات على وجود

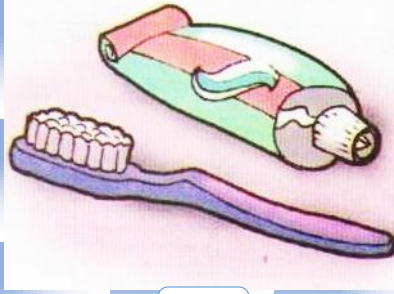
1

4- أصل بخط:

- أقطع الخبز بواسطة
- أمزق اللحم بواسطة
- أطحن الطعام بواسطة
- الأنياب
- القواطع
- الأضراس

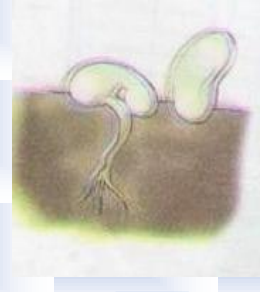

1.5

5- اضع علامة x تحت ما يضر بأسناني:



0.75

6- أرتب مراحل نمو النبتة:



2

7- املا الفراغ بما يناسب: (صلب - غازي - سائل)

- الهواء جسم

1

8- أصل بخط:

- المخالب والانياب

- للحصول على غذائها تستعمل الدجاجة

1

- العينين والمنقار