

النشاط العلمي

المراقبة المستمرة 2 الأسدوس الأول

الاسم الكامل:
التاريخ:
الفوج:
القسم: الثاني ابتدائي

الملاحظة	الإدارة	الأب/ الولي
10		



تعرف بعض خاصيات الأجسام .

معرفة

1 / أصل بخط:

- جسم صلب
- جسم سائل
- جسم غازي

● الماء

فهم

2 / أحيط بخط الأجسام الصلبة

ماء

قلم

زيت

هواء

كرسي

كتاب

مسما

3 / أجيب ب : نعم أو لا:

- الخشب جسم صلب
- لا تأخذ السوائل شكل الإتهاء الذي توجد فيه.
- الهواء جسم غازي


4 / أملأ بما يناسب: طحن - تكسير - تقطيع



← →



← →



← →



تعرف الهضم و مراحلہ و الأسنان و وظائفها و طرق الحصول على الغذاء .



معرفة

5 / أصل بما يناسب:

- تقطع طعام
- تطحن الطعام
- تمزق اللحم
- الأضراس
- الأنسب
- القواطع

فهم


6 / أضع علامة (X) تحت ما يضر أسناني:



7 / أملأ الفراغ بما يناسب :

يستعمل القط للبحث، للجري، و مخالفه للقبض.

8 / ألاحظ و أكتب الأعضاء المستعملة للحصول على الغذاء:



.....