

إمضاء الولي: إمضاء الإدارة: 

20

النقطة:

1- اضع علامة (X) في بطاقة الجواب الصحيح:

- أثناء المشي تكون حركات الأطراف سريعة
- الأذن تستقبل الصوت
- ينتشر الصوت في جميع الاتجاهات
- يتحرك جسم الثعبان على شكل تموجات

2- لاحظ الصورة ثم أكمل:



- مصدر الصوت:


- مستقبل الصوت:

- وسط انتشار الصوت:



3- احدد اسم العملية التي تحدث الصوت (القرع - النفخ - النقر):



4- ألاحظ الصورة ثم أكتب ما يناسب: ( يزحف - يطير - يعوم - يمشي):



5- ألاحظ وأكتب وضعية الطرف الخلفي: مثني - منبسط.



6- أصل بخط:



7- أملاً الفراغ بما يناسب: حركة، مناولة، مفاصل  
تمكن ..... الجناحين الخفاش من الطيران.  
توجد بيدي عدة ..... تمكني من ..... الأشياء.