

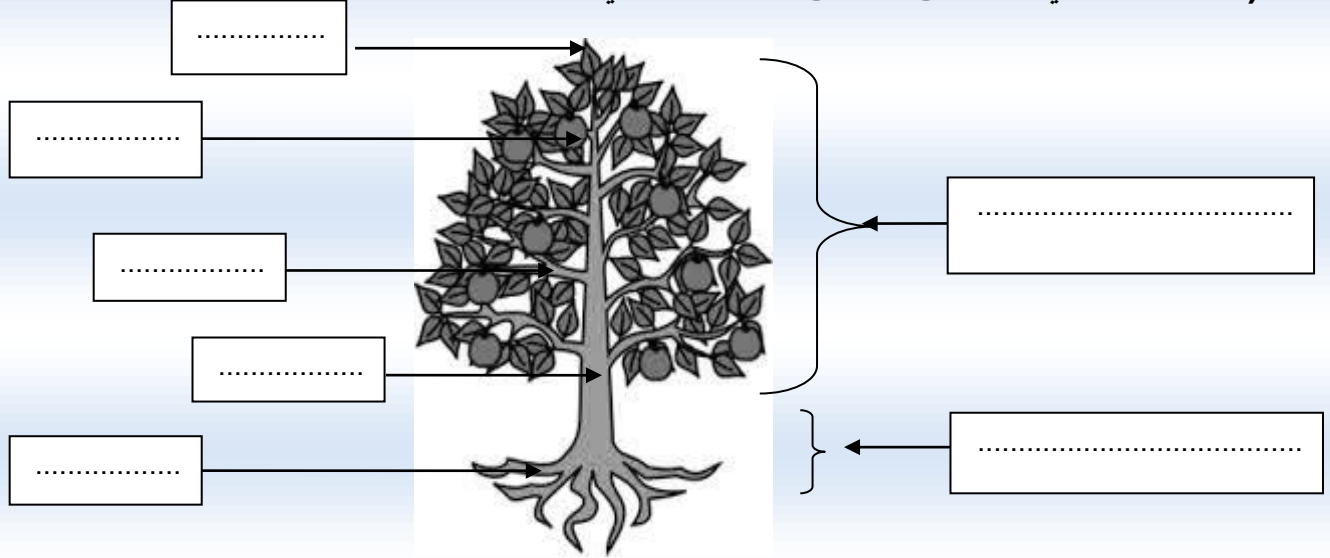
إمضاء الأ

إمضاء الإدارة:

النقطة:

1- أكتب اسم كل جزء للنبته: (1.75ن)

(جزء تحارضي - أوراق - ساق - جزء هوائي - جذور - أغصان - ثمار)


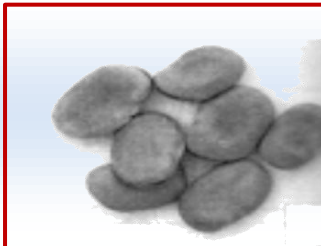


2- أكتب اسم الجزء الذي يؤكل (2ن) : ثمار - جذور - أوراق - بذور - ساق - أزهار



الجزء الذي يؤكل منه

3- ضع علامة (x) تحت البذور: (2 نقط)



4 أَمَلَا الْفَرَاغُ بِمَا يَنَابَسُ : (2,5 ن)

البذور - تحارضي - الجذور - هوائي - الثمار

يتكون النبات من جزأين : جزء..... و جزء.....

يمكن للإنسان أن يأكل..... أو..... أو.....

حسب نوعية النبات.

5 أَضَعُ (صَحِيحٌ) أَوْ (خَطَأً) فِي الْخَانَةِ الْمُنَاسِبَةِ: (1,5 ن)

الجزء الهوائي يشمل الجذور

الجزء الذي يؤكل من الجذر هو الجذر

الجزء الذي يؤكل من السلطة هو الأوراق

(0,25 ن) لتنظيم الورقة

أعانكم الله