



الأسدوس الثاني


النقطة	الإدارة	الولي
10		

المادة: النشاط العلمي

الاسم:
 الفوج:
 التاريخ:
 المستوى: الثالثة ابتدائي



1 أكتب الاسم المناسب أمام كل سهم.



2

2 أصل كل عنصر في الدارة الكهربائية باسمه.



1

أسلاك التوصيل مصباح قاطع كهربائي بطارية

3 أضع علامة (X) في البطاقة المناسبة.

خطأ

صحيح

☐
☐

الحديد موصل كهربائي

☐
☐

العقب و القعيرة هما مربط المصباح

☐
☐


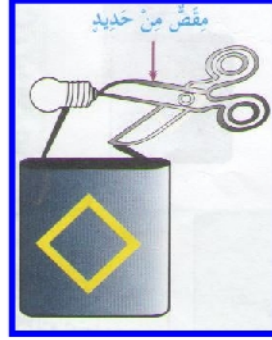

يضيء المصباح إذا كان القاطع مفتوحا

☐
☐

الخشب عازل كهربائي.

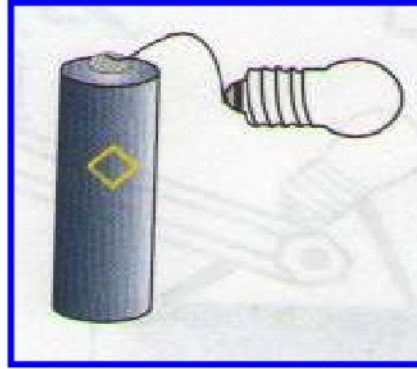


4 ألون بالأصفر المصباح أو المصابيح المضيئة في التراكيب التالية.



1.5

5 أتمم الرسم ليضيء المصباح.



1

6 أتمم الجملة بالكلمة المناسبة:

شفاف - معتم

الخشب جسم

الزجاج الأملس جسم

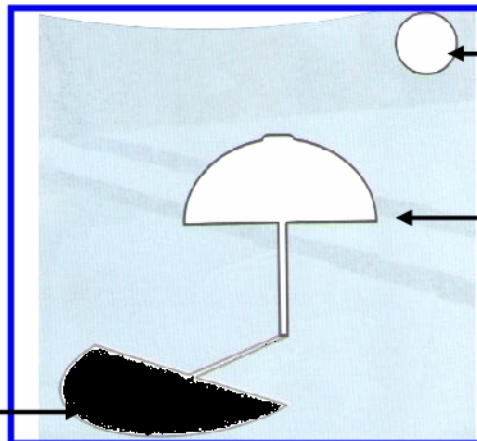
2

7 أكمل بما يناسب : لاينفذ عبره الضوء - ينفذ عبره الضوء

الجسم الشفاف

الجسم المعتم

8 أكتب الاسم المناسب أمام كل سهم.



1.5