

1- حدد الجمل الخاطئة فيما يلي بوضع علامة [x] أمامها:

.....	تفيد الشهادة الشفوية في معرفة أحداث الماضي
.....	تفيد الشهادة الشفوية في معرفة أحداث المستقبل.
.....	تفيد الشهادة الشفوية في حساب الفترة الزمنية الفاصلة بين الأحداث.

2- سجل الأحداث التالية على الخط الزمني أسفله :

2000: ولادة علي	2012: حصوله على الشهادة الابتدائية .	2005: التحاقه بالروض
2008: مشاركته في مسابقة للرسم	2006: تسجيله بالمدرسة	2013: تسجيله بالإعدادية

3- رتب وحدات قياس الزمن التالية من الأصغر إلى الأكبر :
اليوم – الألفية – العقد – القرن – السنة – اللحظة

4- لاحظ الصورتين جيدا، ثم املا الجدول:

صورة 2	صورة 1		
.....	سوق	
.....	وسائل النقل	
.....	المنتجات المعروضة	

مراقبة مستمرة – المرحلة

الثانية

من 11 إلى 16 يناير 2016

المدرس :

.. نيابة إقليم

1- صل بخط بين النشاط و نوعية الاجتماعيات

2ن	سياحي	تصدير المنتجات
		صناعي	تنظيم الرحلات
		تجاري	تركيب السيارات
		فلاحي	زراعة الحبوب

2- اتم النص بما يناسب من الكلمات التالية :

الرياح – الأمطار – صحوا – بالسحب – ألوان – النشرة – الطقس –
درجة

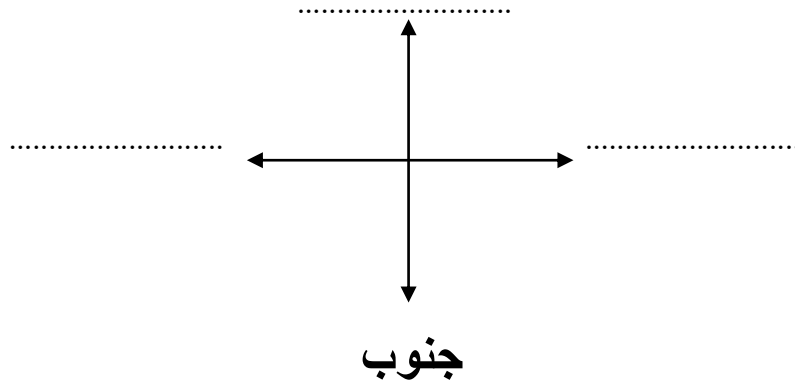
تدل السماء، حسب امتلائها على أن سوف يكون 4ن
..... أو متقلبا. تدقق الجوية ذلك حينما تقدم الحرارة و
كمية و اتجاه بواسطة رموز مألوفة.

3- اذكر ثلاث مكونات من محيط مدرستك :

1.5ن - - -

4- أتم كتابة الاتجاهات الناقصة في الرسم التالي :

1.5ن



تمنح نقطة واحدة عن تنظيم العمل و نظافة ورقة التحرير .

مراقبة مستمرة – المرحلة

الثانية

من 11 إلى 16 يناير 2016

المدرس :

.. نيابة إقليم

الفرض الثاني

مادة الاحتفائيات

بئر غيوجم غطس - سلك كهربائي عار - سيارة قيسر عة - نافذة غير محمية - شخص غريب

أخطار في البيت

أخطار في المحيط

.....
.....
.....

2- في طريق عودتك إلى المنزل دعاك رجل غريب لركوب سيارته، ماذا ستفعل؟

.....

.....

3- ضع علامة [x] امام الإجابة الصحيحة :

<input type="checkbox"/>	التدخين يضر بصحة المدخن و صحة المحيطين به .
<input type="checkbox"/>	التدخين ينعش البيئة .
<input type="checkbox"/>	يتسبب التدخين في أمراض الرئة .
<input type="checkbox"/>	يقوي التدخين القدرات البدنية .

4- أذكر تصرفين من التصرفات التي قد يقوم بها الأطفال عند الخروج من المدرسة و التبر في حوادث السير.

-

-

اختبار كتابي في مادة الاجتماعيات
المستوى : الرابع

مدة الاجاز :

الاسم والنسب:

الرقم:

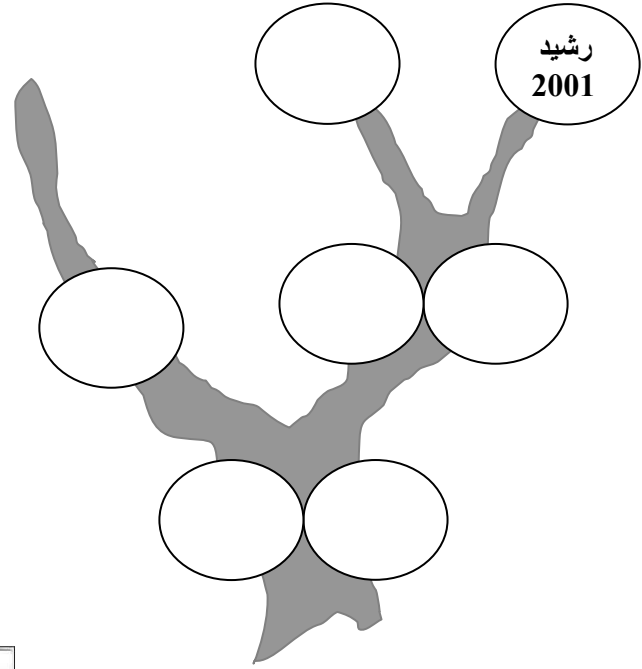
الموضوع : 1/1

أولا : التاريخ

1- أكمل بتعبئة شجرة العائلة بوضع أفراد أسرة الطفل (2003) رشيد وسنوات ميلادهم في هذه الشجرة معتمدا على الجدول التالي

1963	الأم فاطمة اليوسفي	1926	الجد محمد مخلص
1996	الأخت مريم مخلص	1934	الجددة أمينة الداودي
1975	العم إبراهيم مخلص	1960	الأب مصطفى مخلص

2 - أجب ب "صحيح" أو "خطأ"
- ينتمي الطفل رشيد وجده وأبوه إلى جيل
واحد

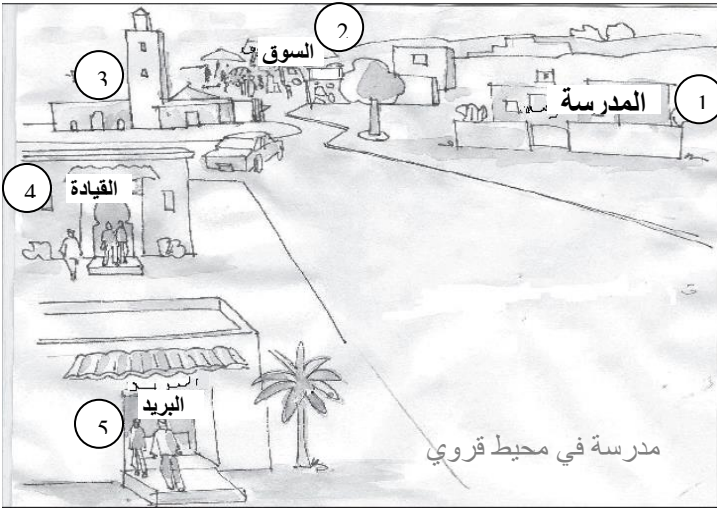


- تاريخ ميلاد الجد محمد مخلص أحدث من
تاريخ ميلاد الأم فاطمة اليوسفي

- الطفل رشيد في عقده الأول

ثانيا : الجغرافيا

لاحظ الصورة وأجب على الأسئلة
1 - ماذا تمثل الصورة؟



2 - ماهي أسماء مكونات الصورة

1 - -2

3 - -4 -5

3 - أذكر وظيفة كل مرفق من المرافق التالية

القيادة: المسجد:

ثالثا التربية على المواطنة :

أجب ب "صحيح" أو "خطأ"

1 - أعبّر ممر الراجلين أثناء إشارة الضوء الأخضر للسيارات :

2 - لا أهتم بالرياضة لعدم فائدتها

3 - يختلف الناس في سلامة جسمهم وعقلهم

الاسم و التاريخ: فرض 2 في الاجتماعيات

التاريخ:

1- أتمم ما يلي :

التاريخ

القرن	سنة.....
العقد	سنوات.....
الألفية	سنة.....
الجيل	سنة.....

2- أتمم ما يلي :

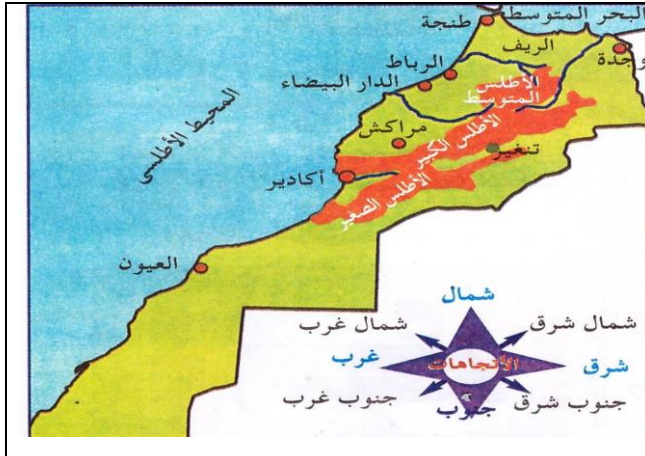
سنة 2015 توجد في القرن في الألفية.....

3- أكمل ب : صحيح أو خطأ

	عَرَفَ السُّوقُ حَوَّلًا كَبِيرًا بَيْنَ الْمَاضِي وَالْحَاضِرِ. كَانَ النَّاسُ يَعْتمِدُونَ فِي نَقْلِ البَضَائِعِ فِي القُرُونِ الْمَاضِيَةِ عَلَى الشَّاحِنَاتِ. يَتِمُّ التَّبَادُلُ التِّجَارِيُّ فِي وَقْتِنَا الْحَاضِرِ عَن طَرِيقِ الْمَقَابِضَةِ فَقَطُّ. يَتِمُّ نَقْلُ جَمِيعِ البَضَائِعِ فِي وَقْتِنَا الْحَاضِرِ بِوَأَسْطَةِ الدَّوَابِّ.

1- أحدد على الخريطة مدينتين :

الجغرافيا



-	ساحليتين
-	
-	داخليتين
-	

2- أضع كل مرفق في وظيفته داخل الجدول :

- المرافق:						
مُسْتَشْفَى - قِيَادَة - بَقَال - مَلْعَب - مَدْرَسَة - مَسْجِد - صَيْدِيَّة - مَكْتَبَة - مَسْرَح - عِمَارَة						
- الوَطَائِف:						
لِلتَّرْفِيهِ	لِلْمَعْرِفَة	لِلْعِبَادَة	لِلتَّغْذِيَة	لِلسَّكْن	لِلعِلاج	لِلإِدَارَة

التربية على

1- أَعْبَّرَ عَنِ رَأْيِي فِي الْجُمْلَةِ الْآتِيَةِ بِتَحْدِيدِ الْخَاطِئِ مِنْهَا :

	- أَنَا بِصِفَتِي مُسْلِمًا مَغْرِبِيًّا أَعْتَزُّ بِدِينِي وَأَتَسَامَحُ مَعَ غَيْرِ الْمُسْلِمِينَ.
	- أَنَا بِصِفَتِي مُسْلِمًا مَغْرِبِيًّا أَحْتَرِمُ الْآخَرِينَ رَغْمَ اخْتِلَافِهِمْ عَنِّي فِي اللَّوْنِ وَالْجِنْسِ.
	- أَنَا بِصِفَتِي مُسْلِمًا مَغْرِبِيًّا أَحْتَرِمُ بَاقِيَ الْأَشْخَاصِ الْمُسْلِمِينَ فَقَطَّ.
	- أَنَا بِصِفَتِي مُسْلِمًا مَغْرِبِيًّا أَقْدِرُ بَاقِيَ الْأَشْخَاصِ مَهْمَا كَانَتْ حَالَتُهُمْ الْجَسَدِيَّةُ وَالْعَقْلِيَّةُ.

2- أَضَعْ كَلِمَةَ نَعَمْ أَوْ لَا أَمَامَ الْعِبَارَاتِ التَّالِيَةِ

نَعَمْ لَا	
	- التَّدَخِينُ يَبْدُدُ الْمَالَ وَالصِّحَّةَ
	- الْمُدْخَنُ يَضُرُّ نَفْسَهُ وَالْآخَرِينَ
	- يَغَيِّرُ لَوْنَ الْأَسْنَانِ
	- يَتِمَّتَعُ الْمُدْخَنُ بِمَظْهَرٍ لَائِقٍ
	- التَّدَخِينُ يَمْنَحُ الْقُوَّةَ
	- التَّدَخِينُ يَهْدِي الْأَعْصَابَ
	- التَّدَخِينُ يَلْوِثُ الْهَوَاءَ
	- التَّدَخِينُ يَصِيبُ بِالسَّرَطَانِ

امتحان المرحلة الثانية

مدرسة :

الاسم :

النقطة :

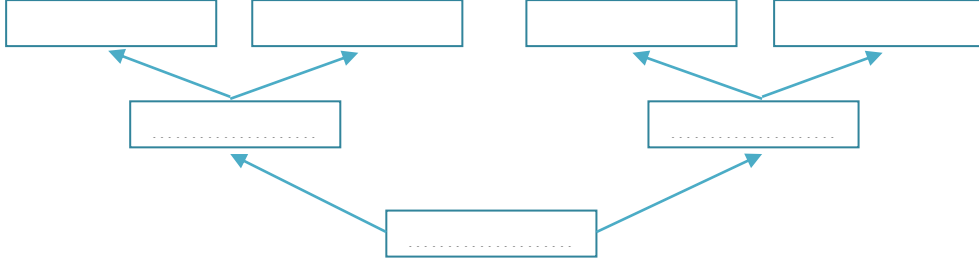
مادة : الاجتماعيات

المستوى : الرابع

التاريخ (10ن) :

لاحظ :

أ - أكمل لعبه سجره العائله بالمعلومات الحاصه بك .



ب - أحسب عدد الأجيال الممثلة في هذه الشجرة .

ج - ما هو اسم الجيل الذي تنتمي إليه أنت ؟

شرح ما يلي :

- السوق :

- المقايضة :

صل بخط :

تطور عمراي
تطور اجتماعي
تطور تقني

تزايد دور المرأة
تطور
المواصلات
تحول مكان
السوق

الجغرافيا (10ن) :

عرف ما يلي :

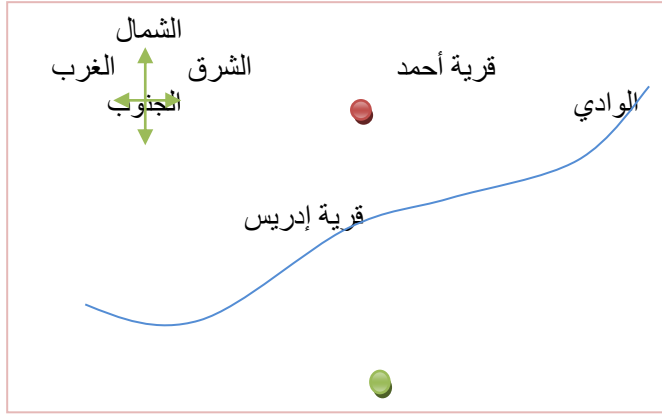
- المرافق :

- الطقس :

اذكر ثلاث منشآت تحيط بمدرستك مع ذكر وظائفها .

المنشأة	وظيفتها
.....
.....
.....

3- لاحظ الرسم و أجب عن الأسئلة :



أ - أين توجد قرية أحمد بالنسبة لقرية إدريس ؟

ب - أين توجد قرية إدريس بالنسبة للوادي ؟

التربية على المواطنة

وجدت

2- ما هي التصرفات التي تقوم بها لكي تحمي نفسك من مخاطر الطريق ؟

3- ضع علامة أمام العبارات الصحيحة :

- التدخين يبدد المال و الصحة.
- المدخن يضر نفسه و الآخرين.
- التدخين يمنح القوة.
- يتمتع المدخن بمظهر لائق.
- التدخين يلوث الهواء.
- التدخين يصيب بالسرطان.