

الاسم: / المستوى: الثانية ابتدائي / القسم: / التاريخ:



إمضاء الإدارة	إمضاء الأب أو الولي	الملاحظة
		10



B

1 / أملأ الجدول :

ثلاث مئة وخمسة و عشرون
.....	460
5 و وحدات و 3 عشرات و مئة واحدة

1.5

2 / أقرن بوضع الرمز المناسب : < أو > أو = مكان النقط:

26 114

100 + 20 + 3 123

450 350

(1 x 100) + (2 x 10) 102

1

3 / أنجز مايلي

$$\begin{array}{r} 139 \\ + \\ 241 \\ \hline \end{array}$$

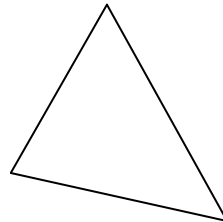
$$\begin{array}{r} 324 \\ + \\ 112 \\ \hline \end{array}$$

1.5

4 / باستعمال الأرقام 1 , 2 , 3 أكتب جميع الأعداد المكونة من 3 أرقام مختلفة :

1.5

5 / ما اسم الشكل ؟



1

6 / أرسم مستقيما يمر من النقطتين M و N

M



N



1

7 / لاحظ المبلغ الذي يتوفر عليه كل طفل.

هندي	عادل	أحمد	يوسف	علي
				
300 درهم	100 درهم	250 درهما	45 درهما	96 درهما


أ - رتب المبالغ من الأصغر إلى الأكبر :




120 درهما

ب - حدد الأطفال الذين يستطيعون شراء الهدية ؟

8 / دخل علي محلا تجاريا و معه النقود التالية :



لاحظ اللعب التالية :



120 درهما



96 درهما



45 درهما



135 درهما

أ - أحسب المبلغ الذي يملكه علي :

ب - اشترى علي الشاحنة و الكرة. احسب المبلغ الذي دفعه للبائع: