



## الأسدوس الأول

النقطة .	الإدارة	الولي
10		



المادة الرياضيات

الاسم: .....

التاريخ: .....

الفوج: .....

المستوى: الثانية ابتدائي

B

1 / أصل بخط:

- 65 مئة و ثلاثة
- 23 خمسة و ستون
- 100 ثلاثة عشرون
- 103 مئة

2 / أقارن بوضع الرمز المناسب: &lt; أو &gt; أو = مكان النقط:



7 ..... 16

23 ..... 19

47 ..... 39

86 ..... 6+80

3 / أرتب الأعداد التالية من الأصغر إلى الأكبر باستعمال الرمز المناسب:

9 ; 15 ; 43 ; 62 ; 78

4 / أملأ الفراغ بما يناسب:

60 + 2 = ..

98 + .. = 100

30 + . = 36

100 + 40 + 7 = ...


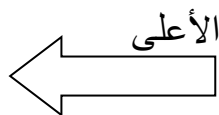
5 / أكتب بالأرقام أو بالحروف:

- 154 : .....

- : مئة وستون

- : 3 وحدات و 8 عشرات.

6 / ألون السهم المتجه نحو اليسار:



0.5


7/ لاحظ القن ثم أرسم المسار على الشبكة :

نقطة الانطلاق

نقطة الوصول

↓ ← ↓ ↓ ↓ ← ← ←

8/ أكتب التوقيت الذي تشير إليه الساعة:



تشير الساعة الى .....

9/ أملأ الساعة الالكترونية:

.. : ..

.. : ..

السابعة والنصف

الخامسة والرابع

10 / يملك أحمد النقود التالية :



أ - احسب المبلغ الذي يتوفر عليه عمر :

ب - هل يستطيع عمر شراء لعبة ثمنها 80 درهما

11/ أحيط بخط المبادلة الصحيحة:

