

السنة: 2015-2016

المراقبة المستمرة الثانية (الأسدس الثاني)

المادة: الرياضيات

المستوى: الثانية ابتدائي

التاريخ:

الاسم العائلي والشخصي:



إمضاء الولي:

إمضاء الإدارة:

النقطة:

10

1- اضع وانجز:

$423 + 247$

$652 + 118$

$795 - 434$

1.5

2- أصل بخط:

5×8

3×6

4×3

7×2

12

40

18

14

1

3- احسب:

$70 \times 10 = \dots\dots\dots$

$2 \times 50 = \dots\dots\dots$

$3 \times 100 = \dots\dots\dots$

$5 \times 40 = \dots\dots\dots$

2

4- انجز:

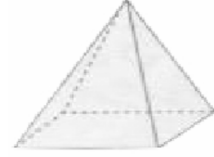
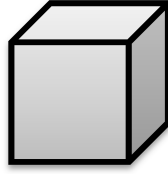
$$\begin{array}{r} 125 \\ \times 3 \\ \hline \dots\dots\dots \end{array}$$

$$\begin{array}{r} 214 \\ \times 5 \\ \hline \dots\dots\dots \end{array}$$

$$\begin{array}{r} 342 \\ \times 2 \\ \hline \dots\dots\dots \end{array}$$

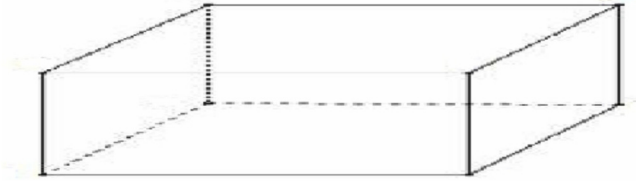
1.5

5- اضع علامة تحت المكعب:



0.5

6- لاحظ الجسم ثم أكمل:



عدد حروفه:

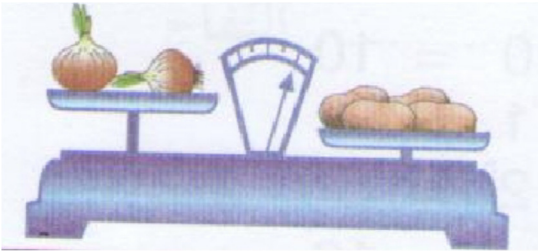
عدد وجوهه:

عدد رؤوسه:

اسمه:

1


7- اتمم بما يناسب: اثقل من - اخف من - له نفس ثقل



البطاطس البصل

0.5

8- احسب كتلة التفاح:



.....
.....
.....
.....

1

9- تحتوي علبة على 10 قطع من الحلوى.
احسب عدد القط التي تحتوي عليها 8 علب

.....
.....
.....
.....

1