

الرياضيات

المراقبة المستمرة 2 الأسدوس الثاني

الاسم الكامل:
التاريخ:
الفوج:
القسم: الثاني ابتدائي

الملاحظة	الإدارة	الأب/ الولي
10		



الهدف: تعرف الضرب في عشرة و العشرات و مئة والمئات . استخدام التقنية الاعتيادية للضرب.

معرفة

1 / أصل بخط.

$$\begin{array}{r} 2 \times 5 \\ \cdot \end{array}$$

$$\begin{array}{r} 6 \times 2 \\ \cdot \end{array}$$

$$\begin{array}{r} 5 \times 3 \\ \cdot \end{array}$$

$$\begin{array}{r} 2 \times 10 \\ \cdot \end{array}$$

$$\begin{array}{r} 10 \\ \cdot \end{array}$$

$$\begin{array}{r} 15 \\ \cdot \end{array}$$

$$\begin{array}{r} 20 \\ \cdot \end{array}$$

$$\begin{array}{r} 12 \\ \cdot \end{array}$$

فهم

2 / أكمل



$$5 \times \dots = 10$$

$$3 \times 100 = \dots$$

$$2 \times 20 = \dots$$

$$8 \times \dots = 8$$

3 / أنجز العمليات التالية.

$$\begin{array}{r} 112 \\ \times 5 \\ \hline \dots \end{array}$$

$$\begin{array}{r} 47 \\ \times 2 \\ \hline \dots \end{array}$$

$$\begin{array}{r} 213 \\ \times 3 \\ \hline \dots \end{array}$$

$$\begin{array}{r} 42 \\ \times 2 \\ \hline \dots \end{array}$$

4 / يحتوي صندوق على 6 كؤوس.

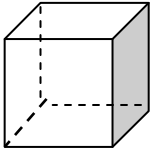
احسب عدد الكؤوس التي يحتوي عليها 10 صناديق.



.....
.....

الهدف: تعرف وتصنيف المجسمات وتمييز نشر كل من المكعب ومتوازي المستطيلات.

5/ أصل كل مجسم باسمه.



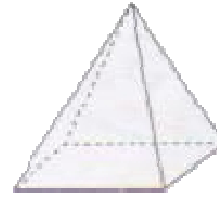
•

•
أسطوانة



•

•
هرم



•

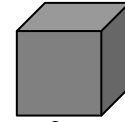
•
مكعب

0.75

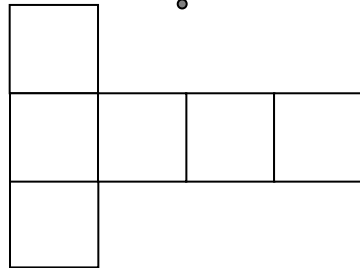
6/ أصل كل مجسم بنشره.



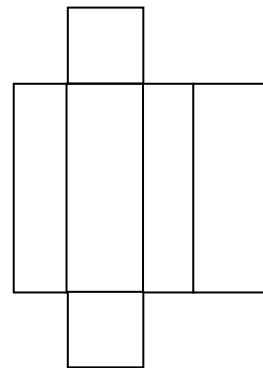
•



•



•



•

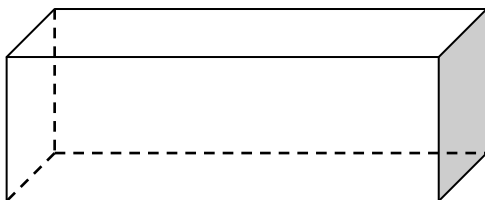
7/ الأخط المجرم ثم أحدد.

☞ عدد ووجهه:

☞ عدد رؤوسه:

☞ عدد حروفه:

☞ اسمه:



1

2

الهدف: تعرف وحدات قياس الكتل.

معرفة

8/ أصل بما يناسب.




- أثقل من الموز.
- لها نفس ثقل الموز.
- أخف من الموز.

0.5

- الطماطم

فهم

9/ أحسب كتلة التفاح.



.....

.....

0.75