

السنة: 2015-2016

المراقبة المستمرة الاولى (الأسدس الثاني) المادة: الرياضيات

المستوى: الثانية ابتدائي

التاريخ:

الاسم العائلي والشخصي:



إمضاء الولي:

إمضاء الإدارة:

20

النقطة:

1- اضع وانجز:

$568 + 143$

$324 + 277$

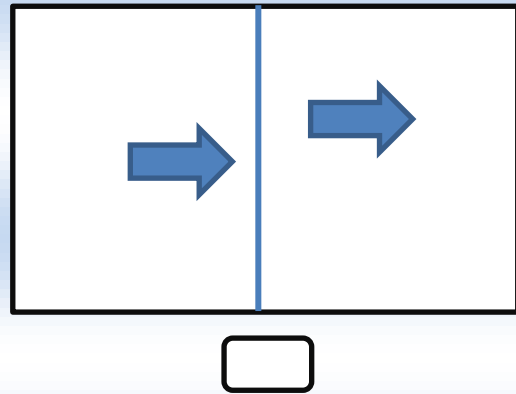
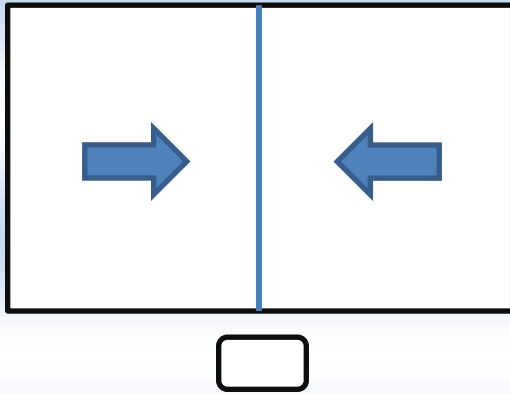
$105 + 320$

.....
.....
.....
.....

2- املا الفراغ بما يناسب:

$$\begin{array}{r} 1 \ 2 \ 4 \\ + \\ 3 \ . \ . \\ \hline . \ 5 \ 6 \end{array}$$

3- اضع علامة (X) تحت الشكلين المتماثلين:



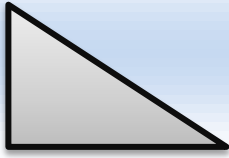
4- اضع وانجز:

$125 - 113$

$426 - 324$

.....
.....
.....
.....

5- اضع علامة تحت كل شكل له زاوية قائمة:



6- اتمم بما يناسب:

$$25 + 43 = . .$$

$$176 + 13 = . . .$$

$$14 + . . = 35$$

$$205 + 140 = . . .$$

7- ارسم قطعة قياس طولها 4 سنتمترات :

8- يملك تاجر 268 حذاء، باع منها 135
- كم بقي لديه من الأحذية؟

.....
.....
.....
.....

9- اقيس طول القلم :



طول القلم هو:.....