

إمضاء الولي: إمضاء الإدارة: النقطة:

1 أضع وأنجز:

$568 + 143$

$324 + 277$

$105 + 320$

.....

.....

.....

2 أتمم:

$$\begin{array}{r} 423 \\ + 364 \\ \hline \end{array}$$

.....

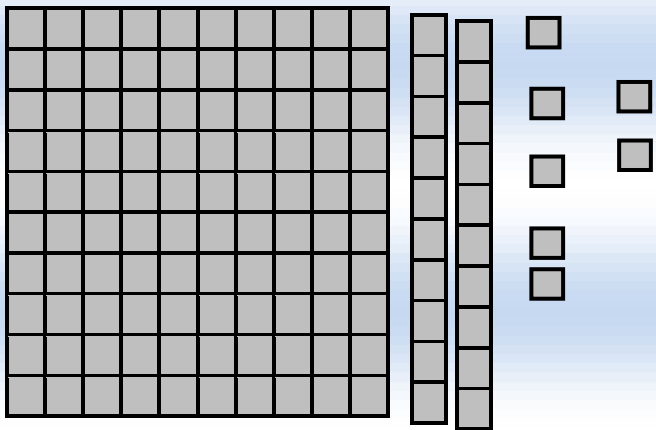
.....

$$\begin{array}{r} 213 \\ + 624 \\ \hline \end{array}$$

.....

.....

3 إملأ الجدول و اكتب العدد المناسب في الخانة:



$325 - 213$

الوحدات	العشرات	المئات
.....

.....

العدد هو

4 أضع وأنجز:

$426 - 324$

.....

.....

.....

.....

5 أكتب أربعة أعداد مكونة من 3 أرقام باستخدام الأرقام : 6 , 1 , 5

.....


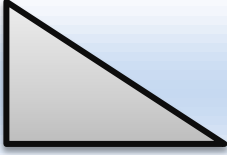
.....

.....

.....

حدد الزاوية القائمة في الأشكال التالية :

6




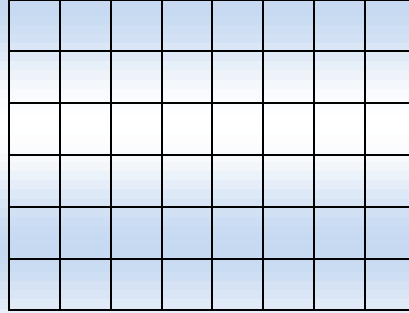
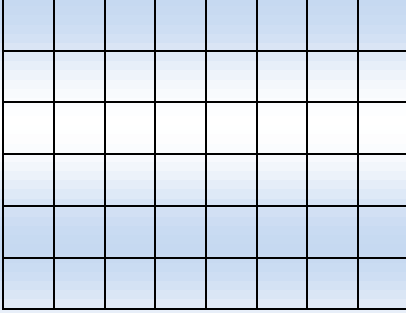
أرسم مربعا ومستطيلا ومثلثا :

7

المثلث

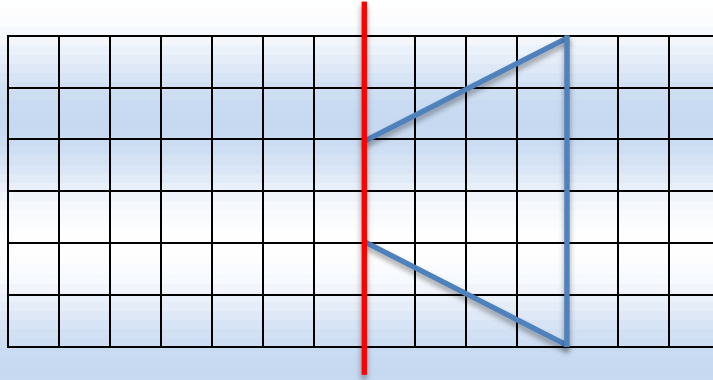
المستطيل

المربع



أرسم مماثل الشكل:

8



مسألة .

9

دخل أحمد محلا تجاريا فلاحظ اللعب التالية :



120 درهما



60 درهما



150 درهما



750 درهما

أ - حدد أعلى سلعة.

ب - اختار الدراجة و الدب . أحسب ثمن المشتريات :

وفقكم الله