



## الأسدوس الثاني

B

المادة: الرياضيات

الولي	الإدارة	النقطة
		10

الاسم: .....

التاريخ: .....

الفوج: .....

المستوى: الثالثة ابتدائي

1 أضع و أنجز العمليات التالية.

513 - 162

6 533 - 2 219

7 545 - 4 242



.....

.....

.....

.....

1.5

2 توجهت ليلي إلى السوق وفي حافظة نقودها 2000 درهم.

اشترت سريرا بـ 1350 درهما و حاجيات أخرى بـ 185 درهما.

→ أحسب ثمن المشتريات.

.....

.....

.....

1.5

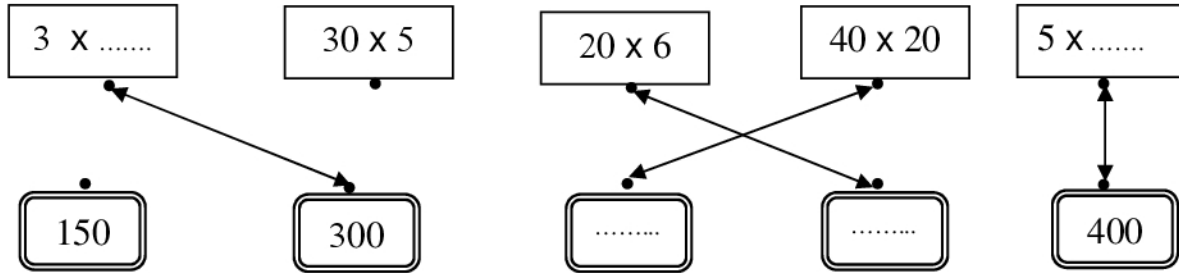
→ أحسب ماتبقى لها من نقود.

.....

.....

.....

3 أصل بخط أو أكمل.



1.25

4 طلبت الأستاذة من التلاميذ تكوين 6 مجموعات بكل مجموعة 4 أطفال.

كم عدد تلاميذ هذا القسم ؟



0.5



5 أنجز.

$$\begin{array}{r} 123 \\ \times \quad 6 \\ \hline \end{array}$$

$$\begin{array}{r} 342 \\ \times \quad 5 \\ \hline \end{array}$$

$$\begin{array}{r} 413 \\ \times \quad 2 \\ \hline \end{array}$$

1.5

6

يحتوي صندوق على 12 قنينة زيت.  
أحسب عدد القنينات التي يحتوي عليها 10 صناديق.

0.75

8 ألاحظ المجسم ثم أكمل.



عدد وجوهه: .....

عدد رؤوسه: .....

عدد حروفه: .....

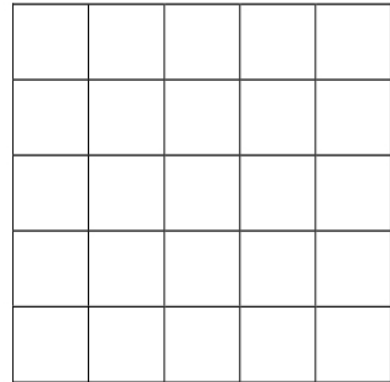
اسمه: .....

7 أرسم دائرة مركزها النقطة M وتمر من النقطة A



1.5

9 أرسم تكبيرا للشكل.




0.5

10 اتمم رسم الشكلين التاليين.



مربع



مثلث

1

