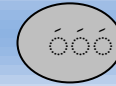


المستوى الرابع ابتدائي

الاسم العائلي و الشخصي :

التاريخ:

النقطة	إمضاء الأب أو الولي	إمضاء الإدارة



1/ أكتب الأعداد التالية بالحروف أو الأرقام.

1 362 : .....

أربعة وعشرون ألفا و مئة وأربعة وخمسون : .....

32 185 : .....

145 123 : .....

2/ لاحظ العدد 245 167 ثم حدد :

رقم العشرات هو: .....

عدد العشرات هو: .....

3/ أملأ الفراغ بما يناسب

$$(2 \times \dots) + (3 \times \dots) + (4 \times 1\,000) + (6 \times \dots) + (5 \times \dots) + \dots = 234\,658$$

4/ ضع الرمز المناسب : < أو > أو = مكان النقط

$$645 \dots 2\,145$$

$$724\,567 \dots 256\,123$$

$$16\,372 \dots 16\,334$$

$$321\,000 + 77 \dots 321\,077$$

5/ رتب الأعداد التالية تزايدا.

1 470 ; 13 276 ; 14 650 ; 879 ; 136 790

6/ ضع وأنجز ما يلي :

$$345 + 687$$

$$2\,375 + 147$$

$$21\,524 + 1\,131$$

4 m 2 dm = ..... dm

2000 mm = ..... m = 20.....

7 cm = ..... mm

8/ اشترت أم لأطفالها أربع حقائب مدرسية إذا علمت أن ثمن الحقيبة الواحدة 85 درهما.

فكم المبلغ الذي أدته الأم؟

1

07.5

9/ توجه السيد يوسف إلى السوق الممتاز وبحوزته 5 000 درهم.

الأثمنة بالدرهم	السلع
1 700	• سرير 1
2 400	• خزانة
6 500	• سرير 2
1 600	• طاولة وكراسي

حدد سلعتين يستطيع يوسف شراؤهما؟

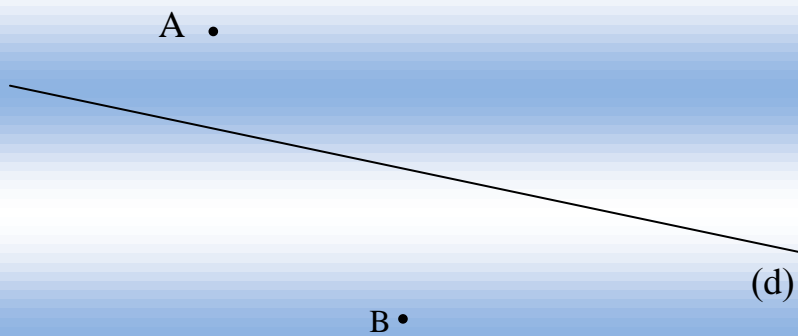
1

1.75

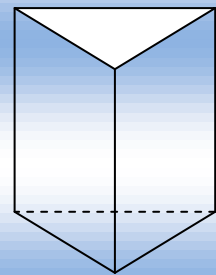
11/ أرسم:

أ- المستقيم (S) عموديا على (d) ويمر من النقطة A

ب- المستقيم (R) عموديا على (d) ويمر من النقطة B



10/ لاحظ المجسم.



أتمم:

عدد حروفه: .....

عدد وجوهه: .....

عدد رؤوسه: .....

اسمه:

أكمل المستقيمان (S) و(R).....