

A

المراقبة المستمرة الثانية في مادة الرياضيات (الأسدوس 2) السنة: 2013-2014



الاسم العائلي والشخصي: .....  
التاريخ: ..... / المستوى: الرابع ابتدائي

إمضاء الولي :

إمضاء الإدارة :

النقطة:

1. ضع وأنجز.

$$(9428-1652)+3185$$

$$529 \times 23$$

$$7193 \div 7$$

2. أكتب الأعداد الآتية بالحروف و الأرقام

تسع وحدات و خمسة وعشرون جزءا من المئة

6,05:

ثلاثة وثلاثون عشرا:.....

3. رتب الأعداد الآتية ترتيبا تناقصيا

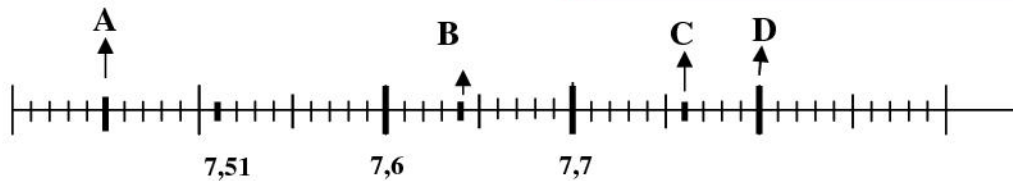
3,05 / 5,3 / 3 / 3,5 / 3,03

4. حول الأعداد الآتية الى الوحدة المطلوبة

$$8,06 \text{cm} = \dots \text{dm}$$

$$92 \text{m} = \dots \text{hm}$$

5. لاحظ المستقيم ثم أكتب الأعداد التي توافق كل نقطة



A → .....  
B → .....  
C → .....  
D → .....

مسألة

6

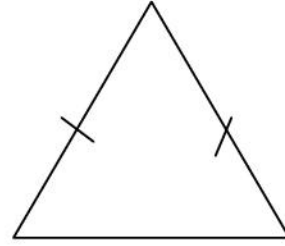
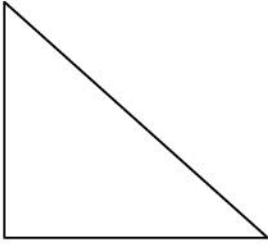
أراد بائع كتب أن يوزع 835 كتابا على 12 خزانة حيث تسع كل خزانة نفس عدد الكتب

• ما هو عدد الكتب الذي سيضعه البائع في كل خزانة.

• ما هو عدد الكتب المتبقية؟

سم المثلثات الآتية

7



.....

.....

أرسم مثلثا

8

\*أرسم مثلثا متساوي الأضلاع طول ضلعه 4cm

\*أرسم مثلثا قائم الزاوية و متساوي الساقين

