



الاسم: / القسم: الرابع ابتدائي / الفوج: B / التاريخ:



إمضاء الإدارة	إمضاء الأب أو الولي	النقطة



1 ضع و أنجز

9876 + 5738
8721 - 7521
45x14

2 - أ - ضع خط تحت مضاعفات 9

82 ; 72 ; 17 ; 27 ; 54 ; 89

ب- أوجد مضاعفات العدد 7 المحصورة بين 30 و 60
ج- العدد 720 مضاعف العدد 9 لماذا؟

3 أتمم المتساويات الآتية:

$$75 = (7 \times \dots) + \dots$$

$$65 = (8 \times \dots) + \dots$$

4 - بدأت عطلة نهاية الطور الأول من الموسم الدراسي يوم الأحد 5 فبراير 2006 و انتهت يوم الأحد 19 فبراير 2006

- كم يوم دامت العطلة
- حدد تاريخ استئناف الدراسة:

5 - أتمم

- نكتب الساعة 23 h أو الساعة ليلا
- نكتب الساعة أو الساعة 3 زوالا

6 - حول ما يلي:

$$22\text{Min} = \dots S-$$

$$2\text{ h} = \dots \text{min-}$$

$$12\text{h}15\text{min} = \dots \text{min-}$$

7- ذهبت رب أسرة الى متجر الأثاث في الساعة الخامسة زوالا، فاشترى غسالة بثمن 2000 درهما وثلاجة، واشترت طاولة بثمن 500 درهما و6 كراسي ثمن كرسي الواحد 130 درهما

-اقرأ المسألة جيدا ثم أتمم ملء الجدول:

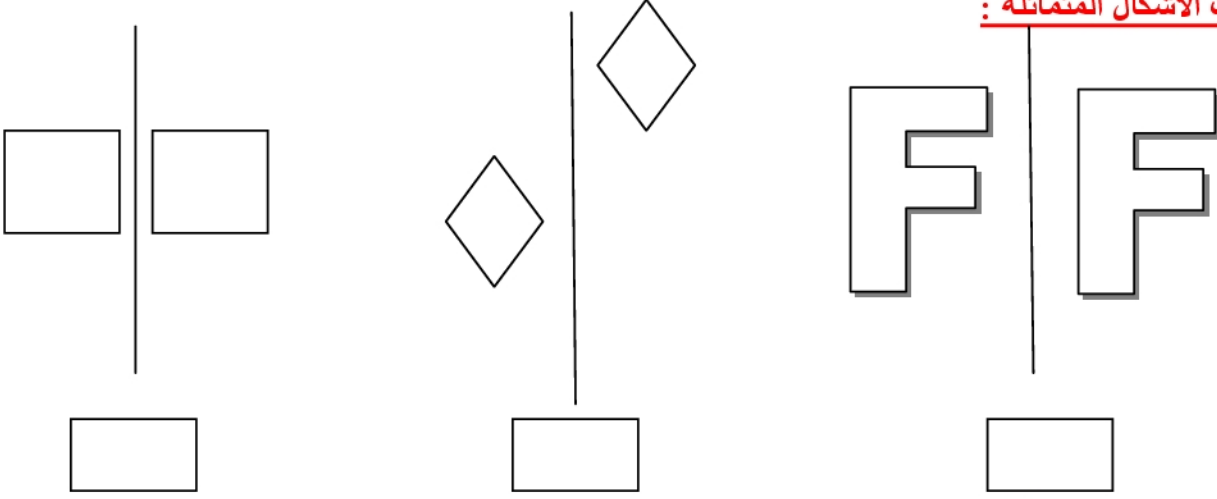
المعطيات الأساسية	المعطيات الزائدة	المعطيات الناقصة

هندسة:

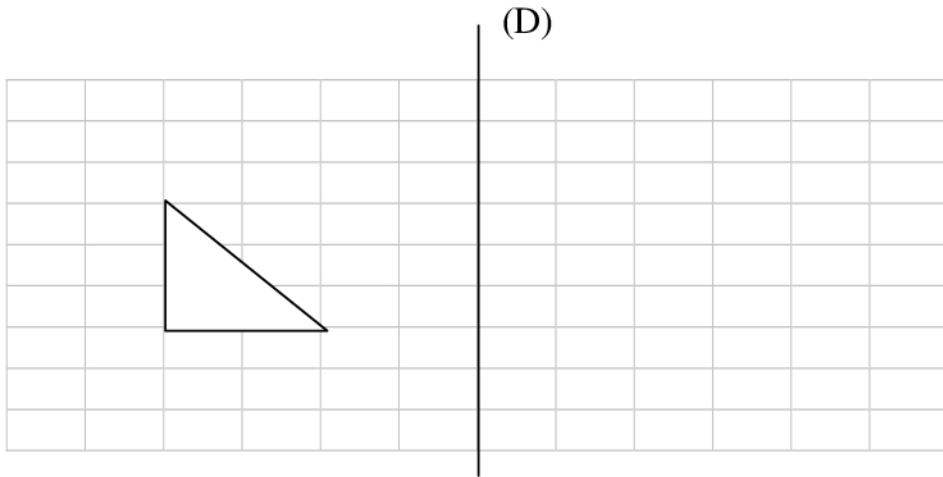
I

أ- اذكر خاصية واحدة من خصائص التماثل المحوري:

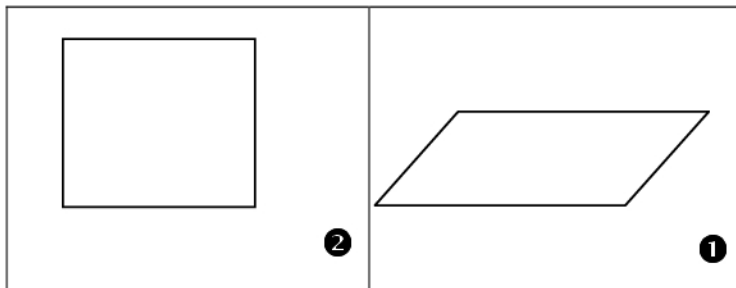
ب- ضع علامة تحت الأشكال المتماثلة :



ج- ارسم مماثل الشكل التالي بالنسبة لمحور التماثل (D)



II - ضع علامة (X) في الخانات المناسبة:



المضلع	كل ضلعين متقابلين فيه متوازيان	قطران يتقاطعان في المنتصف	قطران متقاسيان	قطران متعامدان	له أربع زوايا قائمة	الاسم
1						
2						