

تاريخ اليوم:




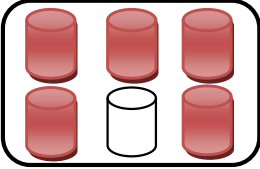
مراقبة مستمرة 1 المرحلة الأولى  
المستوى الأول

اسم التلميذ/ة:

رياضيات

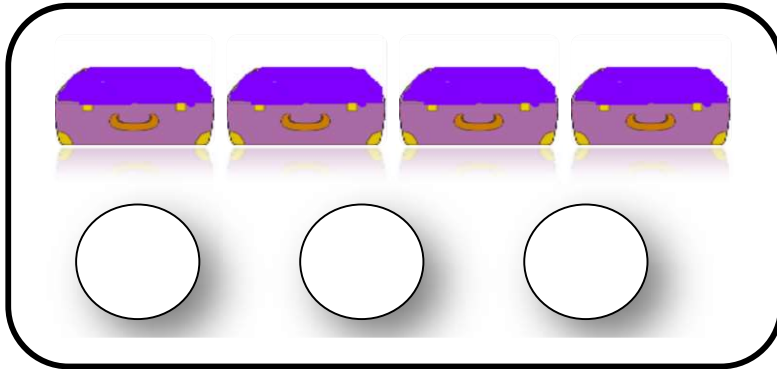
1 أَشْطَبُ عَلَى الْعُنْصُرِ الدَّخِيلِ فِي كُلِّ مَجْمُوعَةٍ: (1ن)

1



2 أُلَوِّنُ الْبَطَّاقَةَ الْمُنَاسِبَةَ: (1ن)

2




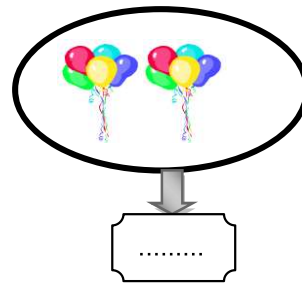
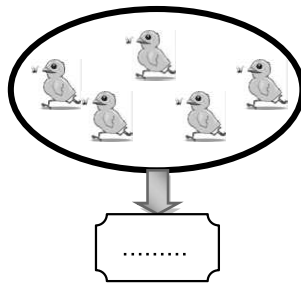
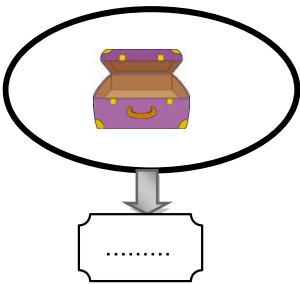
أَلْحَقَائِبُ بِقَدْرِ الدَّوَائِرِ

أَلْحَقَائِبُ أَكْثَرَ مِنَ الدَّوَائِرِ

أَلْحَقَائِبُ أَقَلُّ مِنَ الدَّوَائِرِ

3 أَكْتُبُ الْعِدَدَ الْمُنَاسِبَ دَاخِلَ الْبَطَّاقَةِ: (1ن)


3



4 أَعِدُّ الْأَشْكَالَ ثُمَّ أَمَلِّ الْأَجْدُولَ: (1ن)

4

.....	.....	.....	.....



أَلْوَنُ أَكْبَرَ عَدَدٍ: (ن1)

5

2

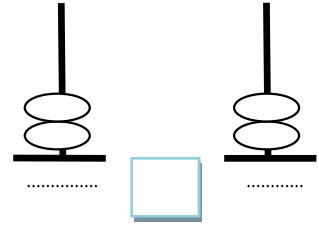
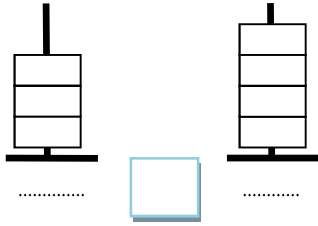
5

1

3

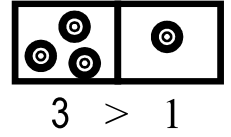
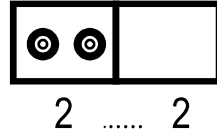
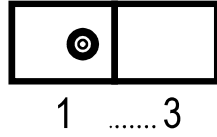
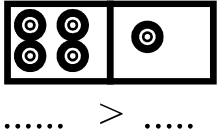
أَكْتُبِ الأَعْدَادَ المُمَثَّلَةَ عَلَى المَعْدَادِ ثُمَّ أَقَارِنُ بِاسْتِعْمَالِ الرُّمُوزِ: < = > (ن1)

6



أُكْمِلُ كَمَا فِي المِثَالِ التَّالِي: (ن2)

7



4 \* 2 \* 3 \* 5 \* 1

أُرَتِّبُ تَصَاعُدياً الأَعْدَادَ التَّالِيَةَ: (ن1)

8

..... < ..... < ..... < ..... < .....

أَقَارِنُ الأَعْدَادَ بِكِتَابَةِ الرِّمَزِ المُنَاسِبِ: > أو < أو = (ن1)

9

1 ..... 1

4 ..... 5

4 ..... 3

1 ..... 2