

المدة الزمنية : 45 دقيقة

الإسم :


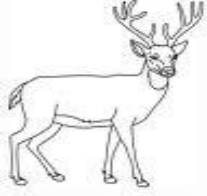
النقطة : 10 /

المراقبة المستمرة الثانية
للمستوى الأول ابتدائي

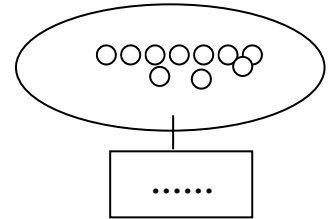
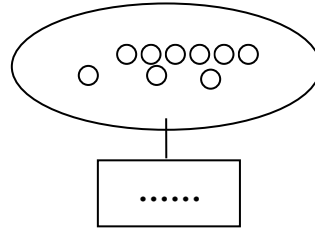
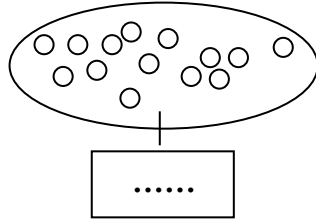
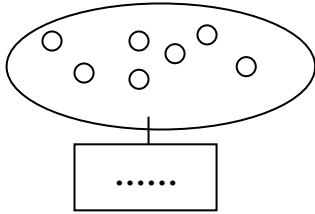
المادة : الرياضيات

التاريخ :

(1) ألون الحيوانات الموجودة داخل السياج: 1ن



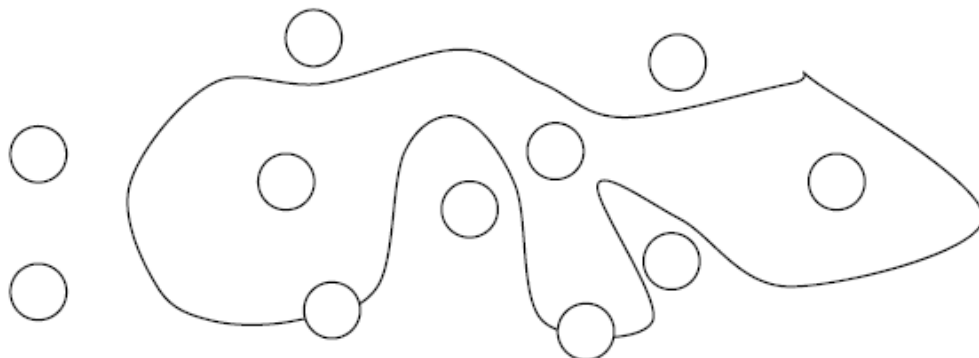
(2) أحسب وأكتب (2 ن) .



(3) أضع الرمز المناسب > أو < أو = : 1.50 ن

1 . 1	3 . 4	5 . 3
5 . 2	4 . 1	3 . 2

(4) ألون الأقرص التي توجد داخل الخط المغلق: (1 ن)



المدة الزمنية : 45 دقيقة

الإسم :

النقطة : 20 /

المراقبة المستمرة الأولى
للمستوى الأول ابتدائي

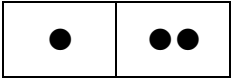
المادة : الرياضيات

التاريخ :

مجموعة مدارس الدالية

السنة الدراسية : 2017/2018

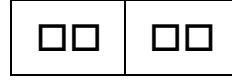
(5) أَلْحِظْ ثُمَّ اكْمَلْ : 1.50



... + ... = ...



... + ... = ...



... + ... = ...

(6) اكْتُبِ العَدَدَ المُنَاسِبَ بِالأَرْقَامِ وَبِالأَحْرُوفِ : 2.50 ن

.....
.

(7) أَلَوْنُ بِالأَحْمَرِ مَا يَوجَدُ عَلَى المائدة: 0.50 ن

