

# بِسْمِ اللَّهِ الرَّحْمَنِ الرَّحِيمِ

الموسم الدراسي 2010/2009

المادة: التاريخ والجغرافيا.

إعداد: الأستاذ محمد بلماحي

الثانوية التأهيلية طه حسين

## الفرض الكتابي رقم 1

### مادة التاريخ

اجب عن احد الموضوعين 9

#### الموضوع الأول

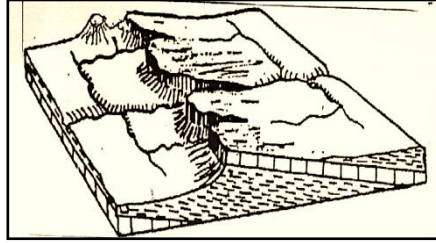
شهد القرن 16 بأوروبا الغربية ظهور الإصلاح الديني . في هذا الإطار اكتب مقالا تاريخيا توضح فيه الأسباب التي كانت وراء ذلك والنتائج التي خلفها.

#### الموضوع الثاني.

ساهمت الحركة الإنسية في ظهور الفكر الحداثي بأوروبا. وضح ذلك.

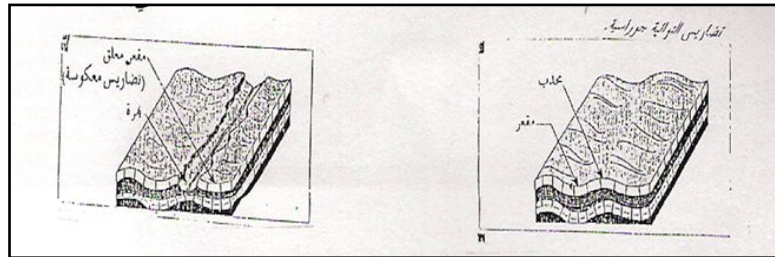
### مادة الجغرافيا

1 - حدد نوع الشكل التضاريسي وخصائصه البنيوية والمجاري المائية التي يتضمنها انطلاقا من الشكل أسفله. 2



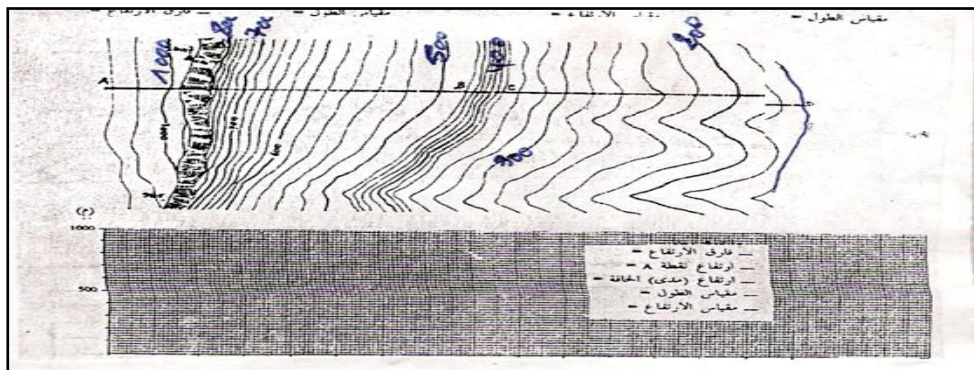
2

2 - حدد الفرق بين التضاريس المعكوسة والجوراسية انطلاقا من الشكل التالي.



3

3 - اتم رسم المقطع الطبوغرافي وحدد الهدف منه



4

4- حدد موضع وموقع مدينة تاوانات.

5

5- حدد الفرق بين الإحداثيات الجغرافية والإحداثيات الكارطوغرافية.

6

6- حدد خطوات التوطن الجغرافي.