

لا يسمح باستعمال الآلة الحاسبة والهاتف النقالة

**التمرين الأول: (4 ن)**

**(1) بسط واحسب ما يلي :**

$$c = \frac{3^4}{3^2} \quad \therefore \quad b = \sqrt{3} \times \sqrt{12} \quad \therefore \quad a = \sqrt{45} - \sqrt{20}$$

1,5 ن

1 ن

$$\frac{4}{\sqrt{3} + \sqrt{7}}$$

و

$$\frac{5}{\sqrt{11}}$$

**(2) احذف الجذر المربع من مقام الأعداد الآتية :**

2 ن

$$f = -x(x-3)(x+3) \quad \therefore \quad e = \left(2\sqrt{2} + \frac{3}{2}\right)^2 \quad \therefore \quad d = (\sqrt{2} - 3)^2$$

**التمرين الثاني: (4 ن)**

1 ن

**(1) قارن العددين:  $\sqrt{8}$  و 3 ثم استنتج مقارنة  $\frac{1}{3+\sqrt{7}}$  و  $\frac{1}{\sqrt{8}+\sqrt{7}}$ .**

4 ن

**(2)  $a$  و  $b$  عدنان حقيقيان بحيث:  $3 \leq a \leq 4$  و  $-4 \leq b \leq -3$ . أطر:  $a+b$  و  $a-b$  و  $a \times b$  و  $a^2b - 3$ .**

**التمرين الثالث: (6 ن)**

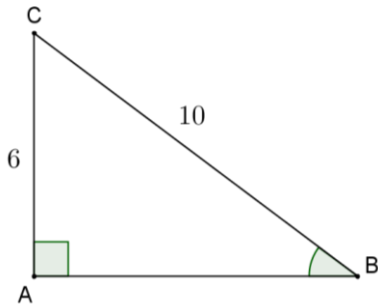
**ABC مثلث قائم الزاوية في A بحيث:  $BC = 10$  و  $AC = 6$ .**

**(1) بين أن:  $AB = 8$ .**

**(2) احسب:  $\cos(\widehat{ABC})$  و  $\sin(\widehat{ABC})$  و  $\tan(\widehat{ABC})$ .**

**(3) زاوية حادة  $\alpha$  بحيث:  $\cos \alpha = \frac{1}{2}$ .**

**بين أن:  $\sin \alpha = \frac{\sqrt{3}}{2}$  و استنتج  $\tan \alpha$ .**



1,25 ن

1,5 ن

2 ن

0,75 ن

$$A = \sin^2(65^\circ) + \cos(20^\circ) - \sin(70^\circ) + \sin^2(25^\circ) \quad \text{بسط : (4 ن)}$$

**التمرين الرابع: (4 ن)**

**ABC مثلث حيث:  $AM = 4$  و  $MB = 2$  و  $AN = 6$  و  $NC = 3$ .**

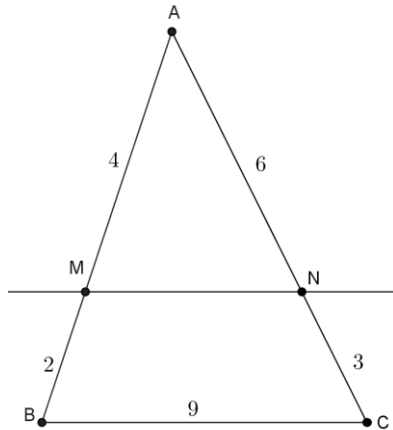
**و  $BC = 9$  و  $NC = 3$ .**

**(1) بين أن:  $(MN) \parallel (BC)$ .**

**(2) أحسب المسافة MN.**

1,5 ن

1,5 ن



**التمرين الخامس: (2 ن)**

**E و F و B و C نقط من دائرة مركزها O حيث  $\widehat{EOF} = 130^\circ$**

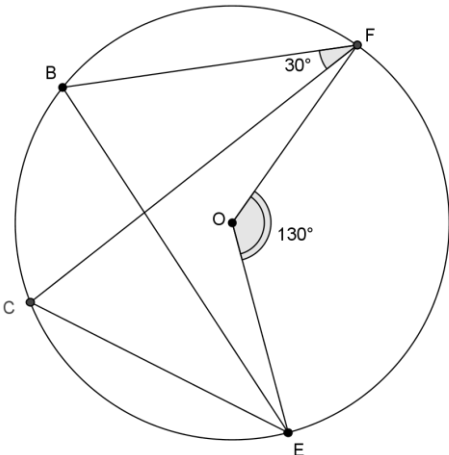
**و  $\widehat{BFC} = 30^\circ$ .**

**(1) احسب  $\widehat{BEC}$ ، علل جوابك**

**(2) احسب  $\widehat{ECF}$ ، علل جوابك**

1 ن

1 ن



الله ولي التوفيق