

TC-SIBM N°

Contrôle surveillé N° 2

Durée : 2h

Nom et Prénom : Note :

Sujet

Physique (6 pts)

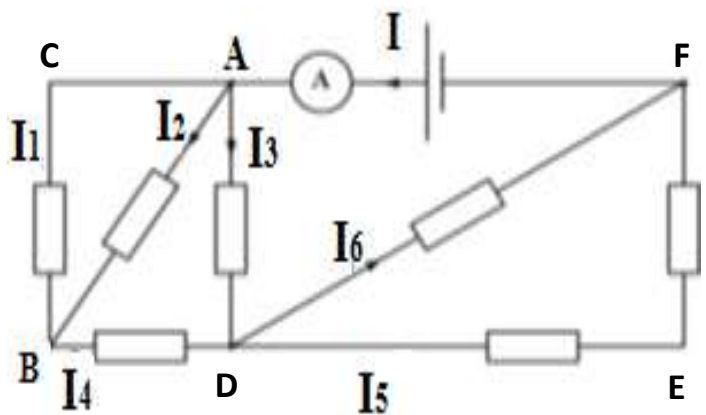
Soit le circuit électrique suivant.

1) Indiquer tous les nœuds : (0,5pt)

2) Indiquer le sens des courants manquants dans chaque branche du circuit. (0,5pts)

3) Pour mesurer l'intensité I , on utilise un ampèremètre à aiguille de classe $\alpha=1,5$ dont le calibre est fixé à $C=10\text{ A}$ et son aiguille indique la graduation $d=85$. L'échelle comporte 100 divisions

a) Calculer I ; l'incertitude absolue ΔI et la précision de la mesure. (1,5pts)



b) Calculer la quantité d'électricité Q traversant cette section du circuit pendant $\Delta t = 10\text{ s}$. (0,5pts)

4) En appliquant la loi des nœuds, écrire :

a) Une relation entre I , I_1 , I_2 et I_3 . (0,5pts)

b) Une relation entre I_1 , I_2 , et I_4 . (0,5pts)

c) Une relation entre I_3 , I_4 , I_5 et I_6 . (0,5pts)

5) Sachant que $I_2 = 2 \text{ A}$, $I_3 = 3 \text{ A}$ et $I_6 = 1,5 \text{ A}$, calculer les intensités manquantes. (1,5pts)

Physique 2 (3pts)

Sur la figure 1 et la figure 2, le voltmètre V_1 donne le résultat de mesure : $U_{PN} = 4,5 \text{ V}$. On cherche quelle est la tension U_{AB} affichée par le voltmètre V_2 .

1) Sachant que les voltmètres sont numériques, déterminer pour chaque voltmètre la borne **V** et la borne **COM** pour avoir des lectures positives. Représenter les tensions mesurées U_{PN} , U_{AB} , U_{BC} et U_{CD} . (1pt)

1) Pour la figure 1, quelle relation y a-t-il entre U_{AB} , U_{CD} et U_{PN} ?

Déterminer la valeur de U_{AB} et U_{CD} . (1pt)

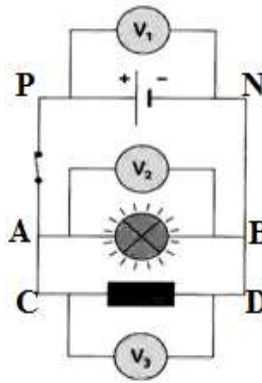


fig.1

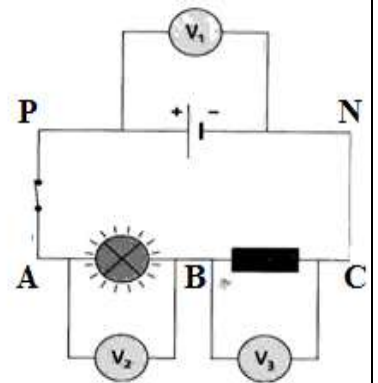


fig.2

2) Pour la figure 2, Le voltmètre V_3 indique $2,4 \text{ V}$. Déduire la tension U_{AB} mesurée par V_2 ? Nommer la loi utilisée. (1pt)

Physique 3 (3pts)

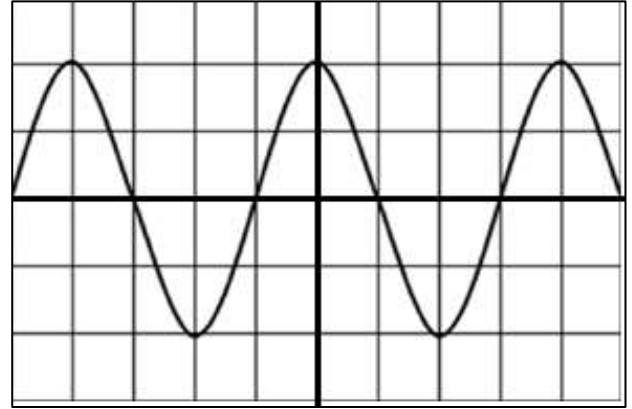
Un circuit électrique comprend en série : un générateur de tension, un résistor de résistance R et un oscilloscope branché aux bornes du résistor.

L'oscilloscope est réglé comme suit :

Sensibilité verticale : $S_y = 5 \text{ V/div}$;

Sensibilité horizontale : $S_x = 10 \text{ ms/div}$.

1) La visualisation à l'oscilloscope de la tension aux bornes du résistor fournit la courbe ci-contre :



a) Quelle est la nature de la tension observée ? **(0,5pts)**

.....
.....

b) Déterminer la période de cette tension. **(0,5pts)**

.....
.....

c) Déduire la fréquence de cette tension. **(0,5pts)**

.....

d) Déterminer la valeur maximale de la tension. **(0,5pts).**

.....

2) On branche un voltmètre aux bornes du résistor. Qu'appelle-t-on la tension mesurée par le voltmètre ? Donner sa valeur. **(1pt)**

.....
.....

Chimie 1 (3pts)

L'oxyde d'azote N_2O est utilisé comme gaz anesthésiant en chirurgie ou comme propulseur dans les bombes aérosol. Le volume molaire gazeux vaut $25,0 \text{ L}\cdot\text{mol}^{-1}$.

1) Quelle est la masse molaire de l'oxyde d'azote ? **(1pt)**

.....

2) Quelle quantité de matière contient un volume $V = 50,0 \text{ mL}$ de ce gaz. Déduire le nombre des molécules d'oxyde d'azote. **(1pt)**

.....
.....

3) Calculer la masse de $50,0 \text{ mL}$ de ce gaz. **(1pt)**

.....
.....

Chimie 2 (3pts)

La phénolphtaléine est un indicateur coloré acido-basique de formule $C_{20}H_{14}O_4$ Elle est utilisée en solution dans l'éthanol à la concentration $C=1,3.10^{-3}mol.L^{-1}$

1) Quel est le solvant et le soluté de cette solution ? (1pt)

.....
.....

2) Quelle quantité de matière de phénolphtaléine doit être utilisée pour préparer 250mL de cette solution alcoolique ? (1pt)

.....
.....

3) Quelle est la masse de phénolphtaléine correspondante ? (1pt)

.....
.....

Chimie 3 (2pts)

On dispose d'une solution aqueuse S_0 de diiode de concentration $C_0 = 4,10.10^{-2} mol.L^{-1}$. On souhaite préparer un volume $V_1 = 100 mL$ de solution de diiode de concentration $C_1 = 8.10^{-3} mol.L^{-1}$

1) Déterminer le volume V_0 de solution S_0 de diiode qu'on doit prélever. Puis déterminer le facteur de dilution. (1pt)

.....
.....
.....
.....

2) Décrire à l'aide de schéma la manière dont il doit procéder et la verrerie nécessaire. (1pt)

.....
.....
.....
.....
.....
.....

On donne en $g.mol^{-1}$: $M(C)=12$, $M(H)=1$, $M(O)=16$, $M(N)=14$
 $N_A=6, 02. 10^{23}mol^{-1}$