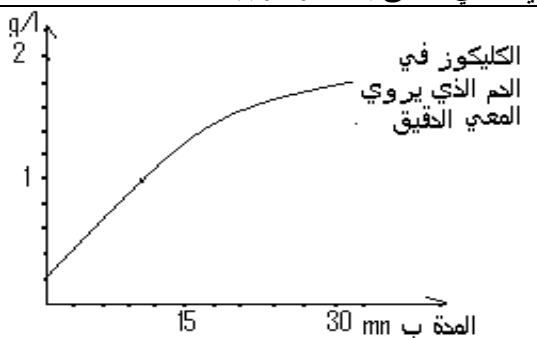
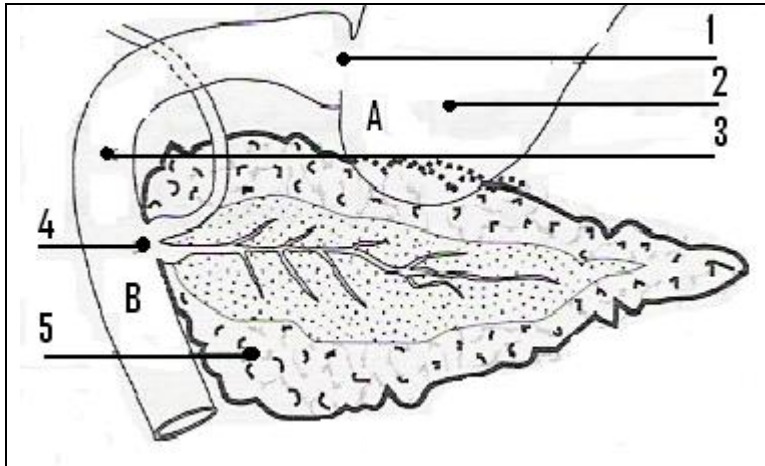
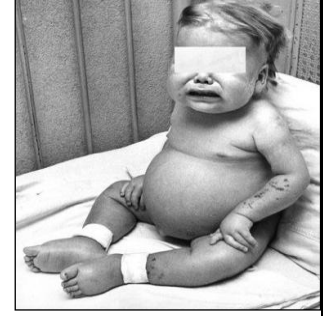


الأنشطة			التنقيط												
<p>I. أتمم الجدول بتحديد طبيعة بعض المواد المراد الكشف عنها في الغذاء A .</p> <table border="1"> <thead> <tr> <th>التجارب</th> <th>الملاحظات</th> <th>المادة المراد الكشف عنها</th> <th>موجودة أو غير موجودة</th> </tr> </thead> <tbody> <tr> <td>رشاحة الغذاء A + نترات الفضة</td> <td>تلون بالأصفر</td> <td></td> <td>غير موجودة</td> </tr> <tr> <td>رشاحة الغذاء A + محلول فهلينغ + تسخين</td> <td>راسب أحمر أجوري</td> <td>الكليكون</td> <td>موجودة</td> </tr> </tbody> </table>			التجارب	الملاحظات	المادة المراد الكشف عنها	موجودة أو غير موجودة	رشاحة الغذاء A + نترات الفضة	تلون بالأصفر		غير موجودة	رشاحة الغذاء A + محلول فهلينغ + تسخين	راسب أحمر أجوري	الكليكون	موجودة	2 ن
التجارب	الملاحظات	المادة المراد الكشف عنها	موجودة أو غير موجودة												
رشاحة الغذاء A + نترات الفضة	تلون بالأصفر		غير موجودة												
رشاحة الغذاء A + محلول فهلينغ + تسخين	راسب أحمر أجوري	الكليكون	موجودة												
<p>II. تمثل الوثيقة التالية صورة لطفل مصاب بمرض ناتج عن سوء التغذية . حدد ما يلي :</p> <p>1- اسم المرض : .. الكواشيوركور ..</p> <p>2- الأعراض : أوبما عامة + ضعف النسيج العضلي ..</p> <p>3- السبب : .. نقص في البروتينات ..</p> <p>4- الوقاية : .. تناول أغذية بروتينية ..</p>			5 ن												
<p>III. تمثل الوثيقة جانبه جزء من الأنبوب الهضمي مع إحدى الغدد الملحقة به :</p> <p>1 - ضع أسماء الأرقام التالية : (2.5 ن)</p> <p>1 : .. بوابة المعدة ..</p> <p>2 : .. المعدة ..</p> <p>3 : .. الشئ عشري ..</p> <p>4 : .. فتحة بنكرياسية ..</p> <p>5 : .. بنكرياس ..</p> <p>2 - سم الإفرازات في كل من : (1 ن)</p> <p>العضو A : .. عصارة معدية ..</p> <p>العضو B : .. عصارة معوية ..</p> <p>3 - تتضمن إفرازات العضو A أنزيمات خاصة بهضم البروتينات : (2 ن)</p> <p>حدد نواتج هضم البروتينات في هذا العضو و الأنزيم المتدخل في هذه العملية : .. النواتج : عديد الببتيد ..</p> <p>4 - تبين تحاليل لعينات أخذت من العضو B وجود أنزيمات هضمية و مواد مغذية بسيطة ، أتمم الجدول التالي : (4.5 ن)</p> <table border="1"> <thead> <tr> <th>نواتج الهضم</th> <th>المادة الخاضعة للهضم</th> <th>الأنزيم الهضمي</th> </tr> </thead> <tbody> <tr> <td>مالتوز .. أحماض دهنية + كليسيرول .. كليكون ..</td> <td>النشا .. عديدات البيبتيد .. دهون .. مالتوز ..</td> <td>نشواز .. بيتيداز / بروتياز .. ليباز .. مالتاز ..</td> </tr> </tbody> </table>			نواتج الهضم	المادة الخاضعة للهضم	الأنزيم الهضمي	مالتوز .. أحماض دهنية + كليسيرول .. كليكون ..	النشا .. عديدات البيبتيد .. دهون .. مالتوز ..	نشواز .. بيتيداز / بروتياز .. ليباز .. مالتاز ..	10 ن						
نواتج الهضم	المادة الخاضعة للهضم	الأنزيم الهضمي													
مالتوز .. أحماض دهنية + كليسيرول .. كليكون ..	النشا .. عديدات البيبتيد .. دهون .. مالتوز ..	نشواز .. بيتيداز / بروتياز .. ليباز .. مالتاز ..													
<p>IV. يمثل المبيان جانبه نتائج معايرة تركيز الكليكون في الدم الذي يروي المعى الدقيق بعد تناول وجبة غذائية : - حل و فسر هذه النتائج (المطلوب الاختصار و التركيز في الجواب)</p> <p>ارتفاع تدريجي لتركيز الكليكون في الدم بعد تناول الوجبة الغذائية</p> <p>يقل مروره من جوف المعى الدقيق إلى العروق الدموية في ظاهرة الامتصاص</p>			3 ن												



الأنشطة			التنقيط															
<p>I. أتمم الجدول بتحديد طبيعة بعض المواد المراد الكشف عنها في الغذاء A .</p> <table border="1"> <thead> <tr> <th>التجارب</th> <th>الملاحظات</th> <th>المادة المراد الكشف عنها</th> <th>موجودة أو غير موجودة</th> </tr> </thead> <tbody> <tr> <td>رشاحة الغذاء A + نترات الفضة</td> <td>تلون بالأصفر</td> <td>ملح الكلورورات</td> <td>غير موجود .</td> </tr> <tr> <td>رشاحة الغذاء A + محلول فهلينغ + تسخين</td> <td>راسب أحمر أجوري</td> <td>الكليكوذ .</td> <td>موجود ...</td> </tr> </tbody> </table>			التجارب	الملاحظات	المادة المراد الكشف عنها	موجودة أو غير موجودة	رشاحة الغذاء A + نترات الفضة	تلون بالأصفر	ملح الكلورورات	غير موجود .	رشاحة الغذاء A + محلول فهلينغ + تسخين	راسب أحمر أجوري	الكليكوذ .	موجود ...	2 ن			
التجارب	الملاحظات	المادة المراد الكشف عنها	موجودة أو غير موجودة															
رشاحة الغذاء A + نترات الفضة	تلون بالأصفر	ملح الكلورورات	غير موجود .															
رشاحة الغذاء A + محلول فهلينغ + تسخين	راسب أحمر أجوري	الكليكوذ .	موجود ...															
<p>II. تمثل الوثيقة التالية صورة لطفل مصاب بمرض ناتج عن سوء التغذية . حدد ما يلي :</p> <p>1- اسم المرض : .. الكواشيوركور ..</p> <p>2- الأعراض : أوديمًا عامة + ضعف النسيج العضلي ..</p> <p>3- السبب : نقص في البروتينات ..</p> <p>4- الوقاية : تناول أغذية بروتينية ..</p>			5 ن															
<p>III. تمثل الوثيقة جانبه جزء من الأنبوب الهضمي مع إحدى الغدد الملحقة به :</p> <p>1 - ضع أسماء الأرقام التالية : (2.5 ن)</p> <p>1 : .. بوابة المعدة ..</p> <p>2 : .. معدة ..</p> <p>3 : .. إثنى عشري ..</p> <p>4 : .. فتحة بنكرياسية ..</p> <p>5 : .. بنكرياس ..</p> <p>2 - سم الإفرازات في كل من : (1 ن)</p> <p>العضو A : عصارة معدية ..</p> <p>العضو B : عصارة معوية ..</p> <p>3 - تتضمن إفرازات العضو A أنزيمًا خاصًا بهضم البروتينات : (2 ن)</p> <p>حدد نواتج هضم البروتينات في هذا العضو و الأنزيم المتدخل في هذه العملية : النواتج : عديد الببتيد ..</p> <p>..... الأنزيم : بيسين ..</p> <p>4 - تبين تحاليل لعينات أخذت من العضو B وجود أنزيمات هضمية و مواد مغذية بسيطة ، أتمم الجدول التالي : (4.5 ن)</p> <table border="1"> <thead> <tr> <th>الأنزيم الهضمي</th> <th>المادة الخاضعة للهضم</th> <th>نواتج الهضم</th> </tr> </thead> <tbody> <tr> <td>نشواز</td> <td>.. النشا</td> <td>.. ملتوز .</td> </tr> <tr> <td>.. ببتيداز / بروتياز .</td> <td>عديدات الببتيدي</td> <td>.. أحماض أمينية .</td> </tr> <tr> <td>.. لبياز ..</td> <td>.. دهون</td> <td>أحماض دهنية + كليسيرول</td> </tr> <tr> <td>.. ملتااز ..</td> <td>مالتوز</td> <td>.. كليكوذ ..</td> </tr> </tbody> </table>			الأنزيم الهضمي	المادة الخاضعة للهضم	نواتج الهضم	نشواز	.. النشا	.. ملتوز .	.. ببتيداز / بروتياز .	عديدات الببتيدي	.. أحماض أمينية .	.. لبياز دهون	أحماض دهنية + كليسيرول	.. ملتااز ..	مالتوز	.. كليكوذ ..	10 ن
الأنزيم الهضمي	المادة الخاضعة للهضم	نواتج الهضم																
نشواز	.. النشا	.. ملتوز .																
.. ببتيداز / بروتياز .	عديدات الببتيدي	.. أحماض أمينية .																
.. لبياز دهون	أحماض دهنية + كليسيرول																
.. ملتااز ..	مالتوز	.. كليكوذ ..																
<p>IV. يمثل المبيان جانبه نتائج معايرة تركيز الكليكوذ في الدم الذي يروي المعى الدقيق بعد تناول وجبة غذائية :</p> <p>- حل و فسر هذه النتائج (المطلوب الاختصار و التركيز في الجواب)</p> <p>ارتفاع تدريجي لتركيز الكليكوذ في الدم بعد تناول الوجبة الغذائية</p> <p>بفعل مروره من جوف المعى الدقيق الى العروق الدموية في ظاهرة الامتصاص</p>			3 ن															

