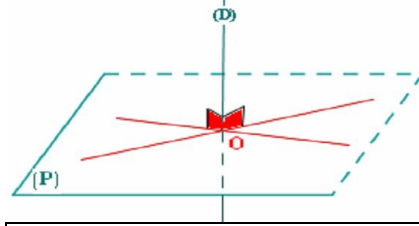


الهندسة الفضائية: حساب الحجم - تكبير و تصغير

I. تعامد مستقيم و مستوى:

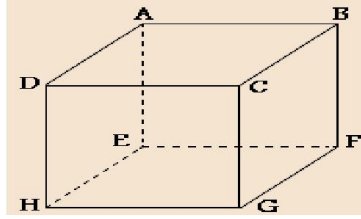
تعريف: يكون مستقيم (D) عموديا على مستوى (P) في نقطة O، إذا كان (D) عموديا على مستقيمين من (P) متقاطعين في O.



في الشكل جانبه: المستقيم (D) عمودي في النقطة O على المستقيمين (L) و (K) المتقاطعين ضمن المستوى (P) إذن $(D) \perp (P)$

خاصية: إذا كان المستقيم (D) عموديا على المستوى (P) في النقطة O، فإن المستقيم (D) عمودي على جميع المستقيمت الواقعة ضمن المستوى (P) و المارة من O.

مثال: ABCDEFGH متوازي المستطيلات:



1. بين أن $(CG) \perp (EFGH)$

2. استنتج أن $(CG) \perp (GE)$

التصحيح:

1. لدينا CGFB إذن $(CG) \perp (...)$

ولدينا CGHD إذن $(CG) \perp (...)$

و بما أن (...) و (...) متقاطعان ضمن المستوى (.....) إذن $(CG) \perp (...)$

2. بما أن (CG) عمودي على المستوى (.....) و المستقيم (.....) موجود ضمن المستوى (.....) فإن $(CG) \perp (...)$

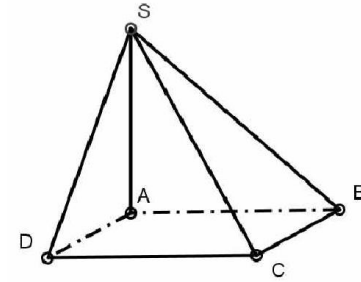
تمرين:

SABCD هرم رباعي القاعدة حيث المثلثان SAD و SAB قائما الزاوية في A.

1- بين أن $(SA) \perp (ABCD)$

ماذا نسمي المستقيم (SA)؟

2- استنتج أن $(SA) \perp (AC)$



II. تطبيق مبرهنة فيثاغورس في الفضاء:

نعتبر هرا منتظما SABCD

بحيث : $AB = 3\sqrt{2}$ و $SA = 5$

• لنحسب AC :

لدينا SABCD

إذن قاعدته ABCD

ومنه المثلث

إذن حسب مبرهنة فيثاغورس

ت.ع و منه $AC = \dots\dots\dots$

• لنحسب SO : أولا نبين أن المثلث ASO قائم الزاوية في O

لدينا (SO) ارتفاع للهرم SABCD إذن $(SO) \perp (...)$ و

بما أن $(AO) \subset (...)$ فإن $(AO) \perp (SO)$ و منه المثلث

ASO قائم الزاوية في O. إذن حسب مبرهنة فيثاغورس

ومنه

II. تطبيق مبرهنة طاليس في الفضاء:

في الشكل جانبه ABCD رباعي أوجه. في المستوى (ADC) لدينا

$E \in [AD]$ و $F \in [AC]$ بحيث

$(EF) \parallel (DC)$ حيث $AE = 3$

و $AD = 9$ و $EF = 2$ أحسب DC لدينا حسب خاصية طاليس المباشرة:

..... = = و منه = و بالتالي $DC = \dots\dots\dots$

III. التكبير و التصغير:

تعريف: انطلاقا من شكل، نستخرج شكلا آخر يشابهه و ذلك بضرب أبعاده في عدد حقيقي موجب قطعاً k و يخالف 1.

ملاحظات:

نحصل على شكل مكبر إذا كان $k > 1$. نقول إننا قمنا بتكبير نسبته k

نحصل على شكل مصغر إذا كان $k < 1$. نقول إننا قمنا بتصغير نسبته k

• أثر التكبير و التصغير على المساحات و الحجم:

قاعدة: عند تكبير أو تصغير مجسم في الفضاء:

إذا ضربنا الأبعاد في عدد k فإن :

★ المساحات تضرب في k^2 .

★ الحجم تضرب في k^3 .

ليكن B هو المجسم الناتج عن تكبير أو تصغير نسبته k لمجسم A • إذا كان a هو طول حرف في المجسم A ، و كان a' هو طول الحرف

الموافق له في المجسم B فإن : $a' = a \times k$ و منه $k = \frac{a'}{a}$

• إذا كانت S هي مساحة المجسم A ، و كانت S' هي مساحة المجسم B

فإن $S' = S \times k^2$ و منه $k^2 = \frac{S'}{S}$

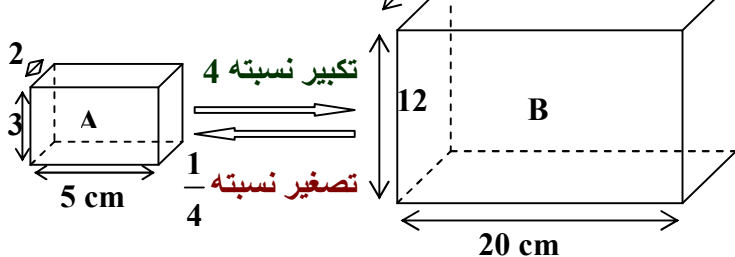
• إذا كان V هو حجم المجسم A ، و كان V' هو حجم المجسم B فإن

$V' = V \times k^3$ و منه $k^3 = \frac{V'}{V}$

• **مثال:** متوازي المستطيلات B هو تكبير لمتوازي المستطيلات A

نسبة التكبير هي 4 :

الحجم : $V = 30 \text{ cm}^3$



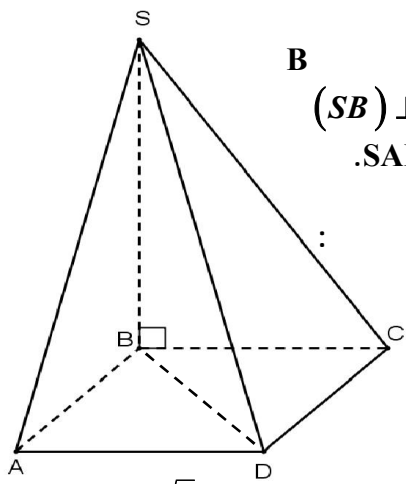
المجسم B هو تكبير للمجسم A نسبة التكبير هي 4.

• حصلنا على أطوال المجسم B بضرب أطوال المجسم A في العدد

• نضرب S مساحة المجسم A في فنحصل على S' مساحة B

• نضرب V حجم المجسم A في فنحصل على V' حجم B:

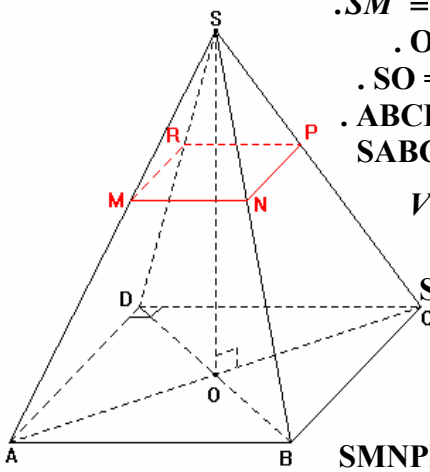
$$V' = V \times \dots\dots = 30 \times \dots\dots = 1920 \text{ cm}^3$$



- DB=5cm : - (1)
 SBD - (- (2)
 (SB) ⊥ (ABCD) ()
 .SABCD V - (3)
 .V= 48cm³ -
 : 10 - (4)
 h' -- ()
 . V' - ()

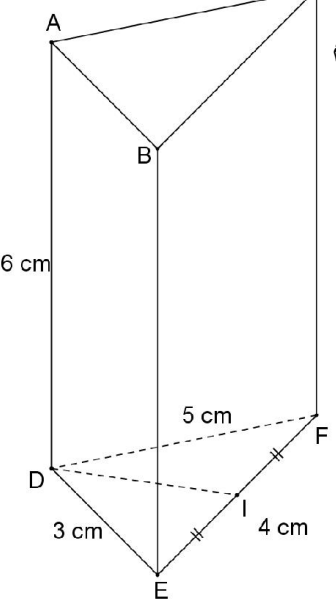
التمرين 6:

في الشكل جانبه SABCD هرم منتظم بحيث $AB = 3\sqrt{2}$ cm و $SA = 5$ cm و $SM = 2$ cm و $OA = 3$ cm و $SO = 4$ cm .



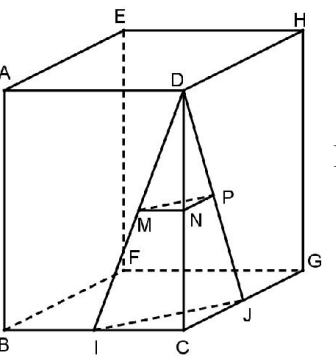
- (1) - أ- تحقق أن $OA = 3$ cm .
 ب- استنتج أن $SO = 4$ cm .
 ج- أحسب مساحة المربع ABCD .
 د- بين أن حجم الهرم SABCD هو $V_{SABCD} = 24cm^3$
 (2) - نعتبر أن الهرم SMNPR يمثل تصغيرا للهرم SABCD
 أ- تحقق أن نسبة هي $\frac{2}{5}$
 ب- استنتج مساحة المربع MNPR و حجم الهرم SMNPR

التمرين 7:



- في الشكل جانبه ABCDEF موشور قائم
 (1) - أ - بين DEF قائم الزاوية في E .
 ب- لتكن I منتصف القطعة [EF] .
 أحسب : DI .
 (2) - بن أن : $(AD) \perp (DI)$
 (3) بين أن حجم ABCDEF هو :
 $V = 36 cm^3$
 (4) - قمنا بتكبير ABCDEF فحصلنا على موشور قائم مساحة قاعدته هي $24cm^2$
 أ) -- حدد نسبة التكبير.
 ب) -- أحسب حجم الموشور القائم المحصل عليه بعد التكبير.

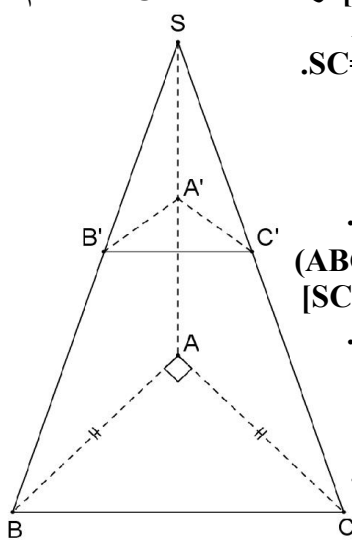
التمرين 8:



- نعتبر في الفضاء مكعبا ABCDEFGH بحيث : $AB = 4$
 لتكن I و J و M و N و P منتصفات القطع [BC] و [CG] و [DI] و [DC] و [DJ] و [DI] على التوالي .
 (1) أحسب حجم ABCDEFGH
 ثم أحسب حجم رباعي الأوجه DCIJ
 (2) - بين أن : $(MN) \parallel (IC)$
 واحسب MN
 (3) - أحسب DM .
 (4) - نقبل أن رباعي الأوجه DNMP تصغير لرباعي الأوجه DCIJ .
 حدد نسبة التصغير واحسب حجم رباعي الأوجه DNMP

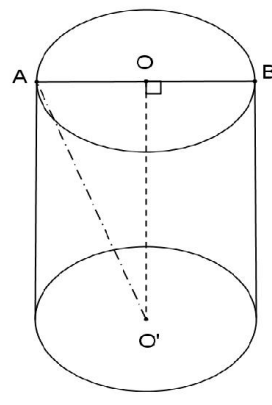
التمرين 1: تمارين في الهندسة الفضائية

SABC رباعي أوجه ارتفاعه [SA] و قاعدته المثلث ABC القائم الزاوية و المتساوي الساقين في A بحيث : $SC=7cm$ و $AB=2cm$



- (1) - بين أن : $SA = 3\sqrt{5} cm$
 (2) - ليكن V حجم الهرم SABC . بين أن : $V = 2\sqrt{5} cm^3$
 (3) - نعتبر مستوى مواز للمستوى (ABC) و يقطع الأضلاع [SA] و [SB] و [SC] في النقط A' و B' و C' على التوالي.
 بحيث : $SA' = \frac{\sqrt{5}}{5} SA$
 أحسب : V' حجم الهرم SA'B'C'

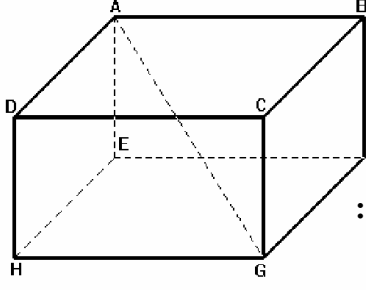
التمرين 2:



- يمثل الشكل جانبه أسطوانة قائمة بحيث قطر قاعدتها $AB = 2$ cm و ارتفاعها $h = 10$ cm
 أ) -- أحسب المسافة AO'
 ب) -- أحسب V حجم الأسطوانة .
 ت) -- أحسب S_L المساحة الجانبية للأسطوانة .
 ج) -- أحسب V' و S'_L الحجم و المساحة الجانبية للأسطوانة المحصل عليها عند تكبير أبعاد هذه الاسطوانة بنسبة 2.

التمرين 3:

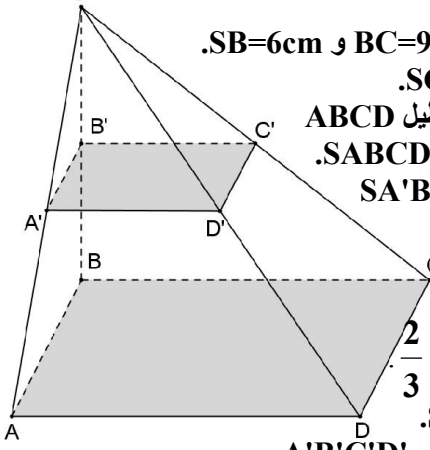
حجرة دراسية على شكل متوازي مستطيلات قائم ABCDEFGH أبعاده $AD=2m$ و $AE = 3m$ و $AB = 6m$



- (1) --- أ) -- بين أن المثلث AEG قائم الزاوية في E .
 ب) -- بين أن : $AG = 7 m$
 (2) - أ) - أحسب V حجم الحجرة
 ب) -- تم إنجاز نموذج مصغر للحجرة نسبته $\frac{1}{10}$
 بين أن حجم هذا النموذج هو :
 $v' = 3,6 \times 10^{-2} cm^3$

التمرين 4:

SABCD هرم قاعدته المستطيل ABCD، حيث أن (SB) عمودي على كل من (AB) و (BC) ، وأن : $SB=6cm$ و $BC=9cm$ و $AB=3cm$



- (1) --- أ) -- أحسب المسافة SC .
 ب) -- أحسب مساحة المستطيل ABCD ثم أحسب V حجم الهرم SABCD
 (2) - نعتبر أن الهرم SA'B'C'D' هو تصغير للهرم SABCD و أن $V' = 16 cm^3$
 أ) - بين أن نسبة التصغير هي $\frac{2}{3}$
 ب) -- أحسب المسافة : SB' .
 ج) -- أحسب مساحة المستطيل A'B'C'D'

التمرين 5:

SBCD رباعي أوجه ارتفاعه [SD] و قاعدته المثلث ABC القائم الزاوية و المتساوي الساقين في A بحيث : $SD=13cm$ و $SB=12cm$ و $AD=3cm$ و $AB=4cm$