

الإسم:

.....
.....

مراقبة مستمرة 2 الدورة الأولى

وزارة التربية الوطنية

نيابة:

مدرسة:

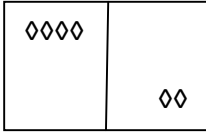
المستوى الأول

2013\2012

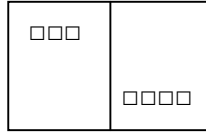
النقطة:

مادة الرياضيات

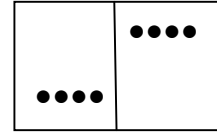
1- ألاحظ ثم أكمل:



$... + ... = ...$



$... + ... = ...$



$... + ... = ...$

2- أكمل العمليات:

$5+2=...$	$6+3=...$	$...+2=3$	$...+0=8$	$1+...=4$
-----------	-----------	-----------	-----------	-----------

3- أرتب من الأطول إلى الأصغر:



