

الاسم العائلي و الشخصي : المستوى الأولي ابتدائي التاريخ:



إمضاء الإدارة	إمضاء الأب أو الولي	النقطة



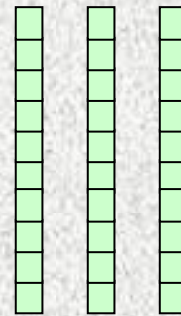
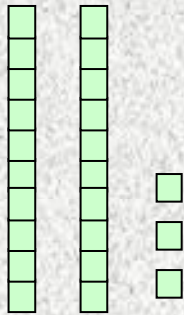
1 / أملأ الجدول

.....	16
.....	40
ثمانية و ثلاثون	..
اثنان و خمسون	..



2 / أرسم 26 قرصا

3 / أملأ الفراغ بما يناسب:



$$\dots + \dots + \dots = \dots$$

$$\dots + \dots + \dots = \dots$$

4 / أكمل :

$$8 + 8 = \dots$$

$$10 + 10 + 10 + 10 = \dots$$

$$30 + 6 = \dots$$

$$20 + \dots = 25$$

5 / أقرن باستعمال الرمز المناسب : < أو > أو =

• 9 12

• 10 + 3 13

• 18 11

• 10 + 2 10 + 6



6 / أرتب الأعداد التالية من الأكبر إلى الأصغر.

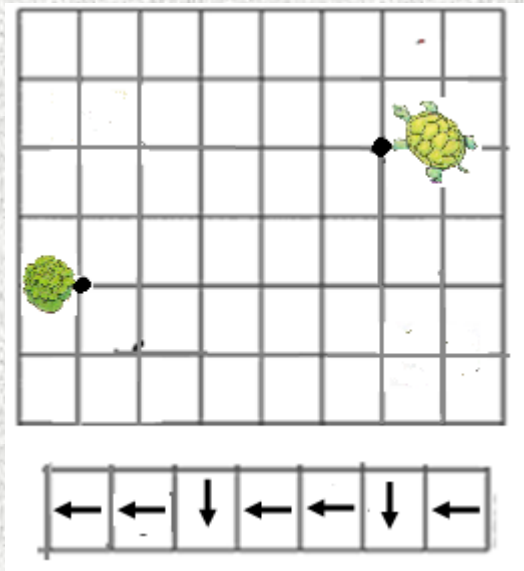
8 ; 10 ; 19 ; 4 ; 13

..... > > > >

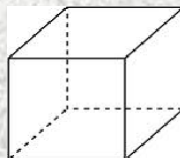
7 / أكتب التوقيت بالنسبة لكل ساعة



8 / أرسم المسار الذي ستسلكه السلحفاة للوصول إلى الخس



9 / أضع علامة (X) تحت المجسمات التي لا تتدرج .



1

0.75

1.5

1

0.75