

الملاحظة	الإدارة	الأب أو الولي
10		

1- أصل بخط وأكمل:

75	$5 + 5 + 5$
...	$10 + 10 + 10 + 10$
$5 \times 3$	مائة وخمسة وثلاثون
40	.....

2- أكتب عددا مناسباً مكان النقط:

$25 > \dots$

;

$6 < \dots$

3- أكتب عدد الأقلام.



..... = . × . = ..

4- أضع الرقم المناسب مكان كل النقطة:

$$\begin{array}{r} . \quad 4 \\ + \\ 5 \quad . \\ \hline 8 \quad 7 \end{array}$$

$$\begin{array}{r} 3 \quad 2 \\ + \\ . \quad . \\ \hline 6 \quad 4 \end{array}$$

5- أثناء فترة الاستراحة دعك أصدقائك للعب بالكل.


في بداية الاستراحة كان لدى صديقك علي 5 كلل، وفي نهايتها أصبح لديه 12 كلة.

أ- أحيط الجواب الصحيح:



خسر علي.

ربح علي.

ب- أحسب عدد الكلل التي ربحها علي:



6- قرر حسن وأحمد جمع النقود، ولما فتح كل واحد حسالته وجد ما يلي:





 أحمد	 حسن
20 درهما 20 درهما 10 دراهم 1 درهم 1 درهم	20 درهما 50 درهما 5 دراهم

2.5


أ- أحسب المبلغ الذي وفره كل طفل:

- يملك حسن : ..... درهما | - يملك أحمد: ..... درهما

ب- دخل حسن و أحمد متجرا لبيع اللعب.

 20 درهما	 5 دراهم	 23 درهما	 10 دراهم
--	---	---	--

- ألاحظ مشتريات حسن ثم أحسب ثمنها:

  
حسن



..... =

أحسب .....  $20 + 23 + 5 =$  ثم أكتب مشتريات أحمد:

  
أحمد

7- أرسم مستقيما يمر من النقطتين A و B .

A •

B •