




الأسدوس الثاني

| الولي | الإدارة | النقطة |
|-------|---------|--------|
| | | 10 |

A



المادة الرياضيات

الاسم:

التاريخ:

الفوج:

المستوى: الثانية ابتدائي



532 + 112

;

385 + 123

;

165 + 56

1 / أضع و أنجز

1.5

2 / أنجز:

$$\begin{array}{r} 542 \\ - 231 \\ \hline \end{array}$$

$$\begin{array}{r} 534 \\ - 12 \\ \hline \end{array}$$

1

3 / أملأ الفراغ بما يناسب:

$$\begin{array}{r} 354 \\ + \quad \quad 3 \\ \hline 67 \end{array}$$

1

4 / دخل أحمد محلا تجاريا فلاحظ اللعب التاليه:



130 درهما



80 درهما



120 درهما



650 درهما

1.5

أ - حدد أعلى سلعة.

.....

ب - اختار الدراجة و الشاحنة . أحسب ثمن المشتريات:

.....

.....

.....

.....

5 / يملك ياسين 25 كلة ، لعب فخر 12 كلة .

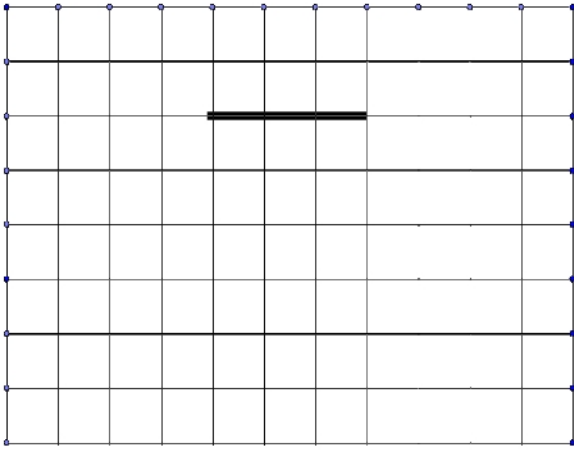
كم بقي لديه من كلة ؟

.....
.....
.....
.....

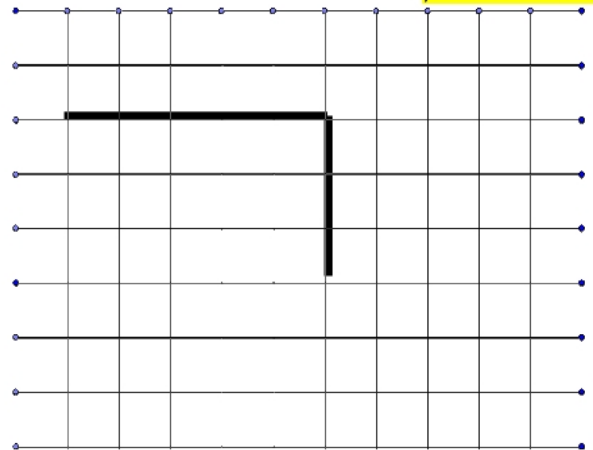
6 / أكتب اسم الشكل :



7 / أكمل الرسم :



مربع



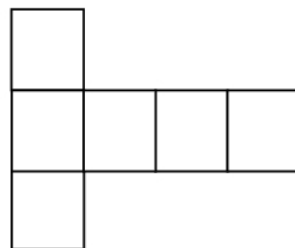
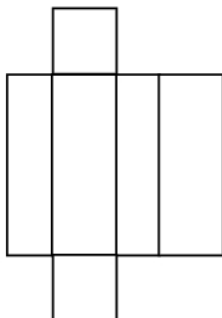
مستطيل

8 / أصل بخط :

- مكعب
- متوازي المستطيلات
- هرم



9 / ألون نشر المكعب :

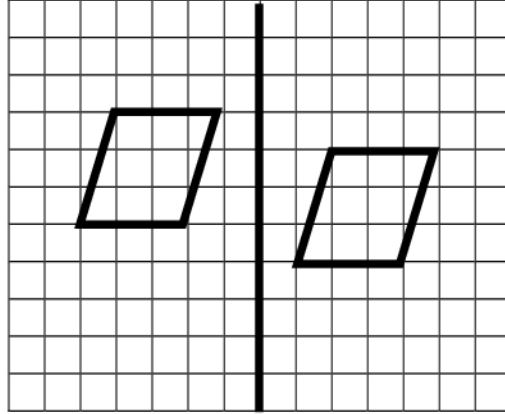


/10 /الاحظ ثم أجيب :

الشكلان متماثلان



ياسين



الشكلان غير متماثلين



علي

من منهما على صواب : علي أم ياسين ؟

