

المستوى : الثاني

مادة : الرياضيات

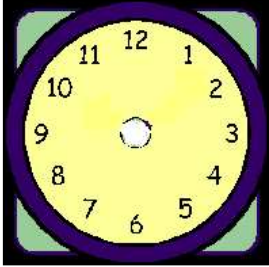
الأسدوس : الأول

الفترة : 1

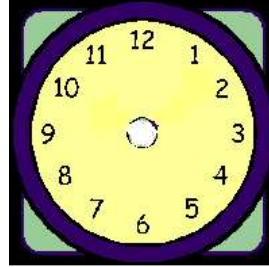
الاسم :

① رتّب الأعداد التالية ترتيبًا تناقصيًا: 65 - 45 - 28 - 16 - 23 - 50

② أكمل:

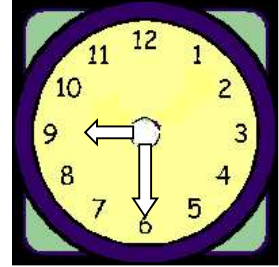


2 : 15



..... :

الْحَادِيَةُ عَشْرَ تَمَامًا



..... :

③ أتمم:

الكتابة الجمعية	التمثيل	الكتابة الضربية	الكتابة الاعتيادية
4+4+4+4+4	
.....		3×9

④ ضع الرمز : > أو < أو = مكان النقط:

19 . 23
48 . 48

13 . 12
51 . 15

91 . 78
98 . 89

54 . 45
28 . 36

⑤ أرسم قطعة طولها 6 سنتمترات:

⑥ مسألة:

يملك أحمد 37 خروفًا، باع منها 25 خروفًا.
كم بقي لدى أحمد من خروفٍ؟ (استعن بالمستقيم المدرج)

الجواب :



بقي لدى أحمد: