



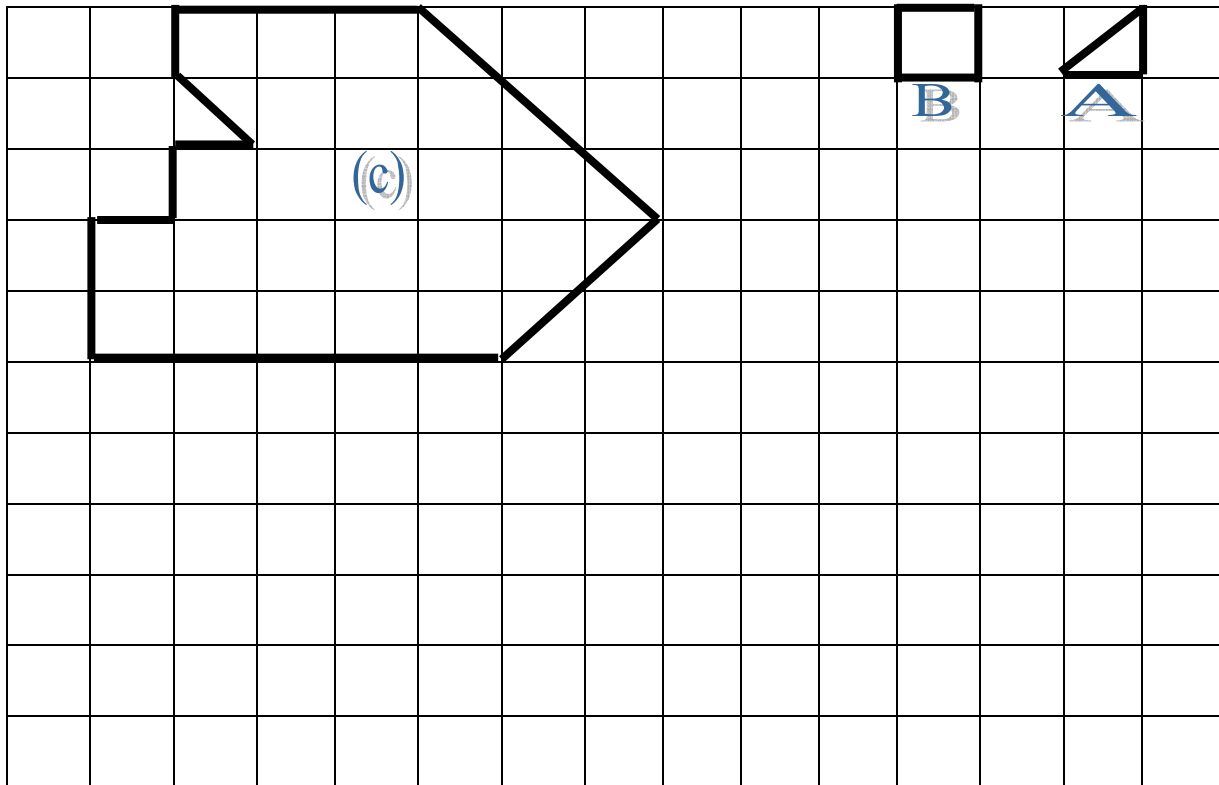
1- ضع علامة أمام الجملة الصحيحة. (1ن)

يمكن أن يكون لأشكال مختلفة نفس المساحة  ; لا يمكن أن يكون لأشكال مختلفة نفس المساحة

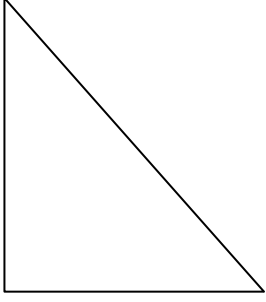
2- أ - لاحظ الشكل (c) ثم أملأ الجدول التالي؟ (1.5 ن)

المساحة بالوحدة B	المساحة بالوحدة A	الشكل (c)
.....	.....	

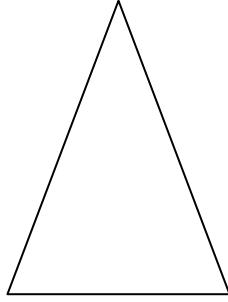
ب - أرسم مربع له نفس المساحة مع الشكل (c) ؟ (1.5 ن)



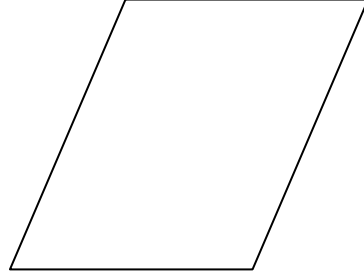
1- أكتب تحت كل شكل اسمه: (2ن)



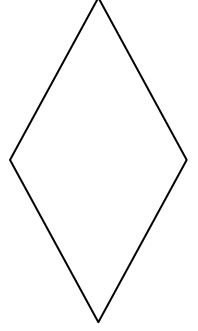
.....



.....



.....



.....

2- ارسم مربع طول أحد قطريه 6 سنتمترات. (2ن)

