

الاسم: ..... / المستوى: الأولى ابتدائي / القسم: ..... / التاريخ: .....



إمضاء الإدارة	إمضاء الأب أو الولي	الملاحظة




### 1- أصل كل حيوان بوسط تنقله.



•



•



•

وسط هوائي

وسط أرضي

وسط مائي

### 2- أكتب ما يناسب تحت كل صورة : تجري- تمشي - تقفز




.....

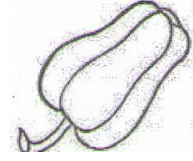
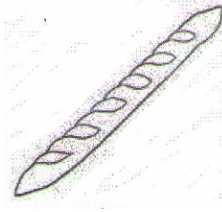
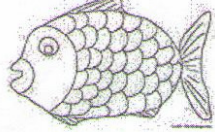



.....

### 3- ألون أعضاء التنقل.



4- ألون :  
\* الأغذية من اصل نباتي بالأخضر.  
\* الأغذية من أصل حيواني بالأحمر.



5- أضع الرقم المناسب أمام كل حيوان.

