

المؤسسة : .....

اسمى : .....



1ن

1- أرتب مراحل نمو الإوزة بأستعمال الأرقام: 1- 2- 3- 4.




2ن

2- أعبر عن كل صورة بكتابة الكلمة المناسبة : تلد - تبيض



1ن

3 - أربط كل حيوان بنمط غذائه :



عاشب

لاحم

## مراقبة 4 فى النشاط العلمى

النقطة

.....








المؤسسة : .....

اسمى : .....



ن2

4 - أَحَدٌ وَسَطٌ تَنْقُلِ الْحَيَوَانَ وَ أَكْتُبُ نَوْعَ تَنْقَلِهِ:

ن2

5 - أَكْتُبُ نَوْعَ الْقُوَّةِ : كَهْرَبَائِيَّة - رِيحِيَّة - مِيكَانِيكِيَّة - عَضَلِيَّة

			
.....	.....	.....	.....

ن2

6 - أَمَلِّ الأَفْرَاقَ بِمَا يُنَاسِبُ :

الأعلى - القواطع - المنقار - قوّة - الأنياب.

- يُمَسِكُ الْحَيَوَانَ اللَّاحِمَ غِذَاءَهُ بِ..... أَوْ .....

- يُمَسِكُ الْحَيَوَانَ الْعَاشِبُ غِذَاءَهُ بِ.....

- تَحْرِيكُ جِسْمِ نَحْوِ..... يَتَطَلَّبُ .....