


## ① املا الفراغ بما يناسب: ( صحيح او خطأ )

- الخشب موصل للكهرباء
- يضيء المصباح إذا كان القاطع مغلقا
- الجسم المعتم يسمح برؤية واضحة
- لا يضيء المصباح إذا تعطل أحد عناصر الدارة الكهربائية

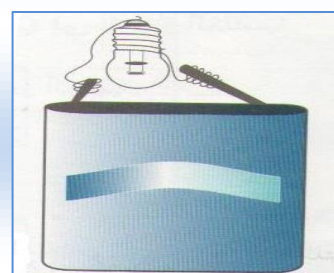
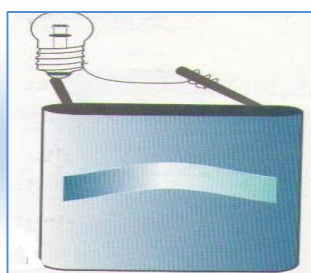
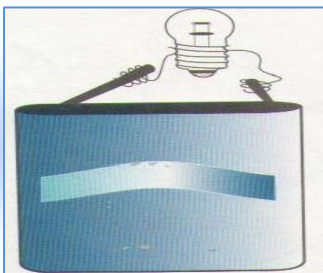
## ② اكتب اسم كل عنصر من عناصر الدارة الكهربائية:



## ③ أصل بخط:

- الزجاج الاملس ●
- مقلاة ●
- زجاج مخشن ●
- جسم معتم
- جسم شفاف
- جسم نصف شفاف

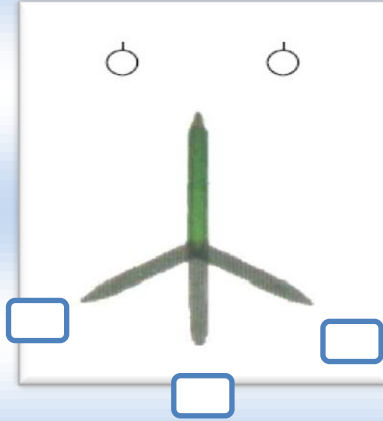
## ④ اللون بالأصفر المصباح او المصابيح المضيئة في التراكيب التالية:



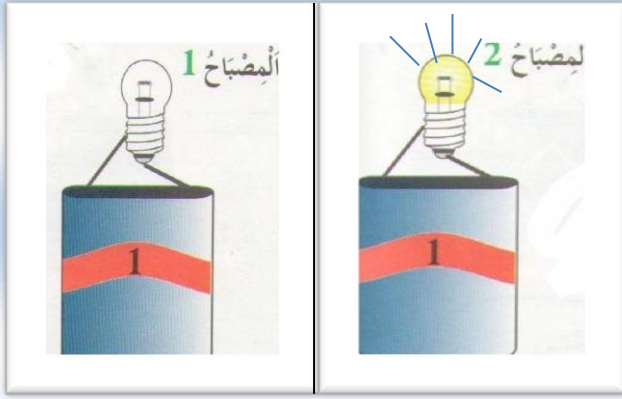
5 اتمم بما يناسب:

الجسم ..... ينفذ عبره الضوء. الجسم ..... ينفذ عبره القليل من الضوء.

الخطأ:



8 اضع علامة تحت الظل



7 ما هو العنصر المعطل؟

العنصر المعطل هو: .....

8 أصل بخط:

لا ارمى الحجارة على الاسلاك الكهربائية

اتسلق عمود الكهرباء

لا ادخل الأشياء الحادة في المأخذ

لا استعمل مجفف الشعر اثناء الاستحمام

لتجنب اخطار الكهرباء:

9 اكتب الاسم المناسب امام كل سهم:

