



المؤسسة : .....



اسم المتعلم : .....



3

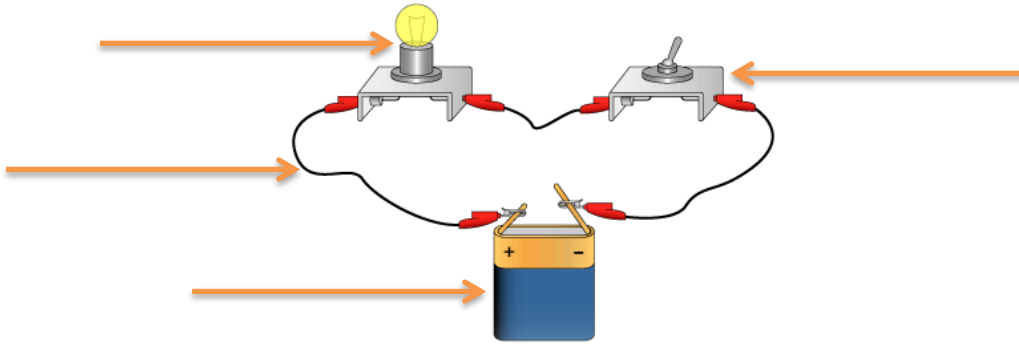
1 أصنف الأجسام التالية إلى موصلة وعازلة للكهرباء في الجدول التالي:

مسطرة بلاستيكية – سلك من نحاس – فيط – قطعة خشب – مقعد حديدي – زباجة – الماء – مسطرة من حديد – قلم

أجسام موصلة للكهرباء	أجسام عازلة للكهرباء

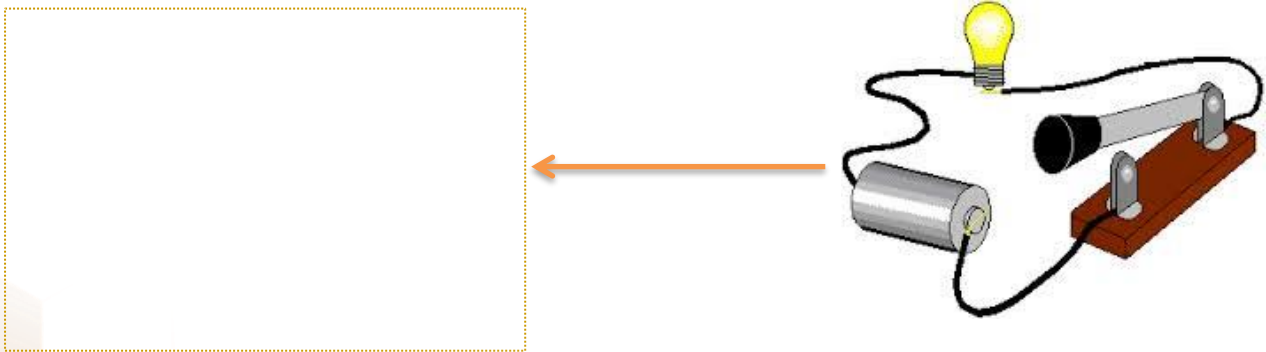
2

2 أكتب عناصر الدارة الكهربائية:



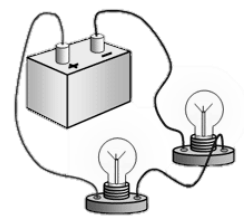
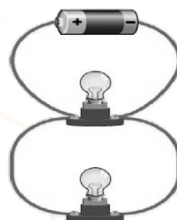
2

3 قم بتمثيلك الدارة الكهربائية التالية:



3

4 أضع علامة ✗ تحت التركيب على التوالي و ○ تحت التركيب على التوازي وألون المصابيح التي ستضيء





المؤسسة : .....



اسم المتعلم : .....



إعداد و تصميم : ز. إقبال أوعيسى

[www.facebook.com/ikbal.ouaissa](http://www.facebook.com/ikbal.ouaissa)

عن موقع وثيقتي [www.watiqati.net](http://www.watiqati.net)

لا أملك نقل المحتوى دون الإشارة لرابط المصدر

للتوصل بجديد الصريات

[www.facebook.com/watiqati](http://www.facebook.com/watiqati)



**موقع وثيقتي**

وثائق بناء على الطلب