

الملاحظة	الإدارة	الأب أو الولي

الاسم:
التاريخ:
الفوج:
المستوى: الثاني ابتدائي

الأسبوع الأول

فوج A

1 / أكمل:

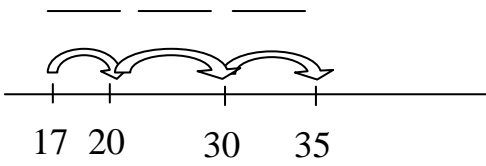
$6 + \dots = 11$

$30 + \dots = 34$

$30 + \dots = 40$

$40 + 2 = \dots$

2 / أحسب:



$\square + \square + \square = \square$

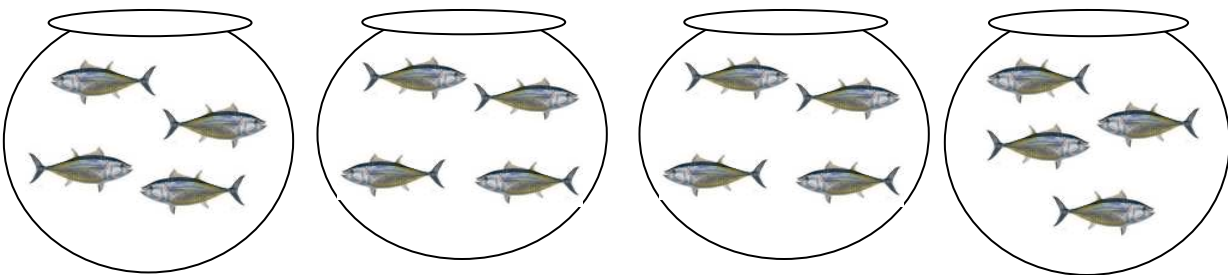
$35 - 17 = \dots$

3 / أكتب الأرقام الناقصة مكان النقط:

$$\begin{array}{r} 3 \quad 2 \\ + \quad \cdot \quad \cdot \\ \hline 4 \quad 6 \end{array}$$

$$\begin{array}{r} 3 \quad \cdot \\ + \quad 2 \quad 3 \\ \hline \cdot \quad 4 \end{array}$$

4 / أحسب عدد الأسماك بطريقتين مختلفتين:



$\dots + \dots + \dots + \dots = \dots \times \dots = \dots$

5 / ألون بنفس اللون البطاقات التي تمثل نفس العدد:

$4 + 4 + 4$

30

4×3

10×3

2×5

12

$10 + 10 + 10$

$2 + 2 + 2 + 2 + 2$

1

1.5

1

1


1.5

7/ لربح المباراة يجب اسقاط قارورتين أو ثلاث قارورات مجموعها 60 نقطة.
أوجد الحلول الممكنة:

.....

.....

.....



8/ لاحظ القطع النقدية التي وفرها كل طفل:

سعاد	هند	أحمد	كريم
.....

1.5

أ- أحسب المبلغ الذي وفره كل طفل:

ب- أكتب اسم الطفل الذي وفر المبلغ الأكبر:

.....

ج- من يستطيع شراء الهدية؟

.....



30 درهما

2