

Exercice 1 : Coder les angles indiqués puis cocher la bonne réponse.

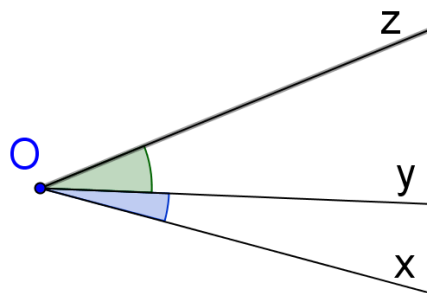
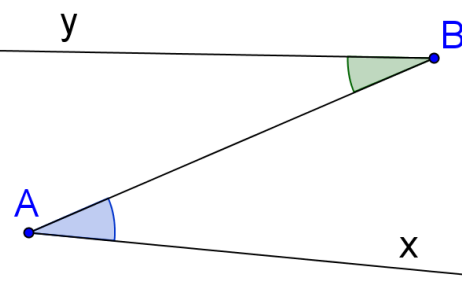
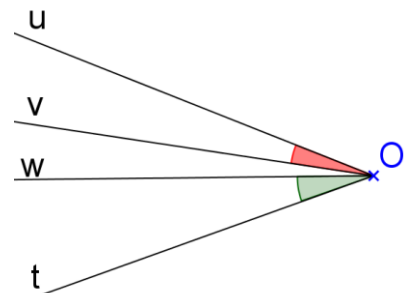
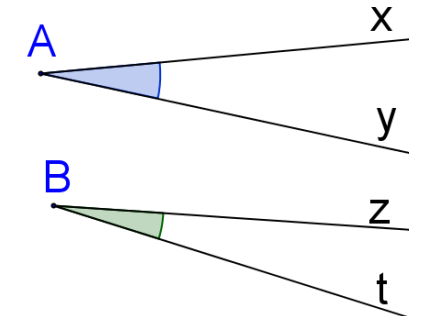
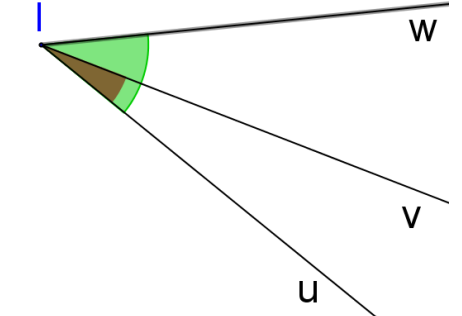
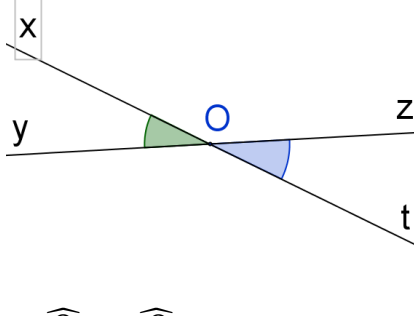
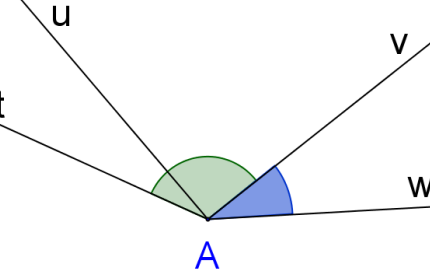
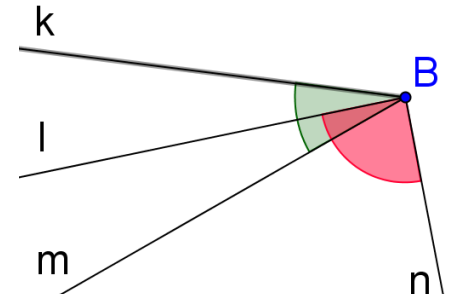
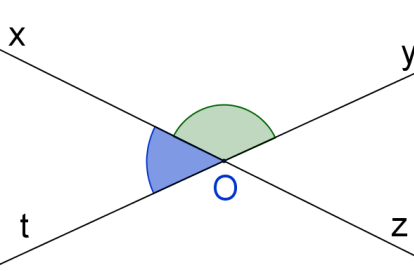
<p>1- \widehat{xOy} et \widehat{yOz} sont adjacents <input type="checkbox"/> Vrai <input type="checkbox"/> Faux</p>	<p>2- \widehat{yBA} et \widehat{BAx} sont adjacents <input type="checkbox"/> Vrai <input type="checkbox"/> Faux</p>	<p>3- \widehat{uOv} et \widehat{wOt} sont adjacents <input type="checkbox"/> Vrai <input type="checkbox"/> Faux</p>
<p>4- \widehat{xAy} et \widehat{zBt} sont adjacents <input type="checkbox"/> Vrai <input type="checkbox"/> Faux</p>	<p>5- \widehat{uIv} et \widehat{uIw} sont adjacents <input type="checkbox"/> Vrai <input type="checkbox"/> Faux</p>	<p>6- \widehat{xOy} et \widehat{zOt} sont adjacents <input type="checkbox"/> Vrai <input type="checkbox"/> Faux</p>
<p>7- \widehat{tAv} et \widehat{vAw} sont adjacents <input type="checkbox"/> Vrai <input type="checkbox"/> Faux</p>	<p>8- \widehat{kBm} et \widehat{lBn} sont adjacents <input type="checkbox"/> Vrai <input type="checkbox"/> Faux</p>	<p>9- \widehat{xOy} et \widehat{tOx} sont adjacents <input type="checkbox"/> Vrai <input type="checkbox"/> Faux</p>

Exercice 2 : Indiquer les angles adjacents (Vrai / Faux)

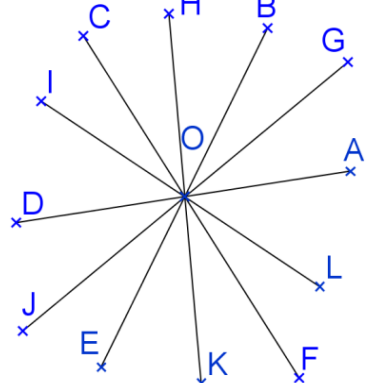
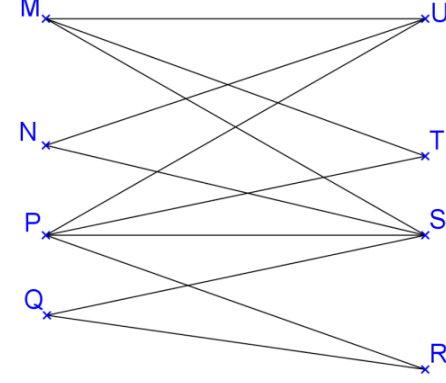
<p>1- \widehat{AOC} et \widehat{COI} : 2- \widehat{DOJ} et \widehat{JOK} : 3- \widehat{LOG} et \widehat{AOF} : 4- \widehat{GOL} et \widehat{BOG} : 5- \widehat{LOE} et \widehat{LOB} : 6- \widehat{GOI} et \widehat{GOC} : 7- \widehat{DOG} et \widehat{COK} : 8- \widehat{JOB} et \widehat{GOB} : 9- \widehat{IOJ} et \widehat{JOD} :</p>	<p>1- \widehat{UMT} et \widehat{SMT} : 2- \widehat{PSM} et \widehat{PSQ} : 3- \widehat{RPU} et \widehat{SPU} : 4- \widehat{RQS} et \widehat{PSQ} : 5- \widehat{PTM} et \widehat{TPS} : 6- \widehat{MSN} et \widehat{NSP} : 7- \widehat{MSN} et \widehat{PSQ} : 8- \widehat{MUN} et \widehat{PUM} : 9- \widehat{TNS} et \widehat{TNU} :</p>

CORRIGE – M. QUET

Exercice 1 : Coder les angles indiqués puis cocher la bonne réponse.

 <p>1- \widehat{xOy} et \widehat{yOz} sont adjacents <input type="checkbox"/> Vrai <input type="checkbox"/> Faux</p>	 <p>2- \widehat{yBA} et \widehat{BxA} sont adjacents <input type="checkbox"/> Vrai <input type="checkbox"/> Faux</p>	 <p>3- \widehat{uOv} et \widehat{wOt} sont adjacents <input type="checkbox"/> Vrai <input type="checkbox"/> Faux</p>
 <p>4- \widehat{xAy} et \widehat{zBt} sont adjacents <input type="checkbox"/> Vrai <input type="checkbox"/> Faux</p>	 <p>5- \widehat{uIv} et \widehat{vIw} sont adjacents <input type="checkbox"/> Vrai <input type="checkbox"/> Faux</p>	 <p>6- \widehat{xOy} et \widehat{zOt} sont adjacents <input type="checkbox"/> Vrai <input type="checkbox"/> Faux</p>
 <p>7- \widehat{tAv} et \widehat{vAw} sont adjacents <input type="checkbox"/> Vrai <input type="checkbox"/> Faux</p>	 <p>8- \widehat{kBm} et \widehat{lBn} sont adjacents <input type="checkbox"/> Vrai <input type="checkbox"/> Faux</p>	 <p>9- \widehat{xOy} et \widehat{tOx} sont adjacents <input type="checkbox"/> Vrai <input type="checkbox"/> Faux</p>

Exercice 2 : Indiquer les angles **adjacents** (Vrai / Faux)

	
<p>1- \widehat{AOC} et \widehat{COI} : VRAI 2- \widehat{DOJ} et \widehat{JOK} : VRAI 3- \widehat{LOG} et \widehat{AOF} : FAUX 4- \widehat{GOL} et \widehat{BOG} : VRAI 5- \widehat{LOE} et \widehat{LOB} : VRAI 6- \widehat{GOI} et \widehat{GOC} : FAUX 7- \widehat{DOG} et \widehat{COK} : FAUX 8- \widehat{JOB} et \widehat{GOB} : VRAI</p>	<p>1- \widehat{UMT} et \widehat{SMT} : VRAI 2- \widehat{PSM} et \widehat{PSQ} : VRAI 3- \widehat{RPU} et \widehat{SPU} : FAUX 4- \widehat{RQS} et \widehat{PSQ} : FAUX 5- \widehat{PTM} et \widehat{TPS} : FAUX 6- \widehat{MSN} et \widehat{NSP} : VRAI 7- \widehat{MSN} et \widehat{PSQ} : FAUX 8- \widehat{MUN} et \widehat{PUM} : FAUX</p>

9- \widehat{IOJ} et \widehat{JOD} : **FAUX**

9- \widehat{TNS} et \widehat{TNU} : **VRAI**