

## تمارين العلوم الفيزيائية الأولى بكالوريا علوم رياضية وتجريبية الشغل وطاقة الوضع الثقالية - الطاقة الميكانيكية

في جميع التمارين نأخذ  $g = 10\text{N/kg}$

### تمرين 1

نعتبر جسما A نقطيا ، كتلته  $m = 2\text{kg}$  يمكن له أن يحتل مواضع مختلفة على المحور  $Oz$  الموجه نحو الأعلى ومدرج بالمتر .

1 - نأخذ كحالة مرجعية نقطة أنسوبها  $z = 2$  . أحسب طاقة الوضع الثقالية للجسم A عند المواضع التالية :

$$z_{A_1} = 6 \text{ و } z_{A_2} = -4$$

2 - نأخذ كحالة مرجعية النقطة ذات الأنسوب :  $z = -1$  . أحسب طاقة الوضع الثقالية للجسم A عند المواضع التالية :

$$z_{A_1} = 6, z_{A_2} = -4, z_{A_3} = 9$$

### تمرين 2

لدينا مثلث AHB قائم الزاوية في H والضلع AH أفقي . أنظر الشكل .

نضع  $AB = a$  و  $\widehat{BAH} = \alpha$  .

جسم نقطي كتلته  $m$  في حركة على AB . لتكن M موضع الجسم بحيث أن  $AM = d$  .

أعط تعبير طاقة الوضع الثقالية للجسم بدلالة  $g, a, \alpha, d, m$  عند اختيار الحالة المرجعية لطاقة الوضع الثقالية هي :

1 - النقطة H

2 - النقطة B

3 - النقطة A

### تمرين 3

كرة كتلتها  $m = 20\text{g}$  وشعاعها  $R = 10\text{cm}$  تتدحرج بدون انزلاق على

مستوى مائل بزاوية  $\alpha = 30^\circ$  بالنسبة للمستوى الأفقي .

1 - أحسب تغير طاقة الوضع الثقالية للكرة عندما تنجز 6 دورات حول نفسها ( حول المحور الذي يمر من مركز ثقلها )

2 - هل تغير طاقة الوضع الثقالية للكرة

— دالة تألفية بالنسبة لعدد الدورات المنجزة من طرفها ؟

— دالة تألفية بالنسبة للزمن  $t$  المستغرق خلال حركتها ؟

### تمرين 4

نعتبر المجموعة الممثلة في الشكل جانبه والمكونة من :

— بكرة (P) بإمكانها الدوران حول محور أفقي ثابت  $\Delta$  ، شعاعها  $r = 5\text{cm}$

وعزم قصورها  $J_\Delta$  بالنسبة للمحور  $\Delta$

— خيط (f) ملفوف حول مجرى البكرة . نعتبره غير مدود وكتلته مهملة —

جسم (S) كتلته  $m = 0,5\text{kg}$  موضوع على مستوى مائل بزاوية

$\alpha = 30^\circ$  بالنسبة للمستوى الأفقي ومرتبط بالطرف الحر للخيط (f) .

نطلق الجسم S من أعلى نقطة على المستوى المائل بدون سرعة

بدئية . ونعتبر حركة الجسم على المستوى المائل تتم بدون احتكاك .

1 — بواسطة جهاز ملائم نقيس سرعة الجسم عند مروره من النقطتين A و B فنجد أن  $V_A = 0,5\text{m/s}$  و  $V_B = 2,5\text{m/s}$  والمسافة  $AB = 62,5\text{cm}$

1 — بتطبيق مبرهنة الطاقة الحركية أوجد تعبير الشغل  $W_{A \rightarrow B}(\vec{F})$  ، القوة التي يطبقها الخيط على الجسم

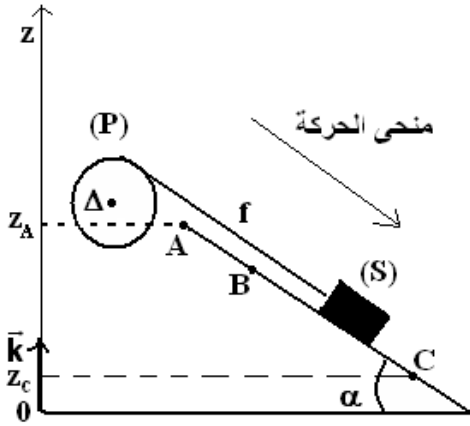
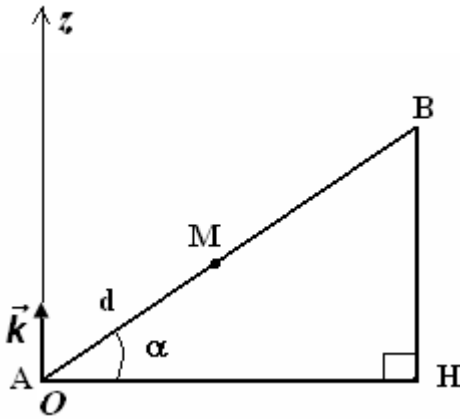
S .

2 — أحسب  $W_{A \rightarrow B}(\vec{F})$  واستنتج شدة القوة  $\vec{F}$  .

2 — لإيجاد قيمة عزم القصور  $J_\Delta$  للبكرة (P) بالنسبة للمحور  $\Delta$  نقوم بالدراسة التجريبية التالية : عندما يقطع

الجسم المسافة AB تدور البكرة بزاوية  $\Delta\theta$  .

2 — 1 أوجد العلاقة بين الزاوية  $\Delta\theta$  والمسافة AB .



2 - 2 بتطبيق مبرهنة الطاقة على البكرة (P) بين أن  $J_{\Delta} = \frac{2.F.AB.r^2}{V_B^2 - V_A^2}$  . أحسب  $J_{\Delta}$  .

3 - في الواقع أن الجزء BC من المستوى المائل خشن أي أن حركة الجسم على هذا الجزء تتم بالاحتكاك بحيث ينتج عن هذه الاحتكاكات توقف الجسم S عند النقطة C ( $V_C = 0$ )

نأخذ المستوى الأفقي المار من A كحالة مرجعية لطاقة الوضع الثقالية حيث  $E_{pp} = 0$

3 - 1 أعط تعبير طاقة الوضع الثقالية للجسم S باعتبار هذه الحالة المرجعية .

3 - 2 بين أن تغير طاقة الوضع الثقالية بين B و C لا تتعلق بالحالة المرجعية المختارة .

3 - 3 أوجد تغير الطاقة الميكانيكية عند انتقال الجسم S من B إلى C . واحسب قيمته .  
نعطي  $BC=100\text{cm}$

3 - 4 استنتج الطاقة المفقودة على شكل حرارة أثناء الانتقال BC .

3 - 5 استنتج قيمة شدة قوة الاحتكاك التي نعتبرها ثابتة خلال هذا الجزء .

### تمرين 5

تحتوي حقينة سد على كمية من الماء عمقها 15m ومساحة سطحها  $1,5\text{km}^2$  .

مركز قصور كمية الماء يوجد على ارتفاع  $h = 2000\text{m}$  من سطح البحر .

توجد محطة هيدروكهربائية على مقربة من السد وعلى ارتفاع  $h' = 1200\text{m}$  من سطح البحر وتتم تغذية المحطة بماء السد لإنتاج الطاقة الكهربائية .

1 - أحسب طاقة الوضع الثقالية المخزونة في ماء السد بعد اختيار حالة مرجعية .

2 - أحسب تغير طاقة الوضع الثقالية إذا اعتبرنا أن كتلة الماء الموجودة بالسد تنزل بكاملها إلى محطة توليد الكهرباء .

3 - أحسب القدرة الكهربائية المحصل عليها بالنسبة لصبيب مائي يساوي  $(10\text{m}^3/\text{s})$  . إذا

اعتبرنا أن 75% من الطاقة المخزونة في الماء تتحول إلى طاقة كهربائية .

نعطي :  $\rho_{\text{eau}} = 10^3 \text{kg}/\text{m}^3$  و  $g = 10\text{N}/\text{kg}$

### تمرين 6

ساق متجانسة كتلتها m وطولها  $\ell = 1\text{m}$  قابلة للدوران ، بدون احتكاك ، حول محور ( $\Delta$ ) أفقي يمر من أحد

طرفيها . عزم قصور الساق بالنسبة للمحور ( $\Delta$ ) هو :  $J_{\Delta} = \frac{1}{3}m\ell^2$  .

نزح الساق عن موضع توازنها المستقر الرأسي بزاوية  $\theta = 60^\circ$  ثم نحررها بدون سرعة بدئية نأخذ  $E_{pp} = 0$

عند  $z = 0$  .

أحسب السرعة الزاوية لمركز قصور الساق عندما تمر

من موضع توازنها المستقر . نعطي شدة الثقالة

$g = 10\text{N}/\text{kg}$

### تمرين 7

نعتبر جسما صغيرا كتلته  $m = 0,5\text{kg}$  ينتقل فوق

مدار ABCD يتكون من جزء مستقيم طوله

$AB = 2\text{m}$  ، ومن جزء دائري BCD شعاعه

$r = 0,5\text{m}$  . نعطي  $\theta = 60^\circ$  .

نطلق الجسم (S) من النقطة A بدون سرعة بدئية .

1 - نعتبر الاحتكاكات مهملة .

1 - 1 أوجد تعبير الطاقة الميكانيكية للجسم S في

الموضع A بدلالة  $m, r, \theta$  و  $g$  شدة الثقالة . أحسب

$E_m(A)$  . نعطي  $g = 10\text{N}/\text{kg}$

1 - 2 أحسب طاقة الوضع الثقالية والطاقة الحركية للجسم S في الموضع B .

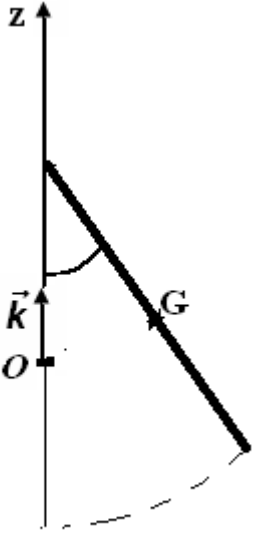
3 - أحسب سرعة S عند وصوله إلى الموضع D .

2 - في الواقع سرعة الجسم S في الموضع B تساوي  $4,00\text{m}/\text{s}$  نتيجة قوى الاحتكاك التي نعتبرها مكافئة

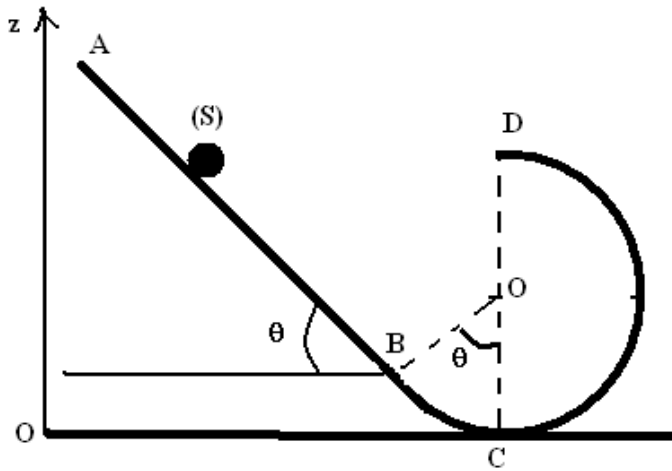
لقوة  $\vec{f}$  ثابتة ومنحاهها معاكس لمنحى حركة الجسم S .

2 - 1 أحسب الطاقة المفقودة على شكل حرارة أثناء الانتقال AB

2 - 2 أحسب شدة القوة  $\vec{f}$  .



موضع التوازن المستقر



## تصحيح تمارين حول الطاقة الميكانيكية .

### تمرين 2

تعبير طاقة الوضع الثقالية هو :  $E_{pp} = mgz + C$  بحيث  $z$  أرتوب النقطة  $M$  و  $C$  ثابتة تتعلق بالحالة المرجعية .  
 1 - عند اختيار الحالة المرجعية لطاقة الوضع الثقالية هي النقطة  $H$  أي أن  $E_{pp} = 0$  عند  $z = 0$  في هذه الحالة  $C=0$  وطاقة الوضع تكون كالتالي :

$$E_{pp} = mgz$$

$$z = d \sin \alpha$$

$$E_{pp} = mgd \sin \alpha$$

2 - عند اختيار النقطة  $B$  كحالة مرجعية لطاقة الوضع الثقالية :

$$E_{pp} = 0 \text{ عند } z = a \sin \alpha \text{ أي أن } C = -mga \sin \alpha \text{ وبالتالي } E_{pp} = mg \sin \alpha (d - a)$$

3 - عند اختيار الحالة المرجعية لطاقة الوضع النقطة  $A$  هي نفس الحالة المرجعية النقطة  $H$  .

### تمرين 3

الكرة تتدحرج بدون انزلاق على المستوى المائل . نعتبر  $(\Delta)$  محور دورانها حول نفسها .  
 تغير طاقة الوضع بين موضعين لا يتعلق بالحالة المرجعية .

1 - تغير طاقة الوضع عند انتقالها من الموضع  $A$  إلى الموضع  $B$  :

$$\Delta E_{pp} = mgz_B - mgz_A = mg(z_B - z_A) \text{ وحسب}$$

الشكل يلاحظ أن  $z_B - z_A < 0$  وبالتالي :

$$\Delta E_{pp} = -mg(z_A - z_B) = -mgh$$

$$h = AB \sin \alpha$$

وحسب المعطيات أن الكرة خلال انتقالها من  $B$  إلى  $A$  أنجزت 6 دورات أي أن :  $\Delta\theta = 6 \times 2\pi = 12\pi$

وبما أن الكرة تتدحرج بدون انزلاق :  $AB = R\Delta\theta$  أي أن :

$$E_{pp} = -mgR\Delta\theta \sin \alpha$$

$$E_{pp} = -0,377J \text{ تطبيق عددي}$$

2 - تغير الطاقة الوضع الثقالية دالة تآلفية بالنسبة لعدد الدورات المنجزة من طرفها وليس بالنسبة للزمن  $t$  المستغرق خلال حركتها .

### تمرين 4

1 - شغل القوة  $\vec{F}$  المطبقة من طرف الخيط على الجسم :

$$W_{A \rightarrow B}(\vec{F}) = \frac{m}{2}(v_B^2 - v_A^2) - mgAB \sin \alpha$$

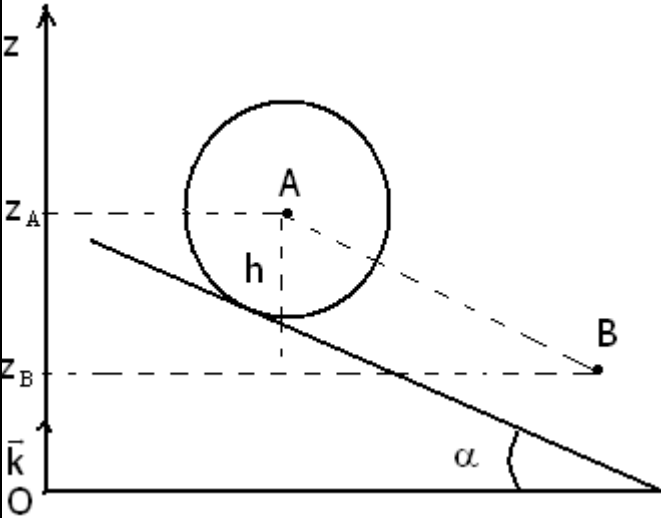
$$W_{A \rightarrow B}(\vec{F}) = -6,25 \cdot 10^{-2} J$$

شدة القوة  $\vec{F}$

$$F = -\frac{W_{A \rightarrow B}(\vec{F})}{AB} = 0,1N$$

2 - 1 العلاقة بين الزاوية  $\Delta\theta$  والمسافة  $AB$  :  $AB = R\Delta\theta$

2 - 2 نطبق مبرهنة الطاقة الحركية على البكرة  $P$  :



$$\frac{1}{2}J_{\Delta}\omega_B^2 - \frac{1}{2}J_{\Delta}\omega_A^2 = \mathcal{M}_{\Delta}.\Delta\theta + W_{A \rightarrow B}(\vec{R}) + W_{A \rightarrow B}(\vec{P}_p)$$

$$W_{A \rightarrow B}(\vec{R}) = 0, W_{A \rightarrow B}(\vec{P}_p) = 0$$

$$\frac{1}{2}J_{\Delta}\omega_B^2 - \frac{1}{2}J_{\Delta}\omega_A^2 = \mathcal{M}_{\Delta}.\Delta\theta$$

$$\Delta\theta = \frac{AB}{R}, \omega_A = \frac{v_A}{R}, \omega_B = \frac{v_B}{R}$$

وبالتالي  $J_{\Delta}(v_B^2 - v_A^2) = 2R^2AB.F$  أي أن

$$J_{\Delta} = \frac{2R^2AB.F}{v_B^2 - v_A^2}$$

تطبيق عددي :  $J_{\Delta} = 0,521.10^{-4} \text{ kg.m}^2$

3 \_ الجزء BC خشن . ونأخذ المستوى المار من النقطة A كحالة مرجعية لطاقة الوضع الثقالية .

3 \_ 1 تعبير طاقة الوضع الثقالية للجسم S باعتبار الحالة المرجعية أعلاه :

$$E_{pp} = mgz + C \text{ نأخذ } E_{pp} = 0 \text{ عند } z = z_A \text{ وبالتالي : } C = -mgz_A$$

تعبير طاقة الوضع الثقالية هو :

$$E_{pp} = mg(z - z_A)$$

3 \_ 2 : نبين أن طاقة الوضع الثقالية لا تتعلق بالحالة المرجعية :

$$\Delta E_{pp} = E_{pp}(C) - E_{pp}(B) = mg(z_C - z_A) - mg(z_B - z_A)$$

$$\Delta E_{pp} = mg(z_C - z_B)$$

وبالتالي فإن تغير طاقة الوضع لا يتعلق بالحالة المرجعية .

3 \_ 3 وتغير الطاقة الميكانيكية هو  $\Delta E_m = \Delta E_{pp} + \Delta E_C$

\* تعبير طاقة الوضع في الجزء BC : نعطي  $BC = 100 \text{ cm}$

وحسب الشكل فإن  $z_C - z_B = -BC \cdot \sin \alpha$  وبالتالي فتعبير تغير طاقة الوضع

الثقالية هو كالتالي :

$$\Delta E_{pp} = -mgBC \sin \alpha$$

\* تعبير تغير الطاقة الحركية بين B و C .

$$\Delta E_C = -\frac{1}{2}mv_B^2 \text{ وبالتالي } v_C = 0$$

وبالتالي فتعبير تغير الطاقة الميكانيكية :  $\Delta E_m = \Delta E_{pp} + \Delta E_C$

$$\Delta E_m = E_m(C) - E_m(B) = E_{pp}(C) + E_C(C) - E_{pp}(B) - E_C(B)$$

$$\Delta E_m = E_{pp}(C) - E_{pp}(B) + E_C(C) - E_C(B)$$

$$\Delta E_m = -mgBC \sin \alpha - \frac{1}{2}mv_B^2$$

تطبيق عددي :  $\Delta E_{pp} = -250.10^{-2} \text{ J}$  و  $\Delta E_C = -1,56 \text{ J}$  وبالتالي  $\Delta E_m = -4,06 \text{ J}$

3 \_ 4 يتبين من خلال هذه النتيجة أن الطاقة الميكانيكية لا تنخفض أي أنها تتحول إلى طاقة حرارية Q

$$\Delta E_m = -Q$$

وبالتالي فالطاقة المفقودة على شكل حرارة هي :  $Q = 4,06 \text{ J}$  .

$$3 _ 5 : \text{ لدينا } \Delta E_m = W(\vec{f}) \Rightarrow \Delta E_m = -f \cdot BC$$

$$f = -\frac{\Delta E_m}{BC} \text{ : تطبيق عددي : } f = 4,06 \text{ N}$$

## تمرين 5

1 - نأخذ سطح البحر الحالة المرجعية لطاقة الوضع الثقالية . عند  $z = 0$   $E_{pp} = 0$

$$E_{pp} = mgz$$

بحيث أن  $m = \rho_{\text{eau}} V = \rho_{\text{eau}} p \cdot S$  أي أن طاقة الوضع الثقالية للماء المخزون في السد هو :

$$E_{pp} = \rho_{\text{eau}} p S g z$$

تطبيق عددي :  $E_{pp} = 250 \cdot 10^{12} \text{ J}$

2 - تغير طاقة الوضع الثقالية إذا اعتبرنا أن كتلة الماء تنزل بكاملها إلى محطة التوليد الكهربائي :

$$\Delta E_{pp} = -\rho_{\text{eau}} p S g \Delta z = -180 \cdot 10^{12} \text{ J}$$

3 - القدرة الكهربائية هي :  $P = 0,75 \frac{-\Delta E_{pp}}{\Delta t} = 60 \cdot 10^5 \text{ Watt}$

## تمرين 6

حساب السرعة الزاوية لمركز قصور الساق عند مروره من موضع توازنه المستقر :  
القوى المطبقة على الساق هي :

$\vec{P}$  وزن الساق ،  $\vec{R}$  تأثير المحور على الساق .

شغل القوة  $\vec{R}$  منعدم وفي غياب الاحتكاكات القوة الوحيدة التي تنجز شغلا هي وزن الجسم أي أن هناك انحفاظ الطاقة الميكانيكية .

الحالة البدئية :  $E_{C1} = 0$  لأن  $\omega_1 = 0$

بحيث أن  $E_{pp1} = mgz$  (نأخذ كحالة مرجعية  $z = \frac{\ell}{2}(1 - \cos \theta)$ )

$$(z = 0 \text{ عند } E_{pp} = 0)$$

أي أن  $E_{pp1} = \frac{mg\ell}{2}(1 - \cos \theta)$  وبالتالي فالطاقة الميكانيكية هي :

$$E_{m1} = \frac{mg\ell}{2}(1 - \cos \theta)$$

الحالة النهائية :  $E_{C2} = \frac{J_{\Delta} \omega_2^2}{2}$  و  $E_{pp2} = 0$  وبالتالي فالطاقة

$$E_{m2} = \frac{J_{\Delta} \omega_2^2}{2} \text{ هي : الميكانيكية النهائية هي}$$

بما أن

$$J_{\Delta} = \frac{1}{3} m \ell^2 \Rightarrow E_{m2} = \frac{m \ell^2 \omega_2^2}{6}$$

هناك انحفاظ الطاقة الميكانيكية للساق أي أن  $E_{m1} = E_{m2}$

$$\frac{m \ell^2 \omega_2^2}{6} = \frac{mg\ell}{2}(1 - \cos \theta)$$

تطبيق عددي :  $\omega_2 = 3,83 \text{ m/s}$   $\omega_2 = \sqrt{\frac{3g}{\ell}(1 - \cos \theta)}$

## تمرين 7

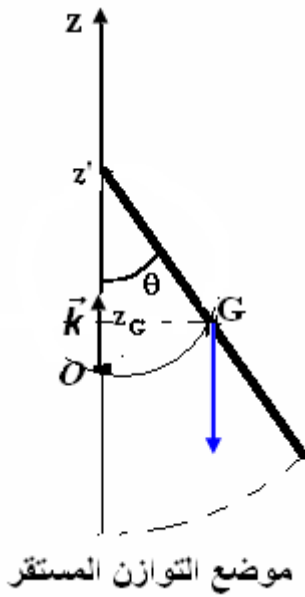
1 - تعبير الطاقة الميكانيكية في الموضع A :

$$E_m(A) = E_C(A) + E_{pp}(A)$$

$E_C(A) = 0$  لأن  $v_A = 0$  و  $E_{pp}(A) = mgz_A$  (اختير كحالة مرجعية سطح الأرض  $z = 0$ )

بحيث أن  $z_A = AB \sin \theta + r(1 - \cos \theta)$  أي أن  $E_m(A) = mgr(1 + 4 \sin \theta - \cos \theta)$

تطبيق عددي :  $E_m(A) = 9,71 \text{ J}$



موضع التوازن المستقر

2 - حساب طاقة الوضع الثقالية في الموضع B :  $E_{pp}(B) = mgz_B = mgr(1 - \cos \theta)$

تطبيق عددي :  $E_{pp}(B) = 1,23J$

حساب الطاقة الحركية للجسم S في B .

بما أن الطاقة الميكانيكية تنحفظ لغياب الاحتكاكات وأن وزن الجسم القوة الوحيدة التي تشتغل :  
:  $E_m(B) = E_c(B) + E_{pp}(B) \Rightarrow E_c(B) = E_m(B) - E_{pp}(B)$  وبما أن الطاقة الميكانيكية تنحفظ :

$$E_m(A) = E_m(B) = 9,71J$$

وبالتالي  $E_c(B) \approx 8,48J$

3 - نطبق مبرهنة الطاقة الحركية بين D و B :

$$W_{B \rightarrow D}(\vec{R}) = 0$$

$$v_D = 4,39m/s \text{ : تطبيق عددي } v_D = \sqrt{v_B^2 - 2gr\left(\frac{1}{2} + \cos \theta\right)}$$

2 - الطاقة المفقودة على شكل حرارة أثناء الانتقال AB :

$$E_m(B) = \frac{mv_B^2}{2} + 1,23J = 5,23J \text{ و } E_m(A) = 9,71J \text{ بحيث أن } \Delta E_m = E_m(B) - E_m(A)$$

وبالتالي  $\Delta E_m = -5,71J$  أي أن الطاقة المفقودة على شكل حرارة هي  $\Delta E_m = -Q$  أي أن  $Q = 5,71J$

شدة القوة  $\vec{f}$  :

$$\Delta E_m = -f \cdot AB \Rightarrow f = -\frac{\Delta E_m}{AB} = 2,85N$$