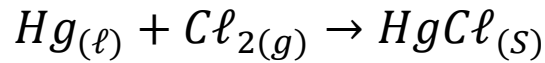


تمارين تتبع تطور تفاعل كيميائي

تمرين 1:

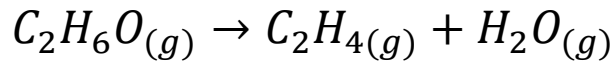
يتفاعل الزئبق مع ثنائي الكلور حسب المعادلة الكيميائية التالية :



- 1- أنشئ الجدول الوصفي لتتبع التطور الكيميائي الحاصل .
- 2- أعط جردا لكميات المادة عندما يبلغ تقدم التفاعل القيمة $0,50\text{mol}$.

تمرين 2 :

يصنع غاز الإيثين $C_2H_4(g)$ في المختبر بإزالة الماء للإيثانول . تحت 180°C و $1,013.10^5\text{Pa}$ بوجود حمض الكبريتيك كحفاز الذي يسرع التفاعل الحاصل نمذج التفاعل بالمعادلة التالية :



- في الحالة البدية تتكون المجموعة من $1,3\text{mol}$ من الإيثانول .
- 1- أنشئ الجدول الوصفي .
 - 2- عندما يتكون $0,70\text{mol}$ من الإيثين ، نوقف التفاعل .
 - 2.1- أحسب قيمة تقدم المجموعة للتفاعل الموافق .
 - 2.2- أنجز جدولا كيميائيا موافقا لهذا التقدم .
 - 2.3- ما كمية المادة القصى التي يمكن الحصول عليها إذا لم نوقف التفاعل ؟

تمرين 3 :

نضع في كأس حجما $V_1=50\text{ml}$ من محلول مائي لكبريتات النحاس II ذي التركيز $C_1=1,0\text{mol}\cdot\text{l}^{-1}$ ، ثم نضيف إليها كمية من مسحوق الزنك كمية مادتها $n_i(\text{Zn})$.
نحرك الخليط لمدة حتى الاختفاء الكلي للون الأزرق للمحلول .
خلال هذا التحول ، تتكون أيونات $Zn^{2+}_{(aq)}$ وفلز النحاس $Cu_{(s)}$.

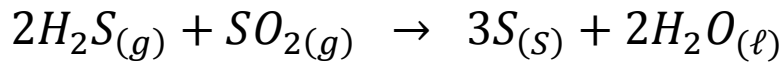
- 1- أكتب معادلة التفاعل .
 - 2- أنشئ الجدول الوصفي للتفاعل .
 - 3- حدد المتفاعل المحد معللا جوابك .
 - 4- أحسب التقدم الأقصى .
 - 5- ما هي الكتلة البدئية للزنك الذي يجب استعمالها حتى يتم استهلاك ثلث كمية الزنك عند نهاية التفاعل .
 - 6- أحسب كتلة فلز النحاس المتكون في هذه الحالة .
نعطي :
- $$M(\text{Cu})=63,5\text{g}\cdot\text{mol}^{-1};M(\text{Zn})= \text{g}\cdot\text{mol}^{-1}$$

تمرين 4:

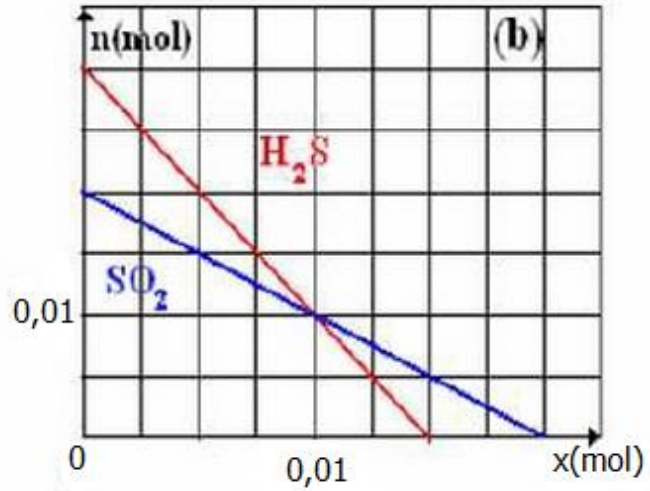
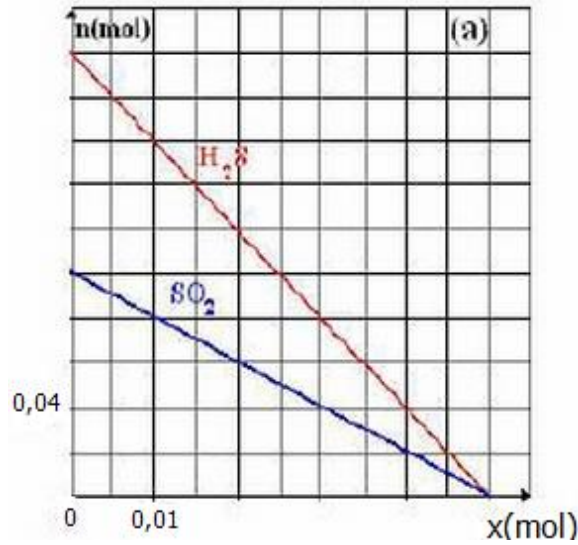
- ننجز التفاعل الكيميائي بين 11,2g من الحديد وغاز ثنائي الكلور الموجود في قنينة حجمها 6ل فنحصل على جسم صلب ، كلورو الحديد III صيغته الكيميائية FeCl_3 .
- 1- أكتب المعادلة الكيميائية لهذا التفاعل .
 - 2- حدد التقدم الأقصى للتفاعل والمتفاعل المحد .
 - 3- اعط حصيلة المادة عند نهاية التفاعل واستنتج كتلة أو حجم المتفاعل المستعمل بوفرة وكتلة كلورور الحديد III المتكون .
 - 4- إذا انطلقنا من خليط ستوكيومتي ، حدد كتلة الحديد الذي يمكن استعماله في الحجم 1ل من غاز ثنائي الكلور .
نعطي :
- $$M(\text{Cl})=35,5\text{g}/\text{mol};M(\text{Fe})=56\text{g}/\text{mol}$$
- $$V_m=24\text{l}/\text{mol}$$

تمرين 5:

المعادلة الممثلة للتفاعل الكيميائي بين كبريتور الهيدوجين مع ثنائي أوكسيد الكبريت هي :




يمثل المنحنيان التاليان تغيرات كميات مادة المتفاعلات بالنسبة لخليطين بدئيين مختلفين .



- 1- حدد كميات المادة البدية للمتفاعلات في كل من الحالتين .
- 2- أي الحالتين تمثل خليطا بدئيا متوافقا مع المتعاملات التناسبية ؟ علل جوابك .
- 3- حدد بالنسبة للحالة الأخرى :
 - التقدم الأقصى والمتفاعل المحد .
 - حسيلة مادة التفاعل .

تمرين 6:

يحترق البويان في غاز ثنائي الأوكسيجين حسب المعادلة التالية :



نجز الإحتراق الكامل للحجم $V=48,0\ell$ من غاز البرويان في درجة الحرارة T وتحت الضغط P .

- 1- أحسب كمية المادة البدية للبريان .
- 2- أحسب كمية مادة الأوكسيجين اللازمة ليكون الخليط البدئي تناسبيا .
- 3- في الحالة البدية ، حجم غاز الأوكسيجين هو 120ℓ عند نفس الظروف لدرجة الحرارة T والضغط P . ماهو المتفاعل المحد .
- 4- أنشئ الجدول الوصفي للتفاعل .
- 5- أرسم مبيانيا منحنى يمثل تطور كميات المادة للمتفاعلات والنواتج بدلالة تقدم التفاعل أثناء التحول . استنتج مبيانيا :
 - 5.1- قيمة التقدم الأقصى .

5.2- المتفاعل المحد .

5.3- حصلة كميات المادة في الحالة النهائية للتفاعل .

6- أجب عن الاسئلة : 5.1 و 5.2 و 5.3 باستعمال الجدول الوصفي السابق .

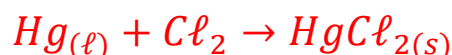
نعطي :

الحجم المولي عند T و P : $V_m = 24,0 \text{ l.mol}^{-1}$

تصحيح تمارين تتبع تطور تفاعل كيميائي

تمرين 1:

يتفاعل 1,0mol من الزئبق مع 1,5mol من ثنائي الكلور حسب المعادلة الكيميائية التالية:



1- الجدول الوصفي للتفاعل :

$Hg_{(\ell)}$	+	Cl_2	→ $HgCl_{2(s)}$	التقدم	معادلة التفاعل
$n_i(Hg) = 1mol$		$n_i(Cl_2) = 1,5mol$	$n_i(HgCl_2) = 0$	0	الحالة البدئية
$n(Hg) = 1 - x$		$n(Cl_2) = 1,5 - x$	$n(HgCl_2) = x$	x	خلال التحول
$n_f(Hg) = 1 - x_{max}$		$n_f(Cl_2) = 1,5 - x_{max}$	$n_f(HgCl_2) = x_{max}$	x_{max}	الحالة النهائية

2- في حالة $x = 0,5mol$:

$$\begin{aligned} n(Hg) &= 1 - 0,5 = 0,5mol \\ n(Cl_2) &= 1,5 - 0,5 = 1mol \\ n(HgCl_2) &= 0,5mol \end{aligned}$$

تمرين 2 :

1- جدول الوصفي للتفاعل :

$C_2H_6O_{(g)}$	→	$C_2H_4_{(g)}$	+	$H_2O_{(g)}$	التقدم	معادلة التفاعل
$n_i(C_2H_6O)$		0		0	0	الحالة البدئية
$n_i(C_2H_6O) - x$		x		x	x	خلال التحول
$n_f(C_2H_6O) - x_{max}$		x_{max}		x_{max}	x_{max}	الحالة النهائية

2.1- تقدم التفاعل عندما ينتج $0,70mol$ من الإيثن فإن :
حسب الجدول الوصفي :

$$n(C_2H_4) = x = 0,70mol$$

2.2- كميات المادة للأنواع الكيميائية عندما يكون $x = 0,70 \text{ mol}$ هي :

$$\begin{aligned} n(\text{C}_2\text{H}_6\text{O}) &= n_i(\text{C}_2\text{H}_6\text{O}) - 0,7 = 1 - 0,7 = 0,3 \text{ mol} \\ n(\text{C}_2\text{H}_4) &= x = 0,7 \text{ mol} \\ n(\text{H}_2\text{O}) &= x = 0,7 \text{ mol} \end{aligned}$$

2.3- إذا لم نوقف التفاعل فإن الإثانول سيختفي كلياً عند نهاية التفاعل ومنه :

$$\begin{aligned} n_f(\text{C}_2\text{H}_6\text{O}) &= n_i(\text{C}_2\text{H}_6\text{O}) - x_{\max} = 0 \\ 1 - x_{\max} &= 0 \\ x_{\max} &= 1 \text{ mol} \end{aligned}$$

كمية مادة النواتج في الحالة النهائية :

$$n_f(\text{C}_2\text{H}_4) = n_f(\text{H}_2\text{O}) = x_{\max} = 1 \text{ mol}$$

تمرين 3:

1- معادلة التفاعل بين أيونات النحاس II وفلز الزنك :



2- الجدول الوصفي :

$\text{Cu}_{(aq)}^{2+} + \text{Zn}_{(s)} \rightarrow \text{Zn}_{(aq)}^{2+} + \text{Cu}_{(s)}$				المعادلة الكيميائية	
كميات المادة بالمول				التقدم (mol)	حالة المجموعة
$n_i(\text{Cu}^{2+})=0,05$	$n_i(\text{Zn})$	0	0	0	الحالة البدئية
$0,05 - x$	$n_i(\text{Zn}) - x$	x	x	x	الحالة البينية
$0,05 - x_{\max}$	$n_i(\text{Zn}) - x_{\max}$	x_{\max}	x_{\max}	x_{\max}	الحالة النهائية

3- المتفاعل المحد هو أيون النحاس II لأن نهاية التفاعل توافق اختفاء اللون الأزرق لأيونات النحاس II .

4- التقدم الأقصى : x_{\max}
 عند نهاية التفاعل لدينا : $0,05 - x_{\max} = 0$
 $x_{\max} = 0,05 \text{ mol}$

5- كمية مادة الزنك البدئية لكي يتفاعل ثلث كمية مادة الزنك البدئية :
لنحسب كمية مادة الزنك المتفاعلة من الجدول الوصفي :

$$n_r(\text{Zn}) = x_{\max} = 5.10^{-2} \text{mol}$$

نستنتج :

$$n_i(\text{Zn}) = 3n_r(\text{Zn}) = 3 \times 5.10^{-2}$$

$$n_i(\text{Zn}) = 0,15 \text{mol}$$

6- كتلة النحاس المتكون :

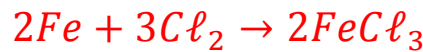
$$n_f(\text{Cu}) = \frac{m(\text{Cu})}{M(\text{Cu})} \Rightarrow m(\text{Cu}) = n_f(\text{Cu}) \cdot M(\text{Cu})$$

$$m(\text{Cu}) = x_{\max} \cdot M(\text{Cu}) = 0,05 \times 63,5$$

$$m(\text{Cu}) = 0,17 \text{g}$$

تمرين 4:

1- المعادلة الكيميائية للتفاعل :



2- الجدول الوصفي للتفاعل :

حساب كمية المادة البدئية للحديد : $n_0(\text{Fe}) = \frac{m}{M(\text{Fe})} = \frac{11,2}{56} = 0,2 \text{mol}$

حساب كمية المادة البدئية لثنائي الكلور : $n_0(\text{Cl}_2) = \frac{V}{V_m} = \frac{6}{24} = 0,25 \text{mol}$

$2\text{Fe} + 3\text{Cl}_2 \rightarrow 2\text{FeCl}_3$			التقدم	الحالة
0,20	0,25	0	0	البدئية
$0,20-2x$	$0,25-3x$	$2x$	x	أثناء التفاعل
$0,20-2x_{\max}$	$0,25-3x_{\max}$	$2x_{\max}$	x_{\max}	النهائية

3- المتفاعل المحد :

نفترض أن Fe : متفاعل محد نكتب : $0,20-2x_{\max}=0 \leftarrow x_{\max}=0,1 \text{mol}$
نعوض في المعادلة : $0,25-3 \times 0,1 = -0,05 < 0$

وبالتالي فالمتفاعل المحد هو ثنائي الكلور والتقدم الأقصى :

$$0,25 - 3x_{\max} = 0 \leftarrow x_{\max} = \frac{0,25}{3} = 0,083 \text{ mol}$$

حصيلة المادة :

$$n_f(\text{Fe}) = 0,20 - 0,083 = 0,033 \text{ mol}$$

$$n_f(\text{Cl}_2) = 0 \text{ المتفاعل المحد}$$

$$n_f(\text{FeCl}_3) = 2 \times 0,083 = 0,166 \text{ mol}$$

الجسم المستعمل بوفرة هو الحديد والكتلة المتبقية منه هي :

$$n(\text{Fe}) = \frac{m'}{M(\text{Fe})} \rightarrow m' = n(\text{Fe}) \cdot M(\text{Fe})$$

$$m' = 0,033 \times 56 = 1,85 \text{ g}$$

كتلة كلورور الحديد III المتكون :

$$n(\text{FeCl}_3) = \frac{m''}{M(\text{FeCl}_3)} \rightarrow m'' = n(\text{FeCl}_3) \cdot M(\text{FeCl}_3)$$

$$m'' = 0,166 \times (56 + 3 \times 35,5) = 26,97 \text{ g}$$

4- حساب كتلة الحديد المستعملة ليصبح الخليط ستوكيومتريا :
يكون الخليط ستوكيومترى إذا كانت كميات المادة البدئية للمتفاعلات متوفرة حسب المعاملات التناسبية للمتفاعلات في المعادلة :

$2\text{Fe} + 3\text{Cl}_2 \rightarrow 2\text{FeCl}_3$			التقدم	الحالة
$n_i(\text{Fe})$	$n_f(\text{Cl}_2)$	0	0	البدئية
$n_i(\text{Fe}) - 2x$	$n_f(\text{Cl}_2) - 3x$	2x	x	أثناء التفاعل
$n_i(\text{Fe}) - 2x_{\max}$	$n_f(\text{Cl}_2) - 3x_{\max}$	$2x_{\max}$	x_{\max}	النهائية

$$\frac{n_0(Fe)}{2} = \frac{n_0(Cl_2)}{3}$$

$$n_0(Fe) = \frac{2}{3}n_0(Cl_2)$$

$$\frac{m}{M(Fe)} = \frac{2}{3} \times \frac{V}{V_m}$$

$$m = \frac{2}{3} \times \frac{V}{V_m} M(Fe)$$

$$m = \frac{2}{3} \times \frac{1}{24} \times 56 = 1,55g$$

ت.ع:

تمرين 5:

1- الجدول الوصفي :

$2H_2S(g) + SO_2(g) \rightarrow 3S(s) + 2H_2O(l)$				المعادلة الكيميائية
كميات المادة بالمول				
0,2	0,1	0	0	الحالة (a)
0,03	0,02	0	0	الحالة (b)

2- الحالة a هي التي توافق تفاعل وفق المعاملات التناسبية لأن المتفاعلين يختلفان في أن واحد .

3- التقدم الأقصى : $x_{max} = 5.10^{-3}mol$
المتفاعل المحد هو H_2S

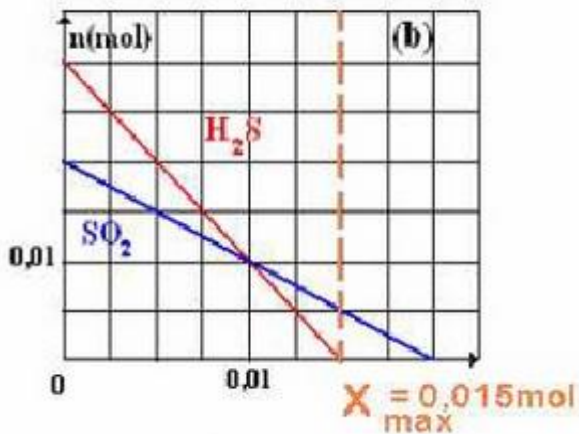
4- من المبيان نستنتج :

$$n_f(SO_2) = 5.10^{-3}mol^*$$

$$*n_f(H_2S) = 0$$

$$*n_f(S) = 3x_{max} = 1,5.10^{-2}mol$$

$$*n_f(H_2O) = 2x_{max} = 10^{-2}mol$$




تمرين 6:

1- كمية مادة البروبان: $n = \frac{V}{V_m} = \frac{48}{24}$

$$n = 2 \text{ mol}$$

2- حسب معادلة التفاعل :



لكي يكون الخليط تناسبيا ، يجب أن تتحقق في كميات المادة البدئية للمتفاعلات العلاقة .

$$\frac{n(\text{C}_3\text{H}_8)}{1} = \frac{n(\text{O}_2)}{5}$$

نحصل على : $n(\text{O}_2) = 5n(\text{C}_3\text{H}_8)$
ت.ع :

$$n = 10 \text{ mol}$$

3- كمية مادة غاز الأوكسيجين في الحجم $V(\text{O}_2) = 120 \ell$:

$$n_i(\text{O}_2) = \frac{V(\text{O}_2)}{V_m} = \frac{120}{24} = 5 \text{ mol}$$

في الخليط التناسبي تتفاعل 2 mol من البروبان مع 10 mol من غاز الأوكسيجين .
بوجود 5 mol فقط من O_2 ، فإن هذا المتفاعل يختفي كليا بينما تبقى كمية غير متفاعلة
من البروبان ، ومنه المتفاعل المحد هو ثنائي الأوكسيجين .

4- الجدول الوصفي للتفاعل :

$\text{C}_3\text{H}_8(g) + 5\text{O}_2 \rightarrow 3\text{CO}_2(g) + 4\text{H}_2\text{O}(\ell)$				معادلة التفاعل	
كميات المادة بالمول				التقدم	حالة المجموعة
$n_i(\text{C}_3\text{H}_8) = 2$	$n_i(\text{O}_2) = 5$	0	0	0	البدئية
$2 - x$	$5 - 5x$	$3x$	$4x$	x	البيئية
$2 - x_{\max}$	$5 - 5x_{\max}$	$3x_{\max}$	$4x_{\max}$	x_{\max}	النهائية

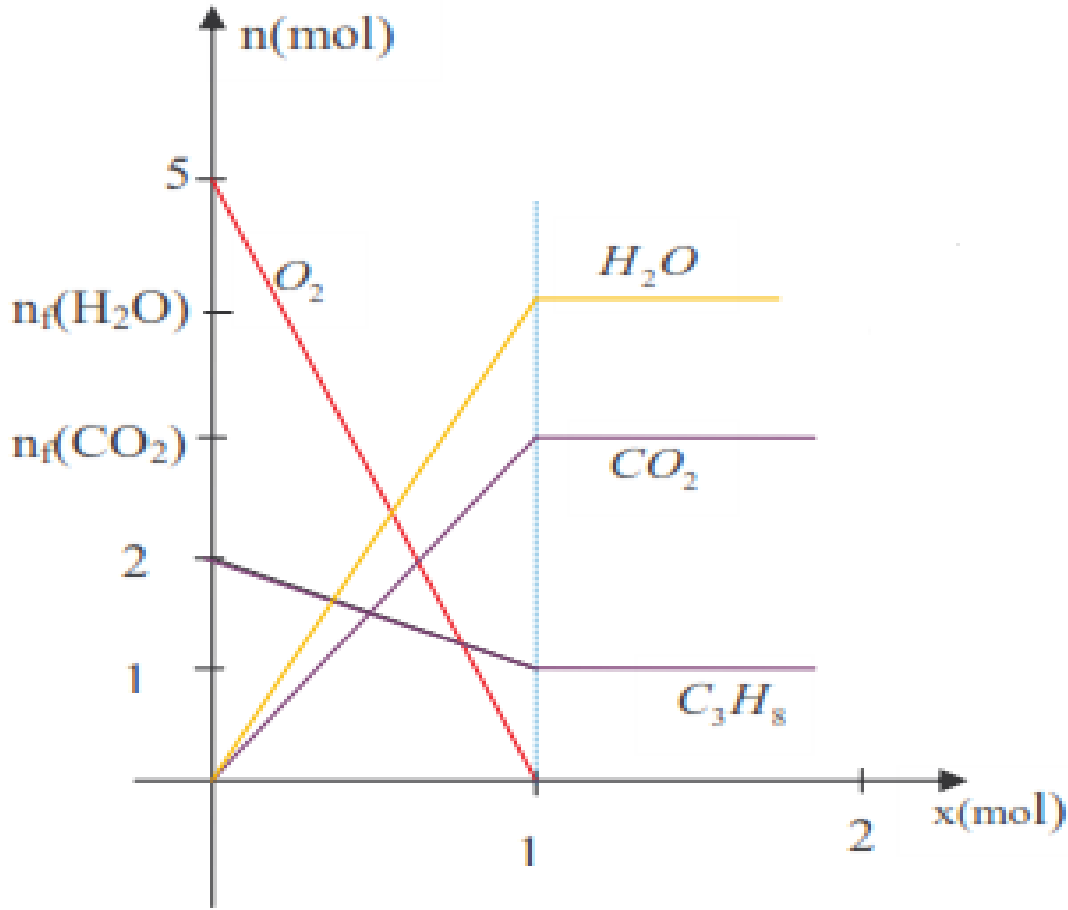
5- تمثيل كمية مادة المتفاعلات بدلالة التقدم x لكل من المتفاعلات والنواتج :

$$n(\text{C}_3\text{H}_8) = 2 - x$$

$$n(\text{O}_2) = 5 - 5x$$

$$n(\text{CO}_2) = 3x$$

$$n(\text{H}_2\text{O}) = 4x$$



5.1- نلاحظ أن كميات مادة المتفاعلات دالة تناقصية بدلالة التقدم x وعندما تنعدم كميات المادة الأوكسيجين عند $x = 1 \text{ mol}$ يتوقف التفاعل وبالتالي يكون التقدم الأقصى هو :
 $x_{max} = 1 \text{ mol}$

5.2- المتفاعل المحد هو ثنائي الأوكسيجين هو الذي يختفي كلياً عند نهاية التفاعل

5.3- حصيلة المادة في الحالة النهائية :

$$n_f(C_3H_8) = 1 \text{ mol}$$

$$n_f(O_2) = 0$$

$$n_f(CO_2) = 3 \text{ mol}$$

$$n_f(H_2O) = 4 \text{ mol}$$

6- باستعمال الجدول الوصفي :

لدينا المتراجحات التالية :

$$\begin{cases} 2 - x \geq 0 \\ 5 - 5x \geq 0 \end{cases} \Rightarrow \begin{cases} x \leq 2 \text{ mol} \\ x \leq 1 \text{ mol} \end{cases}$$

نستنتج أن : $x \leq 1 \text{ mol}$

أي : $x_{max} = 1 \text{ mol}$

المتفاعل المحد هو ثنائي الأوكسيجين .

الحصيلة النهائية لكميات المادة :

$$n_f(\text{C}_3\text{H}_8) = 2 - x_{max} = 1\text{mol}$$

$$n_f(\text{O}_2) = 5 - 5x_{max} = 0$$

$$n_f(\text{CO}_2) = 3x_{max} = 3\text{mol}$$

$$n_f(\text{H}_2\text{O}) = 4x_{max} = 4\text{mol}$$