

الامتحان الوطني الموحد للبكالوريا  
المسالك الدولية – خيار فرنسية  
الدورة العادية 2016  
-الموضوع -

NS28F

ⵜⴰⴳⴷⴰⵢⵜ ⵏ ⵏⵓⴷⴰⵢⵜ ⵏ  
ⵏⵓⴷⴰⵢⵜ ⵏ ⵏⵓⴷⴰⵢⵜ ⵏ  
ⵏⵓⴷⴰⵢⵜ ⵏ ⵏⵓⴷⴰⵢⵜ ⵏ



المملكة المغربية  
وزارة التربية الوطنية  
والتكوين المهني

المركز الوطني للتقويم  
والامتحانات والتوجيه

3

مدة الإنجاز

الفيزياء والكيمياء

المادة

7

المعامل

مسلك العلوم الفيزيائية (خيار فرنسية)

الشعبة أو المسلك

*L'usage de la calculatrice scientifique non programmable est autorisé*

*Le sujet comporte 4 exercices*

***Exercice I :(7 points)***

- Electrolyse d'une solution de nitrate de plomb
- Etude de deux réactions de l'acide propanoïque

***Exercice II :(3 points)***

- Etude d'une réaction de fusion nucléaire

***Exercice III :(4,5 points)***

- Etude du dipôle RC lors de la charge
- Etude de l'amortissement et de l'entretien des oscillations dans un circuit RLC

***Exercice IV :(5,5 points)***

- Etude du mouvement d'une particule chargée dans un champ magnétique uniforme
- Etude énergétique d'un pendule simple

## Exercice I ( 7 points )

Barème

Les deux parties I et II sont indépendantes

## Partie I (2pts) : L'électrolyse d'une solution de nitrate de plomb

On réalise l'électrolyse d'une solution aqueuse de nitrate de plomb  $Pb_{(aq)}^{2+} + 2NO_{3(aq)}^-$ , en mettant cette solution dans un électrolyseur et en faisant circuler un courant continu d'intensité  $I = 0,7A$  entre les deux électrodes (A) et (B) de l'électrolyseur pendant la durée  $\Delta t = 60 \text{ min}$ .

On observe pendant l'électrolyse la formation d'un dépôt métallique de plomb sur l'électrode (A) et un dégagement gazeux de dioxygène au niveau de l'électrode (B).

## Données :

- Les couples mis en jeu sont :  $Pb_{(aq)}^{2+} / Pb_{(s)}$  et  $O_{2(g)} / H_2O_{(l)}$  ;
- La constante de Faraday :  $1F = 9,65.10^4 \text{ C.mol}^{-1}$  ;
- Le volume molaire du gaz dans les conditions de l'expérience :  $V_m = 24 \text{ L.mol}^{-1}$ .

Recopier le numéro de la question et écrire à côté la réponse juste parmi les quatre réponses proposées, sans aucune justification, ni explication.

- 0,5 1. L'électrolyse étudiée est une transformation :
- physique                       forcée                       spontanée                       acide-base
- 0,5 2. Pendant cette électrolyse :
- L'électrode (A) constitue l'anode et à son voisinage le plomb s'oxyde.  
 L'électrode (A) constitue la cathode et à son voisinage les ions plomb se réduisent.  
 L'électrode (B) constitue l'anode et à son voisinage se produit une réduction.  
 L'électrode (B) constitue la cathode et à son voisinage l'eau se réduit.
- 0,5 3. La réaction qui se produit au niveau de l'électrode (B) est :
- $Pb_{(s)} \rightleftharpoons Pb_{(aq)}^{2+} + 2e^-$                         $2H_2O_{(l)} + 2e^- \rightleftharpoons H_{2(g)} + 2HO_{(aq)}^-$   
  $6H_2O_{(l)} \rightleftharpoons O_{2(g)} + 4H_3O_{(aq)}^+ + 4e^-$                         $6H_2O_{(l)} \longrightarrow O_{2(g)} + 4H_3O_{(aq)}^+ + 4e^-$
- 0,5 4. Le volume  $v(O_2)$  du dioxygène formé pendant la durée  $\Delta t$  est :
- $v(O_2) \approx 0,16 \text{ mL}$                         $v(O_2) \approx 0,16 \text{ L}$                         $v(O_2) \approx 0,64 \text{ mL}$                         $v(O_2) \approx 0,64 \text{ L}$

## Partie II (5pts) : Etude de deux réactions de l'acide propanoïque

*L'acide propanoïque est utilisé comme conservateur des aliments, son code est E280, on le trouve dans les fromages, les boissons et les conserves ; il entre également dans la préparation de certains parfums, produits cosmétiques et pharmaceutiques.*

*On se propose d'étudier en premier lieu, la réaction de l'acide propanoïque avec l'hydroxyde de sodium, puis dans un deuxième temps, sa réaction avec l'éthanol.*

**Données :**

- Toutes les mesures sont effectuées à 25°C ;
- Le produit ionique de l'eau :  $K_e = 10^{-14}$  ;
- On représente l'acide propanoïque  $C_2H_5COOH$  par  $AH$  et sa base conjuguée par  $A^-$  ;
- La constante d'acidité du couple  $C_2H_5COOH_{(aq)} / C_2H_5COO^-_{(aq)}$  :  $K_A = 10^{-4,9}$  ;
- Zone de virage de quelques indicateurs colorés :

Indicateur coloré	Hélianthine	B.B.T	Bleu de thymol
Zone de virage	3 – 4,4	6 – 7,6	8 – 9,6

**1. Etude de la réaction de l'acide propanoïque avec l'hydroxyde de sodium**

On dose le volume  $V_A = 5 \text{ mL}$  d'une solution aqueuse ( $S_A$ ) de l'acide propanoïque  $AH$  de concentration molaire  $C_A$  par une solution aqueuse ( $S_B$ ) d'hydroxyde de sodium de concentration molaire  $C_B = 5 \cdot 10^{-2} \text{ mol} \cdot \text{L}^{-1}$ , en suivant les variations du pH du mélange réactionnel en fonction du volume  $V_B$  versé de la solution ( $S_B$ ).

La courbe de la figure 1, représente les variations du pH en fonction du volume  $V_B$  au cours du dosage.

- 0,5  
1  
0,5  
0,5  
0,5
- Déterminer les coordonnées  $V_{BE}$  et  $\text{pH}_E$  du point d'équivalence.
  - En calculant la constante d'équilibre  $K$  associée à la réaction du dosage, montrer que cette réaction est totale.
  - Calculer la concentration  $C_A$ .
  - Choisir, en justifiant la réponse, l'indicateur coloré adéquat pour repérer l'équivalence.
  - Préciser, en justifiant la réponse, l'espèce chimique prédominante  $AH$  ou  $A^-$  après l'ajout du volume  $V_B = 7 \text{ mL}$ .

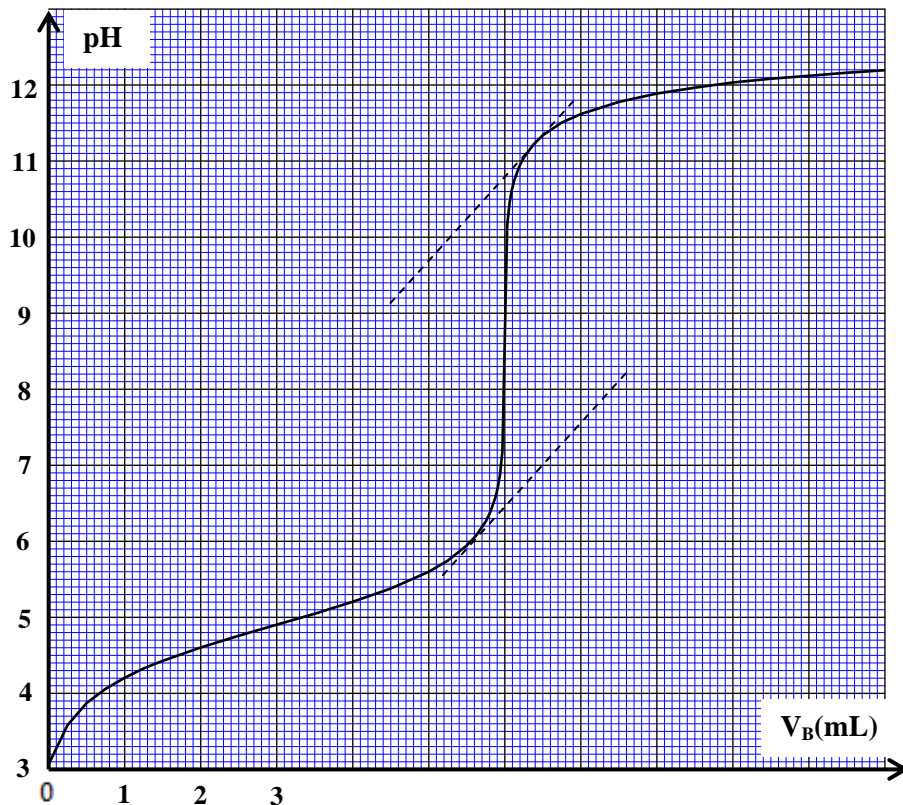


Figure 1

## 2. Etude de la réaction entre l'acide propanoïque et l'éthanol

On mélange dans un ballon, la quantité  $n_0 = 0,5 \text{ mol}$  de l'acide propanoïque avec la même quantité  $n_0 = 0,5 \text{ mol}$  d'éthanol pur, puis on chauffe à reflux le mélange réactionnel pendant une certaine durée.

On obtient à la fin de la réaction la quantité  $n_E = 0,33 \text{ mol}$  d'un composé organique E.

- 0,5 2.1. Citer deux caractéristiques de cette réaction.  
 0,5 2.2. Ecrire la formule semi développée du composé E et donner son nom.  
 0,5 2.3. Dresser le tableau d'avancement de la réaction.  
 0,5 2.4. Calculer le rendement  $r$  de cette réaction.

## Exercice II ( 3 points )

### Etude d'une réaction de fusion nucléaire

La formation de l'hélium à partir du deutérium et du tritium, qui sont deux isotopes de l'hydrogène, est une réaction de fusion nucléaire spontanée qui se produit continuellement au cœur des étoiles. L'homme essaie sans cesse de reproduire cette réaction au laboratoire afin d'utiliser de façon contrôlée son énorme énergie libérée. Le chemin est encore long pour surmonter les différents obstacles techniques.

On modélise cette réaction nucléaire par l'équation suivante :  ${}^2_1\text{H} + {}^3_1\text{H} \longrightarrow {}^A_Z\text{He} + {}^1_0\text{n}$  .

Données :

Particule	deutérium	tritium	hélium	neutron
masse (u)	2,01355	3,01550	4,00150	1,00866

- célérité de la lumière dans le vide :  $c = 3.10^8 \text{ m.s}^{-1}$  ;
- constante de Planck :  $h = 6,626.10^{-34} \text{ J.s}$  ;
- $1\text{u} = 931,5 \text{ MeV.c}^{-2}$  ;
- $1\text{MeV} = 1,6.10^{-13} \text{ J}$ .

- 0,5 1. Déterminer les nombres A et Z du noyau d'hélium.  
 0,75 2. Calculer, en MeV, l'énergie libérée  $E_{\text{lib}}$  lors de cette réaction nucléaire.  
 0,75 3. On suppose que toute l'énergie libérée s'est transformée en rayonnement électromagnétique. Déterminer la longueur d'onde  $\lambda$  associée à ce rayonnement.  
 1 4. Un échantillon de sol contient du tritium radioactif. A la date  $t = 0$ , l'activité de cet échantillon est  $a_0 = 2,0.10^6 \text{ Bq}$ . A l'instant de date  $t_1 = 4\text{ans}$ , cette activité devient égale à  $a_1 = 1,6.10^6 \text{ Bq}$ . Déterminer l'activité  $a_2$  de cet échantillon à l'instant de date  $t_2 = 12,4\text{ans}$  .

## Exercice III ( 4,5 points )

Certains dipôles électriques, comme les condensateurs et les bobines, permettent d'emmagasiner de l'énergie, qui se dissipe progressivement au cours du temps. On peut compenser cette énergie dissipée en utilisant des dispositifs adéquats.

On étudie, dans un premier temps, le comportement d'un dipôle RC lors de la charge du condensateur, puis dans un deuxième temps, l'amortissement et l'entretien des oscillations dans un circuit RLC série.

Pour cela, on réalise le circuit électrique schématisé sur la figure 1 qui comporte :

- un générateur de tension de f.e.m.  $E$  ;
- deux conducteurs ohmiques de résistance  $r=20\Omega$  et  $R$  ;
- une bobine (b) d'inductance  $L$  et de résistance  $r_b$  ;
- un condensateur de capacité  $C$  initialement déchargé ;
- un interrupteur  $K$  à double position.

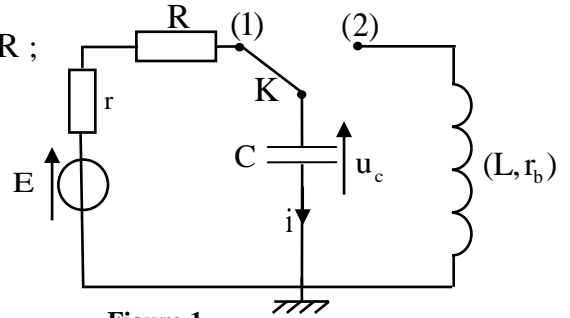


Figure 1

### 1- Etude du dipôle RC lors de la charge du condensateur

A un instant de date  $t = 0$ , on place l'interrupteur  $K$  en position (1). Un système d'acquisition informatisé permet de tracer la courbe d'évolution de la tension  $u_c(t)$ . La droite (T) représente la tangente à la courbe à la date  $t=0$ . (figure 2)

0,5 1.1. Etablir l'équation différentielle vérifiée par  $u_c(t)$ .

0,5 1.2. Trouver les expressions de  $A$  et de  $\tau$ , pour que

$u_c(t) = A \cdot (1 - e^{-\frac{t}{\tau}})$  soit solution de cette équation différentielle.

0,5 1.3. L'intensité du courant électrique s'écrit sous forme

$$i(t) = I_0 \cdot e^{-\frac{t}{\tau}}$$

Trouver l'expression de  $I_0$  en fonction de  $E$ ,  $r$  et  $R$ .

1.4. En exploitant la courbe de la figure 2 :

0,5 1.4.1. Trouver la valeur de la résistance  $R$  sachant que

$$I_0 = 0,20 \text{ A.}$$

0,25 1.4.2. Déterminer la valeur de  $\tau$ .

0,25 1.4.3. Vérifier que la capacité du condensateur est  $C = 10\mu\text{F}$ .

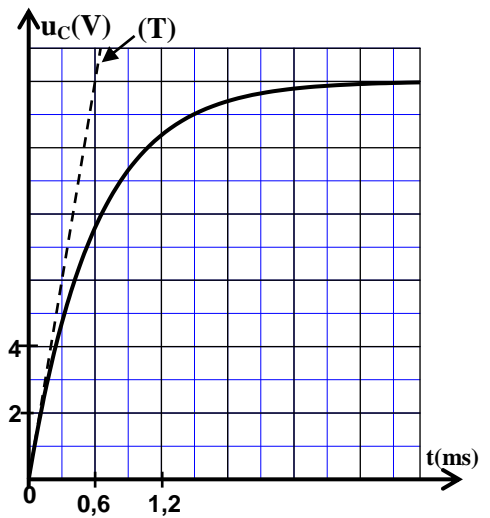


Figure 2

### 2-Etude de l'amortissement et de l'entretien des oscillations dans un circuit RLC

Une fois le condensateur est totalement chargé, on bascule l'interrupteur  $K$  vers la position (2) à un instant que l'on choisira comme nouvelle origine des dates ( $t = 0$ ).

La courbe de la figure 3, représente l'évolution temporelle de la charge  $q(t)$  du condensateur.

0,25 2.1. Identifier le régime oscillatoire qui correspond à la courbe de la figure 3 .

0,5 2.2. En assimilant la pseudo période à la période propre de l'oscillateur électrique, déterminer l'inductance  $L$  de la bobine (b) .

0,5 2.3. Calculer  $\Delta \mathcal{E}$ , la variation de l'énergie totale du circuit entre les instants  $t_1 = 0 \text{ ms}$  et  $t_2 = 18 \text{ ms}$ , puis interpréter ce résultat.

2.4. Pour entretenir les oscillations, on monte en série avec le condensateur et la bobine (b), précédemment étudiés, un générateur (G) qui délivre une tension proportionnelle à l'intensité du courant électrique:  $u_G(t) = k \cdot i(t)$ .

0,5 2.4.1. Etablir l'équation différentielle vérifiée par la charge  $q(t)$ .

0,25 2.4.2. On obtient des oscillations électriques sinusoïdales lorsque la constante  $k$  prend la valeur  $k = 11$  dans le système d'unités internationales.

En déduire la valeur de la résistance électrique  $r_b$  de la bobine (b).

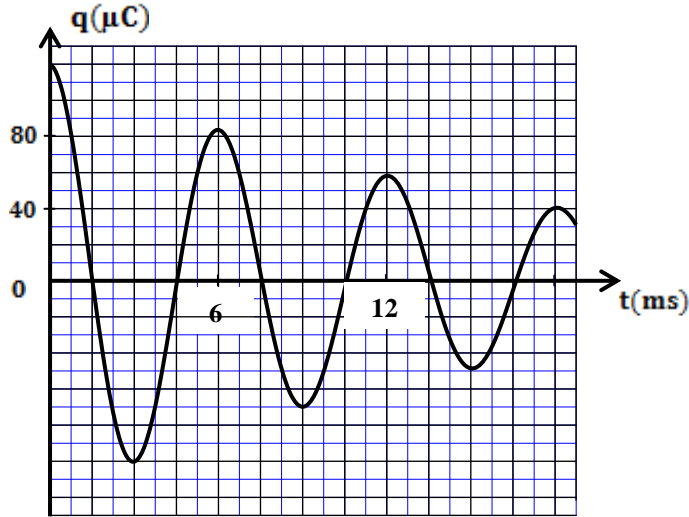


Figure 3

Exercice IV (5,5 points)

Les parties I et II sont indépendantes

Partie I (3pts) : Etude du mouvement d'une particule chargée dans un champ magnétique uniforme

Deux particules chargées  $\text{Li}^+$  et  $\text{X}^{2+}$  sont introduites en un point O, avec la même vitesse initiale  $\vec{V}$ , dans un espace où règne un champ magnétique uniforme  $\vec{B}$ , perpendiculaire au vecteur  $\vec{V}$ .

$q_x$  et  $m_x$  sont respectivement la charge électrique et la masse de la particule  $\text{X}^{2+}$ .

On considère que  $\text{Li}^+$  et  $\text{X}^{2+}$  sont soumises seulement à la force de Lorentz.

Données :

- La vitesse initiale :  $V=10^5 \text{ m.s}^{-1}$  ;
- L'intensité du champ magnétique :  $B=0,5\text{T}$  ;
- La charge élémentaire:  $e=1,6.10^{-19} \text{ C}$  ;
- La masse de  $\text{Li}^+$  :  $m_{\text{Li}}=6,015\text{u}$  ;
- $1\text{u}=1,66.10^{-27} \text{ kg}$  ;
- La figure 1 représente les trajectoires des deux particules dans le champ  $\vec{B}$ .

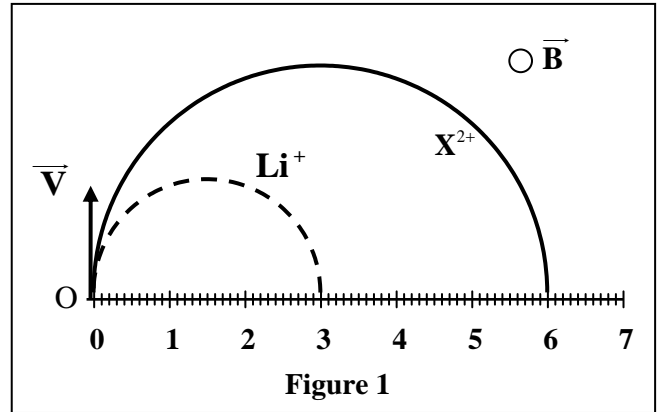


Figure 1

- on rappelle l'expression de la force de Lorentz :  $\vec{F}=q\vec{V} \wedge \vec{B}$ .

0,75

1. Déterminer la direction, le sens et l'intensité du vecteur force de Lorentz exercée sur la particule  $\text{Li}^+$  au point O.

0,25

2. Préciser le sens du vecteur  $\vec{B}$  en le représentant par  $\odot$  s'il est vers l'avant ou par  $\otimes$  s'il est vers l'arrière.

- 1 3. En appliquant la deuxième loi de Newton dans un référentiel galiléen, montrer que le mouvement de l'ion  $\text{Li}^+$  est uniforme et de trajectoire circulaire de rayon  $R_{\text{Li}} = \frac{m_{\text{Li}} \cdot V}{e \cdot B}$ .
- 0,25 4. En exploitant les données de la figure 1, déterminer le rapport  $\frac{R_x}{R_{\text{Li}}}$ ; avec  $R_x$  le rayon de la trajectoire de la particule  $\text{X}^{2+}$ .
- 0,75 5. Sachant que la particule  $\text{X}^{2+}$  se trouve parmi les trois ions proposés avec leurs masses dans le tableau ci-dessous, identifier  $\text{X}^{2+}$  en justifiant la réponse.

Ion	$^{24}_{12}\text{Mg}^{2+}$	$^{26}_{12}\text{Mg}^{2+}$	$^{40}_{20}\text{Ca}^{2+}$
Masse ( u )	23,985	25,983	39,952

### Partie II (2,5 pts): Etude énergétique d'un pendule simple

*Pour les philosophes grecs, un objet "lourd", en tombant, cherche à rejoindre son lieu naturel, qui est le centre de la Terre, par conséquent le « bas ». Le pendule simple posait un réel problème: pourquoi l'objet lourd au bout de la ficelle, lâché d'une certaine hauteur, ne rejoint-il pas directement son lieu naturel, qui est le bas, mais continue son mouvement vers le « haut » ?*

*Au moyen âge, avec Galilée et Newton, ce problème a été résolu.*

Le pendule simple est considéré comme cas particulier du pendule pesant. On étudie dans cette partie le pendule simple de point de vue énergétique.

Un pendule simple est constitué d'une boule de petites dimensions et de masse  $m$ , suspendue à l'extrémité d'un fil inextensible, de masse négligeable et de longueur  $L$ . L'autre extrémité du fil est accrochée en un point fixe  $A$ .

On écarte le pendule d'un angle  $\theta_m$  par rapport à sa position d'équilibre stable et on le lâche sans vitesse initiale à l'instant de date  $t = 0$ . Le pendule oscille librement dans le plan  $(O, x, y)$  autour d'un axe fixe  $\Delta$  horizontal passant par  $A$ . L'étude du pendule est réalisée dans un référentiel terrestre supposé galiléen.

A chaque instant, la position du pendule est repérée par son abscisse angulaire  $\theta$ .

On choisit l'énergie potentielle de pesanteur nulle au niveau du point  $O$ ; position d'équilibre stable du pendule (figure 2).

On néglige les frottements et on travaille dans l'approximation de faibles oscillations.

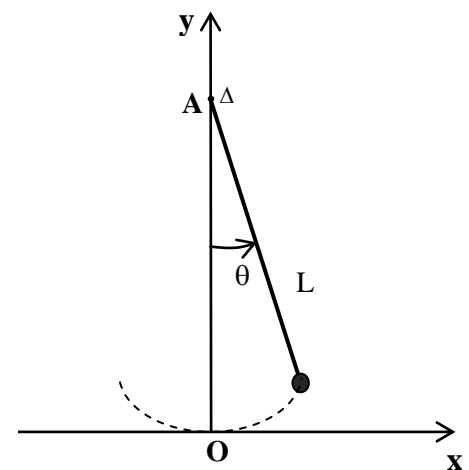


Figure 2

#### Données :

- Masse de la boule :  $m = 350 \text{ g}$  ;
- Longueur du pendule :  $L = 58 \text{ cm}$  ;
- $g = 9,81 \text{ m.s}^{-2}$  ;
- Moment d'inertie du pendule est :  $J_{\Delta} = m \cdot L^2$  ;
- pour les angles petits:  $\sin \theta \approx \theta$  et  $\cos \theta \approx 1 - \frac{\theta^2}{2}$ .

0,75

1. Ecrire, dans le cas de faibles oscillations, l'expression de l'énergie mécanique  $E_m$  du pendule en fonction de  $m$ ,  $g$ ,  $L$ ,  $\theta$  et la vitesse angulaire  $\dot{\theta}$ .
2. La figure 3 représente le diagramme d'énergie du pendule étudié.

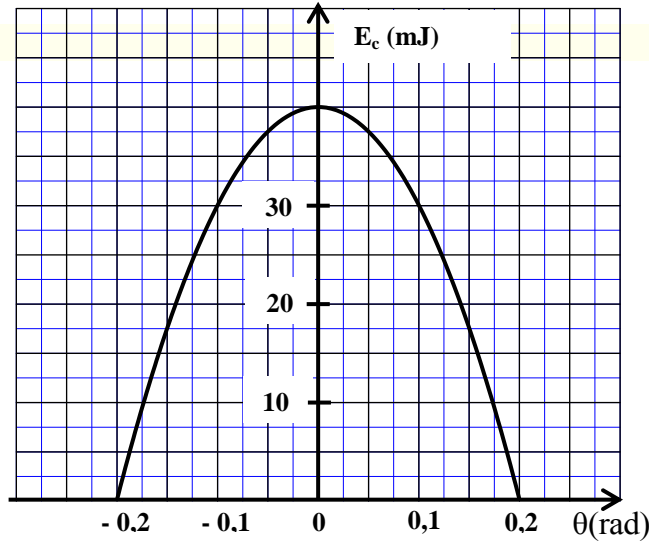


Figure 3

Déterminer la valeur de :

0,25

- 2.1. L'abscisse angulaire maximale  $\theta_{\max}$ .

0,25

- 2.2. L'énergie mécanique  $E_m$  du pendule.

0,5

- 2.3. La vitesse linéaire maximale  $v_{\max}$  du pendule.

0,75

3. Calculer les deux abscisses angulaires  $\theta_1$  et  $\theta_2$  pour lesquelles l'énergie potentielle est égale à l'énergie cinétique.

-----



الامتحان الوطني الموحد للبكالوريا  
المسالك الدولية – خيار فرنسية  
الدورة العادية 2016  
- عناصر الإجابة -

NR28F

المملكة المغربية  
وزارة التربية الوطنية  
والتكوين المهني



المملكة المغربية  
وزارة التربية الوطنية  
والتكوين المهني

المركز الوطني للتقويم  
والامتحانات والتوجيه



3	مدة الإنجاز	الفيزياء والكيمياء	المادة
7	المعامل	مسلك العلوم الفيزيائية (خيار فرنسية)	الشعبة أو المسلك

Exercice I (7 points)

	Question	Eléments de réponse	Barème	Référence de la question dans le cadre de référence
Partie I	1	- forcée	0,5	- Savoir qu'une électrolyse est une transformation forcée.
	2	L'électrode (A) constitue la cathode et à son voisinage les ions plomb se réduisent	0,5	- Reconnaître l'électrode à laquelle se produit la réaction d'oxydation (anode) ou l'électrode à laquelle se produit la réaction de réduction (cathode), connaissant le sens du courant imposé par le générateur.
	3	$6H_2O_{(l)} \rightleftharpoons O_{2(g)} + 4H_3O_{(aq)}^+ + 4e^-$	0,5	- Ecrire les équations des réactions aux électrodes avec double flèche...
	4	$v(O_2) \approx 0,16 L$	0,5	- Etablir la relation entre les quantités de matière des espèces formées ou consommées, l'intensité du courant et la durée de l'électrolyse. Utiliser cette relation pour déterminer d'autres grandeurs (l'avancement de réaction, variation de masse, volume d'un gaz...).
Partie II	1.1	$V_{BE} = 6mL$ Les valeurs de $pH_E$ entre 8,5 et 8,7 sont acceptables.	0,25 0,25	- Repérer et exploiter le point d'équivalence.
	1.2	-méthode - $K = 10^{9,1} \approx 1,26.10^9$ , sa valeur est très grande, donc la réaction est totale.	0,5 0,5	- Déterminer la constante d'équilibre associée à l'équation d'une réaction acido-basique à l'aide des constantes d'acidité des couples en présence.
	1.3	$C_A = \frac{C_B \cdot V_{BE}}{V_A}$ $C_A = 6.10^{-2} mol.L^{-1}$	0,25 0,25	- Ecrire l'équation de réaction de dosage avec une seule flèche.
	1.4	-Le bleu de thymol - la justification	0,25 0,25	- Exploiter la courbe ou les résultats du dosage.
	1.5	- $A^-$ est l'espèce prédominante - la justification	0,25 0,25	- Justifier le choix de l'indicateur coloré adéquat pour repérer l'équivalence.

Partie II	2.1	Réaction lente et limitée	2x0,25	Connaitre les caractéristiques des réactions d'estérification et d'hydrolyse
	2.2	-Formule semi développée de E -Propanoate d'éthyle	0,25 0,25	- Reconnaître dans la formule d'une espèce chimique organique les groupes caractéristiques - Nommer les esters comportant 5 atomes de carbone au maximum
	2.3	- Ecriture de l'équation de la réaction - Remplissage du tableau d'avancement	0,25 0,25	- Dresser le tableau d'avancement d'une réaction et l'exploiter. - Ecrire les équations des réactions d'estérification et d'hydrolyse
	2.4	- Expression littérale du rendement - r = 66%	0,25 0,25	- calculer le rendement d'une transformation chimique.

Exercice II (3 points)			
Question	Eléments de réponse	Barème	Référence de la question dans le cadre de référence
1	$A = 4$ ; $Z = 2$	2x0,25	- Connaître et exploiter les deux lois de conservation. -Ecrire l'équation d'une réaction nucléaire en appliquant les deux lois de conservation.
2	-méthode -ap.num: $E_{lib} \approx 17,6 MeV$	0,5 0,25	- Calculer l'énergie libérée (produite) par une réaction nucléaire: $E_{libérée} =  \Delta E $
3	-exp.littérale : $\lambda = \frac{h.c}{E_{lib}}$ -ap.num: $\lambda \approx 7,1.10^{-14} m$	0,5 0,25	- Connaître et exploiter la relation $\Delta E = h\nu$
4	-méthode -exp. littérale -ap.num : $a_2 \approx 1,0.10^6 Bq$	0,5 0,25 0,25	- Connaître et exploiter la loi de décroissance radioactive et exploiter sa courbe correspondante. - Savoir que 1 Bq est égal à une désintégration par seconde. - Définir la constante de temps $\tau$ et la demi-vie $t_{1/2}$ .

Exercice III ( 4,5 points)

Question	Eléments de réponse	Barème	Référence de la question dans le cadre de référence
1.1	L'équation différentielle	0,5	- Etablir l'équation différentielle et vérifier sa solution lorsque le dipôle RC est soumis à un échelon de tension.
1.2	$A = E$ $\tau = (R + r).C$	0,25 0,25	
1.3	$I_0 = \frac{E}{R + r}$	0,5	- Déterminer l'expression de la tension aux bornes du condensateur $u_C(t)$ lorsque le dipôle RC est soumis à un échelon de tension, et en déduire l'expression de l'intensité du courant dans le circuit et l'expression de la charge du condensateur.
1.4.1	-méthode -ap.num : $R = 40\Omega$	0,25 0,25	- Reconnaître et représenter les courbes de variation en fonction du temps, de la tension $u_C(t)$ aux bornes du condensateur et les différentes grandeurs qui lui sont liées, et les exploiter
1.4.2	$\tau = 0,6 \text{ ms}$	0,25	- Exploiter des documents expérimentaux pour déterminer la constante de temps.
1.4.3	Vérification de la valeur de la capacité	0,25	- Connaître et exploiter l'expression de la constante de temps.
2.1	Régime pseudopériodique	0,25	- Définir et reconnaître les régimes périodique, pseudopériodique et apériodique.
2.2	-méthode -ap.num : $L \approx 9,1.10^{-2} \text{ H}$	0,25 0,25	- Connaître et exploiter l'expression de la période propre. - Exploiter des documents expérimentaux pour déterminer la valeur de la pseudo-période et de la période propre.
2.3	$\Delta \mathcal{E} = -6,4.10^{-4} \text{ J}$ le circuit perd de l'énergie par effet joule	0,25 0,25	Connaître et exploiter l'expression de l'énergie totale du circuit.
2.4.1	$\frac{d^2q}{dt^2} + \frac{r_b - k}{L} \frac{dq}{dt} + \frac{1}{LC} q = 0$	0,5	- Etablir l'équation différentielle vérifiée par la tension aux bornes du condensateur ou par sa charge $q(t)$ dans le cas d'un circuit RLC entretenu par l'utilisation d'un générateur délivrant une tension proportionnelle à l'intensité : $u_G(t) = k.i(t)$ . - Connaître le rôle du dispositif d'entretien d'oscillations, qui consiste à compenser l'énergie dissipée par effet Joule dans le circuit.
2.4.2	$r_b = k = 11\Omega$	0,25	

Exercice IV ( 5,5 points)

	Question	Eléments de réponse	Barème	Référence de la question dans le cadre de référence
Partie I	1	-direction : la ligne horizontale passant par O. - sens : de la gauche vers la droite - intensité : $F = 8.10^{-15} \text{ N}$	0,25 0,25 0,25	- Connaître les caractéristiques de la force de Lorentz et la règle pour déterminer son sens. - Appliquer la deuxième loi de Newton dans le cas d'une particule chargée se trouvant dans un champ magnétique uniforme, avec $\vec{B}$ perpendiculaire à $\vec{v}_0$ pour : - Déterminer la nature du mouvement. - Connaître les coordonnées du vecteur accélération dans un repère cartésien et dans la base de Freinet
	2	le sens du vecteur $\vec{B}$ : $\odot$	0,25	
	3	- écriture de la 2 <sup>o</sup> loi de Newton. - utilisation de la base de Freinet. - mouvement uniforme. - mouvement circulaire de rayon $R_{Li}$	0,25 0,25 0,25 0,25	
	4	$\frac{R_x}{R_{Li}} = 2$	0,25	
	5	-méthode -la particule est : ${}^{24}_{12}\text{Mg}^{2+}$	0,5 0,25	
	Partie II	1	-méthode -l'expression $E_m = \frac{1}{2} mL^2 \dot{\theta}^2 + \frac{1}{2} mgL\theta^2$	
2.1		$\theta_{max} = 0,2 \text{ rad}$	0,25	
2.2		$E_m = 40 \text{ mJ}$	0,25	
2.3		-expression littérale - $v_{max} \approx 0,48 \text{ m.s}^{-1}$	0,25 0,25	
3		-méthode $\theta_1 \approx 0,14 \text{ rad}$ $\theta_2 \approx -0,14 \text{ rad}$	0,25 0,25 0,25	