



C: RS30

الامتحان الوطني الموحد للبكالوريا
-الدورة الاستدراكية 2008-
الموضوع

7	المعامل:	الفيزياء والكيمياء	المادة:
4 س	مدة الإنجاز:	شعبة العلوم الرياضية (أ) و (ب)	الشعب(ة):

لا يسمح باستعمال الآلة الحاسبة القابلة للبرمجة أو الحاسوب.

يضم هذا الموضوع تمرينا في الكيمياء وثلاثة تمارين في الفيزياء:

الكيمياء:

- تفاعل حمض كربوكسيلي مع الماء ومع الأمونياك (4,25 نقط).
- عمود نيكل- زنك (2,75 نقط).
- فيزياء 1 : تحديد تردد موجة ضوئية (2,5 نقط).
- فيزياء 2 : استجابة ثنائي القطب RL و RLC لتوتر كهربائي (5 نقط)
- فيزياء 3 : - مقارنة كتلة الشمس وكتلة الأرض (2,5 نقط).
- قياس كتلة جسم داخل مركبة فضائية في مدارها (3 نقط) .

الكيمياء: (7 نقط)

الجزء (1) (4,25 نقط): تفاعل حمض كربوكسيلي مع الماء ثم مع الأمونياك

تعتبر الأحماض الكربوكسيلية من المركبات العضوية التي تظهر خاصية حمضية في المحاليل المائية . الصيغة العامة للأحماض الكربوكسيلية هي $C_nH_{2n+1}COOH$ ، حيث n عدد صحيح. لتحضير محلول (S_A) لحمض كربوكسيلي، نذيب في الماء المقطر كتلة $m = 450 \text{ mg}$ من هذا الحمض الخالص و نضيف إليه الماء المقطر للحصول على $V_0 = 500 \text{ mL}$ من هذا المحلول.

نأخذ حجما $V_A = 10 \text{ mL}$ من المحلول (S_A) ونعايره بواسطة محلول مائي (S_B) لهيدروكسيد الصوديوم ($Na^+_{(aq)} + HO^-_{(aq)}$) تركيزه المولي $C_B = 10^{-2} \text{ mol.L}^{-1}$. نحصل على التكافؤ حمض- قاعدة عند إضافة الحجم $V_B = 15 \text{ mL}$ من المحلول (S_B). معطيات : * ثابتة الحمضية للمزدوجة $NH^+_{4(aq)} / NH_{3(aq)}$ هي : $pK_{A1} = 9,2$. * الكتل المولية الذرية :

$$M(H) = 1 \text{ g.mol}^{-1} \text{ و } M(C) = 12 \text{ g.mol}^{-1} \text{ و } M(O) = 16 \text{ g.mol}^{-1}$$

1. تحديد الصيغة الإجمالية لحمض كربوكسيلي

1.1- اكتب معادلة تفاعل المعايرة.

1.2- احسب التركيز المولي C_A للمحلول (S_A)، ثم بين أن الصيغة الإجمالية للحمض الكربوكسيلي هي CH_3COOH .

2. تحديد الثابتة pK_{A2} للمزدوجة $CH_3COOH_{(aq)} / CH_3COO^-_{(aq)}$.

نأخذ حجما V من المحلول (S_A) و نقيس الـ pH عند $25^\circ C$ ، فنجد $pH = 3,3$.

2.1 - اعتمادا على الجدول الوصفي لتطور المجموعة، عبر عن التقدم النهائي x_f لتفاعل الحمض

$$\frac{|CH_3COOH|_f}{|CH_3COO^-|_f} = -1 + C_A \cdot 10^{pH} \quad \text{مع الماء بدلالة } V \text{ و } pH \text{، ثم أثبت التعبير}$$

حيث $|CH_3COOH|_f$ و $|CH_3COO^-|_f$ جزأ النوعين الكيميائيين عند التوازن.

2.2- استنتج قيمة الثابتة pK_{A2} .

3. دراسة تفاعل الحمض CH_3COOH مع القاعدة NH_3 .

نأخذ من المحلول (S_A) حجما يحتوي على كمية المادة البدئية $n_i(CH_3COOH) = n_0 = 3.10^{-4} mol$ ونضيف إليه حجما من محلول الأمونياك يحتوي على نفس كمية المادة البدئية $n_i(NH_3) = n_0$.

3.1 - اكتب معادلة التفاعل الذي يحدث بين الحمض CH_3COOH و القاعدة NH_3 .

3.2 - احسب ثابتة التوازن K المقرونة بمعادلة هذا التفاعل.

3.3 - بين أن نسبة التقدم النهائي τ لهذا التفاعل تكتب على الشكل $\tau = \frac{\sqrt{K}}{1 + \sqrt{K}}$.

ماذا تستنتج بخصوص هذا التفاعل؟

الجزء (2) (2,75 نقطة) : عمود نيكل- زنك

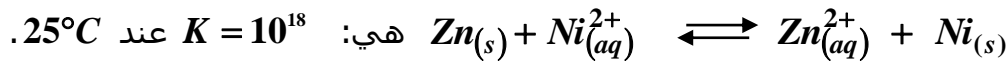
ننجز العمود المكون من المزدوجتين $Ni_{(aq)}^{2+} / Ni_{(s)}$ و $Zn_{(aq)}^{2+} / Zn_{(s)}$ ، بغمر إلكترود النيكل في حجم $V = 100 mL$ من محلول كبريتات النيكل $Ni_{(aq)}^{2+} + SO_{4(aq)}^{2-}$ تركيزه البدئي $[Ni_{(aq)}^{2+}]_i = 5.10^{-2} mol.L^{-1}$ ، و إلكترود الزنك في حجم $V = 100 mL$ من محلول كبريتات الزنك $Zn_{(aq)}^{2+} + SO_{4(aq)}^{2-}$ تركيزه البدئي $[Zn_{(aq)}^{2+}]_i = 5.10^{-2} mol.L^{-1}$. نصل محلولي مقصورتَي العمود بقنطرة أيونية.

معطيات: * الكتلة المولية الذرية :

$$M(Ni) = 58,7 g.mol^{-1} \text{ و } M(Zn) = 65,4 g.mol^{-1}$$

$$1 F = 9,65.10^4 C.mol^{-1} \text{ : الفرامي *}$$

* ثابتة التوازن المقرونة بمعادلة التفاعل :



1. نصل إلكترود النيكل Ni و إلكترود الزنك Zn بموصل أومي، فيمر في الدارة تيار كهربائي شدته ثابتة $I = 0,1 A$.

1.1 - احسب خارج التفاعل $Q_{r,i}$ في الحالة البدئية، و بين أن المجموعة المكونة للعمود تتطور تلقائيا في المنحى المباشر.

1.2 - حدد، معلا جوابك، منحى التيار الكهربائي المار في الموصل الأومي.

2. نعتبر أن كتلة الإلكترودين توجد بوفرة وأن التحول الكيميائي الذي يحدث أثناء اشتغال العمود كلي.

2.1 - حدد المدة الزمنية القصوى Δt_{max} لاشتغال هذا العمود.

2.2 - استنتج التغير Δm لكتلة إلكترون النيكيل Ni .

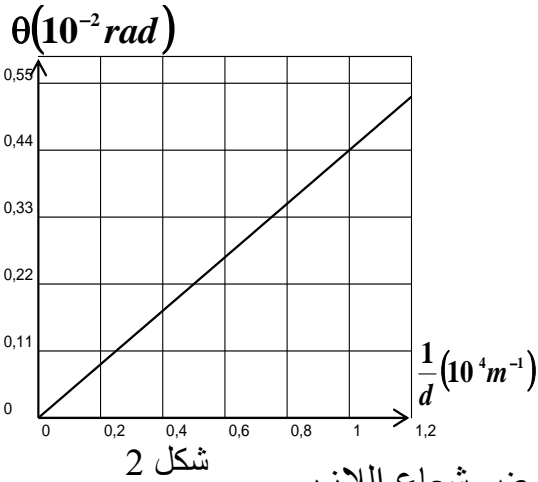
فيزياء 1 (2,5 نقطة) : تحديد تردد موجة ضوئية

تمكن دراسة ظاهرة حيود الضوء من تحديد تردد الموجات الضوئية. نجعل ضوءاً أحادي اللون طول موجته λ منبعثاً من جهاز الليزر يرد عمودياً تباعاً على أسلاك رفيعة رأسية أقطارها معروفة. نرسم لقطر السلك بالحرف d . نشاهد مظهر الحيود المحصل على شاشة بيضاء توجد على مسافة D من السلك. نقيس العرض L للبقعة المركزية ونحسب انطلاقاً من هذا القياس الفرق الزاوي θ بين منتصف البقعة المركزية و أول بقعة مظلمة بالنسبة لسلك معين. (شكل 1).

معطيات:

- * الزاوية θ صغيرة معبر عنها بالراديان حيث $\tan \theta \approx \theta$;
- * سرعة انتشار الضوء في الهواء تقارب: $c = 3.10^8 \text{ m.s}^{-1}$

شكل 1



1- أعط العلاقة بين θ و λ و d .

2- أوجد، اعتماداً على الشكل 1، العلاقة

بين L و λ و d و D .

3- نمثل المنحنى $\theta = f\left(\frac{1}{d}\right)$ في الشكل 2.

3-1 حدد انطلاقاً من هذا

المنحنى طول الموجة λ للضوء

الأحادي اللون المستعمل.

استنتج تردد الموجة ν .

3.2 نضيء سلكاً رفيعاً بالضوء الأبيض عوض شعاع الليزر.

علماً أن المجال المرئي للضوء يكون فيه طول الموجة محصوراً بين

(البنفسجي) $\lambda_v = 400 \text{ nm}$ و (الأحمر) $\lambda_r = 800 \text{ nm}$.

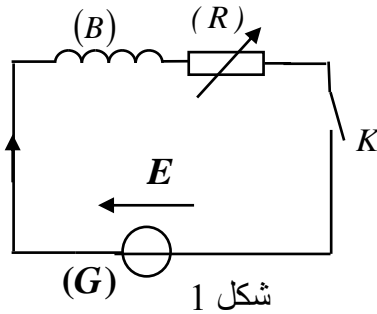
أ- عين طول الموجة للضوء الأحادي اللون الذي يوافق أقصى قيمة لعرض البقعة المركزية.

ب - فسر لماذا يظهر لون وسط البقعة المركزية أبيض.

فيزياء 2 (5 نقط) : استجابة ثنائي القطب RL و RLC لتوتر كهربائي

يتكون جهاز الانتقاء لمذياع ، أساساً من ، هوائي و وشيعة (B) معامل تحريضها L

و مقاومتها r و مكثف (C) سعته C قابلة للضبط..
يهدف هذا التمرين إلى :
- دراسة استجابة ثنائي قطب RL مكون من الوشيجة (B) و موصل أومي ؛
- دراسة استجابة ثنائي قطب RLC مكون من الوشيجة (B) و المكثف (C)
و موصل أومي.



1. استجابة ثنائي القطب RL لتوتر كهربائي ثابت.

ننجز التجربة التالية باستعمال التركيب المستعمل في الشكل (1) والمكون من:

- الوشيجة (B) ؛
- موصل أومي (R) مقاومته R قابلة للضبط؛
- مولد (G) مؤمّن قوته الكهرومحرّكة ثابتة $E = 2,4 V$ ؛
- قاطع التيار K .

نضبط المقاومة R على القيمة $R_1 = 20 \Omega$ ، ثم نغلق

قاطع التيار عند لحظة نختارها أصلا للتواريخ) $t = 0$.

يمكن تسجيل تطور التوتر u_R بين مربطي

الموصل الأومي (R) من الحصول على المنحنى

الممثل لتغيرات شدة التيار $i(t)$ بدلالة الزمن

(شكل 2) .

يمثل المستقيم (T) المماس للمنحنى عند اللحظة

$t = 0$

1.1- أوجد المعادلة التفاضلية التي تحققها شدة

التيار $i(t)$.

1.2- علما أن حل هذه المعادلة التفاضلية يكتب على

$$i(t) = A \left(1 - e^{-\frac{t}{\tau}} \right) \quad \text{الشكل}$$

حدد تعبير كل من الثابتة A و ثابتة الزمن τ بدلالة برامترات الدارة.

1.3- حدد انطلاقا من المبيان قيمة كل من L و r .

2- استجابة ثنائي القطب RL و RLC لتوتر جيبي

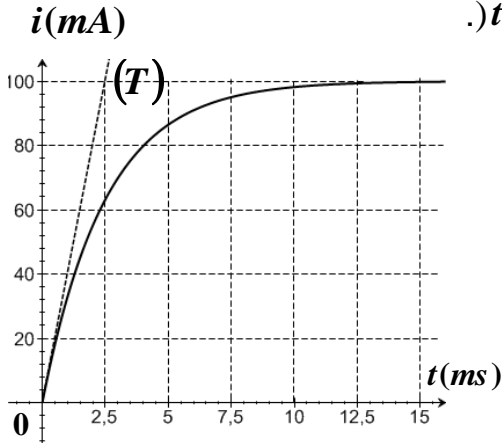
ننجز تباعا دارتين كهربائيتين باستعمال ثنائي القطب (D_1) و (D_2) التاليين حيث :

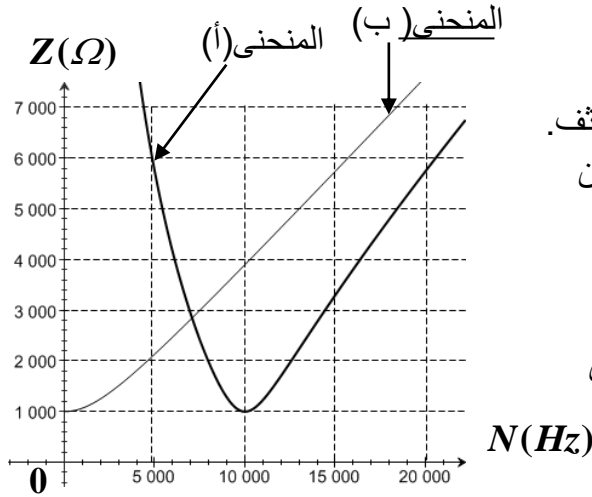
- (D_1) : موصل أومي مقاومته R_0 مركب على التوالي مع الوشيجة (B) السابقة؛

- (D_2) : موصل أومي مقاومته R_0 مركب على التوالي مع الوشيجة (B) السابقة

والمكثف (C) سعته مضبوطة على قيمة C_0 .

نطبق بين مربطي كل ثنائي قطب على حدة توترا جيبييا $u(t) = U \sqrt{2} \cos(2\pi Nt + \varphi)$





الشكل 3

توتره الفعال U ثابت وتردده N قابل للضبط؛ وذلك باستعمال نفس المولد.
ندرس تغيرات الممانعة Z لكل دارة بدلالة التردد N ؛ فنحصل على المنحنيين (أ) و (ب) الممثلين في الشكل 3.

نهمل مقاومة الوشيجة أمام المقاومة R_0 .

2.1 عين، معللا جوابك، المنحنى الموافق لثنائي القطب (D_2).

2.2 استنتج قيمة المقاومة R_0 و قيمة السعة C_0 للمكثف.

2.3 بين أن التردد N الموافق لنقطة تقاطع المنحنيين

(أ) و (ب) يحقق العلاقة $N = \frac{N_0}{\sqrt{2}}$ ، حيث

N_0 تردد الدارة RLC عند الرنين.

2.4 بين أن ثنائي القطب (D_1) و (D_2) لهما نفس

الاستجابة بالشدة الفعالة للتيار عند ضبط

التردد على القيمة $N = \frac{N_0}{\sqrt{2}}$.

فيزياء 3 (5,5 نقطة) : الجزء (1) و (2) مستقلان
الجزء (1) : مقارنة كتلة الشمس وكتلة الأرض

تمكن معرفة حركة الأقمار الاصطناعية حول الأرض و حركة الأرض حول الشمس من مقارنة كتلة الشمس m_s بكتلة الأرض m_T .

معطيات: نعتبر قمرا اصطناعيا ساكنا بالنسبة للأرض، كتلته m وشعاع مداره الدائري في المرجع المركزي الأرضي هو $r = 4,22 \cdot 10^4 km$.

- الدور المداري لحركة القمر الاصطناعي حول الأرض هو T .

- الدور المداري لحركة الأرض حول الشمس في المرجع المركزي الشمسي هو

$T_T = 365,25 \text{ jours}$.

- شعاع المدار الدائري لحركة مركز الأرض حول الشمس هو $r_T = 1,496 \cdot 10^8 km$.

- دور دوران الأرض حول محورها القطبي هو $T_0 = 24 \text{ heures}$.

- نرمز بـ G لثابتة التجاذب الكوني و نعتبر أن كلا من الأرض و الشمس لهما توزيع تماثلي للكتلة.

نهمل تأثير الكواكب الأخرى على كل من الأرض و القمر الاصطناعي.

1 - بين أن حركة القمر الاصطناعي دائرية منتظمة في المرجع المركزي الأرضي. و استنتج تعبير

الدور T بدلالة G و m_T و r .

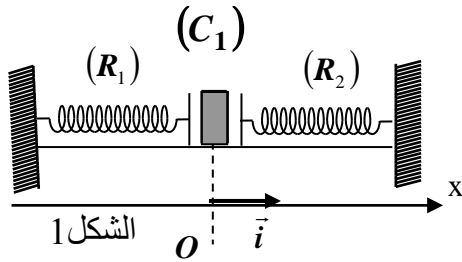
2 - يعبر عن القانون الثالث لكبلير بالنسبة لحركة القمر الاصطناعي حول الأرض بالعلاقة: $\frac{T^2}{r^3} = K$

حيث K ثابتة؛ أوجد تعبير K بدلالة G و m_T .

3- أوجد تعبير النسبة $\frac{m_S}{m_T}$ بدلالة r و r_T و T و T_T . احسب قيمتها.

الجزء (2) : قياس كتلة جسم داخل مركبة فضائية في مدارها.

أثناء إجراء البحوث داخل مركبة فضائية في مدارها حول الأرض، يقوم رجل الفضاء بقياس كتل بعض الأجسام، وذلك باستعمال جهاز مكون من مقصورة (A) كتلتها $m = 200 \text{ g}$ قابلة للانزلاق على مستوى أفقي بدون احتكاك. المقصورة مرتبطة بطرفي نابضين (R_1) و (R_2) لهما نفس الصلابة k و نفس الطول الأصلي l_0 . الطرف الآخر لكل نابض مثبت بحامل ثابت (شكل 1). عند التوازن يكون طول كل نابض أكبر من طوله الأصلي.



قبل استعمال هذا الجهاز داخل المركبة الفضائية خضع للتجربة التالية على سطح الأرض:

وضع جسم صلب (C_1) كتلته $M_1 = 100 \text{ g}$

داخل المقصورة (A) و أزيحت المجموعة (S)

المكونة من المقصورة (A) و الجسم (C_1) عن

موضع توازنها G_0 المنطبق مع أصل المعلم (o, i)

نحو اليمين بمسافة X_m و حررت بدون سرعة بدئية، فأنجز مركز القصور G للمجموعة (S) حركة تذبذبية حول موضع توازنها بحيث بقي النابضان مطالين.

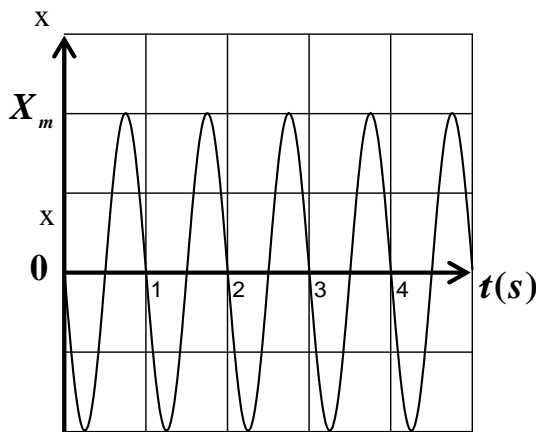
مكن حاسوب مزود بنظام المسك من تسجيل المنحنى الممثل لتغيرات الأفضول x لمركز القصور G

للمجموعة (S) بدلالة الزمن (شكل 2).

1- بين أن للنابضين، عند التوازن، نفس الإطالة $\Delta l_1 = \Delta l_2 = \Delta l_0$.

2- بين أن الأفضول x لمركز قصور المجموعة (S) يحقق المعادلة التفاضلية التالية :

$$\frac{d^2 x}{dt^2} + \frac{2k}{m + M_1} x = 0$$



3- يكتب حل المعادلة التفاضلية على الشكل :

$$x(t) = X_m \cos\left(\frac{2\pi}{T_0} t + \varphi\right)$$

3.1 - حدد انطلاقاً من المبيان الطور φ للحركة.

3.2 - باستعمال المعادلة التفاضلية و حلها،

أوجد تعبير الدور الخاص T_0 للحركة
بدلالة M_1 و m و k .

- X_m

3.3- باستغلال مبيان الشكل 2، احسب قيمة

الصلابة k . نأخذ $\pi^2 = 10$.

شكل 2

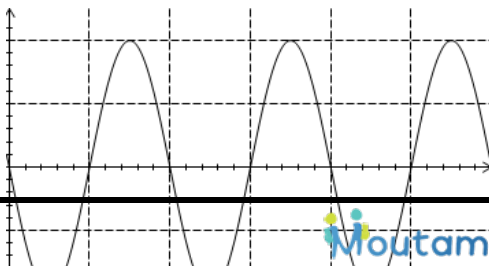
3.4- أنجز رجل الفضاء نفس التجربة

باستعمال نفس الجسم (C_1) ونفس الجهاز السابق داخل

مركبة فضائية في مدارها حول الأرض، فوجد نفس القيمة للدور الخاص T_0 . ماذا تستنتج؟

3.5 - استعمل رجل الفضاء نفس الجهاز السابق لقياس الكتلة M_2 لجسم (C_2) داخل المركبة

الفضائية، فوجد أن قيمة الدور الخاص للمتذبذب هي: $T_0' = 1,5 s$ ، استنتج قيمة M_2 .



تصحيح موضوع الامتحان الوطني الموحد للبكالوريا 2008 - الدورة الاستدراكية

أستاذ المادة : مصطفى قشيش المؤسسة : ثانوية بلال بن رباح التأهيلية - تمارة

الكيمياء

الجزء (1) : تفاعل حمض كربوكسيلي مع الماء، ثم مع الأمونياك
1- تحديد الصيغة الإجمالية لحمض كربوكسيلي :2.1- * حساب التركيز المولي C_A :عند التكافؤ نحصل على التركيز المولي بتطبيق العلاقة: $C_A V_A = C_B V_{B,E}$

ومنه :
$$C_A = \frac{C_B V_{B,E}}{V_A} = \frac{10^{-2} \times 15}{10} = 1,5 \cdot 10^{-2} \text{ mol.L}^{-1}$$

* إثبات الصيغة الإجمالية للحمض الكربوكسيلي:

- نعلم أن: $C_A = \frac{n}{V_0}$ و $n = \frac{m}{M}$ ، ومنه: $C_A = \frac{m}{M \cdot V_0}$ ، أي:

$$M = \frac{m}{C_A \cdot V_0} \Rightarrow (12n + 12) + (2n + 2) + 32 = \frac{m}{C_A \cdot V_0} \Rightarrow 14n + 46 = \frac{m}{C_A \cdot V_0}$$

$$n = \frac{1}{14} \left(\frac{m}{C_A \cdot V_0} - 46 \right)$$

- ت.ع:
$$n = \frac{1}{14} \cdot \left(\frac{0,45}{1,5 \cdot 10^{-2} \times 0,5} - 46 \right) = 1$$

إذا الصيغة الإجمالية للحمض الكربوكسيلي هي: $C_nH_{2n+1}COOH = CH_3COOH$ 2- تحديد الثابتة pK_{A2} للمزدوجة CH_3COOH / CH_3COO^- 1.2- * تعبير التقدم النهائي x_f لتفاعل الحمض مع الماء:

- إنشاء الجدول الوصفي:

$CH_3COOH_{(aq)} + H_2O_{(l)} \rightleftharpoons CH_3COO^-_{(aq)} + H_3O^+_{(aq)}$				معادلة التفاعل	
كميات المادة				التقدم x	
$n_i(AH) = C_A \cdot V$	وفير	0	0	$x = 0$	حالة المجموعة
$C_A \cdot V - x_f$	وفير	x_f	x_f	$x = x_f$	حالة التوازن

- حسب الجدول نجد: $n_f(H_3O^+) = x_f \Rightarrow \frac{n_f(H_3O^+)}{V} = \frac{x_f}{V} \Rightarrow [H_3O^+]_f = \frac{x_f}{V} \Rightarrow x_f = [H_3O^+]_f \cdot V$

$$\Rightarrow x_f = 10^{-pH} \cdot V$$

* إثبات التعبير التالي: $\frac{[CH_3COOH]_f}{[CH_3COO^-]_f} = -1 + C_A \cdot 10^{pH}$ - حسب الجدول الوصفي: $[CH_3COOH]_f = \frac{n_f(AH)}{V} = \frac{C_A V - x_f}{V} = C_A - \frac{x_f}{V} = C_A - [H_3O^+]_{\text{éq}}$

تصحيح موضوع الامتحان الوطني الموحد للبكالوريا 2008 - الدورة الاستدراكية

أستاذ المادة : مصطفى قشيش المؤسسة : ثانوية بلال بن رباح التأهيلية - تمارة

$$\Rightarrow [CH_3COOH]_f = C_A \cdot 10^{-pH}$$

$$[CH_3COO^-]_f = [H_3O^+]_f = 10^{-pH}$$

و منه أيضا:

$$\frac{[CH_3COOH]_f}{[CH_3COO^-]_f} = \frac{C_A \cdot 10^{-pH}}{10^{-pH}} = -1 + C_A \cdot 10^{+pH}$$

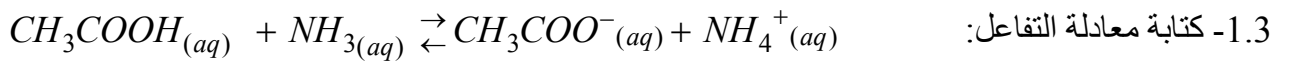
إذا:

2.2- استنتاج قيمة الثابتة pK_{A2} :- بالنسبة للمزدوجة قاعدة / حمض: CH_3COOH / CH_3COO^- لدينا:

$$pH = pK_{A2} + \text{Log} \frac{[CH_3COO^-]_f}{[CH_3COOH]_f} \Rightarrow pK_{A2} = pH - \text{Log} \frac{[CH_3COO^-]_f}{[CH_3COOH]_f}$$

$$pH = pK_{A2} + \text{Log} \frac{[CH_3COOH]_f}{[CH_3COO^-]_f} \Rightarrow pK_{A2} = pH + \text{Log}(-1 + C_A \cdot 10^{pH})$$

$$pK_{A2} = 3,3 + \text{Log}(-1 + 1,5 \cdot 10^{-2} \times 10^{3,3}) \approx 4,76 \quad \text{ت.ع.}$$

3- دراسة تفاعل الحمض CH_3COOH مع القاعدة NH_3 :2.3- حساب ثابتة التوازن K المقرونة بمعادلة هذا التفاعل:

$$K = \frac{K_{A2}}{K_{A1}} = \frac{10^{-pK_{A2}}}{10^{-pK_{A1}}} \quad \text{- نطبق العلاقة:}$$

$$K = \frac{10^{-4,76}}{10^{-9,2}} \approx 2,75 \cdot 10^4 \quad \text{ت.ع.}$$

3.3- إثبات تعبير نسبة التقدم τ :

- إنشاء الجدول الوصفي:

$CH_3COOH_{(aq)} + NH_{3(aq)} \rightarrow CH_3COO^-_{(aq)} + NH_4^+_{(aq)}$				معادلة التفاعل	
كميات المادة				التقدم x	
n_0	n_0	0	0	$x=0$	حالة المجموعة البدئية
$n_0 - x_f$	$n_0 - x_f$	x_f	x_f	$x=x_f$	حالة التوازن
$n_0 - x_m$	$n_0 - x_m$	x_m	x_m	$x=x_m$	تحول كلي

$$n_0 - x_m = 0 \Rightarrow x_m = n_0$$

- قيمة التقدم الأقصى:

$$K = \frac{\frac{x_f}{V} \times \frac{x_f}{V}}{\frac{n_0 - x_f}{V} \times \frac{n_0 - x_f}{V}} = \frac{(x_f)^2}{(n_0 - x_f)^2} \quad \text{لدينا: } K = \frac{[NH_4^+]_f \times [CH_3COO^-]_f}{[NH_3]_f \times [CH_3COOH]_f} \quad \text{ومنه:}$$

$$\frac{x_f}{n_0 - x_f} = \sqrt{K} \Rightarrow x_f = (n_0 - x_f)\sqrt{K} \Rightarrow x_f(1 + \sqrt{K}) = n_0\sqrt{K} \Rightarrow x_f = \frac{n_0\sqrt{K}}{1 + \sqrt{K}}$$

تصحيح موضوع الامتحان الوطني الموحد للبكالوريا 2008 - الدورة الاستدراكية

أستاذ المادة : مصطفى قشيش المؤسسة : ثانوية بلال بن رباح التأهيلية - تمارة

$$\tau = \frac{x_f}{x_m} = \frac{n_0 \sqrt{K}}{1 + \sqrt{K}} \Rightarrow \tau = \frac{\sqrt{K}}{1 + \sqrt{K}}$$

- استنتاج: نسبة التقدم τ لتفاعل خليط بدئي متساوي المولات تتعلق فقط بثابتة التوازن K المقرونة بهذا التفاعل.

الجزء (2): عمود نيكل - زنك

1.1- * حساب $Q_{r,i}$ خارج التفاعل في الحالة البدئية:

$$Q_{r,i} = \frac{[Zn^{2+}]_i}{[Ni^{2+}]_i} = \frac{5 \cdot 10^{-2}}{5 \cdot 10^{-2}} = 1$$

حسب معادلة التفاعل:

* استنتاج منحنى تطور المجموعة:

بما أن $Q_{r,i} = 1 \ll K = 10^{18}$ ، وحسب معيار التطور التلقائي، فإن المجموعة الكيميائية تتطور في المنحنى المباشر، أي وفق منحنى تآكل إلكترود الزنك.

2.1- تحديد منحنى التيار الكهربائي:

يتأكسد فلز الزنك، حيث يفقد إلكترونات، التي تنتقل من مقصورة الزنك نحو مقصورة النيكل، ويمر إذا تيار كهربائي في المنحنى المعاكس.

1.2- تحديد المدة القصوى Δt_m لاشتغال هذا العمود:

- إنشاء الجدول الوصفي للتحويل الحاصل:

كمية مادة الإلكترونات المتبادلة: $n(e^-)$	معادلة التفاعل				التقدم	حالة المجموعة
	$Ni^{2+}(aq)$	$Zn(s)$	$Ni(s)$	$Zn^{2+}(aq)$		
0	$n_i(Ni^{2+})$	$n_i(Zn)$	$n_i(Ni)$	$n_i(Zn^{2+})$	0	الحالة البدئية
$2x_m$	$n_i(Ni^{2+}) - x_m$	$n_i(Zn) - x_m$	$n_i(Ni) + x_m$	$n_i(Zn^{2+}) + x_m$	x_m	الحالة القصوى

- تحديد التقدم الأقصى: $n_i(Ni^{2+}) - x_m = 0 \Rightarrow x_m = n_i(Ni^{2+}) = [Ni^{2+}] \cdot V$ - من الجدول الوصفي، كمية مادة الإلكترونات المتبادلة بين النوع المختزل والنوع المؤكسد هي: $n(e^-) = 2x_m$ - نعلم أن كمية الكهرباء Q_m التي تجتاز الدارة خلال المدة الزمنية Δt_m هي: $Q_m = n(e^-)_m \times F = I \times \Delta t_m$

$$\Delta t_m = \frac{2 \cdot [Ni^{2+}] \cdot V \cdot F}{I} \quad \text{أي: } 2x_m \times F = I \times \Delta t \Rightarrow 2 \cdot [Ni^{2+}] \cdot V \times F = I \times \Delta t_m \quad \text{ومنه:}$$

$$\Delta t_m = \frac{2 \times 5 \cdot 10^{-2} \times 0,1 \times 96500}{0,1} = 9650 s = 2 h 40 mn 50 s \quad \text{ت.ع.}$$

2.2- استنتاج التغير Δm لكتلة إلكترود النيكل:- لدينا: $\Delta m(Ni) = \Delta n(Ni) \cdot M(Ni)$ ، مع $\Delta n(Ni) = n_f(Ni) - n_i(Ni)$ - حسب الجدول الوصفي: $n_f(Ni) = n_i(Ni) + x_m$ ، ومنه: $\Delta n(Ni) = n_f(Ni) - n_i(Ni) = x_m$

تصحيح موضوع الامتحان الوطني الموحد للبكالوريا 2008 - الدورة الاستدراكية

أستاذ المادة : مصطفى قشيش المؤسسة : ثانوية بلال بن رباح التأهيلية - تمارة

- نستنتج أن: $\Delta m(Ni) = x_m \cdot M(Ni) \Rightarrow \Delta m(Ni) = [Ni^{2+}] \cdot V \cdot M(Ni)$

ت.ع: $\Delta m(Ni) = 5.10^{-2} \times 0,1 \times 58,7 = \underline{0,293 \text{ g}}$

الفيزياء

التمرين الأول : تحديد تردد موجة ضوئية

1- العلاقة بين المقادير θ و λ و d :يكون تعبير الفرق الزاوي θ الموافق للبقعة المركزية خلال الحيود بواسطة خيط قطره d هو: (1) $\theta = \frac{\lambda}{d}$ 2- إيجاد العلاقة بين المقادير L و λ و d و D ، اعتمادا على الشكل 1:- حسب الشكل 1، نجد العلاقة: $\tan(\theta) = \frac{L/2}{D}$ أي $\tan(\theta) = \frac{L}{2D}$ ، وبما أن الفرق الزاوي صغير، فإن: $\tan(\theta) \approx \theta$

وبالتالي: (2) $\theta = \frac{L}{2D}$

- من العلاقتين (1) و (2) نستنتج: (3) $\theta = \frac{\lambda}{d} = \frac{L}{2D}$ 1.3- * تحديد طول الموجة λ انطلاقا من المنحنى:- $\theta = f\left(\frac{1}{d}\right)$ دالة خطية، فنكتب معادلة المستقيم: (4) $\theta = k \cdot \frac{1}{d}$ ، حيث k المعامل الموجه قيمته:

$$k = \frac{\Delta \theta}{\Delta(1/d)} = \frac{0,44 \cdot 10^{-2} - 0}{1 \cdot 10^4 - 0} = \underline{4,4 \cdot 10^{-7} \text{ m}}$$

- بمماثلة المعادلة (4) مع المعادلة (1)، نستنتج أن: $\lambda = k = \underline{4,4 \cdot 10^{-7} \text{ m}} = 440 \text{ nm}$ * استنتاج تردد الموجة ν (nu):

نطبق العلاقة $\lambda = c \cdot T = \frac{c}{\nu}$ ، ومنه: $\nu = \frac{c}{\lambda} = \frac{3 \cdot 10^8}{4,4 \cdot 10^{-7}} = \underline{6,8 \cdot 10^{14} \text{ Hz}}$

2.3- أ - تعيين طول الموجة λ الذي يوافق أقصى قيمة لعرض البقعة المركزية:- من المعادلتين نستنتج العلاقة التالية: $L = \frac{2D}{d} \cdot \lambda$ - نلاحظ كلما ارتفعت قيمة λ ، ارتفعت قيمة L عرض البقعة الضوئية المركزية، وبالتالي: $\lambda = 800 \text{ nm}$

ب- لون البقعة المركزية:

خلال حيود الضوء الأبيض، تتألف البقعة المركزية من جميع أشعة الضوء الأبيض، ويؤدي تداخلها إلى ظهور اللون الأبيض.

التمرين الثاني: استجابة ثنائي القطب RL و RLC لتوتر كهربائي

1) استجابة ثنائي القطب RL لتوتر كهربائي ثابت

1.1- إثبات المعادلة التفاضلية التي تحققها شدة التيار $i(t)$:- قانون إضافية التوترات: $u_b + u_R = E$ (*)

تصحيح موضوع الامتحان الوطني الموحد للبكالوريا 2008 - الدورة الاستدراكية

أستاذ المادة : مصطفى قشيش المؤسسة : ثانوية بلال بن رباح التأهيلية - تمارة

- في اصطلاح المستقبل : قانون أوم للموصل الأومي : $u_R = R.i$ و للوشية : $u_b = r.i + L.\frac{di}{dt}$ تكتب المعادلة (*) : $L.\frac{di}{dt} + (r + R).i = E$ أو : $\frac{L}{r + R}.\frac{di}{dt} + i = \frac{E}{r + R}$ وهي المعادلة التفاضلية.2.1- تحديد تعبير كل من الثابتة A والثابتة الزمن τ :يكتب حل المعادلة السابقة على الشكل التالي : $i(t) = A.(1 - e^{-t/\tau})$ و $\frac{di}{dt} = \frac{1}{\tau}.A.e^{-t/\tau}$ نعوض في المعادلة التفاضلية : $\frac{L}{R + r}.\left(\frac{1}{\tau}.A.e^{-t/\tau}\right) + A.(1 - e^{-t/\tau}) = \frac{E}{R + r}$

$$\Rightarrow \frac{L}{(R + r).\tau}.A.e^{-t/\tau} - A.e^{-t/\tau} + A = \frac{E}{R + r}$$

$$\text{ومنه : } \tau = \frac{L}{r + R} \text{ و } A = \frac{E}{r + R} \text{ ، نستنتج أن : } A.e^{-t/\tau} \left(\frac{L}{\tau.(R + r)} - 1 \right) + A - \frac{E}{R + r} = 0$$

3.1- تحديد قيمة كل من r و L انطلاقا من المبيان :- في النظام الدائم، تكون شدة التيار ثابتة قيمتها : $I_0 = \frac{E}{R + r}$ ، ومنه : $r = \frac{E}{I_0} - R$

$$\text{* ت.ع : } I_0 = 100 \text{ mA} = 0,1 \text{ A} , R = R_1 = 20 \Omega , E = 2,4 \text{ V} , r = \frac{2,4}{0,1} - 20 = 4 \Omega$$

- من المبيان : $\tau = 2,5 \text{ ms}$ ، إذا : $L = (R + r).\tau = (20 + 4) \times 2,4 \cdot 10^{-3} = 6 \cdot 10^{-2} \text{ H}$

2) استجابة ثنائي القطب RL و RLC لتوتر جيبي

1.2- تعيين المنحنى الموافق :

- ممانعة ثنائي القطب (D_1) هي : $Z_1 = \sqrt{R_0^2 + 4\pi^2 L^2 . N^2}$ - ممانعة ثنائي القطب (D_2) هي : $Z_2 = \sqrt{R_0^2 + \left(2\pi L.N - \frac{1}{2\pi C.N}\right)^2}$ - دالة تزايدية، إذا المنحنى (ب) يوافق ثنائي القطب (D_1)، وبالتالي فالمنحنى (أ) يوافق ثنائي القطب (D_2).

$$\text{مبيانيا نجد } T = 4 \text{ ms} , \text{ ونعلم أن : } T = T_0 = 2\pi \sqrt{L.C} \text{ ، ومنه : } C = \frac{T^2}{4.\pi^2.L} = \frac{(4.10^{-3})^2}{4 \times 10 \times 0,49} = 8,2 \cdot 10^{-7} \text{ F}$$

2.2- استنتاج قيمة كل من R_0 و C :- عند الرنين تكون ممانعة الدارة دنوية، ومن المنحنى (أ)، نجد : $R_0 = Z = 1000 \Omega$ - عند الرنين تتحقق العلاقة : $LC(2\pi N_0)^2 = 1$ ، ومنه :

$$C = \frac{1}{4\pi^2 L N_0^2} = \frac{1}{4 \times 10 \times 6.10^{-2} \times (10^4)^2} = 4,16 \cdot 10^{-9} \text{ F}$$

3.2- إثبات العلاقة $N = \frac{N_0}{\sqrt{2}}$ ، حيث N تردد نقطة تقاطع المنحنيين :يتقاطع المنحنيان عند نقطة حيث $N < N_0$ ، أي : $L(2\pi N) - \frac{1}{C(2\pi N)} < 0$

تصحيح موضوع الامتحان الوطني الموحد للبكالوريا 2008 - الدورة الاستدراكية

أستاذ المادة : مصطفى قشيش المؤسسة : ثانوية بلال بن رباح التأهيلية - تمارة

عند هذه النقطة تتحقق المتساوية: $\sqrt{R_0^2 + 4\pi^2 L^2 N^2} = \sqrt{R_0^2 + (2\pi L N - \frac{1}{2\pi C N})^2} \Leftrightarrow Z_1 = Z_2$

أو: $4\pi^2 L^2 N^2 = (2\pi L N - \frac{1}{2\pi C N})^2$ ، ومنه: $2\pi L N = - (2\pi L N - \frac{1}{2\pi C N})$ < 0

أي: $N^2 = \frac{1}{8\pi^2 C L}$ ، ونعلم أن: $N_0^2 = \frac{1}{4\pi^2 L C}$ ، وبالتالي: $N^2 = \frac{N_0^2}{2}$ ، ونستنتج: $N = \frac{N_0}{\sqrt{2}}$

4.2- استجابة (D₁) و (D₂):

لدينا في هذه الحالة $Z_1 = Z_2$ ، ونعلم أن: $U = Z_1 I_1$ و $U = Z_2 I_2$ ، ومنه: $Z_2 I_2 = Z_1 I_1 \Leftrightarrow I_2 = I_1$

التمرين الثالث:

الجزء (1) : مقارنة كتلة الشمس وكتلة الأرض

1- * إبراز طبيعة حركة القمر الاصطناعي:

- المجموعة المدروسة : { القمر الاصطناعي }

- تخضع المجموعة إلى وزنها \vec{P}

- نطبق القانون الثاني لنيوتن في المعلم المركزي الأرضي الذي نعتبره غاليليا:

$$\sum \vec{F}_{ext} = m \vec{a} \Rightarrow \vec{P} = m \vec{a} (*)$$

- يعبر عن وزن القمر الاصطناعي الذي يوجد عند العلو h من سطح الأرض ب:

$$\vec{P} = - \frac{G m_T m}{r^2} \vec{u}_T \text{ حيث } r = R + h \text{ و } \vec{u}_T = -\vec{n}$$

- نعوض في (*)، ونحصل على:

$$(1) \vec{a} = \frac{G m_T}{r^2} \vec{n}$$

- باستعمال معلم فريني (S, \vec{u}, \vec{n}) ، لدينا: $\vec{a} = a_T \vec{u} + a_N \vec{n}$

- بماتلة (1) و (2) نستنتج أن: $a_T = 0$ و $a_N = \frac{G m_T}{r^2}$ (3) و (4)

- من العلاقة (3): $\frac{dv}{dt} = a_T = 0 \Leftrightarrow v = Cte$ حركة القمر الاصطناعي منتظمة

- من العلاقة (4): $\frac{v^2}{r} = a_N = \frac{G m_T}{r^2} \Leftrightarrow r = \frac{G m_T}{v^2} = Cte$ حركة القمر الاصطناعي دائرية

نستنتج أن حركة القمر الاصطناعي دائرية منتظمة في المعلم المركزي الأرضي.

$$* \text{ تعبير الدور } T: T = \frac{2\pi r}{v} \Rightarrow T = \frac{2\pi r}{\sqrt{\frac{G m_T}{r}}} \Rightarrow T = 2\pi \sqrt{\frac{r^3}{G m_T}}$$

2- تعبير K بدلالة G و m_T :

تصحيح موضوع الامتحان الوطني الموحد للبكالوريا 2008 - الدورة الاستدراكية

أستاذ المادة : مصطفى قشيش المؤسسة : ثانوية بلال بن رباح التأهيلية - تمارة

$$- \text{ يكتب القانون الثالث لكبلير: } \frac{T^2}{r^3} = K \quad (*)$$

$$- \text{ من تعبير الدور } T \text{ نستنتج العلاقة: } \frac{T^2}{r^3} = \frac{4\pi^2}{G.m_T} \quad (*')$$

$$- \text{ بمماثلة } (*) \text{ و } (*') \text{، نستنتج: } \frac{T^2}{r^3} = K = \frac{4\pi^2}{G.m_T} \quad (a)$$

$$3- \text{ أيجاد تعبير النسبة } \frac{m_S}{m_T} :$$

- إذا اعتبرنا الحركة الدائرية المنتظمة للأرض حول الشمس، فإن دور هذه الحركة T_T وشعاع مسارها r_T يحققان العلاقة التالية:

$$\frac{T_T^2}{r_T^3} = K' = \frac{4\pi^2}{G.m_S} \quad (b) \quad (\text{القانون الثالث لكبلير})$$

$$- \text{ نقسم (a) على (b): } \frac{m_S}{m_T} = \left(\frac{T_T}{T}\right)^2 \cdot \left(\frac{r_T}{r}\right)^3 \Leftrightarrow \frac{m_S}{m_T} = \frac{T^2}{T_T^2} \cdot \frac{r_T^3}{r^3} = \frac{4\pi^2}{G.m_T} \cdot \frac{m_S}{4\pi^2} = \frac{m_S}{m_T}$$

$$- \text{ ت.ع: } \frac{m_S}{m_T} = \left(\frac{1}{365,25}\right)^2 \times \left(\frac{1,496 \cdot 10^8}{4,22 \cdot 10^4}\right)^3 \approx 3,33 \cdot 10^5$$

بالتقريب، تفوق كتلة الشمس كتلة الأرض بـ **333 ألف مرة**.

- بما أن مدار القمر دائري فإن التسارع \vec{a} مركزي انجذابي، فنسقط العلاقة (*) في معلم فرييني وبالنسبة للمركبة المنظمة \vec{n} فنحصل على:

$$v = \sqrt{\frac{G.M_T}{r}} \quad \text{ومنه: } G \cdot \frac{M_T \cdot m}{r^2} = m \cdot \frac{v^2}{r}$$

$$- \text{ ت.ع: } v = \sqrt{\frac{6,67 \cdot 10^{-11} \times 5,98 \cdot 10^{24}}{7000 \cdot 10^3}} = 7548,56 \text{ m.s}^{-1}$$

الجزء (2) : قياس كتلة جسم داخل مركبة فضائية

1- إطالة النابضين عند التوازن:

- المجموعة المدروسة: {المقصورة - (C₁)}

- جرد القوى المطبقة على المجموعة:

* وزن المجموعة: \vec{P} * تأثير السطح الأفقي: \vec{R}

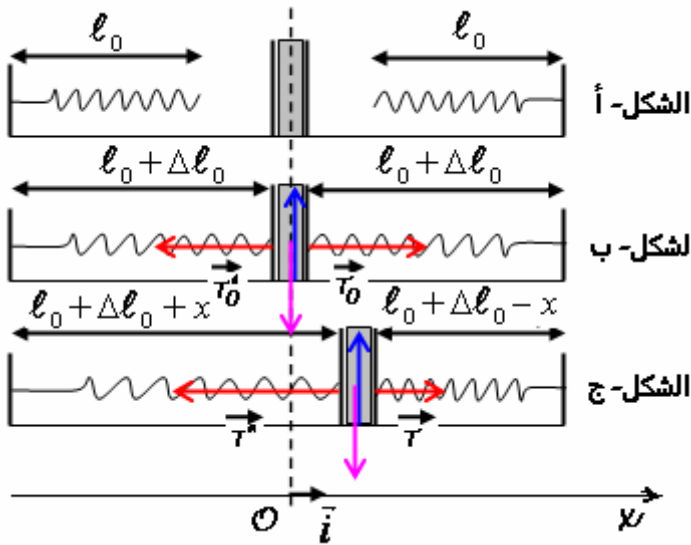
* تأثير النابض (R₁): \vec{T}_0 * تأثير النابض (R₂): \vec{T}'_0

- حسب الشكل- ب، عند التوازن، نكتب: $\vec{P} + \vec{R} + \vec{T}_0 + \vec{T}'_0 = \vec{0}$

- الإسقاط على المحور الأفقي Ox : $0 + 0 + T_0 - T'_0 = 0$ ، أي: $k \cdot \Delta \ell_1 - k \cdot \Delta \ell_2 = 0$

تصحيح موضوع الامتحان الوطني الموحد للبكالوريا 2008 - الدورة الاستدراكية

أستاذ المادة : مصطفى قشيش المؤسسة : ثانوية بلال بن رباح التأهيلية - تمارة

وبالتالي: $\Delta l_1 = \Delta l_2 = \Delta l_0$

2- التحقق من المعادلة التفاضلية:

- المجموعة المدروسة: {المقصورة - (C₁)}

- جرد القوى المطبقة على المجموعة:

* وزن المجموعة: \vec{P} * تأثير السطح الأفقي: \vec{R} * تأثير النابض (R₁): \vec{T} * تأثير النابض (R₂): \vec{T}'

- نطبق القانون الثاني لنيوتن (الشكل-ج)، فنكتب:

$$\vec{P} + \vec{R} + \vec{T} + \vec{T}' = (m + M_1) \cdot \vec{a}$$

- الإسقاط على المحور الأفقي Ox:

$$0 + 0 + T - T' = (m + M_1) \cdot a$$

$$k \cdot [\underbrace{\ell_0 + \Delta \ell_0 - x - (\ell_0 + \Delta \ell_0)}_T] - k \cdot [\underbrace{\ell_0 + \Delta \ell_0 + x - (\ell_0 + \Delta \ell_0)}_{T'}] = (m + M_1) \cdot \frac{d^2 x}{dt^2} \quad \text{أي:}$$

$$\frac{d^2 x}{dt^2} + \frac{2k}{m + M_1} \cdot x = 0 \quad (*) \quad \text{أو:} \quad -2k \cdot x = (m + M_1) \cdot \frac{d^2 x}{dt^2}$$

1.3- تحديد الطور φ انطلاقا من المبيان:

$$\text{لدينا:} \quad x(t) = x_m \cos\left(\frac{2\pi}{T_0} t + \varphi\right) \quad \text{و} \quad \frac{dx}{dt} = -\frac{2\pi}{T_0} x_m \sin\left(\frac{2\pi}{T_0} t + \varphi\right)$$

- نلاحظ من المنحنى أن عند اللحظة $t_0 = 0$ فإن $x(0) = x_0 = 0$ ، ومنه: $\varphi = \pm \frac{\pi}{2} \Leftrightarrow \cos(\varphi) = 0$ - نلاحظ من المنحنى أن عند اللحظة $t_0 = 0$ فإن $\left(\frac{dx}{dt}\right)_{t_0=0} < 0$ ، أي: $-\frac{2\pi}{T_0} x_m \sin(\varphi) < 0$ وعلما أن $x_m > 0$ و $T_0 > 0$ فإن: $\sin(\varphi) > 0$ ، وبالتالي فالحل المناسب هو: $\varphi = +\frac{\pi}{2} \text{ rad}$ 2.3- إيجاد تعبير الدور الخاص T_0 :- حل هذه المعادلة هو: $x = x_m \cos\left(\frac{2\pi}{T_0} t + \varphi\right)$ ، و المشتقة الأولى هي: $\frac{dx}{dt} = -\frac{2\pi}{T_0} x_m \sin\left(\frac{2\pi}{T_0} t + \varphi\right)$

$$\frac{d^2 x}{dt^2} = -\left(\frac{2\pi}{T_0}\right)^2 x \quad \text{و تكافؤ الكتابة:} \quad \frac{d^2 x}{dt^2} = -\underbrace{\left(\frac{2\pi}{T_0}\right)^2 x_m \cos\left(\frac{2\pi}{T_0} t + \varphi\right)}_{=x(t)}$$

$$\text{فنحصل على المعادلة التالية:} \quad \frac{d^2 x}{dt^2} + \left(\frac{2\pi}{T_0}\right)^2 x = 0 \quad (*')$$

$$\text{وبمطابقة المعادلتين (*) و (*)' نستنتج العلاقة:} \quad \left(\frac{2\pi}{T_0}\right)^2 = \frac{2k}{m + M} \quad \text{، ومنه:} \quad T_0 = 2\pi \sqrt{\frac{m + M}{2k}}$$

تصحيح موضوع الامتحان الوطني الموحد للبكالوريا 2008 - الدورة الاستدراكية

أستاذ المادة : مصطفى قشيش المؤسسة : ثانوية بلال بن رباح التأهيلية - تمارة

3.3- حساب قيمة k باستغلال مبيان الشكل-2:-- لدينا من المبيان: $T_0 = 1s$ - من العلاقة السابقة للدور الخاص، نجد: $T_0^2 = 4.\pi^2 \cdot \frac{m+M}{2.k}$ ، ومنه: $k = 2.\pi^2 \cdot \frac{m+M}{T_0^2}$

$$k = 2 \times 10 \times \frac{0,2 + 0,1}{1^2} = 6 N.m^{-1} \quad \text{- ت.ع:}$$

4.3- نستنتج من التجربة أن الدور الخاص للمتذبذب لا يتعلق بمكان إجراء هذه التجربة، إنما يتعلق بكتلة المتذبذب وبصلابة النابض.

5.3- استنتاج قيمة الكتلة M_2 :يكتب تعبير الدور الخاص للمتذبذب الجديد: $T_0 = 2.\pi \sqrt{\frac{m+M_2}{2.k}}$ ، أي: $T_0^2 = 2.\pi^2 \cdot \frac{m+M_2}{k}$

$$M_2 = \frac{k.T_0^2}{2.\pi^2} - m \quad \text{ومنه:}$$

$$M_2 = \frac{6 \times 1,5^2}{2 \times 10} - 0,2 = 0,475 \text{ kg} \quad \text{- ت.ع:}$$