

الموضوع

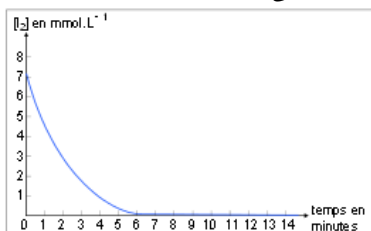
التقريب

تمرين 1:

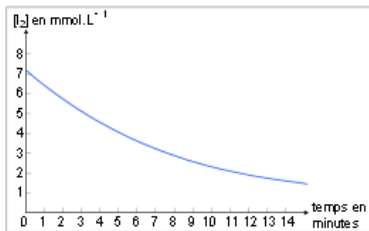
يتفاعل ثنائي اليود I_2 مع الغليكويز $C_6H_{12}O_6$ وفق تفاعل بطيء يمكن تتبع تطور تركيز ثنائي اليود خلاله.

المزدوجتان المتفاعلتان : I_2 / I^- و $C_6H_{12}O_7 / C_6H_{12}O_6$

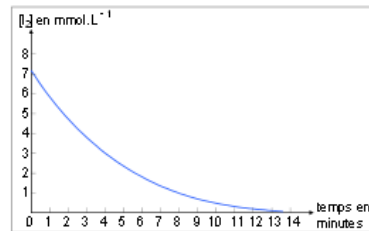
- 1- اعط معادلة التفاعل الحاصل.
- 2- ما هي الطريقة الممكن اعتمادها لتتبع تطور تركيز ثنائي اليود.
- 3- كيف يتطور تركيز ثنائي اليود مع الزمن خلال التفاعل.
- 4- ننجز نفس التفاعل تحت درجات حرارة مختلفة : $5^\circ C$ ، $25^\circ C$ و $70^\circ C$. اقرن كل منحنى بدرجة الحرارة الموافقة له.



المنحنى 3



المنحنى 2



المنحنى 1

تمرين 2:

يتفاعل ثنائي الكلور Cl_2 مع التوليين وفق تفاعل بطيء معادلته : $Cl_2 + C_7H_8 \rightarrow C_7H_7Cl + HCl$

- 1- اعط الجدول الوصفي للتفاعل.
- 2- عبر عن تقدم التفاعل x بدلالة $[Cl_2]_t$ ، $n_0(Cl_2)$ و V : حجم الخليط التفاعلي.
- 3- عبر عن السرعة الحجمية للتفاعل بدلالة $[Cl_2]_t$.
- 4- كيف تتطور السرعة الحجمية للتفاعل بدلالة الزمن.
- 5- عبر عن $[Cl_2]_{1/2}$ تركيز ثنائي الكلور عند زمن نصف التفاعل بدلالة $n_0(Cl_2)$ و V . علما أن المتفاعل المحد هو ثنائي الكلور.

تمرين 3:

تنتشر موجات طول حبل مرتبط بهزاز تردده f . حيث تنطلق الموجات من المنبع S عند $t = 0$ لتصل نقطة M من وسط الإنتشار عند اللحظة $t_M = 0,03 s$ ، حيث أن $SM = 90 cm$.



نعطي شكل الحبل عند اللحظة t_M :

- 1- أحسب سرعة انتشار الموجة.
- 2- قارن حركة S و M معلا جوابك.
- 3- استنتج قيمة λ طول الموجة.
- 4- استنتج تردد المنبع f .
- 5- مثل بدون اعتبار سلم مظهر الحبل عند اللحظة $t' = 0,045 s$ مبينا موضع النقطة M .
- 6- قارن حركة مقدمة الموجة و النقطة M معلا جوابك.

تمرين 4:

نعرض حزمة ضوئية لضوء أحادي اللون طول موجته في الفراغ و الهواء $\lambda = 675 nm$ لحاجز به شق عرضه a ، فنحصل على شكل الحيود على شاشة تبعد بمسافة $D = 2 m$ عن موضع الشق، حيث أن عرض البقعة المركزية هو $L = 2,7 cm$.

- 1- مثل تبيانة التركيب التجريبي مبينا L ، D و الفرق الزاوي θ .
- 2- عبر عن الفرق الزاوي بدلالة L و D و ذلك باعتبار قيم θ صغيرة.
- 3- أحسب قيمة عرض الشق a .
- 4- في تجربة ثانية نرسل نفس الحزمة الضوئية عموديا على الوجه الأول لموشور زاويته $A = 30^\circ$ فتنتبثق من الوجه الثاني للموشور بزواوية انبثاق i' .
- 1-4- ما خاصية الموجات الضوئية التي تبقى ثابتة عند الانتقال من وسط إلى آخر.
- 2-4- أحسب طول موجة الشعاع λ' داخل زجاج الموشور علما أن معامل الإنكسار بالنسبة للشعاع هو $n = 1,334$.
- 3-4- مثل مسار الحزمة الضوئية.
- 4-4- أحسب قيمة r' زاوية ورود الحزمة الضوئية على الوجه الثاني للموشور.
- 5-4- أحسب قيمة i' زاوية انبثاق الحزمة الضوئية من الموشور.

2SVT

تمرين:1 (الموجات الميكانيكية)

(1) + التعريف: انظر الدرس. $T = \frac{1}{N}$ ت.ع: $T = 40 \text{ ms}$

(2) طول الموجة: $\lambda = 2 * 8 \text{ cm} = 16 \cdot 10^{-2} \text{ m}$

(3) سرعة الموجة: $V = \frac{\lambda}{T}$ ت.ع: $V = 4 \text{ ms}^{-1}$

(4) المسافة المقطوعة من طرف الموجة: $t = \frac{3}{2} \cdot T = T + \frac{1}{2} \cdot T$

$d = V \cdot t = \frac{3}{2} \cdot \lambda = \lambda + \frac{1}{2} \cdot \lambda$

(5) $\frac{OM}{\lambda} = 4,5$ منه: $OM = 4 \cdot \lambda + \frac{1}{2} \cdot \lambda$: O و M تهتزان على تعاكس في

الطور.

(6) القيمة القصوية لتردد الوماض: $N_s = N = 25 \text{ Hz}$

تمرين:2 (الموجات الضوئية)

I. (1) + بقع مضيئة تتخللها بقع مظلمة تبعد بنفس المسافة و البقعة المركزية مضيئة.

+ يبرز الطبيعة الموجية للضوء وجود البقع المظلمة عوض أضواء مستمرة.

(2) لدينا العلاقة: $\theta = \frac{\lambda}{a}$ ت.ع: $\theta = 7,5 \cdot 10^{-2} \text{ rad}$

(3) لدينا العلاقة: $\tan(\theta) \approx \theta = \frac{d}{2 \cdot D}$ و منه: $d = 2 \cdot \theta \cdot D$ ت.ع: $d = 15 \text{ cm}$

II. (1) الظاهرة المحدثة: انكسار شعاع ضوئي.

(2) $\sin(i) = n \cdot \sin(r)$ و $n \cdot \sin(r') = \sin(i')$ و $A = r + r'$ و $D = A - (i + i')$

ت.ع: $i' = 67,78^\circ$ و $i' = D_R + A - i$

كيمياء (الحركية الكيميائية)

(1) كميات المادة بالوحدة: mmol

Mg	2. H ₃ O ⁺	Mg ²⁺	H ₂	2. H ₂ O	معادلة التفاعل
0.82	25	0	0	بوفرة	البدئية
0.82 - x	25 - 2x	x	x	بوفرة	t
0	23.4	0.82	0.82	بوفرة	النهائية

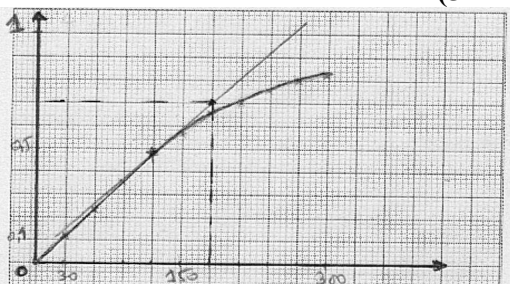
(2) المتفاعل المحد: Mg ، التقدم الأقصى: x_{max} = 0.82 mmol

(3) لدينا العلاقة: $x = \frac{\Delta P}{\Delta P_{\text{max}}} \cdot x_{\text{max}}$

(4)

120	90	60	30	0	t (s)
0,48	0,36	0,24	0,12	0	x(mmol)

300	270	240	210	180	150
0,82	0,80	0,76	0,70	0,68	0,56



(5)

سلم
التنقيط

0.5 + 0.5

1

0.75 + 0.25

1.5

1.5

1

0.5

0.5

0.5 + 0.5

1

0.5 + 1

1 + 0.5

1

0.5 + 0.5

1

1

1.5

$$v_{120} = 7,33 \cdot 10^{-5} \text{ mol.L}^{-1} \cdot \text{s}^{-1} \quad \text{ت.ع:} \quad v = \frac{1}{V} \cdot \frac{x_2 - x_1}{t_2 - t_1} \quad (6)$$

1 + 0.5

إنجاز الأستاذ: محمد المرابي ثانوية الحسن الثاني بأولاد تايمة.